



التاريخ والجغرافيا - الثانية باك آداب وعلوم إنسانية

درس الجغرافيا 6-2

كوريا الجنوبية (نموذج لبلد حديث النمو الاقتصادي)

الأستاذ: حسن شداي

الفهرس

I- أهداف التعلم

II- تقديم

III- أهمية الإنتاج الصناعي بكوريا الجنوبية

3-1/ أهمية الطاقة في الاقتصاد الكوري الجنوبي

3-2/ مكانة القطاع الصناعي ضمن الأنشطة الاقتصادية بكوريا الجنوبية

IV- مظاهر القوة التجارية في كوريا الجنوبية

4-1/ خصائص المبادلات التجارية لكوريا الجنوبية

4-2/ تطور الاستثمارات الخارجية المباشرة بكوريا الجنوبية

V- العوامل المفسرة لنجاح التنمية الاقتصادية في كوريا الجنوبية

5-1/ دور المقومات البشرية في التنمية الاقتصادية بكوريا الجنوبية

5-2/ دور العوامل السياسية والتنظيمية في النهضة بالاقتصاد الكوري الجنوبي

VI- بعض المشاكل والتحديات التي تواجه كوريا الجنوبية

6-1/ المشاكل الاجتماعية والاقتصادية

6-2/ المشاكل والتحديات البيئية

VII- مصطلحات ومفاهيم

IX- تقويم التعلّمات

I- أهداف التعلم

1. أتعرف نموذج التنمية الاقتصادية في كوريا الجنوبية من خلال مظاهر هذه التنمية والعوامل المفسرة لها والتحديات والمشاكل التي تواجهها.
2. أدرك أهمية التجارب التنموية المختلفة.

II- تقديم

إذا كانت كوريا الجنوبية قبل النصف الثاني من القرن العشرين تصنف ضمن البلدان الفقيرة على الصعيد العالمي، فإنها أصبحت اليوم تحتل المرتبة 11 عالميا في تصنيف القوى الاقتصادية على الصعيد العالمي، وأصبحت تشكل بذلك نمودجا وتجربة حديثة للبدان الحديثة النمو على المستوى الإقتصادي.

- ماهي مظاهر النمو الإقتصادي لكوريا الجنوبية؟
- ماهي العوامل المفسرة لهذا النمو؟
- وماهي أهم المشاكل والتحديات التي تواجه الإقتصاد الكوري الجنوبي؟



III- أهمية الإنتاج الصناعي بكوريا الجنوبية

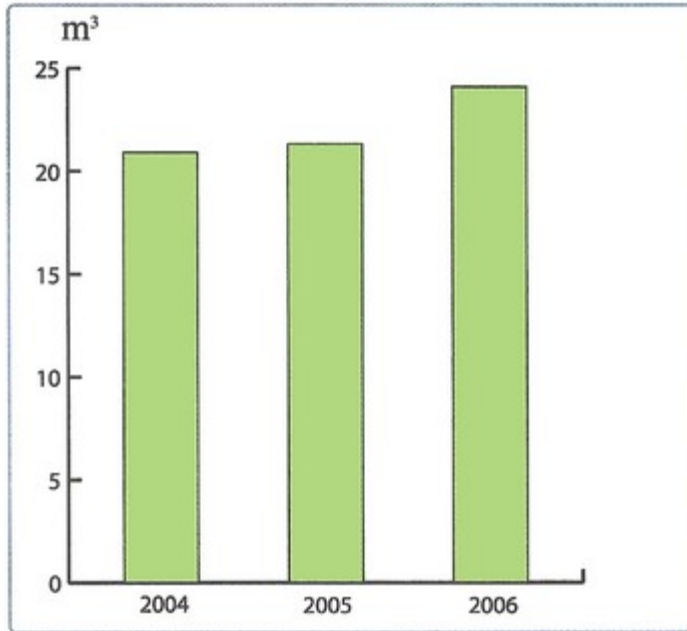
3-1/ أهمية الطاقة في الإقتصاد الكوري الجنوبي

الأنشطة

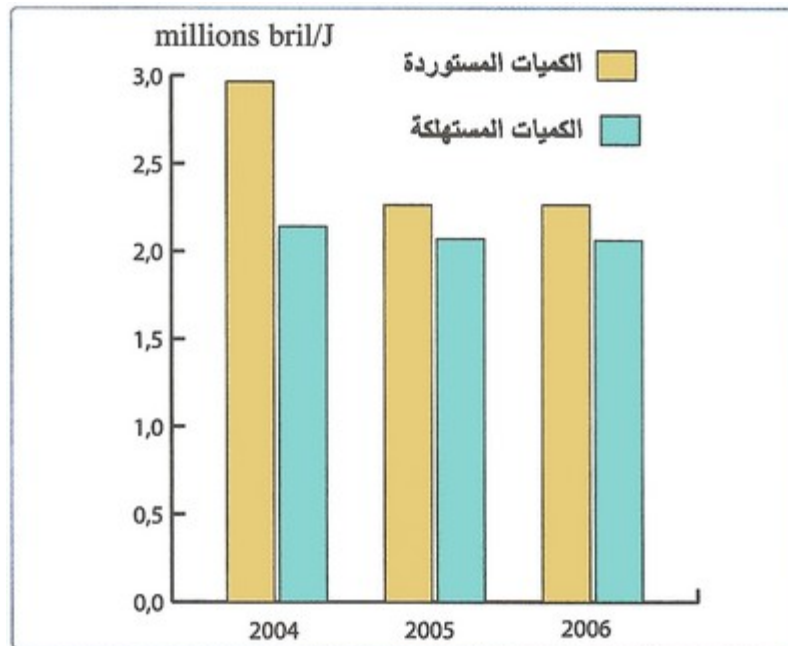
الوثيقة 1 : الحصيلة الطاقية لكوريا الجنوبية ومثيلتها بالمغرب سنة 2005

المغرب	كوريا الجنوبية	
0,630 millions de tep	45,270 millions de tep	الإنتاج الإجمالي للطاقة
11,900 millions de tep	211,740 millions de tep	الاستهلاك الإجمالي للطاقة
0,380 tep	4,570 tep	الاستهلاك الفردي للطاقة
21,130 milliards kwh	391,660 milliards de kwh	إنتاج الكهرباء
6,77%	1,33%	الكهرومائية منها
	37,48%	النووية منها
584 kwh	7 435 kwh	الاستهلاك الفردي للكهرباء

الوثيقة 2 : تطور استهلاك الغاز الطبيعي بكوريا الجنوبية بمليار متر مكعب



الوثيقة 3 : تطور استيراد واستهلاك البترول بكوريا الجنوبية بمليون برميل يوميا



1. أقرن بين قيم إنتاج الطاقة في كل من كوريا الجنوبية والمغرب.
2. أقرن بين قيم استهلاك الطاقة في البلدين.
3. أستخلص أهمية استهلاك الطاقة بكوريا الجنوبية، وعلاقة ذلك بالنمو الاقتصادي.
4. أصف تطور كميات الغاز الطبيعي والبترول المستهلكة بكوريا الجنوبية في الفترة التي يحددها المبيان.
5. أقرن بين الكميات المستوردة والكميات المستهلكة من البترول والغاز الطبيعي وأبين النتائج المستخلصة.
6. أستخلص أهمية الاقتصاد الكوري الجنوبي من خلال حاجياته إلى الطاقة.

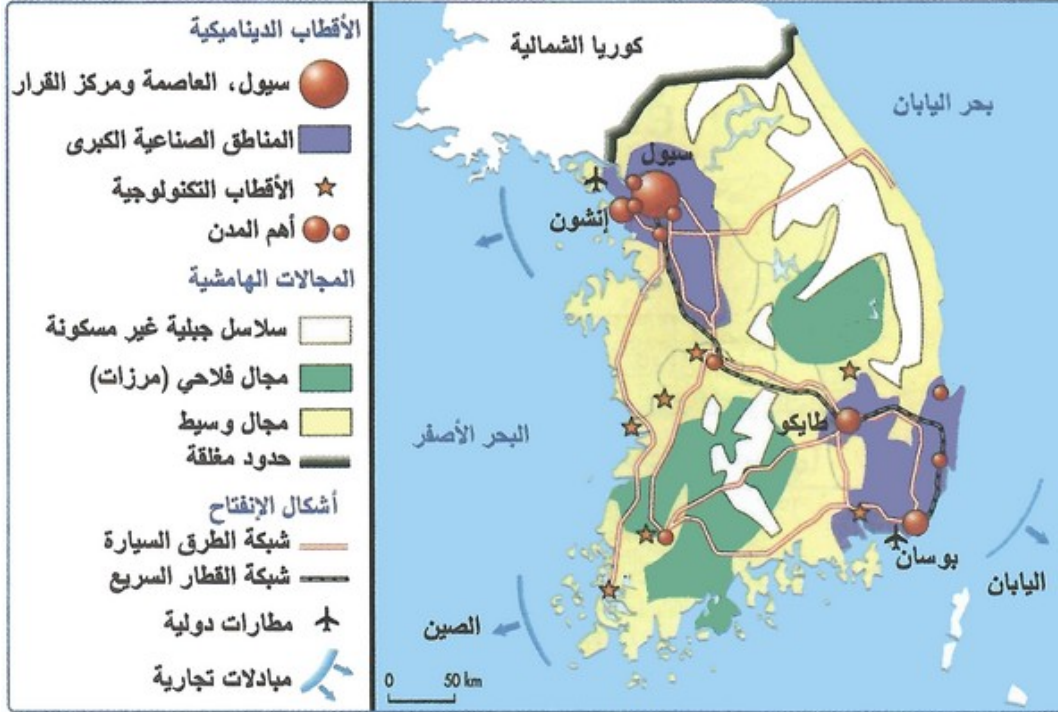
ملخص الدرس

يرتفع إنتاج كوريا الجنوبية من الطاقة خاصة الطاقة الكهربائية بمختلف أنواعها الكهربائية والنووية...، والملاحظ هو أن استهلاك كوريا الجنوبية من الطاقة عرف ارتفاعا ملحوظا في السنين الأخيرة، حيث أصبحت تعتمد على الغاز الطبيعي أكثر من اعتمادها على البترول وهذا ما يفسر تراجع وارداتها من البترول في السنين الأخيرة. إن ارتفاع استهلاك الطاقة بكوريا الجنوبية يشير إلى أن النمو الإقتصادي لهذا البلد يعرف ارتفاعا مهما.

2-3/ مكانة القطاع الصناعي ضمن الأنشطة الاقتصادية بكوريا الجنوبية

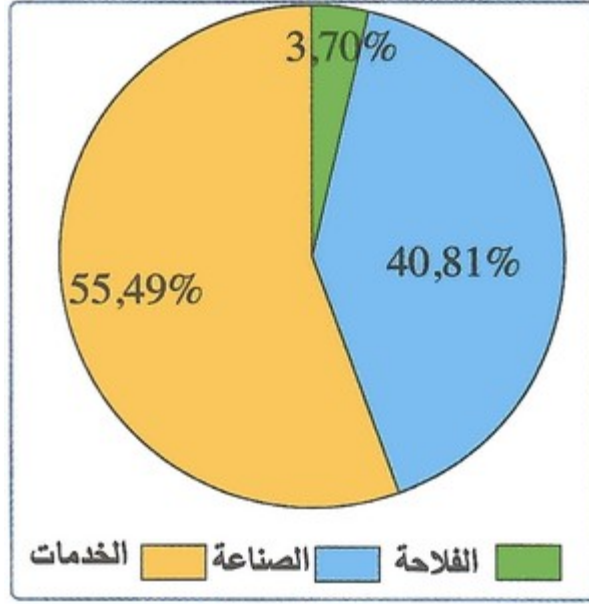
الأنشطة

الوثيقة 1 : تنظيم المجال في كوريا الجنوبية



1. أستخرج أقطاب الديناميكية الاقتصادية وأهم المناطق الصناعية بكوريا الجنوبية.
2. أصف المجالات الهامشية، وأستعرض أشكال الإنفتاح الواردة بالخريطة.

الوثيقة 2 : نسبة مساهمة القطاعات الاقتصادية في الناتج الداخلي الخام



1. أصف توزيع نسبة مساهمة القطاعات الاقتصادية في الناتج الداخلي الخام بكوريا الجنوبية.
2. أستخلص أهمية نسبة مساهمة القطاع الصناعي في الاقتصاد الكوري الجنوبي.

الوثيقة 3 : الشركات الكورية العملاقة

" يتميز الاقتصاد الكوري الجنوبي، الذي يحتل المرتبة الحادية عشر عالمياً، بالتأثير القوي الذي تمارسه عليه التكتلات المالية الكبرى "Chaebols" والتي تسيطر على صناعات عملاقة لها وزن كبير على النشاط الاقتصادي الوطني. فمجموعة "Samsung" تشغل حوالي 130 000 عامل، وتحتكر لوحدها 1/5 صادرات البلاد. تليها مجموعة Hyundai-Kia التي تنتج 3/4 السيارات المتحركة في كوريا الجنوبية. " Atlaséco 2007.

1. أتعرف على أهم الشركات الصناعية في كوريا الجنوبية، وأبين درجة أهميتها.
2. أفسر، اعتماداً على معجم المفاهيم والمصطلحات، شيبول (Chaebol).

ملخص الدرس

يمكن التمييز في تنظيم المجال الكوري الجنوبي بين :

- الأقطاب الدينامية: تتركز أهمها بالشمال الغربي (سيول) ثم بالجنوب الشرقي، حيث تتركز بهذه المناطق أهم المدن و المناطق الصناعية الكبرى.
- الأقطاب التكنولوجية: تنتشر بالنصف الجنوبي لكوريا الجنوبية خاصة بالجهة الغربية.
- المجالات الهامشية: ويمكننا التمييز فيها بين المجالات الفلاحية التي هي عبارة عن مرزات بالنصف الجنوبي للبلاد، ثم المجال الشمالي الشرقي حيث تنتشر سلاسل جبلية تفسر عزلة المنطقة وخلوها من السكان.

تتوفر كوريا الجنوبية على شبكة مهمة من المواصلات (طرق سيارة، شبكات القطار السريع، مطارات...)، أما امتداد مجالها الساحلي فيؤهلها لتكون منفتحة على باقي القوى الإقتصادية الأخرى (اليابان، الصين).
تتمتع أهمية القطاع الصناعي الكوري الجنوبي في ارتفاع مساهمته في الإنتاج الداخلي الخام بنسبة %40.81، الخدمات %55.49 والفلاحة %3.7.

تتوفر كوريا الجنوبية على شركات عملاقة (سامسونغ، هيانداي، كيا) إذ تتكفل هذه الشركات على المستوى المالي مشكلة ما يسمى بـ "شيبول".

يمكن تفسير قوة الصناعة بكوريا الجنوبية بعدة عوامل:

- عوامل تاريخية : استفادتها من مرحلة الإستعمار الياباني والأمريكي، استفادتها من الإستثمارات والمساعدات المقدمة إليها في إطار مشروع مارشال).
- عوامل بشرية : توفرها على يد عاملة مؤهلة. هذا بالإضافة إلى دور الدولة عن طريق سن مجموعة من المخططات، ودور المقاولات حيث أن الإقتصاد الكوري يتركز في يد مجموعة من المقاولات التي تحتكر عدة أنشطة.

IV- مظاهر القوة التجارية في كوريا الجنوبية

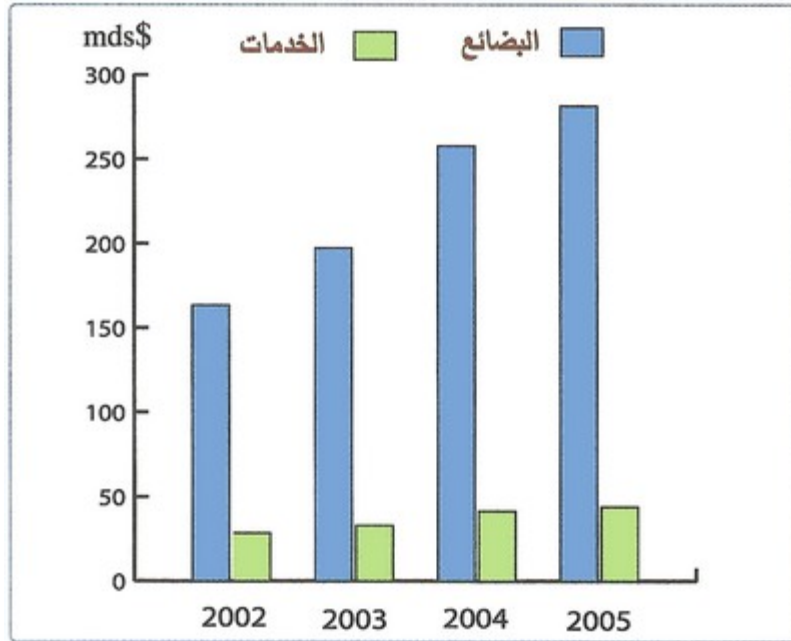
1-4 / خصائص المبادلات التجارية لكوريا الجنوبية

الأنشطة

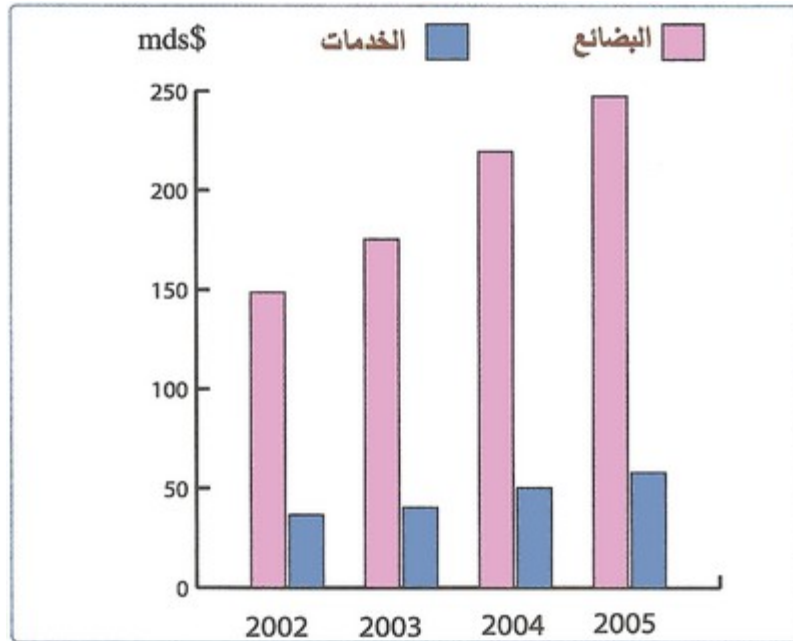
الوثيقة 1 : أهم الصادرات والواردات الكورية الجنوبية

الواردات	الصادرات
المواد الطاقية	التجهيزات الكهربائية
المواد الكيماوية	التجهيزات الميكانيكية
المواد الفلاحية	السيارات ولوازمها
المعادن	الملاحة البحرية والنهرية
الآلات والأجهزة	الخدمات

الوثيقة 2 : تطور قيمة صادرات كوريا الجنوبية ض البضائع والخدمات

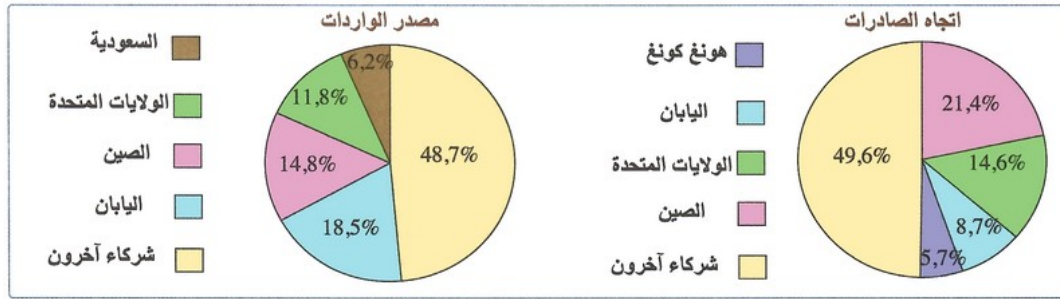


الوثيقة 3 : تطور قيمة واردات كوريا الجنوبية ض البضائع والخدمات

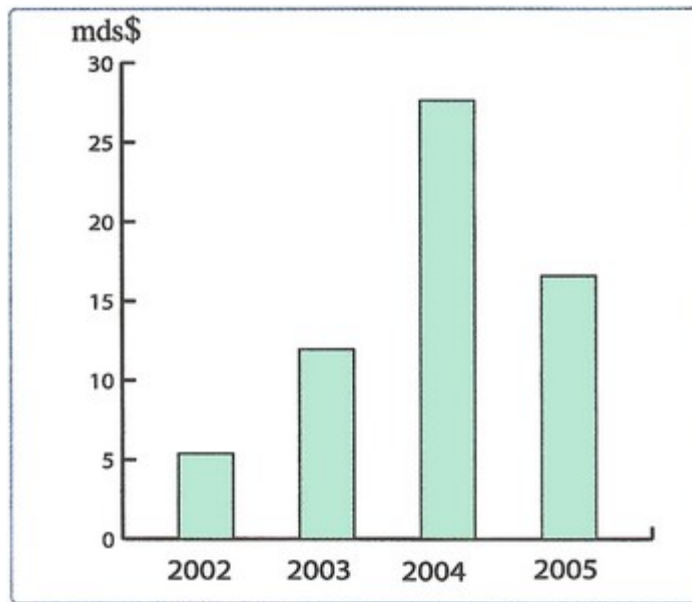


1. أقرن بين طبيعة الصادرات والواردات في كوريا الجنوبية.
2. أصف تطور قيمة صادرات كوريا الجنوبية من البضائع والخدمات خلال الفترة المحددة في المبيانين.
3. أصف تطور قيمة واردات كوريا الجنوبية من البضائع والخدمات خلال الفترة المحددة في المبيانين.
4. أقرن بين قيم الصادرات والواردات الكورية الجنوبية خلال الفترة المحددة.

الوثيقة 4 : أهم الشركاء التجاريين لكوريا الجنوبية سنة 2005



الوثيقة 5 : تطور قيم ميزان الأداءات في كوريا الجنوبية



1. أستخلص أهم الشركاء التجاريين لكوريا الجنوبية.
2. أتبين أهمية الاقتصاد الكوري الجنوبي من خلال قيمة شركائها التجاريين.
3. أصف تطور قيم ميزان الأداءات، وأفسر النتائج الإيجابية التي تعبر عنها هذه القيم.

ملخص الدرس

تتكون البنية التجارية الخارجية لكوريا الجنوبية على مستوى الواردات من المواد الطاقية والمعدنية والمواد الفلاحية والآلات وأدوات التجهيز، أما أغلب الصادرات فتتكون من التجهيزات الكهربائية والميكانيكية (السيارات ولوازمها) ثم منتجات الملاحة البحرية والنهرية والخدمات.

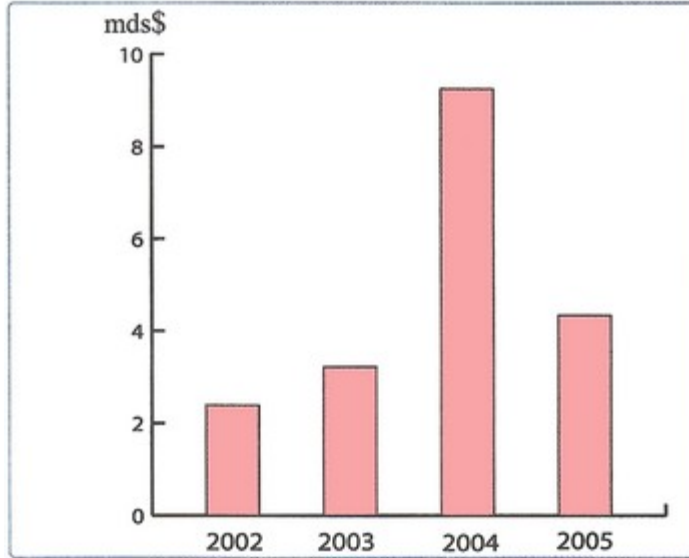
من أهم مظاهر قوة التجارة الكورية الجنوبية: ارتفاع قيمة صادراتها وهو ما يجعلها تحقق فائضا في ميزانها التجاري.

تعتبر كل من الصين واليابان والولايات المتحدة الأمريكية أهم الشركاء التجاريين لكوريا الجنوبية، بالإضافة إلى شركاء آخرين.

2-4/ تطور الاستثمارات الخارجية المباشرة بكوريا الجنوبية

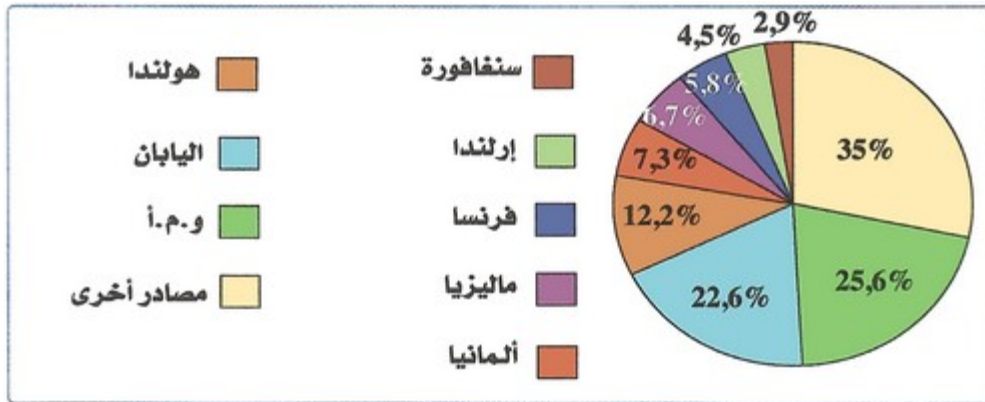
الأنشطة

الوثيقة 1 : تطور الاستثمارات الخارجية المباشرة بكوريا الجنوبية



1. أصف تطور الاستثمارات الخارجية المباشرة بكوريا الجنوبية ما بين 2002 و 2005.
2. أفسر أسباب تدفق الاستثمارات الخارجية على كوريا الجنوبية.
3. أبين أثر هذه الاستثمارات على الاقتصاد الكوري الجنوبي.

الوثيقة 2 : مصدر أهم الاستثمارات الخارجية المباشرة بكوريا الجنوبية



1. أستخرج أهم مصادر الاستثمار الخارجي المباشر بكوريا الجنوبية.
2. أصف هذه المصادر إلى مجموعات.

الوثيقة 3 : الاستثمار بكوريا الجنوبية

" لقد تمت إزالة كل الحواجز المؤسسية في وجه الاستثمارات الأجنبية خلال سنوات 1990، إذ كثفت كوريا، آنذاك، جهودها للاندماج في العولمة. ومنذ 1993، عندما أعلنت حكومة كوريا الجنوبية أن العولمة خيار وطني، بدأت القيود التي كانت تلجم المبادلات والاستثمار تختفي تدريجياً. ومنذ 1999 انتقلت سلطة القرار من وزارة المالية والاقتصاد إلى وزارة التجارة والصناعة والطاقة الأكثر ليبرالية."

www.stragegis.ic.gc.ca

1. أستخلص دور العولمة في تشجيع المبادلات والاستثمار بكوريا الجنوبية.
2. أبين الإجراءات التي اتخذتها الحكومة الكورية الجنوبية من أجل إزالة القيود عن المبادلات والاستثمار.
3. أبين، انطلاقاً من تعلماتي السابقة، نتائج هذه الإجراءات على المبادلات والاستثمار.

ملخص الدرس

عرفت الإستثمارات الخارجية المباشرة بكوريا الجنوبية ارتفاعا كبيرا ما بين 2002 و2005 حيث انتقلت من 205 إلى 4.5 مليار دولار أمريكي. مما انعكس بشكل إيجابي على الإقتصاد الكوري الجنوبي. تعتبر الولايات المتحدة الأمريكية واليابان وألمانيا من أهم الدول المستثمرة بكوريا الجنوبية إضافة إلى سنغفورة وماليزيا.

يمكن تفسير تدفق الإستثمارات على كوريا الجنوبية بالجهود التي قامت بها الدولة المتمثلة في إزالة الحواجز الجمركية منذ 1990، حيث اعتبرت الحكومة الكورية الجنوبية العولمة خيارها الوطني منذ 1993، وقد تحولت بذلك سلطة القرار من وزارة المالية إلى وزارة التجارة والصناعة والطاقة منذ 1999.

V- العوامل المفسرة لنجاح التنمية الاقتصادية في كوريا الجنوبية

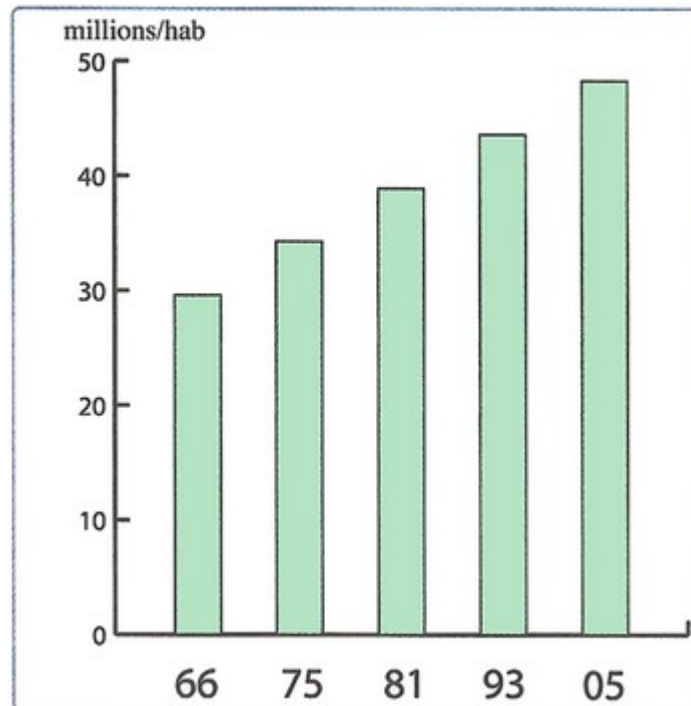
1-5/ دور المقومات البشرية في التنمية الاقتصادية بكوريا الجنوبية

الأنشطة

الوثيقة 1 : معطيات إحصائية

المساحة	عدد السكان	الكثافة السكانية	نسبة تزايد السكان سنويا	مؤشر الخصوبة (طفل لكل امرأة)	أمد الحياة عند الولادة	نسبة الساكنة الحضرية
99 260 km ²	48,8 millions hab	487hab/ km ²	0,4%	1,16	77ans	80%

الوثيقة 2 : تطور عدد السكان بكوريا الجنوبية



1. أستخلص أهم الملاحظات من المعطيات الديمغرافية الواردة في الوثيقتين.
2. أصنف الساكنة الكورية الجنوبية انطلاقا من هذه الملاحظات.

الوثيقة 3 : المنظومة التربوية بكوريا الجنوبية

" ما زال الإرث الكونفوشيوسي جد حاضر في التربية عند سكان كوريا الجنوبية، وبفضل هذه الساكنة النشيطة الجيدة التكوين، عرفت البلاد تنمية سريعة منذ 1950. وعلى العموم، فإن التعليم يلعب دورا أساسيا في هذه البلاد. وهو مجاني وإجباري في المرحلة الابتدائية بالنسبة لجميع الأطفال المتراوح أعمارهم ما بين 6 و11 سنة. وينتظم التعليم الإعدادي والثانوي في ثلاث سنوات لكل منهما. وتلعب المدارس الخاصة دورا هاما خصوصا في التعليم الثانوي. وتوفر البلاد على عدد من الجامعات والمدارس العليا والمعاهد المتخصصة، وتخصص الدولة للتربية أزيد من 4.2 % من الناتج الداخلي الخام .
والوضع الاجتماعي للكوري مرتبط بالشواهد التي يحصل عليها، ويقدم الآباء والأمهات تضحيات كبيرة من أجل استفادة أبنائهم من الامتيازات التي تقدمها المنظومة التربوية في البلاد، مما قلص نسبة الأمية سنة 2005 إلى 2% ."

الوثيقة 4 : صورتان لتلاميذ كوريين



1. أحدد الفكرة الرئيسية للنص.
2. أعرف، اعتمادا على معجم المفاهيم والمصطلحات، كونفوشيوس.
3. أستخلص أهمية التربية بكوريا الجنوبية؛ وأستدل بالعناصر الواردة في النص على ذلك
4. أرصد ظاهرة الانضباط بين التلاميذ من خلال الصورتين.

ملخص الدرس

عرفت ساكنة كوريا الجنوبية ارتفاعا كبيرا في السنين الأخيرة، إذ انتقلت من 30 مليون نسمة سنة 1966 إلى 48.8 مليون نسمة سنة 2000 موزعة على مجال جغرافي يقدر ب 99260 كلم مربع، بكثافة سكانية تصل إلى 487 نسمة في الكلم المربع وبأمد حياة مرتفع يقارب 77 سنة، ونسبة تمدين تفوق 80%.
وقد لعب اهتمام الدولة بالتعليم (مجانية التعليم)، وارتفاع الإعتمادات المخصصة للتربية، التي تشكل أزيد من 4.2% من الناتج الداخلي الخام، وكذا توفرها على عدة جامعات ومعاهد ومراكز للبحث التي تلعب دورا كبيرا في الرقي بالبلاد، حيث أن الأمية لا تتجاوز 2%، هذا وقد كان لارتباط كوريا الجنوبية بالثقافة و الإرث الكونفوشيوسي دور مهم في النهوض بالتعليم وترسيخ مبادئه.

5-2/ دور العوامل السياسية والتنظيمية في النهضة بالاقتصاد الكوري الجنوبي

الأنشطة

الوثيقة 1 : النظام السياسي بكوريا الجنوبية

" كوريا الجنوبية جمهورية برلمانية، السلطة التنفيذية فيها بيد رئيس الجمهورية المنتخب في اقتراع عام مباشر لمدة خمس سنوات غير قابلة للتجديد، يعتبر قائدا للقوات المسلحة، ويعين ويعفي الوزير الأول وأعضاء الحكومة. لكن سلطاته محدودة بدستور 1987، إذ لا يمكنه حل المجلس التشريعي، كما لا يمكنه تعليق الحقوق الأساسية. السلطة التشريعية يباشرها البرلمان ذو الغرفة الوحيدة، ويتم انتخاب أعضائه (299) عن طريق الاقتراع العام المباشر لمدة أربع سنوات. ينص الدستور الكوري الجنوبي على مبدأ فصل السلط. ويعتبر الجهاز القضائي مستقلا عن السلطة التنفيذية."

www.fr.encarta.msn.com

1. أستخلص السلطات المخولة بالدستور لرئيس الجمهورية، وللبرلمان.
2. أفسر أهمية استقلال القضاء عن السلطة التنفيذية المخصوص عليها في الدستور الكوري الجنوبي.
3. أبين دور النظام السياسي الديمقراطي في التنمية الاقتصادية لكوريا الجنوبية.

الوثيقة 2 : مراحل التنمية الاقتصادية بكوريا الجنوبية

مرحلة الاستعاضة عن الواردات	1953 - 1961
مرحلة تقوية الصادرات	1962 - 1973
مرحلة بناء الصناعات الثقيلة	1973 - 1980

1. أستخلص من الجدول أهم مراحل التنمية الاقتصادية.

الوثيقة 3 : نموذج التنمية الكوري الجنوبي

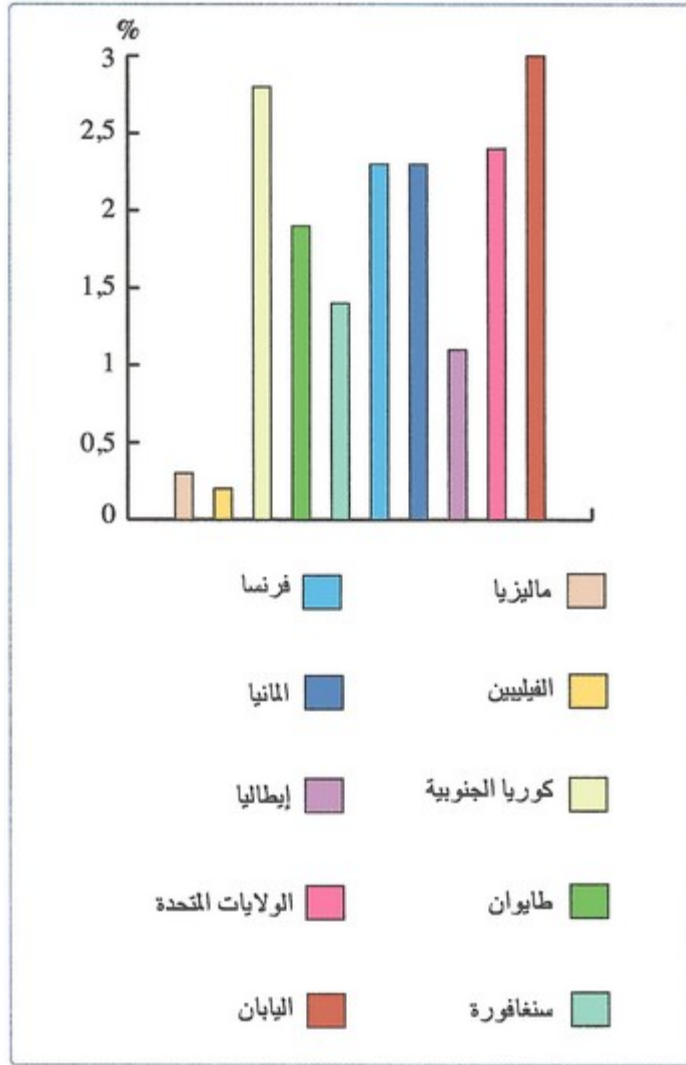
" يتخذ النموذج الكوري الجنوبي كقاعدة له العلاقات الوثيقة بين الحكومة وأوساط رجال الأعمال. ويتم في إطار ذلك تدبير سياسة القروض الموجهة، والتضييق على الواردات، وتمويل بعض الصناعات، ومدّها بالأطر واليد العاملة الجيدة التكوين. كما تشجع الحكومة استيراد المواد الأولية والتكنولوجيا على حساب المواد الاستهلاكية، وتشجع الادخار والاستثمار على حساب الاستهلاك. وقد ساهم تطبيع العلاقات مع اليابان في تطوير الاقتصاد الكوري الجنوبي، إضافة إلى المساعدات الأمريكية المالية والتكنولوجية الضخمة التي تدفقت على كوريا الجنوبية بسبب التزامها الإيديولوجي المناهض للشيوعية بدون تحفظ."

Laurent Carroué, "Les travailleurs Coréens à l'assaut du dragon"
in "Le monde diplomatique", février 1997.

1. أستخلص من النص الإجراءات المتخذة من طرف الحكومة الكورية الجنوبية من أجل التنمية الاقتصادية.
2. أبرز العوامل الخارجية المساعدة، وأفسر أسباب ذلك.

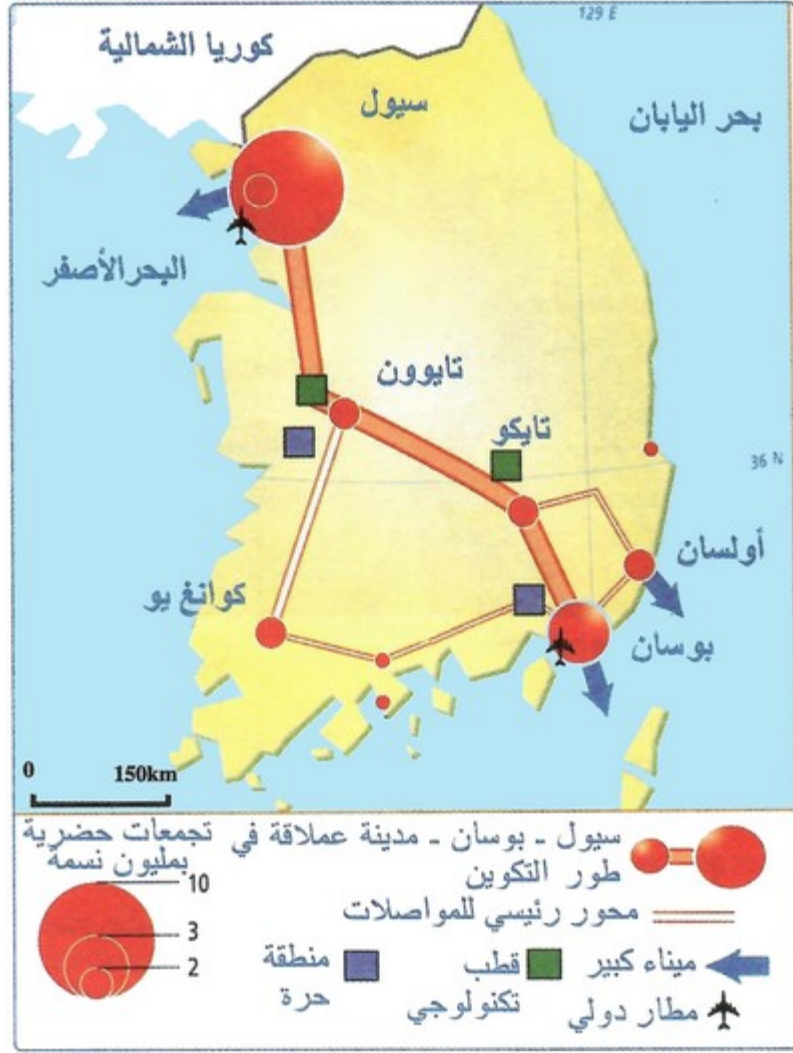
الوثيقة 4 : نسبة الناتج الداخلي الخام المستثمر في مجال البحث العلمي والتنمية في كوريا الجنوبية و بعض

بلدان العالم سنة 1996



1. أستخلص من المبيان مجموعة الدول التي تخصص للبحث العلمي نسبة مهمة من ناتجها الداخلي الخام.
2. أفسر أهمية البحث العلمي في التنمية الاقتصادية.

الوثيقة 5 : خريطة أقطاب التنمية بكوريا الجنوبية



1. أستخلص أهم المدن بكوريا الجنوبية.
2. أستخلص المدينة العملاقة التي توجد في طور التكوين.
3. أستخلص أهم الموانئ والمطارات، والمناطق الحرة، وأقطاب التكنولوجيا.

ملخص الدرس

- طبيعة النظام السياسي الديمقراطي لكوريا الجنوبية والذي يتميز بمحدودية سلطات الرئيس وفصل السلط...
- الإرتباط الوثيق بين الحكومة ورجال الأعمال وتعاونهما من أجل تخفيض الواردات مقابل تشجيع الصادرات عن طريق تمويلها وتوفير اليد العاملة.
- استفادتها من الإستعمار الياباني (1910-1945) والإستعمار الأمريكي (1949-1950) ومن المساعدات المقدمة إليها في إطار مشروع مارشال وغيره، خاصة وأن كوريا الجنوبية تعتبر من الدول المعادية للنظام الشيوعي، لذلك فهي تتلقى الدعم من الدول الرأسمالية خاصة من الولايات المتحدة الأمريكية.
- تتوفر كوريا الجنوبية على عدة تجمعات حضرية ضخمة أهمها سيول بالشمال الغربي و بوسان بالجنوب الشرقي.
- مرت التنمية الإقتصادية لكوريا الجنوبية عبر مجموعة من المراحل:

- مرحلة الإستعاضة عن الواردات (1951-1961)
- مرحلة تقوية الصادرات (1962-1973)

• بناء الصناعة التقليدية (1973-1980)

VI- بعض المشاكل والتحديات التي تواجه كوريا الجنوبية

6-1/ المشاكل الاجتماعية والاقتصادية

الأنشطة

الوثيقة 1 : أزمة اجتماعية غر مسبقة

" تتسبب الإضرابات العمالية في كوريا الجنوبية في خسائر تقدر بمئات ملايين الدولارات، وتُزامن فترة تأقلم صعبة، تطبعها إرادة المسؤولين في تعميق اندماج البلاد في الاقتصاد العالمي. فالسلسل الديمقراطي، الذي انطلق منذ 1987، تمخض عن تزايد حدة مطالب الشغيلة التي ظلت مغمومة لفترة طويلة تحت الأنظمة الديكتاتورية السابقة. ولقد أدت الزيادات في الأجور، والتي تجاوزت 15% سنويا، إلى إضعاف القدرة التنافسية للصناعات التصديرية التي أصبحت كلفتها أكثر من مثيلاتها في طايوان وسنغافورة." Le monde diplomatique 15 Janvier 1997.

1. أستخلص من النص المشاكل التي يطرحها السلسل الديمقراطي في كوريا الجنوبية.
2. أبين عواقب هذه المشاكل على الاقتصاد الكوري الجنوبي.

الوثيقة 2 : هبوط في النشاط الاقتصادي

" يعرف الاقتصاد الكوري الجنوبي بعض الانكماش، ويعتبر إفلاس شركة "دايو"، وكانت تعتبر مفخرة صناعة السيارات في كوريا، في نونبر 2000 خير دليل على هذا الانكماش. وقد أشهرت "دايو" إفلاسها وعلى ذمتها 17 مليار دولار من الديون، بعد اختفاء مؤسسها المتهم بسرقة 80 مليار دولار. وفي خريف 2001 أعلنت شركة "جنرال موتورز" الأمريكية عن شراء 76% من أسهم "دايو"."

1. أستخلص بعض المشاكل التي يعرفها الاقتصاد الكوري الجنوبي.
2. أدرك فداحة الخسارة التي مني بها الاقتصاد الكوري الجنوبي بفقدانه شركة "دايو".

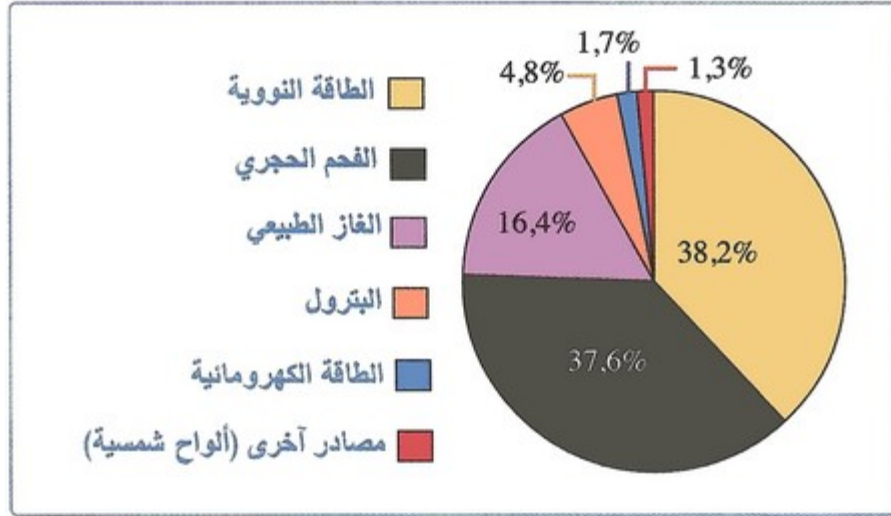
ملخص الدرس

الخسائر المادية الناتجة عن إضرابات العمال، كما أن ارتفاع أجور العمال في السنوات الأخيرة أدى إلى ضعف القدرة التنافسية لبعض الصناعات الموجهة نحو الخارج (ارتفاع تكاليف الإنتاج).
تعرض بعض الشركات للإفلاس خاصة شركات دايو التي كانت سنة 2000 أهم منتج للسيارات بكوريا الجنوبية، حيث اشترت و.م.أ 76% من أسهمها، وهو ما ينعكس بشكل سلبي على الإقتصاد الكوري الجنوبي.

6-2/ المشاكل والتحديات البيئية

الأنشطة

الوثيقة 1 : توزيع مصادر الطاقة بكوريا الجنوبية



1. أستخرج النسبة التي تمثلها الطاقات ذات المصدر الحراري الملوثة.
2. أتبين نسبة مصادر الطاقات النظيفة المتجددة.
3. أستنتج التحديات البيئية المطروحة على كوريا الجنوبية في مجال الطاقة.

الوثيقة 2 : التحدي البيئي

" منذ 20 سنة لم يكن الكوريون واعين بمشاكل البيئة، فطرح موضوع التلوث كان يعتبر تصرفا معاديا للحكومة وللتنمية بالبلاد. ومع أن الساكنة اليوم صارت أكثر إدراكا بالتحدي البيئي، فإن الحكومة تولي أهمية كبرى للتنمية الاقتصادية دون العناية بجودة البيئة.

فالطاقة النووية تمثل الحصة الكبرى في إنتاج الطاقة، (حوالي 38%). ويخلق التخلص من الأجسام المشعة تحديا في وجه الحكومة التي تعترف بضعف الأنظمة الأمنية في المخطات النووية. وسبق للمحطات الستة عشر أن عرفت مشاكل تقنية تسببت في تسربات إشعاعية حاولت الصناعة النووية إخفاءها.

وتبقى أفضل وسيلة للتخلي التدريجي عن المخطات النووية هي تشجيع الصناعات الأقل استهلاكا للطاقة، والاعتماد على الطاقة الشمسية وطاقة الرياح."

www.sdpd.free.fr/coree/

1. أستخلص المشاكل التي يطرحها اعتماد الاقتصاد الكوري الجنوبي على الطاقة النووية.
2. أستنتج التحدي المطروح على كوريا الجنوبية في مجال الطاقة.
3. أعي الحلول التي يقدمها النص لمواجهة هذا التحدي.

ملخص الدرس

تتمثل في اعتماد كوريا الجنوبية على الطاقة النووية والفحم الحجري والغاز الطبيعي بشكل كبير، وهي من أهم أنواع الطاقة الأكثر تلويثا للبيئة. مقابل ضعف اهتمام كوريا الجنوبية بمصادر الطاقة المتجددة.

VII- مصطلحات ومفاهيم

شيبول (Chaebol)

عماق صناعي قائم على تكتل مالي، نموذج: سامسونغ، هيونداي، كيا.

كونفوشيوس

479 - 551 قبل الميلاد، فيلسوف وحكيم صيني لقب بالمعلم وإليه تنسب معظم الأمثال والحكم الصينية.

IX- تقويم التعلمت

الوثيقة 1

« سجلت كوريا الجنوبية فائضا تجاريا بقيمة 25.8 مليار دولار العام الماضي، متجاوزة حاجز 25 مليار دولار للسنة الرابعة على التوالي، وذلك حسبما كشف تقرير صدر ... عن الحكومة في سيول... وبلغ حجم التجارة العالمية لكوريا الجنوبية تريليون دولار وسط تباطؤ الاقتصاد العالمي. وجاء ذلك للسنة الثانية على التوالي. واحتلت بذلك كوريا الجنوبية المرتبة الثامنة من حيث حجم التجارة على مستوى العالم بارتفاع مرتبة واحدة عن عام 2011. وذكرت وكالة أنباء يونهاب الكورية الجنوبية الرسمية نقلا عن التقرير أن صادرات المنتجات النفطية ارتفعت بفضل زيادة الطلب عليها وارتفاع أسعار النفط العامية بنسبة 9% إلى 56.7 مليار دولار مسجلة أعلى مستوى لها على الإطلاق. وجاءت في المركز الأول من بين المنتجات الرئيسية العشر للتصدير. وشهدت صادرات السيارات وقطع غيارها زيادة بنسبتي 3,6% و6,6% على التوالي... وعن الجهات الرئيسية التي توجهت لها المنتجات الكورية الجنوبية. فقد ارتفعت الصادرات إلى الصين خلال العام الماضي بنسبة 0,1% لتبلغ 134.3 مليار دولار. في حين بلغت الصادرات الكورية الجنوبية للولايات المتحدة العام الماضي 58.5 مليار دولار. أي بزيادة نسبتها 4,1% مسجلة رقما قياسيا على الإطلاق مدعومة بآثار اتفاقية التجارة الحرة...».

الوثيقة 2

« إن عامل النجاح الأساسي للاقتصاد الكوري هو المثلث القوي الذي شكلته الحكومة بالتعاون مع المؤسسات المالية والصناعية، وأضلاع هذا المثلث هي الشركات الكورية الكبرى المعروفة باسم Chaebols والقطاع البنكي والحكومة. ولولا عدد من العوامل الخارجية المعينة، لم يكن هذا المثلث ليحقق مثل هذه النتائج المبهرة، فقد أسهم التقدم الياباني في زيادة التعاون الاقتصادي والتكنولوجي بين اليابان وكوريا الجنوبية بشكل واضح في المراحل الأولى للتطور الاقتصادي الكوري، ثم هبت رياح العولمة التي نجح نموذج نمو الاقتصاد الكوري القائم على التصدير في ركوب موجتها وأصبح التطور الكوري بدوره عنصراً من عناصرها.».

الوثيقة 3

« وإذا استطاعت كوريا أن تقدم للمرة الثالثة نموذجاً باهراً للتنمية الاقتصادية المماثلة في العالم، فسيصبح لزاماً عليها على الأقل أن تتعامل بنجاح مع المشكلات الآتية:
 أولاً، معالجة الفجوة المتزايدة بين دخول الفقراء والأغنياء، وإلى أي مدى ستكون الحكومة الكورية قادرة على تقديم شبكة قوية وفعالة لغير القادرين...
 ثانياً، مسألة الزراعة، حيث تعد الإعانات الحكومية في الزراعة، بالإضافة إلى المنافسة الشرسة التي تواجهها الزراعة الكورية، عقبة رئيسية أمام الجهود الكورية لدفع اتفاقيات التجارة الحرة مع شركائها التجاريين...
 أما المهمة الثالثة الواجب على كوريا تنفيذها، فهي التخلص من كونها دولة نامية. إن كوريا لم تعد مجرد دولة نامية. فبالنظر إلى التقدم الاقتصادي الذي حققته، يصبح الحديث عن وصفها بأنها دولة نامية لا مجال له الآن.»

الأسئلة

- 1- بين (ي) بالاعتماد على تعلماتك مدلول العبارة التالية : «نمو اقتصادي حديث».
- 2- استخرج (ي) من الوثيقة 1:
 - أ - مؤشرات النمو في التجارة الكورية الجنوبية.
 - ب - الشركاء التجاريين لكوريا الجنوبية.
- 3- استخلص (ي) انطلاقاً من الوثيقة 2 مرتكزات نمو الاقتصاد الكوري الجنوبي.
- 4- حدد (ي) من خلال الوثيقة 3 المشاكل التي تعترض كوريا الجنوبية.
- 5- استعن (يني) بتعلماتك المعرفية لتحريـر فقرة ترصد (ين) من خلالها مظاهر النمو الصناعي لكوريا الجنوبية والعوامل التنظيمية والسياسية المفسرة لها.