



## التاريخ والجغرافيا - الثانية باك آداب وعلوم إنسانية

درس الجغرافيا 5-2  
الصين (قوة اقتصادية صاعدة)  
الأستاذ: حسن شداوي

### الفهرس

I- أهداف التعلم

II- تقديم

III- مظاهر قوة الاقتصاد الصيني

3-1/ مظاهر نمو الفلاحة الصينية وبعض خصائصها

3-2/ مظاهر تطور الصناعة الصينية

3-3/ أهمية التجارة الصينية على المستوى العالمي

IV- العوامل المفسرة لقوة الاقتصاد الصيني

4-1/ العوامل الطبيعية

4-2/ العوامل التنظيمية والبشرية

V- المشاكل والتحديات التي تواجه الاقتصاد الصيني

5-1/ التحديات الاقتصادية

5-2/ التباينات المجالية

VI- مصطلحات ومفاهيم

VII- تقييم التعلمات

---

I- أهداف التعلم

1. أرصد مظاهر قوة الاقتصاد الصيني.

2. أتبين العوامل المفسرة لهذه القوة الاقتصادية، والمشاكل والتحديات التي تواجهها.

3. أرسخ القدرة على استعمال النهج الجغرافي في معالجة الظواهر الاقتصادية، بالاعتماد على الوثائق والدعامات.

4. أدرك أهمية التجربة الصينية كنموذج متميز للتنمية بالعالم النامي.

## II- تقديم

تشكل التجربة الصينية نموذجا حيا للقوى الاقتصادية الصاعدة في العالم، حيث تمكنت من تحقيق تقدم كبير في العديد من المجالات، مما جعلها تنافس القوى الاقتصادية الكبرى وفي مقدمتها الولايات المتحدة الأمريكية، لكنها لازالت تعاني من تزايد حدة التفاوتات المجالية والاجتماعية بين الداخل والساحل

- فما هي مظاهر النمو الاقتصادي للصين ؟
- وما هي العوامل المفسرة له ؟
- وما هي المشاكل والتحديات التي تواجه الاقتصاد الصيني ؟

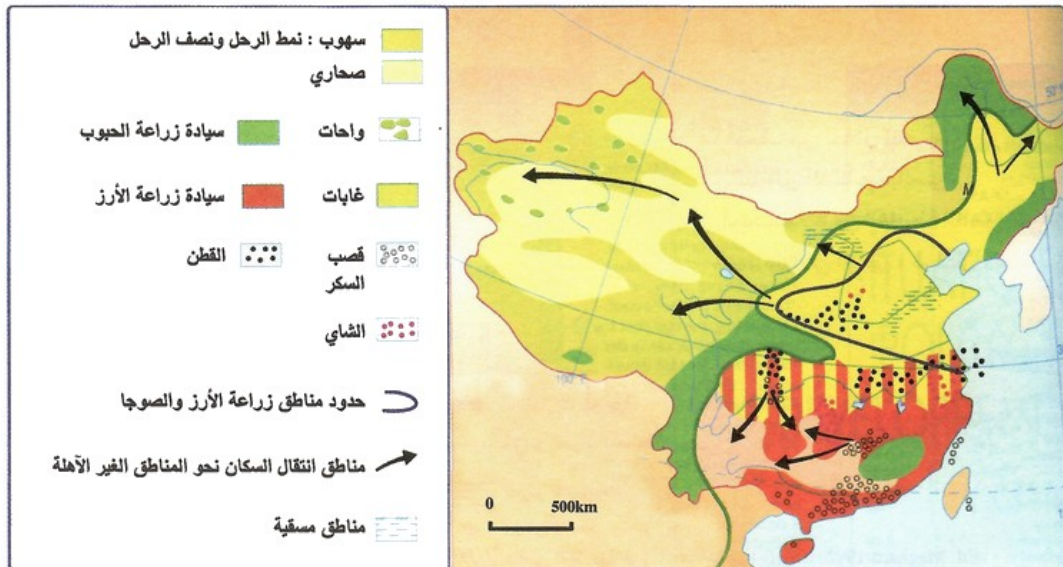


## III- مظاهر قوة الاقتصاد الصيني

3-1/ مظاهر نمو الفلاحة الصينية وبعض خصائصها

### الأنشطة

الوثيقة 1 : المناطق الزراعية بالصين



1. أصف من خلال الخريطة توزيع المناطق الزراعية بالصين.

2. أستخرج من الخريطة أهم المنتجات الزراعية بالصين.

3. أستنتج دور الإنتاج الزراعي في قوة اقتصاد الصين.

الوثيقة 2 : أهم المنتجات الزراعية بالصين سنة 2003 (بمليون طن).

المنتجات	الإنتاج (Mt)	الحصة من الإنتاج العالمي	المرتبة العالمية
الأرز	167,6	28,7 %	1ère
القمح	86,1	15,4 %	1ère
الذرة	114,2	18 %	2ème
الفول السوداني	15,5	43 %	1ère
سلجم	11,5	31,2 %	3ème

1. أصف أهمية الإنتاج الزراعي في الصين.

2. أستخلص حجم مساهمة الصين في الإنتاج الزراعي على الصعيد العالمي.

### ملخص الدرس

يتميز الإنتاج الفلاحي بالتنوع والضخامة، وتحقيقه للاكتفاء الذاتي في أغلب المنتجات، وتوجيه بعضها نحو التصدير كالشاي والحريير الطبيعي، ومن خصائصه:

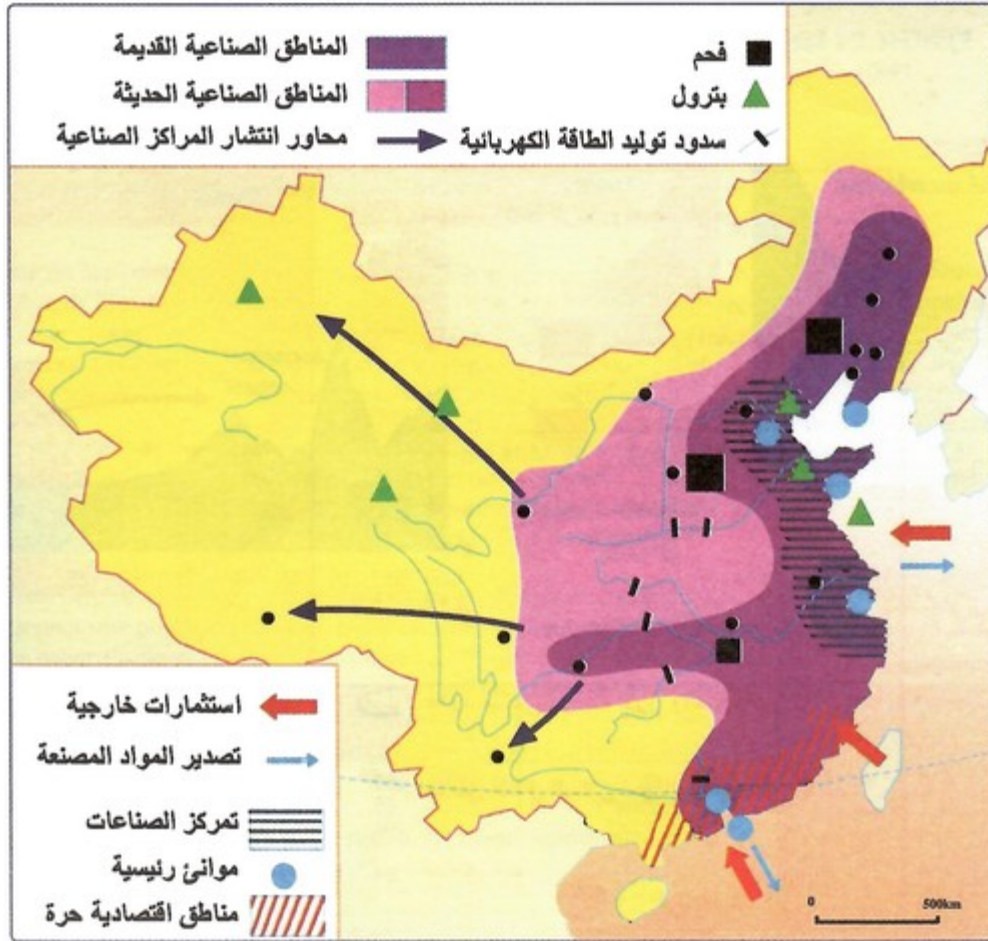
- احتلال الصين المراتب الأولى عالميا في عدة منتجات (ما بين المرتبة الأولى والسادسة).
  - تركز أغلب المنتجات الفلاحية في الجنوب الشرقي من البلاد
  - أهمية إنتاج واستهلاك الأرز الذي يشغل مساحة شاسعة، وتنتشر زراعة باقي أنواع الحبوب خاصة القمح في منشوريا
  - تربية الماشية غرب البلاد في هضبة التبت وفي المناطق الجبلية، وتتوفر البلاد على قطاع متنوع من الأبقار والخنازير والأغنام، تحتل بها مراتب متقدمة عالميا (المرتبة الأولى في إنتاج الأغنام، والخنازير، والصيد البحري، والمرتبة الثالثة في إنتاج الأبقار).
- وتنقسم البلاد إلى ثلاثة مجالات فلاحية كبرى هي:

- مجال الحبوب في سهل منشوريا
- مجال الأرز في الجنوب الشرقي
- مجال تربية الماشية في الداخل والغرب

### 2-3 / مظاهر تطور الصناعة الصينية

#### الأنشطة

الوثيقة 1 : المناطق الصناعية بالصين



1. أصف من خلال الخريطة التوسع المجالي للمناطق الصناعية بالصين.
  2. أحدد انطلاقا من الخريطة المناطق التي تتركز بها الصناعات في الصين، ثم أعلل ذلك.
- الوثيقة 2: أهم المنتجات الصناعية بالصين سنة 2003

الرتبة العالمية	الحصة من الإنتاج العالمي %	نوع الصناعة
1ère	15 %	صناعة الصلب
3 ème	10,8 %	صناعة الألمنيوم
8 ème	3,4 %	صناعة السيارات
1ère	29,7 %	صناعة الأنسجة القطنية
1ère	15,9 %	صناعة النسيج الاصطناعي

1. أستخرج من الجدول الصناعات التي تحتل فيها الصين مكانة مهمة على الصعيد العالمي.
- الوثيقة 3: مصنع لانتاج سيارات فولسفاكن بمدينة شانغاي



1. أستخلص من خلال الصورة مظاهر انفتاح الصناعة الصينية على اقتصاد السوق.
2. أستنتج أهمية الفوائد الاقتصادية التي تحققها الصين من خلال هذا الانفتاح على العالم الرأسمالي.

### ملخص الدرس

حققت الصناعة الصينية في العقود الأخيرة قفزة كمية ونوعية تجلت مظاهرها فيما يلي:

- تطور مساهمة الصناعة في الناتج الإجمالي الداخلي من 44,3% سنة 1978 إلى 52,1% سنة 2004م.
- اعتبار الصين رابع قوة اقتصادية في العالم بتقديمها 7% من الإنتاج الصناعي العالمي.
- استحوادها على حصة كبيرة من الإنتاج العالمي في عدة صناعات (ما بين 4,9% و70%).
- تمركز الصناعة الصينية في الجزء الشرقي من البلاد لوفرة المواد الأولية، ومصادر الطاقة، وكثرة اليد العاملة، والمساهمة الكبرى للدولة، والاستثمارات الخارجية بهذه المنطقة.
- تعدد المناطق الصناعية وظهور مناطق حديثة التصنيع خلال الثمانينات والتسعينات من القرن 20م، حيث مر التصنيع بها من ثلاث مراحل أساسية هي:

1. مرحلة ما قبل 1949 (ما قبل الثورة الاشتراكية): كانت الصناعة متأخرة

2. مرحلة ما بين 1949 و1976م (الإصلاحات والانفتاح): الاعتماد على الصناعة الثقيلة خاصة الصلب

3. مرحلة الثمانينات والتسعينات من القرن 20: وجود صناعات متطورة

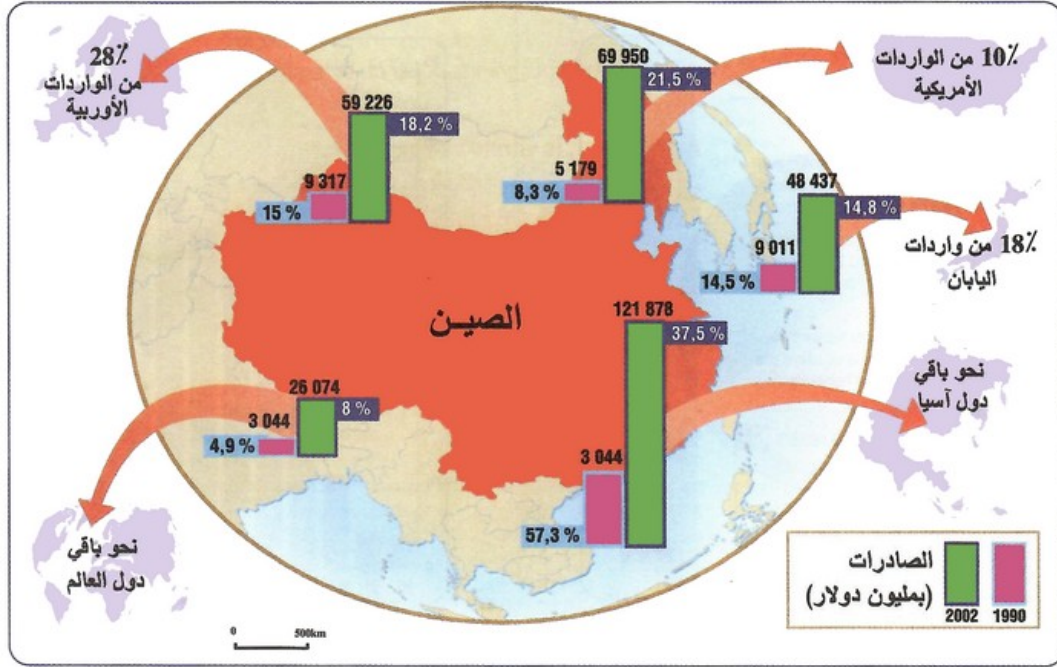
- تطور هائل في بنية الصناعة الصينية: الانتقال من الصناعات الأساسية (الصلب، والفولاذ)، والاستهلاكية (النسيج، والمواد الغذائية ...) إلى الصناعات العالية التكنولوجيا (الالكترونية الدقيقة، النووية، الفضائية، العسكرية ...).

- احتلال المنتجات الصناعية الصينية مراتب متقدمة في العالم: الأولى في إنتاج الصلب والفولاذ، خيوط القطن والنسيج الاصطناعي، لعب الأطفال والأحذية.

### 3-3 أهمية التجارة الصينية على المستوى العالمي

#### الأنشطة

الوثيقة 1 : تطور مساهمة الصين في التجارة العالمية ما بين 1990 و2002



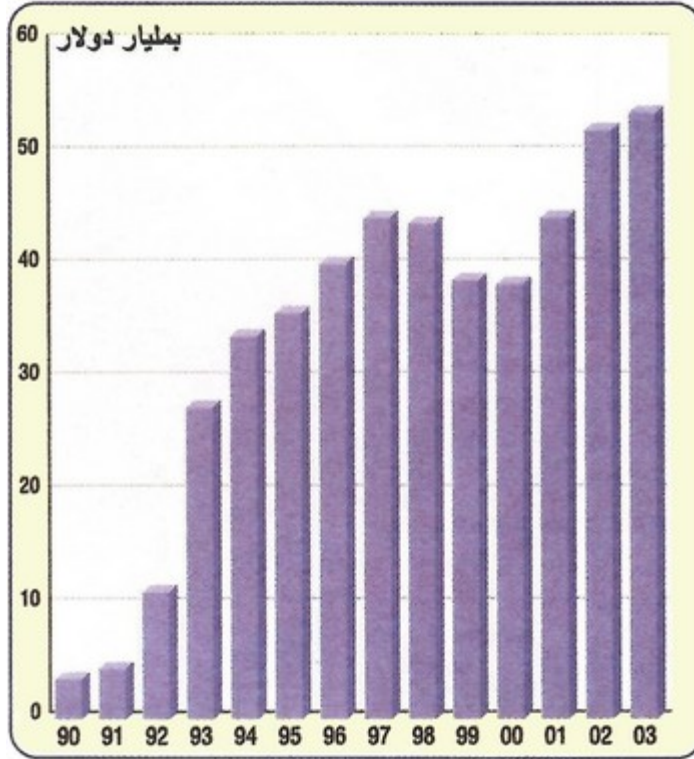
1. أرتب من خلال الخريطة مناطق العالم حسب حجم مبادلاتها التجارية مع الصين سنة 2002.
2. أصف التطور الحاصل في حجم مبادلات الصين التجارية مع هذه المناطق.
3. أستخلص مظاهر الهيمنة التجارية التي تفرضها الصين على مختلف الأسواق العالمية، ثم أعل ذلك.

### الوثيقة 2 : الصين قوة اقتصادية عالمية جديدة

"على مدى أكثر من نصف قرن ظل الغرب ينظر إلى الصين باعتبارها مجرد كتلة بشرية ضخمة، لا تشكل أي تهديد اقتصادي وأحيانا سياسي له، ولكن السنوات العشرين الماضية شهدت تحولات اقتصادية جذرية بالنسبة للصين، لتعيد رسم خريطة القوة في العالم الاقتصادي، فقد تحول التنين من قوة بشرية إلى قوة اقتصادية عالمية... ولذلك فقد أصبحت العلاقة الاقتصادية بين الولايات المتحدة صاحبة أكبر اقتصاد في العالم حاليا، والصين القوة الاقتصادية الصاعدة، موضوعا للجدل الحاد داخل مختلف الدوائر الأمريكية والعالمية، ويؤكد تقرير لصحيفة أمريكية (صحيفة كريستيان ساينس مونيتور)، أنه خلال عشرين عاما القادمة، قد يصبح الاقتصاد الصيني أكبر اقتصاد في العالم، متجاوزا الاقتصاد الأمريكي الذي ظل يحافظ على مكانته كأول قوة عالمية، منذ الحرب العالمية الثانية".

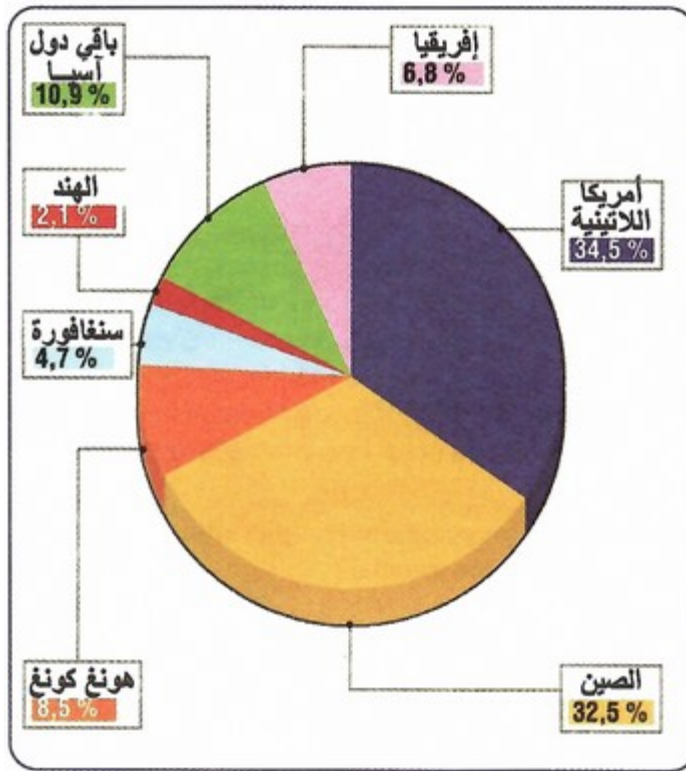
1. أستخرج من النص النظرة التي كانت سائدة لدى دول الغرب عن الصين على مدى نصف قرن الماضية، ثم أعل ذلك.
2. أحدد من خلال النص طبيعة التحول الذي حققته الصين خلال السنوات الأخيرة.
3. أستخلص الآفاق المستقبلية لهذا التحول الذي تشهده الصين.

### الوثيقة 3 : تطور الاستثمارات الأجنبية بالصين ما بين 1990 و2003

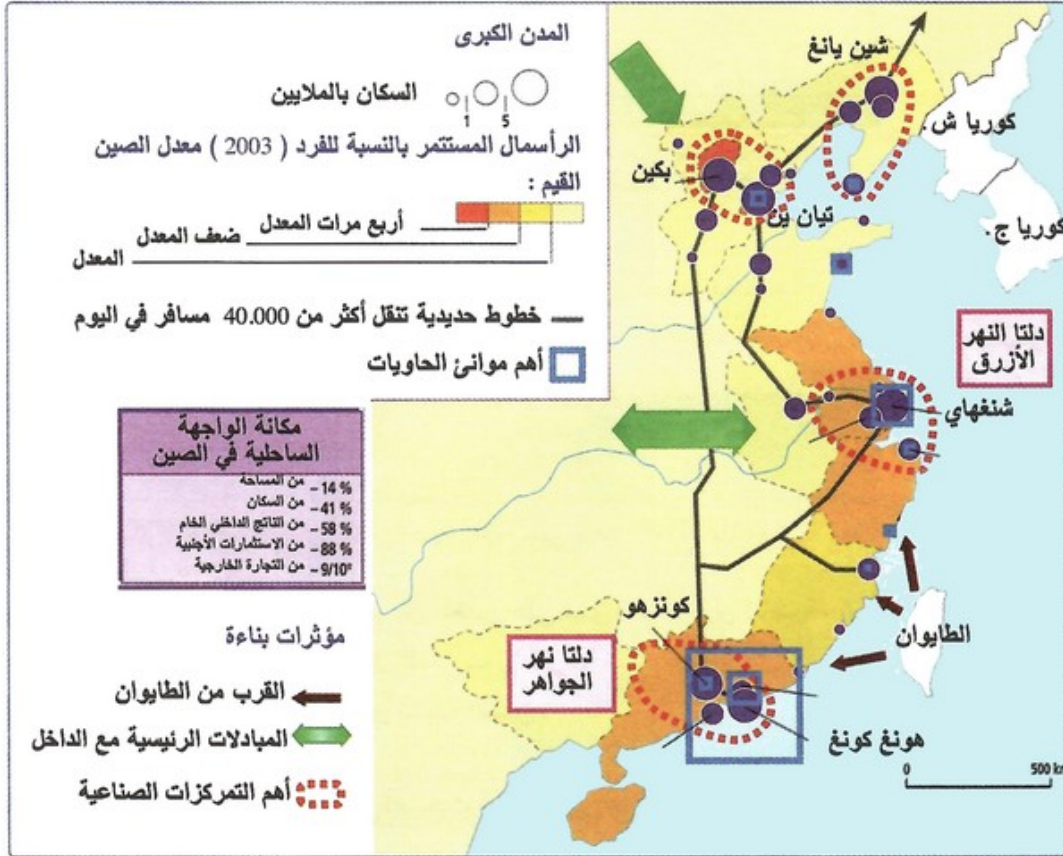


1. أصف التطور الحاصل في حجم الاستثمارات الأجنبية بالصين ما بين 1990 و 2003.

الوثيقة 4 : توزيع الاستثمارات الأجنبية بالدول النامية (1990 - 2003)



1. أقرن بين حجم الاستثمارات الأجنبية بالصين وحجم الاستثمارات في باقي بلدان العالم النامي.
2. أوضح العوامل التي تجعل من الصين منطقة استقطاب الاستثمارات الأجنبية، ثم أبين مدى استفادة الاقتصاد الصيني من ذلك.



1. أتعرف أهم المدن الساحلية الصينية وحجمها السكاني.
2. أستخرج حجم الرساميل المستثمرة في الواجهة الساحلية.
3. أبين أهم المؤثرات الاقتصادية في المنطقة.

### ملخص الدرس

تتعامل الصين مع أغلب دول العالم خاصة اليابان وكوريا الجنوبية، وباقي دول جنوب شرق آسيا كالولايات المتحدة الأمريكية ودول الاتحاد الأوروبي، وتتميز تجارتها الخارجية بخصائص، منها:

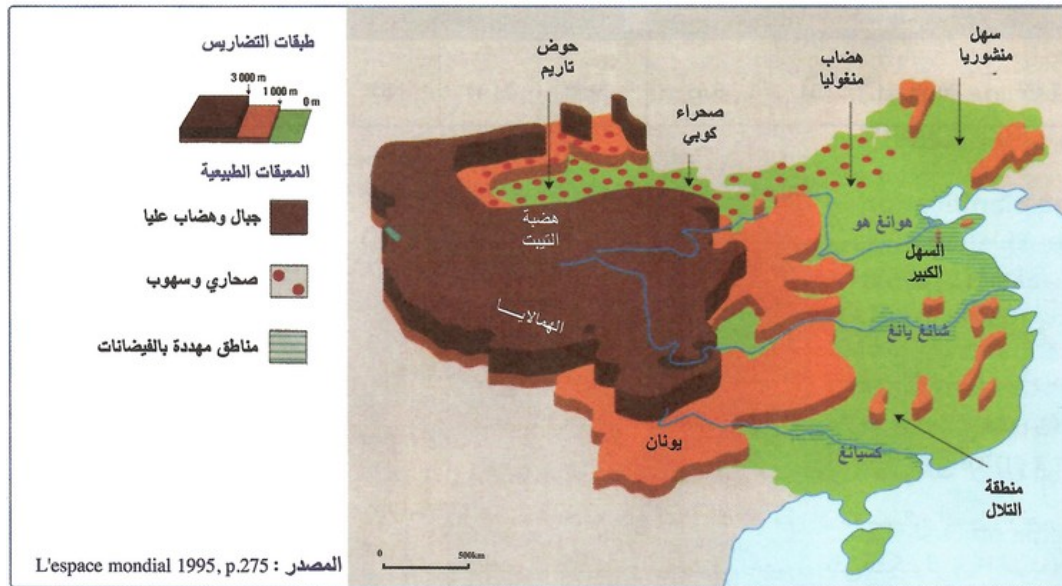
- بنية تجارية خارجية متنوعة تتشكل صادراتها الأساسية من آلات ومعدات ميكانيكية وكهربائية وإلكترونية بنسبة 46,2%، ومواد استهلاكية مصنعة ونصف مصنعة بنسبة 42,6%، أما وارداتها فتتكون من مواد كيميائية بنسبة 11,8%، ومواد أولية بنسبة 10,6%، ومصادر الطاقة بنسبة 9,71%.
- تطور حجم وبنية الصادرات، وانعكاس ذلك على قيمة مبادلاتها الخارجية، حيث انتقلت من 660,2 مليار دولار إلى 762,3 مليار دولار، وعلى الميزان التجاري الذي حقق فائضا بلغ 102,1 مليار دولار سنة 2005م.
- تعدد الشركاء التجاريين للصين في مختلف قارات العالم، وتبقى هونغ كونغ أكبر مستورد منها بنسبة 24%، واليابان أكبر مصدر إليها بنسبة 23%.

### IV- العوامل المفسرة لقوة الاقتصاد الصيني

#### 1-4/ العوامل الطبيعية

#### الأنشطة

## الوثيقة 1 : تضاريس الصين



1. أصف انطلاقا من الخريطة الطبقات التضاريسية بالصين.
2. أستخرج أهم المعينات الطبيعية.
3. أستخلص اعتمادا على المقياس ضخامة مساحة الصين.

## الوثيقة 2 : استعمال الأراضي في الصين

المساحة الإجمالية	أراضي زراعية	غابات	مجال حضري	مجال مائي	مجالات أخرى	أراض غير مستغلة
9598 050 km <sup>2</sup>	10,7 %	12,7 %	7 %	2,8 %	4,8 %	62 %

1. أثبتين من الجدول الإمكانيات التي يوفرها تنوع المجال الصيني.
- الوثيقة 3 : الثروات المعدنية والطاقة بالصين 2004 (بمليون طن، ما عدا الغاز بمليار متر مكعب، والفضة واليورانيوم بالطن)

الانواع	الفضة	اليوكسيت	الفحم الحجري	الحديد	الغاز الطبيعي	الذهب	البنترول	الفوسفات	اليورانيوم
الإنتاج	2450	15	1910	310	41	215	174	25,5	750
الرتبة عالميا	3	4	1	1	16	4	6	3	11

1. أصف تنوع الثروات المعدنية والطاقة بالصين، وأبرز مكانتها على صعيد الإنتاج العالمي.
2. أستنتج دور هذه الثروات في قوة الصناعة الصينية.

## ملخص الدرس

### التضاريس والمناخ :

تنقسم الصين إلى ثلاث وحدات طبيعية هي:

- الصين الشمالية (الشمال الشرقي): وتتشكل من سهلين هما سهل منشوريا الذي يعتبر أخصب منطقة في الصين، والسهل الكبير الذي تكسوه تربة غنية بالمواد العضوية، إلى جانب الهضاب الداخلية، ويسود في هذه المنطقة مناخ معتدل إلى بارد.

- الصين الجنوبية (الجنوب الشرقي): وتتميز بتنوع التضاريس حيث تشمل التلال والسهول والهضاب، ويسود فيها مناخ مداري أو شبه مداري.
- الغرب الصيني: ويمثل جزءاً مهماً من مساحة الصين، ويتشكل من جبال شديدة الارتفاع مثل الهملايا، وهضاب مرتفعة كهضبة التبت، وأحواض داخلية، ويسود في الغرب الصيني المناخ الجبلي والمناخ الصحراوي.

#### الشبكة المائية:

غزيرة في الشمال والجنوب الشرقي بوجود أنهار كبرى، مثل نهر كسيانغ، ونهر يانغ زيانغ، ونهر هوانغ هو، أنشأت عليها الصين سدود لتجميع المياه والتحكم في الفيضانات.

لكن مع ذلك تبقى الظروف الطبيعية سلبية بالنسبة للفلاحة، فالأراضي الصالحة للزراعة لا تتعدى 10,7% من مساحة البلاد نظراً لسيادة الطابع الجبلي، وتعرض البلاد للجفاف والفيضانات.

#### الثروات الطبيعية:

تتوفر الصين على ثروات متنوعة واحتياطيات مهمة من الفحم الحجري، والبتروول والغاز الطبيعي، والكهرباء المائية والحرارية، وعلى كميات مهمة من المعادن: كالحديد، والرصاص، والزنك، والفوسفات ...، إنتاج مرتفع تحتل به المراتب المتقدمة عالمياً، وتتركز هذه الثروات الطبيعية شرق البلاد باستثناء بعض آبار البتروول والغاز بالغرب، تساهم في تحقيق النهضة الاقتصادية، حيث توفر مواد أولية لأهم الصناعات، وتساهم في جلب العملة الصعبة، وتوفير الطاقة المستهلكة.

## 2-4/ العوامل التنظيمية والبشرية

### الأنشطة

#### الوثيقة 1: معطيات ديمغرافية (2005).

الفئة العمرية (%)			معدل النمو السكاني (%)	السكنة الحضرية (%)	أمد الحياة (سنة)	مؤشر الخصوبة (طفل)	الكثافة hab/km <sup>2</sup>	عدد السكان بـ 10 <sup>6</sup> مليون hab
+ 65	64 - 15	14 - 0						
7,46	70,50	22,04	0,65	39,58	71,44	1,85	136	1 303 934 400

1. أحدد بعض الخصائص الديمغرافية لسكان الصين.

2. أستنتج أثر العامل البشري على قوة الاقتصاد الصيني، وأفسر ذلك.

الوثيقة 2: فرض سياسة الطفل الوحيد لضبط النمو الديمغرافي بالصين



1. أستنتج تأثير سياسة الطفل الوحيد على النمو الديمغرافي بالصين.

الوثيقة 3 : النهج الاقتصادي الصيني الحديث

"بدأت الصين برنامجا اقتصاديا منذ عام 1979 قائما على مبدأ الانفتاح الاقتصادي واستقطاب المستثمرين... هذا التحول طرأ بفضل التغيير في النهج السياسي للصين الذي انطلق منذ السبعينيات... وقد تكون الشخصية البارزة في هذا التحول هو زعيمها الاقتصادي (دنج شياوبين) وقرارات مؤتمر الحزب الشيوعي تحت شعار (العصرنات الأربع) أي الولوج والانفتاح على العالم بشكل متوازن مع مصالح الصين، وتغيير المناهج التعليمية، والبحث في الحصول على التكنولوجيا الحديثة، وتحديث الصناعات الصينية، أي بمعنى آخر التحول الاقتصادي نحو اقتصاد السوق".

1. أحدد من خلال النص تاريخ انطلاق الصين في تطبيق خطة الإصلاح الاقتصادي.

2. أستخرج عناصر النهج الاقتصادي الحديث بالصين.

3. أستخلص انطلاقا من النص واعتمادا على مكتسباتي السابقة، علاقة هذا الإصلاح بالتطور الاقتصادي للصين.

## ملخص الدرس

### المؤهلات البشرية :

يبلغ عدد سكان الصين في الوقت الراهن حوالي 1,3 مليار نسمة، أي ما يعادل 21% من سكان العالم، من بينهم حوالي 71% سكان نشيطين، ويصل أمد الحياة إلى 72 سنة، وتتمركز الكثافة المرتفعة بالقسم الشرقي من البلاد، تقدم هذه الثروة السكانية اليد العاملة الخبيرة والطاقات البشرية المؤهلة للأنشطة الاقتصادية الصينية، فضلا عن كونها سوقا استهلاكية كبيرة.

### العوامل التنظيمية والتاريخية :

كان للعوامل التنظيمية والتاريخية دور حاسم في بناء القوة الاقتصادية للصين، فقد مرت التنمية الاقتصادية والاجتماعية الصينية بمرحلتين بارزتين:

1- المرحلة الأولى: مرحلة البناء الاشتراكي بقيادة ماوتسي تونغ، امتدت من 1949 إلى وفاته سنة 1976م، وتميزت ب:

- سياسة التأميم: حيث قضت على كل أشكال علاقات الإنتاج الإقطاعية والرأسمالية، وتنظيم الفلاحة بخلق تعاونيات، وضيعات تابعة للدولة عرفت بالكومونات الشعبية.
  - سياسة التخطيط المركزية: تمثلت في إنشاء المراكز الصناعية في أنحاء مختلفة من البلاد، مع إعطاء الأولوية للصناعات الأساسية والتجهيزية.
  - سياسة القفزة الكبرى إلى الأمام: لتحقيق الإقلاع الاقتصادي، وذلك بانجاز الأشغال الكبرى كالسدود والطرق والصناعات الأساسية اعتمادا على الموارد البشرية الوطنية.
  - سياسة المشي على قدمين: حيث تم التركيز على تطوير وتنمية القطاعين الأساسيين الفلاحي والصناعي.
- 2- المرحلة الثانية: مرحلة الانفتاح على اقتصاد السوق، انطلقت بعد وفاة ماوتسي تونغ، طبقت في عهد دينغ كسيابونغ منذ سنة 1978م ولا تزال مستمرة إلى الوقت الراهن، ومن أهم التطورات التي حصلت فيها:
- تفكيك الكومونات الشعبية وتحويلها إلى مستغلات عائلية.
  - إنشاء مقاولات خاصة وفتح الباب أمام الاستثمارات الأجنبية واستيراد التكنولوجيا الغربية.
  - تشجيع المبادلات التجارية مع الخارج بتحرير تجارة المنتجات الفلاحية.
  - تشجيع الصناعات الموجهة للتصدير وإحداث المناطق الاقتصادية الخاصة في السواحل الجنوبية الشرقية.
  - الانضمام إلى صندوق النقد الدولي سنة 1980م.
  - الانضمام إلى المنظمة العالمية للتجارة في 2001م

ساهمت المرحلة الأولى في التمهيد للإقلاع الاقتصادي، وفسحت المرحلة الثانية المجال للتعاون الاقتصادي مع العالم الرأسمالي، وتبادل التكنولوجيا ليصبح التنظيم الاقتصادي الصيني تنظيما مختلطا (اقتصاد السوق الاشتراكي).

## ٧- المشاكل والتحديات التي تواجه الاقتصاد الصيني

### 1-5/ التحديات الاقتصادية

#### الأنشطة

## الوثيقة 1 : حدود الازدهار الاقتصادي الصيني.

"ارتقت الصين، بفضل معدل النمو 9,1% الذي حققته سنة 2003، إلى مصاف القوى الاقتصادية العالمية الكبرى. وهي في طريق تجاوز بعض البلدان الأوروبية كفرنسا والمملكة المتحدة، على الخصوص، وأصبحت الصين منطقة جذب للاستثمارات العالمية. لكن الازدهار الحالي لا يخلو من آثار سلبية، فحاجيات الصين من الطاقة كبيرة جدا وتطرح مشاكل على مستوى التمويل وارتفاع أسعار المواد الأولية. وعلى البلاد مواجهة ارتفاع مذهب ل وارداتها بسبب الطلب الداخلي المتزايد، وانخفاض الرسوم الجمركية."

1. أحدد فكرة النص الأساسية.
2. أستخرج الآثار السلبية للازدهار الاقتصادي الصيني الحالي، وأهم المشاكل التي تواجهه.
3. أصف وضعية الاقتصاد الصيني على مستوى القطاعات.

## الوثيقة 2 : حاجيات الصين من البترول

"تعتبر الصين ثاني مستهلك عالمي للبترول، وتصل نسبة تبعيتها في هذه المادة إلى 40%. وبلغ إنتاجها سنة 2004 من البترول الخام 175 مليون طن. لكن استهلاكها ارتفع في نفس السنة إلى 314 مليون طن، أي 8% من الاستهلاك العالمي. وحسب تقرير أهم جهاز للتخطيط الاقتصادي في الصين، فإن الصين ستضطر إلى استيراد نصف حاجياتها من البترول من الخارج سنة 2010 ، ويمكن أن تصل النسبة إلى 80% سنة 2020."

1. أحدد الفكرة الرئيسية للنص.
2. أستنتج أهم التحديات التي تواجه الاقتصاد الصيني في المدى القريب.

## ملخص الدرس

تفرض الدول المتقدمة قيودا على المنتوجات الصينية، وتواجه الصناعة الصينية ضعف جودة منتوجاتها، واستهلاكها الكبير للطاقة، وترتبط الصين بالسوق الخارجية من حيث التزود بالمواد الأولية أمام كثافة التصنيع وقوة الاستهلاك.

## 5-2/ التباينات المجالية

### الأنشطة

## الوثيقة 1 : التباين الإقليمي بالصين



1. أُميز من خلال الخريطة بين المناطق الصينية حسب درجة تطورها الاقتصادي.
2. أقارن بين المناطق الساحلية والمناطق الداخلية، ثم أفسر أسباب تباينها الاقتصادي.
3. أستنتج تأثير هذا التباين الإقليمي على تطور التنمية الاقتصادية بالصين.

### الوثيقة 2 : اختلال التوازن بين المدن والأرياف الصينية

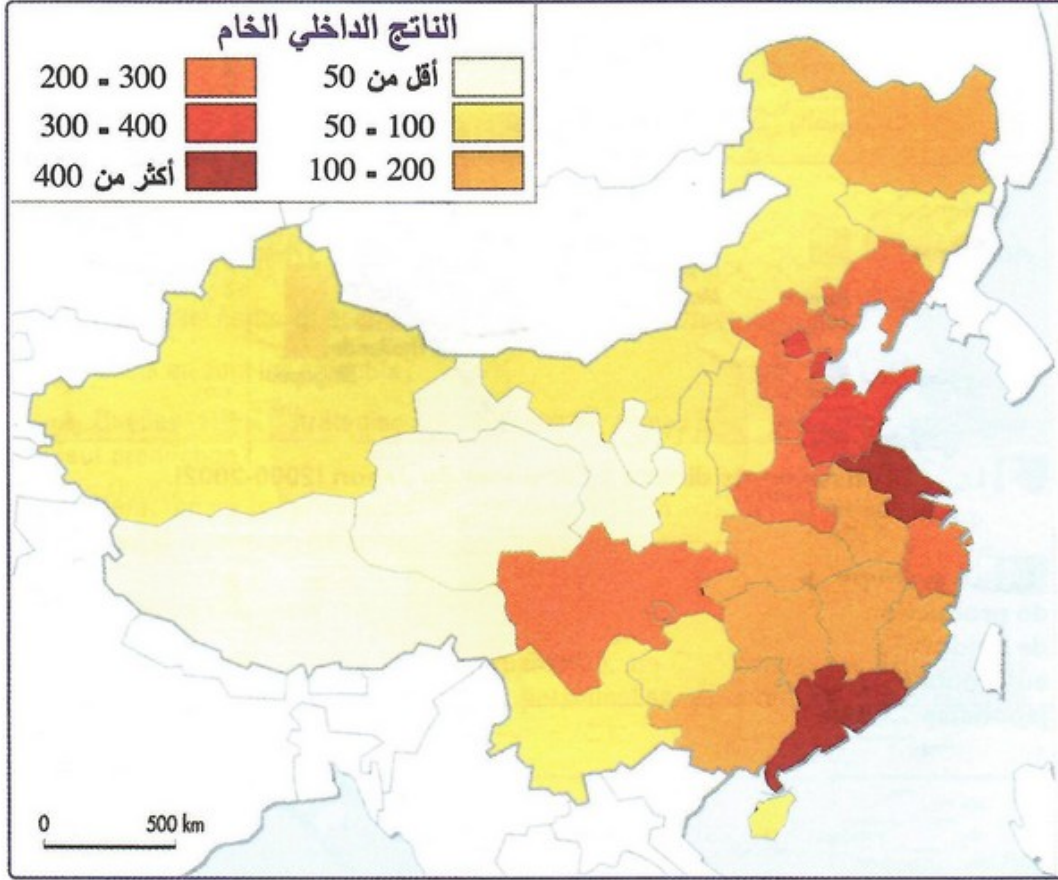
" في هذه الأيام تتردد في الصين عبارة "مجتمع الحياة الرغيدة" وهو مجتمع قائم حقيقة بالنسبة للبعض، ويعني أن لديهم الأنترنت ويمتلكون شققا فسيحة ومريحة، ولديهم الوقت للاستمتاع بالحياة الروحية والثقافية...

بالنسبة للثمانية وعشرين مليون نسمة، الذين مازالوا يعيشون تحت مستوى خط الفقر، ومعظمهم من الفلاحين، فإن مفهوم الحياة الرغيدة يظل مجرد حلم، على الرغم من أن الزيادة في الدخل السنوي للأسر الريفية بلغ معدله 3,8% سنويا...".

1. أقارن من خلال النص بين وضعية سكان الأرياف وسكان المدن.
  2. أستخلص تأثير هذا الاختلال في التوازن بين الأرياف والمدن على التنمية الاقتصادية في الصين.
- الوثيقة 3 : صورة غلاف مجلة كوريي انترناسيونال (عدد 589 فبراير 2002)



1. أحدد من خلال الصورة حجم سكان الأرياف بالصين.  
الوثيقة 4 : توزيع الناتج الداخلي الخام حسب الأقاليم الصينية (بمليار يوان)



1. أُميُز بين الأقاليم الصينية حسب مستوى الناتج الداخلي الخام.
2. أفسر أسباب الفجوة الحاصلة في توزيع الناتج الداخلي الخام بين المناطق الساحلية والمناطق الداخلية.
3. أبين تأثير اختلال التوازن الإقليمي على تطور التنمية الاقتصادية بالصين.

### ملخص الدرس

يسجل تفاوت كبير بين الواجهة الشرقية التي تتميز بالظروف الطبيعية الملائمة والاكتظاظ السكاني والنشاط الاقتصادي الكثيف، والغرب الصيني الذي يتميز بقساوة الظروف الطبيعية وضعف الكثافة السكانية وهزالة النشاط الاقتصادي، كما يختل التوازن الاقتصادي والاجتماعي بين المدن والأرياف الصينية، حيث يعاني سكان البوادي من ضعف المستوى المعيشي.

## VI- مصطلحات ومفاهيم

### قوة اقتصادية صاعدة

مفهوم ظهر في الثمانينات من القرن العشرين مع تطور أسواق البورصات في بعض بلدان الجنوب التي عرفت نموا في الدخل الفردي أهلها للاندماج في الاقتصاد العالمي.

### اقتصاد السوق

اقتصاد تعتبر الأسعار فيه نتيجة للمقابلة بين العرض والطلب، وهذا المفهوم مناقض للاقتصاد الممركز الموجه.

### ماوتسي تونغ

أول رئيس للصين الشعبية، عمل ترسيخ النظام الاشتراكي وتطوير الاقتصاد الوطني.

### دينغ كسياو بينغ

ثالث رئيس للصين الشعبية، اهتم بوضع إصلاحات جديدة وبالانفتاح على العالم الرأسمالي.

## المستغلات العائلية

ضيعات تستغل من طرف الأسر الفلاحية.

## المؤسسات الصناعية الجماعية

مصانع في ملك التعاونيات.

## مؤشر النمو الاقتصادي

مؤشر يعبر عن التراكم الذي حققه الإنتاج الداخلي الخام خلال سنة معينة مقارنة بالسنة التي قبلها.

## VII- تقويم التعلّمات

### الوثيقة 1

« أسهم النمو الاقتصادي السريع للصين في تبوئها المرتبة الثانية في العالم من حيث الناتج القومي، فمن العام 2001 حتى العام 2008، حافظ الاقتصاد الصيني على زخم سريع ودائم بمعدل سنوي بلغ %10,2 من الناتج المحلي، متجاوزا إلى حد كبير معدل النمو العالمي عند %4,9، ويعني ذلك أن الصين هي من أسرع دول العالم نموا ...

شهدت ... الواردات والصادرات في الصين نموا سريعا، مما جعل الصين بين أكبر الدول التي تستقطب الاستثمارات الخارجية المباشرة، فبين العامين 2000 و2008 تطورت تجارة الصين في العام تطورا مستمرا، وفي العام 2000 بلغت واردات وصادرات الصين ... نحو %4 من المجموع العالمي. وفي العام 2008، تضاعف هذا الرقم ... محتلا نحو %8 من الإجمالي العالمي...

بفضل انتهاج سياسة الإصلاح والانفتاح، حققت الصين إنجازات عظيمة في الإنتاج الزراعي ... شهد إنتاج الحبوب الغذائية زيادة مستقرة وارتفع إنتاج الحبوب ... وتمت المحافظة على الزيادة في الأعوام 2005 و2006 و2007 ... وبلغ إنتاج محاصيل الحبوب الغذائية 528.709 مليون طن العام 2008. ... كما شهدت المحاصيل الصناعية، مثل القطن ... ومحاصيل الزيوت والفواكه والخضر نموا وتطورا سريعا...».

### الوثيقة 2

« ... فكان (دينغ شياو بينغ) يشدد باستمرار على ضرورة العمل من أجل تحقيق تنمية اقتصادية منسقة ومتناغمة واعتبارها أولوية قصوى مدعومة بالعلوم والتكنولوجيا، كما شدد على أهمية الكمية والنوعية، والسرعة والفاعلية والسعي إلى دمج الأهداف الاقتصادية بالبناء السياسي، وتناغم الحضارة المادية مع الروحية. وفي الوقت الذي تم فيه التركيز على البناء الاقتصادي باعتباره مهمة مركزية، تم التأكيد أيضا على أهمية التنمية المتوازنة وعلى أهمية الإصلاح المساوية لأهمية الانفتاح ومحاربة الفساد... تمثل سياسة الإصلاح والانفتاح الصفة الأبرز للصين خلال الفترة الحديثة ... فقد ... حولت الصين من دولة مغلقة أو شبه مغلقة إلى دولة منفتحة على الجميع.»

### الوثيقة 3

« ... إن الوضع الأساس للموارد في الصين يشكو من انخفاض نسبته لدى الفرد الصيني، كما يشكو من التوزيع غير المتكافئ.

يتجلى التوزيع غير المتكافئ للموارد في حقيقة كون موارد الصين المعدنية تتركز على نحو أساس في مناطقها الشمالية والغربية، لكن تنميتها الاقتصادية تتركز حتى الآن في مناطقها الجنوبية والشرقية... توسعت فجوة الدخل بين سكان المدن والأرياف، وبين سكان مختلف مناطق البلاد. وكان لسكان المناطق الشرقية الحصة الأكبر من الزيادة، يليهم سكان المناطق الوسطى، بينما يعتبر سكان المناطق الغربية الأقل حظاً في هذا المجال ...

تواجه الصين في المرحلة الحالية من مسيرة التمدين المشكلات والعقبات التالية: مستوى التنمية والتقدم المنخفض، الإمكانيات المحدودة لاستيعاب العمالة الفائضة في الأرياف، البنى غير المتناسقة في المدن والأرياف، التخطيط العام غير العقلاني، الأساس الضعيف والمهام غير المكتملة لبعض الصناعات المدينية، وبنيتها التحتية المتخلفة...».

### الأسئلة

- 1- اشرح (ي) ما تحته سطر ف الوثيقتين 1 و2.
- 2- استخرج (ي) من الوثيقة 1 :
  - أ - المؤشرات الدالة على الإقلاع الاقتصادي الصيني.
  - ب - مظاهر نمو كل من قطاع التجارة والفلاحة.
- 3- استخلص (ي) من خلال الوثيقة 2. عوامل النمو والإقلاع الاقتصادي في الصين.
- 4- استنتج (ي) انطلاقاً من الوثيقة 3. طبيعة المشاكل التي تعترض الصين. مبرراً (ز) تجلياتها.