



الاجتماعيات - الثالثة إعدادي

درس الجغرافيا 11 : نيجيريا بين الغنى الطبيعي والضعف التنموي

الأستاذ: العلمي المرابطي

الفهرس

I- أهداف التعلم

II- تقديم

III- مقومات الغنى الطبيعي بنيجيريا

1-3 / الأنشطة

2-3 / ملخص الدرس

IV- بنية اقتصاد نيجيريا ومميزاته العامة

1-4 / الأنشطة

2-4 / ملخص الدرس

V- مؤشرات الضعف التنموي بنيجيريا

1-5 / الأنشطة

2-5 / ملخص الدرس

VI- أسباب الضعف التنموي بنيجيريا

1-6 / الأنشطة

2-6 / ملخص الدرس

VII- الإجراءات المتخذة لمواجهة الضعف التنموي

1-7 / الأنشطة

2-7 / ملخص الدرس

IIIX- خاتمة

IX- تقويم التعلمات

- أهداف التعلم

1. وصف مقومات الغنى الطبيعي ومؤشرات الضعف التنموي بنيجيريا.
2. تبين بعض العوامل المفسرة للضعف التنموي بنيجيريا.
3. رصد حصيلة الإجراءات المتخذة من طرف الحكومة النيجيرية لمواجهة هذا الضعف التنموي.

- تقديم

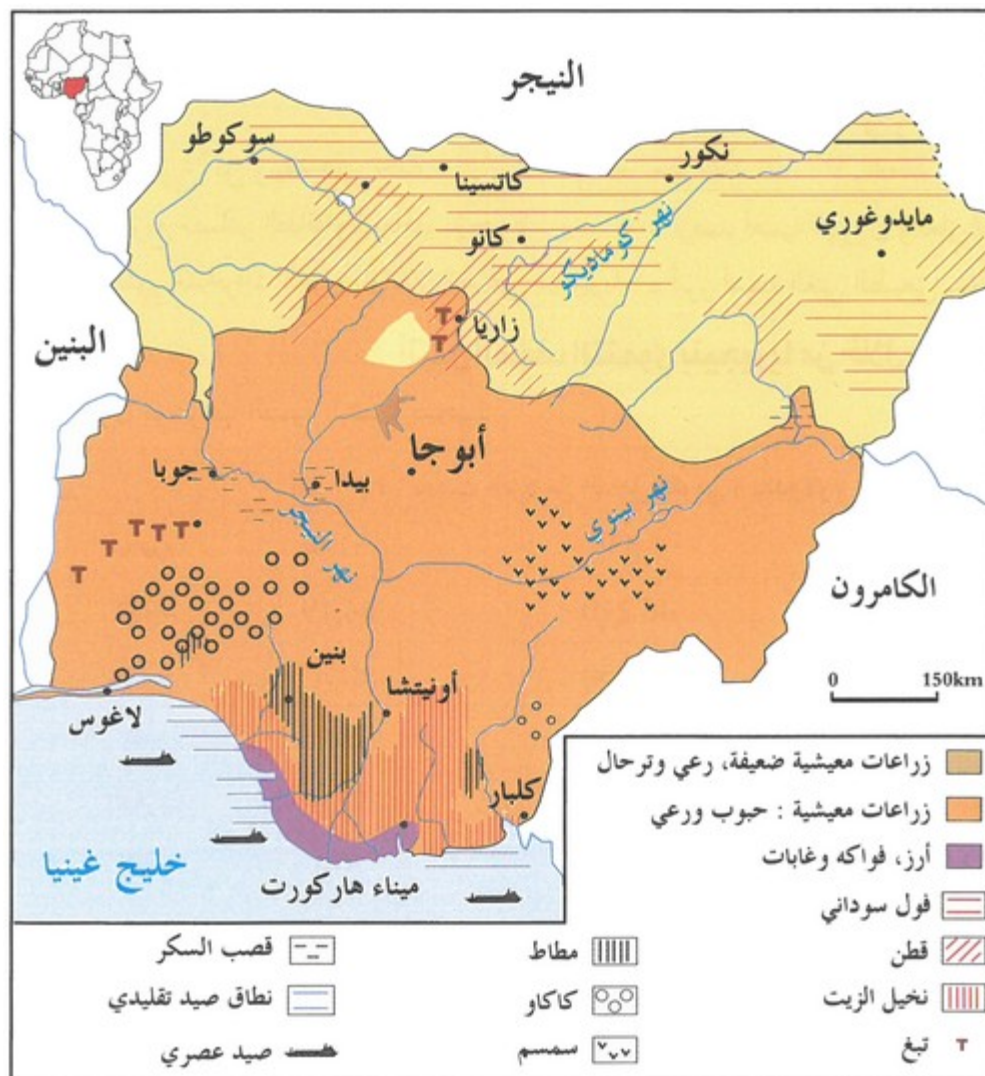
تقع نيجيريا في غرب القارة الإفريقية على خليج غينيا بمساحة تقارب 924000 كلم مربع، وتضم ساكنة هي الأكبر في إفريقيا، وتعد من البلدان الغنية بالموارد الطبيعية، غير أن هذا الغنى الطبيعي لا يعكس المستوى التنموي للبلاد.

- فأين تتجلى مظاهر الغنى الطبيعي لنيجيريا ؟
- وما المؤشرات الدالة على الضعف التنموي لنيجيريا ؟
- وكيف تواجه نيجيريا هذا الضعف التنموي ؟

-III- مقومات الغنى الطبيعي بنيجيريا

3-1/ الأنشطة

الوثيقة 1 : خريطة (الفلاحة والصيد البحري بنيجيريا)



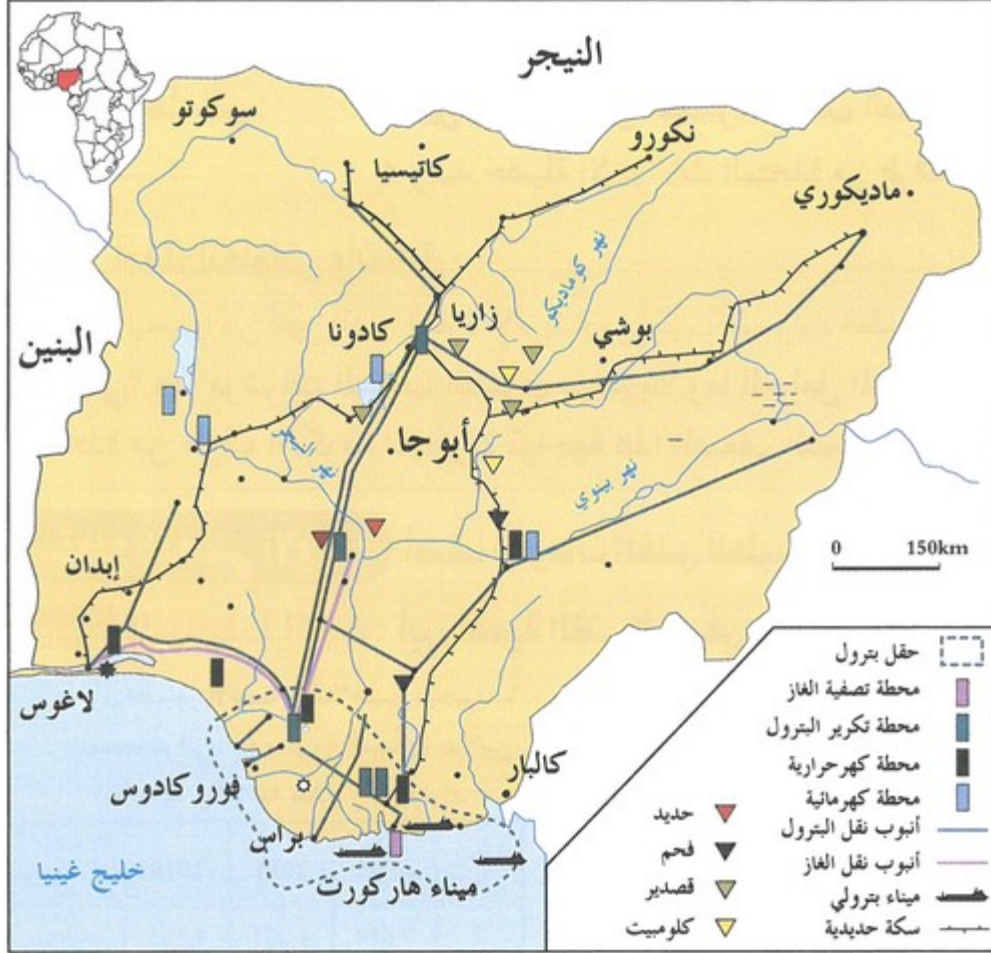
الوثيقة 2 : جدول تطور الإنتاج الفلاحي بنيجيريا (المنتج الزراعي والثروة السمكية بملايين الأطنان والماشية بملايين الرؤوس)

المرتبة العالمية	2012م	2011	2010	المنتج / السنوات
2	7,684	4,221	4,125	حبة الدخن
4	0,400	0,410	0,428	الكافور
13	8,122	7,856	7,306	الذرة
6	36,088	36,372	35,520	الأغنام
18	16,674	16,722	16,578	الأبقار
26	-	0,820	0,818	الثروة السمكية

الأسئلة

1. أحد موضوع كل وثيقة على حدة.
2. أستخرج أهم المنتجات الفلاحية من حيث كمية إنتاجها وأوطنها على الخريطة.
3. أسمى المنتجات التي عرفت أكبر تطور والمنتجات التي تحتل فيها نيجيريا أهم المراتب في العالم.
4. أبين أهمية المنتج الفلاحي والصيد البحري بنيجيريا من حيث الكم والنوع.

الوثيقة 3 : خريطة (مصادر الطاقة والمعادن بنيجيريا)



الوثيقة 4 : جدول (بعض الموارد الطبيعية في نيجيريا 2012)

الترتبة عالميا	الكمية	المواد
8	100,637	إنتاج الخشب (مليون m^3)
-	0,510	إنتاج الفحم الحجري (مليون t)
8	5250,0	احتياطي الغاز الطبيعي (مليار m^3)
23	24,9	إنتاج الغاز الطبيعي (مليون m^3)
10	5000,0	احتياطي البترول (مليون t)
13	99,1	إنتاج البترول (مليون t)

الأسئلة

1. أحدد موضوع كل وثيقة على حدة.
2. أحدد أهم الموارد الطبيعية التي تزخر بها أراضي نيجيريا.
3. أصف توزيع مصادر الطاقة والمعادن بنيجيريا.
4. أرصد أهمية البترول والغاز الطبيعي بنيجيريا.
5. أستنتج الدور الذي يمكن أن تلعبه هذه الموارد الطبيعية في تنمية اقتصاد نيجيريا ومجتمعها.

2-3/ ملخص الدرس

الفلاحة والصيد البحري

تشغل الفلاحة بنيجيريا 70% من السكان النشطين بفضل توفر نسبة مهمة من الأراضي الصالحة للزراعة (35% من المساحة الإجمالية للأراضي الفلاحية)، وتتميز المنتجات الفلاحية النيجيرية بالتنوع مرتبطة بالمناخ المداري الحار والرطب، ويغلب عليها المزروعات المعيشية خاصة الحبوب، ثم تليها المزروعات التسويقية كالكافو (الرتبة الرابعة عالميا)، والفول السوداني (الرتبة الرابعة عالميا)، والقطن (الرتبة 16 عالميا)، وتعرف تطورا مستمرا رغم المشاكل التي تواجهها، كما تتوفر نيجيريا على قطاع مهم من الماشية، إذ تحتل الرتبة السادسة عالميا من حيث تربية الماعز، والرتبة 17 بالنسبة للأبقار، كما أن الصيد البحري يحتل مكانة مهمة ضمن الاقتصاد النيجيري مستفيدا من انفتاح البلاد على المحيط الأطلنطي، إذ تتميز السواحل النيجيرية بغنى ثرواتها السمكية الهائلة التي تساهم في إنعاش قطاع الصيد البحري بنوعيه التقليدي والعصري.

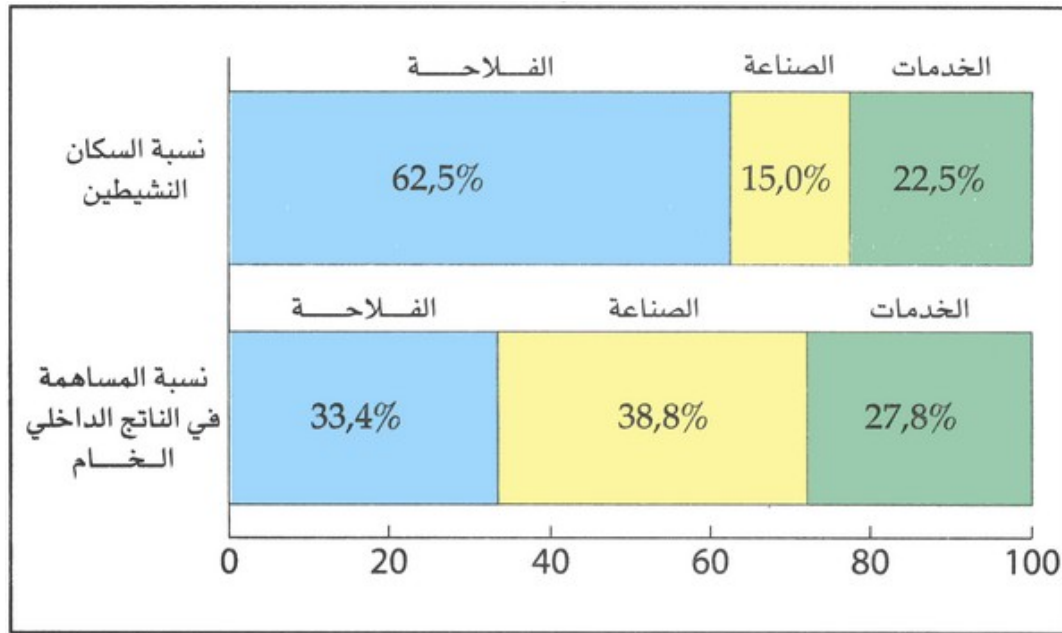
مصادر الطاقة والمعادن

تتوفر نيجيريا على ثروات طاقية مهمة، وتعتبر أول منتج للبترول بالقارة الإفريقية، والسابعة عالميا، كما تنتج كميات مهمة من الغاز الطبيعي (المرتبة التاسعة عالميا)، تنتشر حقول البترول والغاز بالجنوب وحول دلتا نهر النيجر، كما تتوفر على مجموعة من المحطات الكهرومائية والكهروحرارية، وتزداد مدخرات البلاد من هذه الثروات بفضل الاكتشافات المستمرة، حيث تحتل الرتبة 7 عالميا في مدخرات البترول، أن كما المواد الطاقية تشكل 95.5% من صادراتها، كما تزخر الأراضي النيجيرية بثروات معدنية مهمة، بحيث نجد الحديد في منطقة "بارو" والفحم في منطقة "موبي" بالشرق والزنك في منطقة "انوجو" بالجنوب، يصدر أغلبها خاما إلى الخارج نظرا لضعف النشاط الصناعي الذي لا يشغل سوى 10% من السكان النشطين.

IV- بنية اقتصاد نيجيريا ومميزاته العامة

4-1/ الأنشطة

الوثيقة 1 : مبيان (مساهمة القطاعات الاقتصادية في الناتج الداخلي الخام وفي التشغيل بنيجيريا (2012)



1. أصف كيفية توزيع السكان النشيطين حسب القطاعات الاقتصادية بنيجيريا.
2. أحدد نسبة مساهمة كل قطاع على حدة في الناتج الداخلي الخام.
3. أقارن بين القطاعات، وأستنتج خصائص البنية العامة لاقتصاد نيجيريا.

الوثيقة 2 : خريطة (اقتصاد نيجيريا)

القيمة بمليار \$	(%)	المواد	
71,9	88	بتترول وغاز ومعادن	الصادرات
4,3	5	منتجات فلاحية وغذائية	
5,8	7	منتجات مصنعة استهلاكية وتجهيزية	
82,0	100	قيمة مجموع الصادرات	
4,88	2	بتترول وغاز ومعادن	الواردات
1,07	11	منتجات فلاحية وغذائية	
38,3	87	منتجات مصنعة استهلاكية وتجهيزية	
44,2	100	قيمة مجموع الواردات	

الأسئلة

1. أستيرج المؤهلات الأساسية للقطاع الصناعي بنيجيريا.
2. أصف بنية الصناعة بنيجيريا، وأفسر خصائصها.
3. أصف بنية كل من الصادرات والواردات، وأستخلص وضعية الميزان التجاري الخارجي في نيجيريا.

2-4/ ملخص الدرس

الفلاحة

تستفيد نيجيريا من وفرة الأراضي الزراعية (78.4% من المساحة العامة) وكثرة التساقطات والمجاري المائية، وبذلك يتنوع الإنتاج الفلاحي بين المنتجات الزراعية والحيوانية، وأصبحت نيجيريا تحتل المرتبة الرابعة عالميا في إنتاج الفول السوداني، والمرتبة 15 في الذرة والأرز والمرتبة 12 في الأغنام.

الصناعة

تتوفر نيجيريا على ثروات طبيعية مهمة إذ تحتل المرتبة 7 عالميا في احتياطي البترول والمرتبة 9 في احتياطي الغاز الطبيعي، إضافة إلى الفحم الحجري والحديد والفوسفات، وبذلك يتنوع الإنتاج الصناعي بين الصناعات النفطية وإنتاج الحديد والفوسفات.

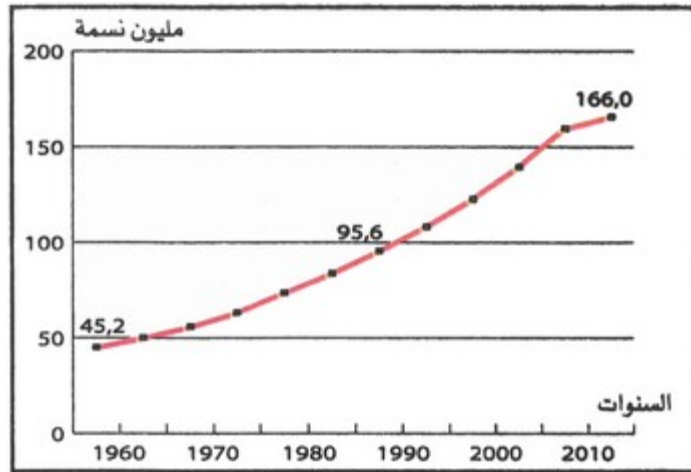
التجارة الخارجية

بلغت قيمة الصادرات 82 مليار دولار سنة 2003 ويغطي البترول والغاز الطبيعي نسبة 95% منها، في حين بلغت قيمة الواردات 44.2 مليار دولار.

V- مؤشرات الضعف التنموي بنيجيريا

1-5/ الأنشطة

الوثيقة 1 : مبيان (تطور عدد سكان نيجيريا)



الوثيقة 2 : جدول (بعض الخصائص الديموغرافية لسكان نيجيريا 2012)

البنية العمرية (%)			نسبة التزايد الطبيعي (%)	نسبة الوفيات (‰)	نسبة الولادات (‰)	الكثافة السكانية (hab/Km ²)	عدد السكان (مليون hab)
أقل من 15 سنة	15-64 سنة	65 سنة فأكثر					
42,6	54,3	3,2	2,54	13,2	38,7	188,0	166,6

الأسئلة

1. أصف تطور عدد سكان نيجيريا، وأستنتج وتيرة تزايدهم.
2. أقرن بين نسبتي الولادات والوفيات، وأستنتج مميزات الوضع السكاني بنيجيريا.
3. أحدد خصائص البنية العمرية بهذا البلد، وأستنتج أثرها الاقتصادي.

الوثيقة 3 : جدول (مؤشرات التنمية البشرية بنيجيريا)

البلد	أمل الحياة	نصيب الفرد من الدخل القومي (بالدولار)	متوسط سنوات الدراسة	مؤشر التنمية البشرية	الرتبة العالمية
نيجيريا	51,9	1 330	5,2	0,471	153
اليابان	84,19	46 210	11,6	0,912	10
فرنسا	81,7	41 250	10,6	0,893	20
مصر	73,2	2 730	16,4	0,662	112
المغرب	72,4	4,38	4,4	0,591	130
العالم	70,1	7,5	10,184	0,694	-

1. أحدد موضوع الجدول.
2. أصف مؤشرات التنمية البشرية بنيجيريا، وأقارنها بالدول الواردة في الجدول.

2-5/ ملخص الدرس

تعرف مؤشرات التنمية ضعفا كبيرا في بلد غني كنيجيريا، يتضح ذلك من خلال أمد الحياة (حوالي 52 سنة)، والناتج الداخلي الخام لكل نسمة (860) اللذان يظان أقل بكثير من المعدل العالمي، فضلا عن نسبة التمدد التي تقل عن 70%، كما يعرف هذا البلد ضعفا كبيرا في الخدمات الأساسية كالصحة، حيث نجد 27 طبيبا فقط لكل

100 ألف نسمة، كما أن 54% فقط من الساكنة النيجيرية هي التي تتوفر على تجهيزات صحية في بلد يعرف نموا سكانيًا مرتفعًا تصل نسبته إلى 4% سنويًا، إذ يبلغ عدد السكان حوالي 166 مليون نسمة، مع كثافة سكانية عالية، مما أدى إلى استمرار انتشار الأمراض الخطيرة كالمالاريا (30 مصاب لكل 100 ألف نسمة)، كما أن 36% من الأطفال يعانون من نقص في الوزن، فضلا عن ارتفاع معدلات الفقر، بحيث أكثر من 90.8% من سكان نيجيريا يعيشون تحت عتبة الفقر، مما يجعل نيجيريا تحتل المرتبة 152 عالميا في مؤشر التنمية البشرية.

VI- أسباب الضعف التنموي بنيجيريا

1-6/ الأنشطة

الوثيقة 1 : خطاطة



1. أحد موضوع الخطاطة.
2. أستخرج الأسباب المساهمة في الضعف التنموي بنيجيريا.
3. أكتب فقرة عن دور كل عامل على حدة في الضعف التنموي بنيجيريا.

2-6/ ملخص الدرس

من أسباب الضعف التنموي بنيجيريا، هناك:

- أسباب سكانية: حيث تعرف البلاد انفجارا ديمغرافيا سريعا، مما جعل النمو الاقتصادي لا يساير التزايد السكاني.
- أسباب اقتصادية: بسبب ارتفاع حجم الديون الخارجية، وهيمنة الشركات الأجنبية على قطاع النفط والفلاحة العصرية.
- أسباب سياسية/إدارية: كعدم الاستقرار السياسي، وتفشي الفساد وغياب الديمقراطية.

VII- الإجراءات المتخذة لمواجهة الضعف التنموي

1-7/ الأنشطة

الوثيقة 1 : نص

«قال الرئيس النيجيري "مُؤدّلاك جُونَانَان" إن حُكُومَةَ بِلَادِهِ نَجَحَتْ فِي تَحْقِيقِ الْكَثِيرِ مِنَ الْإِنْجَازَاتِ الْاِقْتِصَادِيَّةِ فِي عَامِ 2013م رَغْمَ التَّحَدِّياتِ الَّتِي وَاجَهَتْهَا، وَخَاصَّةً الْأُمْنِيَّةِ مِنْهَا. وَأكَّدَ أَنَّ الْإِنْجَازَاتِ الَّتِي أَتَتْ فِي إِطَارِ بَرْنَامِجِهِ الْاِتِّخَايِي لِعَامِ 2011م، تَمَّتْ فِي قِطَاعَاتِ الْكَهْرَبَاءِ وَالْبِنْيَةِ التَّخْنِيَّةِ وَالزَّرَاعَةِ وَالتَّعْلِيمِ وَالتَّشْغِيلِ، مُعْرِباً عَنْ أَمَلِهِ فِي أَنْ يَشْهَدَ الْعَامُ الْجَدِيدُ الْمَزِيدَ مِنَ الْإِنْجَازَاتِ. كَمَا أَنَّ حُكُومَتَهُ تَمَكَّنَتْ مِنْ تَوْفِيرِ أَكْثَرِ مِنْ مِلْيُونٍ وَنِصْفِ الْمَلْيُونِ وَطِيفَةٍ فِي عَامِ 2013م، وَلَكِنَّهُ أَكَّدَ، فِي نَفْسِ الْوَقْتِ، أَنَّ مُشْكِلَةَ الْبِطَالَةِ لَمْ تُحَلَّ بَعْدَ وَفِي حَاجَةٍ إِلَى الْكَثِيرِ مِنَ الْجُهِودِ، وَخَاصَّةً فِي قِطَاعِ الزَّرَاعَةِ وَالصَّنَاعَاتِ الْمُرْتَبِطَةِ بِهَا لِتَشْغِيلِ الشَّبَابِ».

1. أحدد موضوع النص.

2. أسمى الإنجازات التي حققتها الحكومة النيجيرية.

3. أستخرج المشكل الذي لا زال يشكل تحديا للحكومة النيجيرية.

الوثيقة 2 : جدول بعض المؤشرات الاقتصادية لنيجيريا (بالمليار دولار ما عدا الناتج الوطني الخام لكل نسمة بالدولار)

نوع المؤشر	السنوات	2009	2010	2011	2012م
الناتج الوطني الخام (العام)		168,59	196,84	238,92	273,04
الناتج الوطني لكل نسمة		1160	1170	1200	1330
الدين الخارجي الخام		7,713	7,883	7,997	8,235

1. أحدد موضوع الجدول.

2. أسمى المؤشرات المتضمنة في الجدول، وأصف تطورها بين 2009 و2012م.

7-2/ ملخص الدرس

اتخذت الحكومة النيجيرية عدة إجراءات تقنية لمواجهة الضعف التنموي بالبلاد، حيث عملت على الرفع من قيمة العملة المحلية، وسنت سياسة الشفافية في القطاع الاقتصادي، كما مولت صندوق للموازنة لدعم المواد الأولية الاستهلاكية من فائض عائدات البترول، وخصم 1% من مداخيل الفيدراليات وذلك للتخفيف من حدة الفقر، كما أنها تعمل لكن ببطء على تعميم التعليم والخدمات الصحية، وتزويد مختلف المناطق بالماء الصالح للشرب.

II-X - خاتمة

رغم ثرواتها الطاقية المهمة والمجهودات المبذولة من طرف الحكومة، ما زالت نيجيريا تعاني من ضعف مؤشر التنمية البشرية.

IX - تقويم التعلمات

1. أرسم إطارا لخريطة نيجيريا، ثم أوطن عليه أهم الموارد الطبيعية التي يزخر بها هذا البلد.
2. أكتب فقرة أصف فيها الوضعية الاجتماعية لسكان نيجيريا، وأبين فيها أسباب ضعف استفادتهم من ثروات بلادهم.
3. أقرن بين المؤهلات الطبيعية لكل من مصر ونيجيريا ومستوى التنمية البشرية بهما، وأبدي موقفي مما استنتجته.