



التاريخ والجغرافيا - الثانية باك آداب وعلوم إنسانية

درس الجغرافيا 2-3
اليابان (قوة تجارية كبرى)

الأستاذ: حسن شداوي

الفهرس

I- أهداف التعلم

II- تقديم

III- مظاهر القوة التجارية لليابان ومكانتها العالمية

IV- العوامل المفسرة للقوة التجارية اليابانية

1-4/ العوامل الجغرافية والخدماتية

2-4/ العوامل التنظيمية والبشرية

3-4/ القوة الصناعية أهم أسس القوة التجارية

V- المشاكل والتحديات التي تواجه الاقتصاد الياباني

VI- مصطلحات ومفاهيم

VII- تقويم التعلّات

I- أهداف التعلم

1. أرصد المؤشرات الدالة على تفوق التجارة اليابانية.

2. أدرك طبيعة المشاكل والتحديات التي تواجه الاقتصاد الياباني.

3. أنمي قدرتي على توظيف النهج ووسائل التعبير الجغرافي.

4. أدرك أهمية تأهيل الموارد البشرية في تجاوز المعوقات الطبيعية.

II- تقديم

اليابان عبارة عن أرخبيل يمتد على شكل قوس شرق آسيا، تبلغ مساحته 378000 كلم مربعا، ويسكنه حوالي 127,9 مليون نسمة، ويشكل قوة تجارية كبرى على الصعيد العالمي وذلك بفضل ما يتوفر عليه من مؤهلات بشرية وتنظيمية جيدة، ومع ذلك فالبلاد لا تخلو من مشاكل اقتصادية وبيئية واجتماعية.

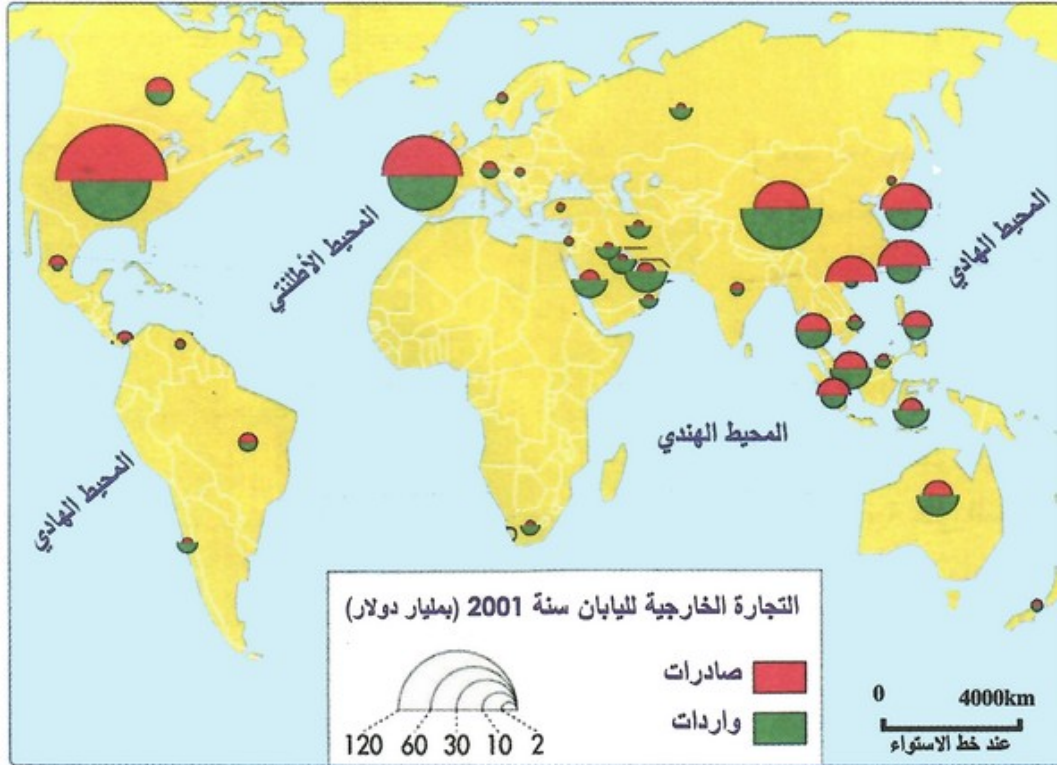
• فما هي مظاهر القوة التجارية لليابان على الصعيد الدولي؟

- وما هي العوامل المفسرة لها؟
- وما هي المشاكل التي تواجهها؟

III- مظاهر القوة التجارية لليابان ومكانتها العالمية

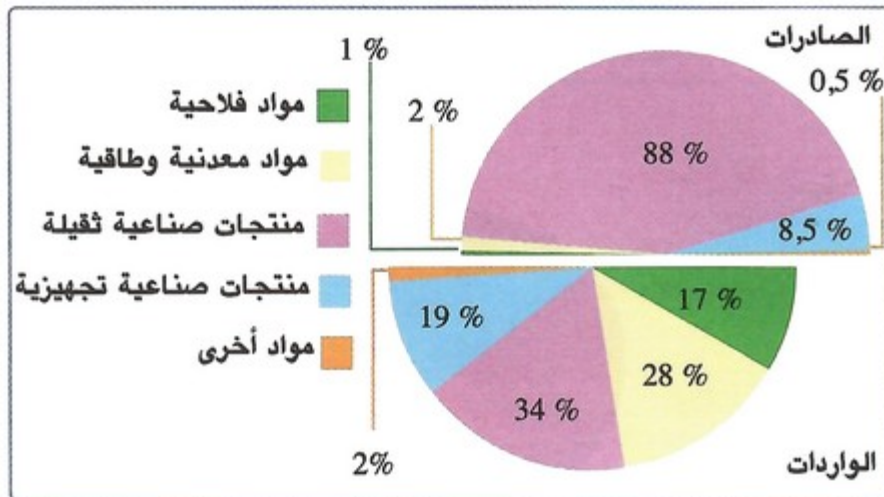
الأنشطة

الوثيقة 1 : التوزيع الجغرافي للمبادلات التجارية اليابانية (2001)



1. أحد المجال الجغرافي لتوزيع المبادلات التجارية اليابانية.

الوثيقة 2 : بنية المبادلات التجارية الخارجية لليابان (2002)



1. أصف بنية الصادرات والواردات اليابانية.

2. أستخلص العوامل التي تتحكم في تحديد بنية المبادلات الخارجية وتوزيعها الجغرافي.

الوثيقة 3 : حركة الرواج التجاري بأهم الموانئ اليابانية (2004)

المرتبة عالميا	كمية الرواج (بملايين الأطنان)	الميناء
6°	158	شييا
7°	152	ناكويا
16°	116	يوكوهاما
18°	101	كوزاكي
20°	95	أوساكا
25°	86	كيثاكيوشو
26°	85	كوبي
27°	84	طوكيو

1. أتبين دور الموانئ اليابانية في الرواج التجاري العالمي.

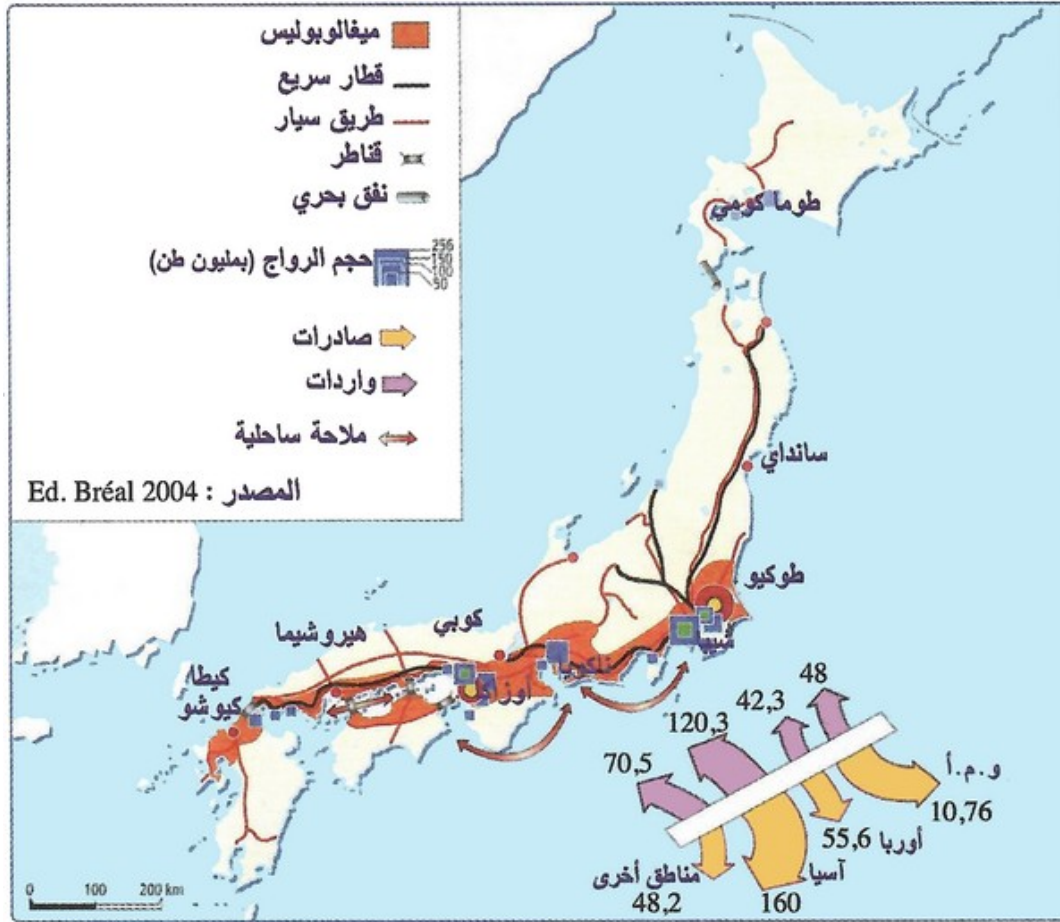
الوثيقة 4 : أهم الأساطيل التجارية بالعالم (2003)

% من الأسطول العالمي	مجموع الوحدات	تحت لواء علم		الدولة
		أجنبي	وطني	
18,4%	148906	10400	44 906	اليونان
12,8%	103166	89805	13361	اليابان
7%	56487	30484	26003	النرويج
5,3%	42735	20788	21947	الصين
5,1%	41587	29409	12178	الولايات المتحدة
5%	40726	33158	7568	ألمانيا
4,6%	37573	24605	12968	هونغ كونغ
3,2%	25577	16749	8828	كوريا الجنوبية
2,8%	22475	16075	6400	تايوان
2,4%	19139	6563	12576	سنغافورة

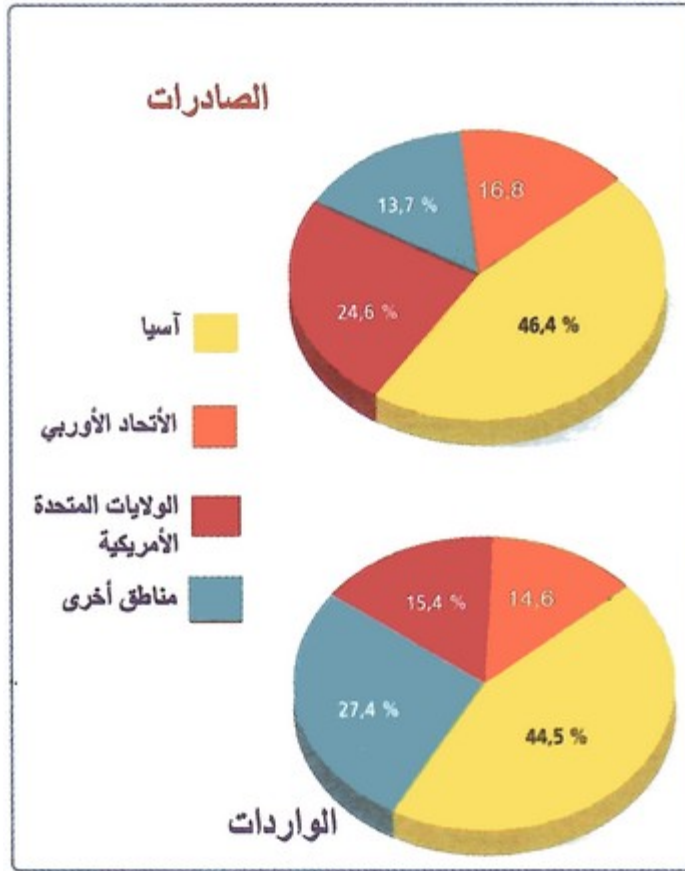
1. أستخرج مكانة الأسطول التجاري الياباني على الصعيد العالم، وحجم التجهيزات بالموانئ اليابانية.

2. أستخلص دور ذلك في تعزيز المكانة التجارية لليابان على الصعيد العالمي.

الوثيقة 5 : تيارات تبادل التجارة اليابانية

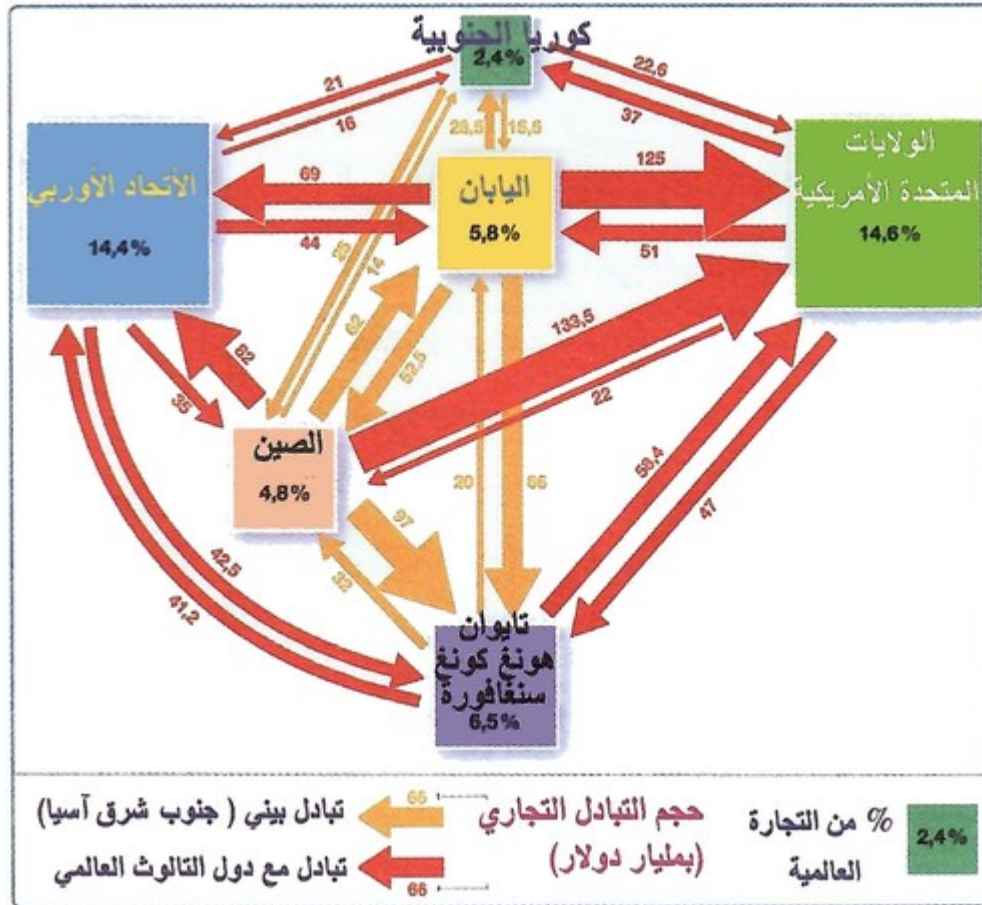


1. أستخرج خصائص التوزيع الجغرافي للموانئ اليابانية.
 الوثيقة 6 : الشركاء التجاريون لليابان (2003)



1. أحدد الشركاء التجاريين لليابان، ثم أرتبهم حسب حجم مبادلاتهم التجارية مع اليابان.
2. أستخلص الدور الذي يلعبه اليابان في مجال التجارة العالمية.

الوثيقة 7 : محور المبادلات التجارية العالمية



1. أستخرج أهم الشركاء التجاريين لليابان على الصعيد الجهوي.
 2. أرتب حجم فائض الميزان التجاري.
 3. أستخلص المكانة التي يمثلها اليابان في محور المبادلات التجارية العالمية.
- الوثيقة 8 : توزيع استثمارات اليابان المباشرة بالخارج (2002)

المناطق	حجم الاستثمارات (بمليون دولار)	% من إجمالي الاستثمارات
آسيا	8177	25,3 %
أمريكا الشمالية	8649	26,8 %
أمريكا اللاتينية	4072	12,6 %
الاتحاد الأوروبي	9764	30,2 %
باقي المناطق	1639	5,1 %

1. أحدد المناطق التي تتركز بها الاستثمارات اليابانية؛ ثم أعلل ذلك.

ملخص الدرس

تتجلى مكانة اليابان العالمية في هيمنتها القوية على بلدان جنوب شرق آسيا ومنافسة منتجاتها على الصعيد العالمي، وتقديمها لمساعدات مالية لمجموعة من المناطق في العالم، ومن أبرز المؤشرات الدالة على ذلك نذكر ما يلي:

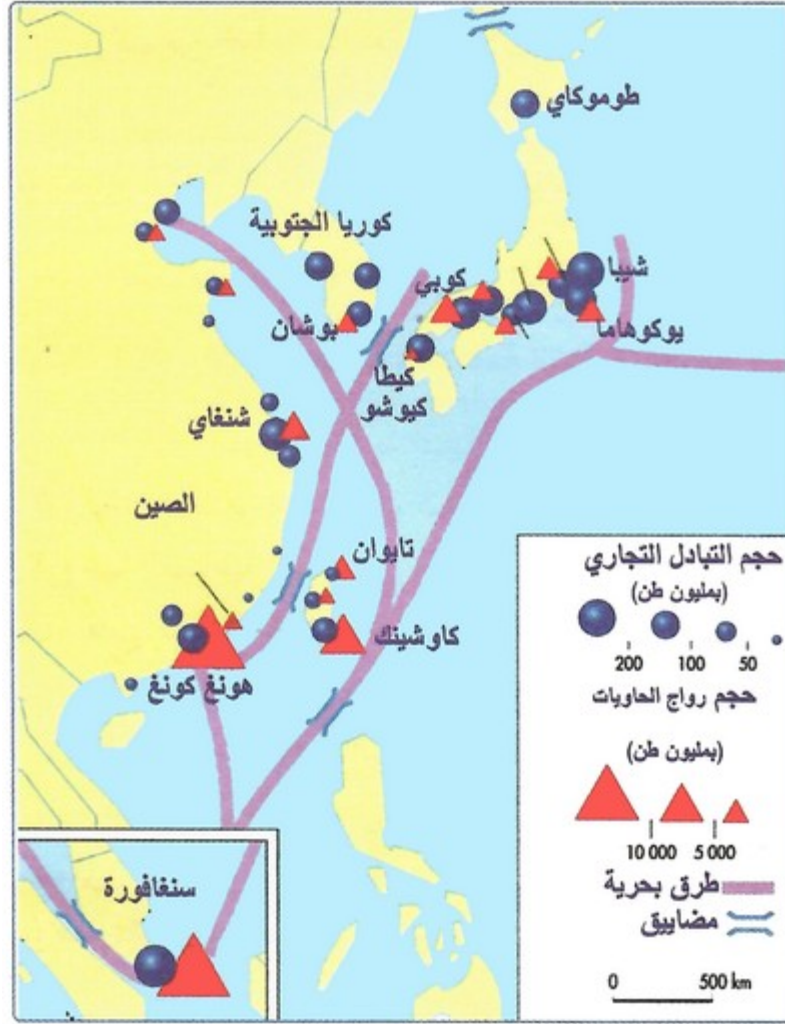
- احتلالها للمرتبة الثالثة من حيث قيمة الناتج الإجمالي الداخلي الخام بما يعادل 5150 مليار دولار ضمن الأقطاب الثلاثة المهيمنة على الاقتصاد العالمي.
- مساهمتها في التجارة الدولية: فهي القوة الاقتصادية الرابعة عالمياً، حيث تساهم بنسبة 10,5% من الصادرات، و8,9% من الواردات.
- تعدد شركائها التجاريين: حيث تتعامل مع كل المجموعات الاقتصادية العالمية، وفي مقدمتها رابطة دول جنوب شرق آسيا وأمريكا الشمالية والاتحاد الأوروبي، حيث يحقق ميزانها التجاري فائضاً لصالحه، فيما يسجل عجزاً واضحاً مع الصين والشرق الأوسط.
- بنية تجارية قوية: تمثل فيها المواد الصناعية نسبة كبيرة 91,9% من الصادرات، أما الواردات فتتكون أساساً من محروقات و مواد معدنية بنسبة 31,9% والمواد الفلاحية 12,8%، وهو ما جعل ميزانها التجاري يحقق فائضاً يقدر ب 80 مليار دولار سنة 2006م.
- اتساع مجال استثماراتها في الخارج حيث بلغت مثلاً نسبة 44% في أمريكا الشمالية و19% في الاتحاد الأوروبي و17% في الصين.

IV- العوامل المفسرة للقوة التجارية اليابانية

4-1/ العوامل الجغرافية والخدماتية

الأنشطة

الوثيقة 1 : اليابان حضور اقتصادي فاعل بجنوب شرق آسيا



1. أستخرج المقومات المساعدة على ازدهار المبادلات التجارية بين اليابان وباقي دول جنوب شرق آسيا.
2. أستخلص المؤهلات الاقتصادية التي تساهم في دعم قوة التجارة اليابانية على الصعيد العالمي والجهوي.

الوثيقة 2 : التوسع على حساب البحر

فرض النمو الاقتصادي السريع لليابان التوسع على حساب البحر لتعويض النقص في المجال الضروري للتوسع الصناعي والحضري، وقد تم اكتساح حوالي 1100 كلمتر مربع من الأراضي الجديدة على حساب البحر ما بين 1945 و1980... وإلى حدود سنة 1973 ظلت الأراضي مخصصة أساسا لتوطين الصناعات الثقيلة... قبل أن تتم مراجعة القوانين، ليصبح بالإمكان منذ سنة 1980، تخصيص جزء منها لخلق وظائف حضرية : مد شبكة المواصلات وإنشاء مركبات سكنية..."

1. أصف تنظيم المجال الصناعي باليابان.
2. أفسر دوافع اللجوء إلى اكتساح أراضي جديدة على حساب البحر.
3. أوضح أهمية هذا التنظيم المجالي في تعزيز الاقتصاد الياباني بصفة عامة؛ والنشاط التجاري بصفة خاصة.

الوثيقة 3 : اليابان اقتصاد منفتح على البحر

تعد الموانئ اليابانية من ضمن أكبر الموانئ تجهيزا وتطورا في العالم، وتتميز في الغالب بتعدد وظائفها...
تتجسد كثافة النشاط المينائي باليابان في ارتفاع عدد الموانئ (أزيد من ألف ميناء)، تحتكر أربعة موانئ منها حوالي ثلاثة أرباع الرواج التجاري.
ويضم خليج طوكيو أربعة مركبات مينائية تمتد على مسافة 12 Km ، وتوفر حوالي 500 km من مراكز تخزين البضائع..."

1. أستخرج المؤشرات التي تعبر عن كثافة الأنشطة المينائية باليابان، ثم أستنتج العوامل المساعدة على ذلك.

ملخص الدرس

- الاستفادة من موقع البلاد في شرق آسيا.
- انفتاحها على العالم من خلال مجموعة من المحيطات والبحار (المحيط الهادي، وبحر اليابان، وبحر الصين).
- مجاورتها لأكبر تجمع سكاني في العالم (آسيا).
- التوسع على حساب البحر.
- التوفر على موانئ كبرى تتركز على امتداد الساحلين الجنوبي والشرقي (طوكيو، يوكوهاما، ناكويا، كوبي).

2-4/ العوامل التنظيمية والبشرية

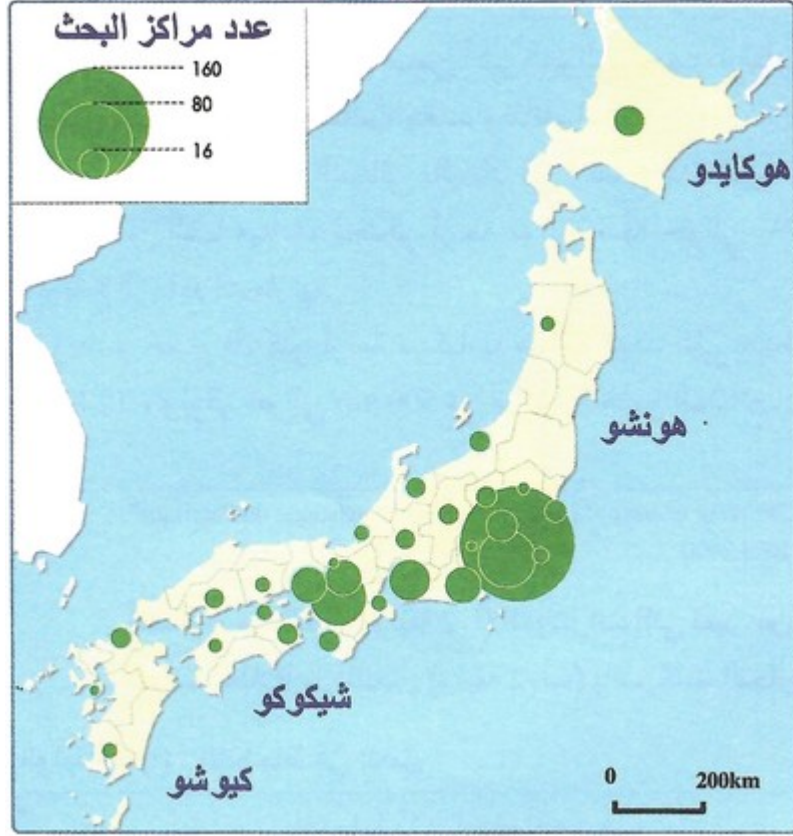
الأنشطة

الوثيقة 1 : المجمع التكنولوجي تسوكوبا ضواحي طوكيو



1. أعرف بمجمع تسوكوبا التكنولوجي.

الوثيقة 2 : توزيع مراكز البحث العلمي باليابان



1. أصف التوزيع الجغرافي لمراكز البحث العلمي باليابان ، ثم أعلل ذلك.
2. أوضح دور مراكز البحث العلمي في نمو القطاعات الإنتاجية وازدهار التجارة اليابانية.

الوثيقة 3 : الانضباط في العمل

"يولي اليابانيون اهتماما كبيرا بعملهم، فهم يشتغلون حتى وقت متأخر، ويضاعفون الساعات الإضافية، ولا يتمتعون إلا بفترات قصيرة من العطل فحسب الإحصائيات الرسمية، يشتغل العمال بالقطاع الصناعي في المتوسط حوالي 1983 ساعة في السنة أي ما يعادل 39 ساعة في الأسبوع... وتساهم المؤسسات الصناعية في تعزيز هذا الانضباط للعمل بسن حوافز تشجيعية عن طريق المكافآت، وإتاحة فرص الترقى وتحسين المعلومات المهنية بواسطة برامج التكوين...".

1. أستخرج مظاهر الانضباط للعمل باليابان، ثم أوضح العوامل المشجعة على ذلك.

الوثيقة 4 : تمارين رياضية ليث الروح الجماعية



1. أصف الأسباب التي يتم اللجوء إليها داخل المؤسسات اليابانية لبث الروح الجماعية بين صفوف العمال.
2. أستخلص أهمية الانضباط والروح الجماعية في تدعيم قوة اليابان الاقتصادية وتعزيز قدرته التنافسية بالأسواق العالمية.

الوثيقة 5 : الشركات التجارية الكبرى (سوكوسوشا)

تدير السوكوسوشا سدس المبادلات العالمية، وتشكل قوة مهيكلة للأسواق، ومؤهلا رئيسيا لليابان في المنافسة التجارية... وتعود قدرة السوكوسوشا على تدبير المبادلات إلى رؤيتها الشمولية للسوق، فهي " أبراج حقيقية للمراقبة". تتوفر على شبكة عالمية للمعلومات شبيهة بمصالح المخابرات الأمريكية. وهي تستطيع في نفس الوقت اكتشاف الأسواق، واختيار وسائل الإنتاج الأكثر ملائمة، وتقدير التمويل والمواد الأولية، وتصريف المنتجات.."

1. أعرف بالشركات التجارية الكبرى ودورها في تنظيم التجارة الخارجية لليابان.

ملخص الدرس

- اعتماد نظام رأسمالي يخول للدولة والمقاولات العمل على تطوير الاقتصاد، ويتضح ذلك من خلال:
- دور الدولة: تقديم المساعدات والمعلومات للمقاولات، تشجيع البحث العلمي من أجل تنمية الصناعة والتجارة (تخصيص 3% من الناتج الوطني الإجمالي للبحث العلمي)، لكي تتكيف المقاولات مع التطورات التي يعرفها القطاعين، تشجيع التصدير.
 - دور السوكوسوشا: وهي مؤسسات كبرى تشرف على كل مراحل الدورة الاقتصادية، بدأ من توفير المواد الأولية ومنح القروض للمقاولات، وتصنيع المواد، وتسويق المنتجات الصناعية، والبحث عن المعلومات المتعلقة بالأسواق والمستجدات التقنية.
 - دور السكان: تتوفر على كثافة سكانية مهمة 127,9 مليون نسمة، تمثل فيها الفئة القادرة على العمل 66,7%، يشغل منها 69,6% في القطاع الثالث، إضافة إلى ما يميزها من خصال الانضباط والتأهيل وحب العمل والتفاني فيه.

3-4/ القوة الصناعية أهم أسس القوة التجارية

الأنشطة

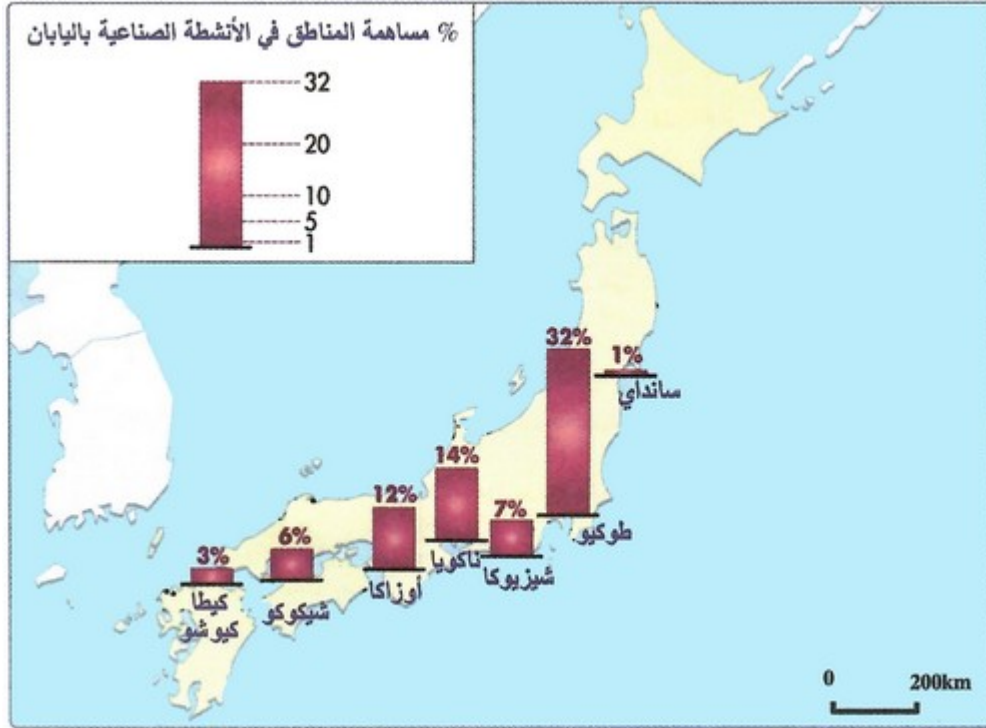
الوثيقة 1 : الأنشطة الصناعية دعامة للتجارة اليابانية

" تركز القوة التجارية لليابان على القاعدة الصناعية... فالصناعة اليابانية التي تعتمد بشكل أساسي على استيراد المواد الأولية، وتصدير المنتجات المصنعة ونصف المصنعة، تطورت بشكل كبير من حيث نوعية أنشطتها الإنتاجية و إعادة توظيف فروعها الصناعية بالخارج.

ففي الوقت الذي تراجعت فيه القيمة الإنتاجية ما بين 1980 و 1996 لكل من قطاع الصناعة الكيماوية (من 15,5% إلى 11%) وصناعة الصلب (من 17,1% إلى 12,3%) وصناعة النسيج (من 5,2% إلى 3%)، تعززت إنتاجية صناعة السيارات والصناعة الإلكترونية (من 31,8% إلى 44,1%).

وشكل الميغالوبوليس المنتشر على طول السواحل الجنوبية للمحيط الهادي محورا أساسيا لتمرکز الأنشطة الثقيلة، إذ تتوالى على طول المركبات الحرارية، ومصافي البترول ومعامل التكرير والصناعة البتروكيماوية، وأنوية الصناعة التحويلية وصناعة السيارات..."

الوثيقة 2: تركز الأنشطة الصناعية بالسواحل الجنوبية لليابان



الأسئلة

1. أستخرج من النص التحولات الطارئة على الأنشطة الصناعية باليابان.
2. أتبين من خلال الخريطة خصائص توزيع الأنشطة الصناعية باليابان.
3. أربط انطلاقا من الوثيقتين بين توزيع الأنشطة الصناعية وانتشار المرافق المينائية باليابان، ثم أستخلص من خلال ذلك العلاقة بين الأنشطة الصناعية والتجارية.

ملخص الدرس

- تترجم قوة النشاط التجاري لليابان في قوة صناعتها، ومن المؤشرات الدالة على ذلك ما يلي:
- تفوق صناعة السيارات والصناعة الالكترونية، حيث بنت عنهما اليابان جزءا كبيرا من قوتها الحالية، إذ اختارت السيارات كواحد من القطاعين ذوي الأولوية في سياستها الصناعية الوطنية بفضل إنتاجها المتطور الذي بلغ سنة 2005م أزيد من 10 ملايين وحدة (المرتبة الأولى عالميا)، إلى جانب الصناعة الالكترونية التي تفوقت على السيارات بفضل رقم معاملاتها وعدد مناصب الشغل التي توفرها.
- تركز المركبات الصناعية على السواحل الجنوبية للمحيط الهادي (طوكيو، يوكوهاما، ناكويما، أوزاكا كوبي)، والذي يشكل محورا أساسيا للأنشطة الصناعية الثقيلة من مركبات حرارية ومصافي للنفط ومعامل للتكرير

- والصناعة البيتروكيماوية وصناعة السيارات.
- احتلال الشركات اليابانية مراتب متقدمة في إنتاج السيارات كشركة طويوتا.
 - التوفر على أسطول تجاري يعد من بين أضخم الأساطيل العالمية بفضل استفادتها من التوسع على حساب البحر، ومن توفر البلاد على موانئ كبرى تتركز أساسا على طول الساحلين الجنوبي والشرقي.

V- المشاكل والتحديات التي تواجه الاقتصاد الياباني

الأنشطة

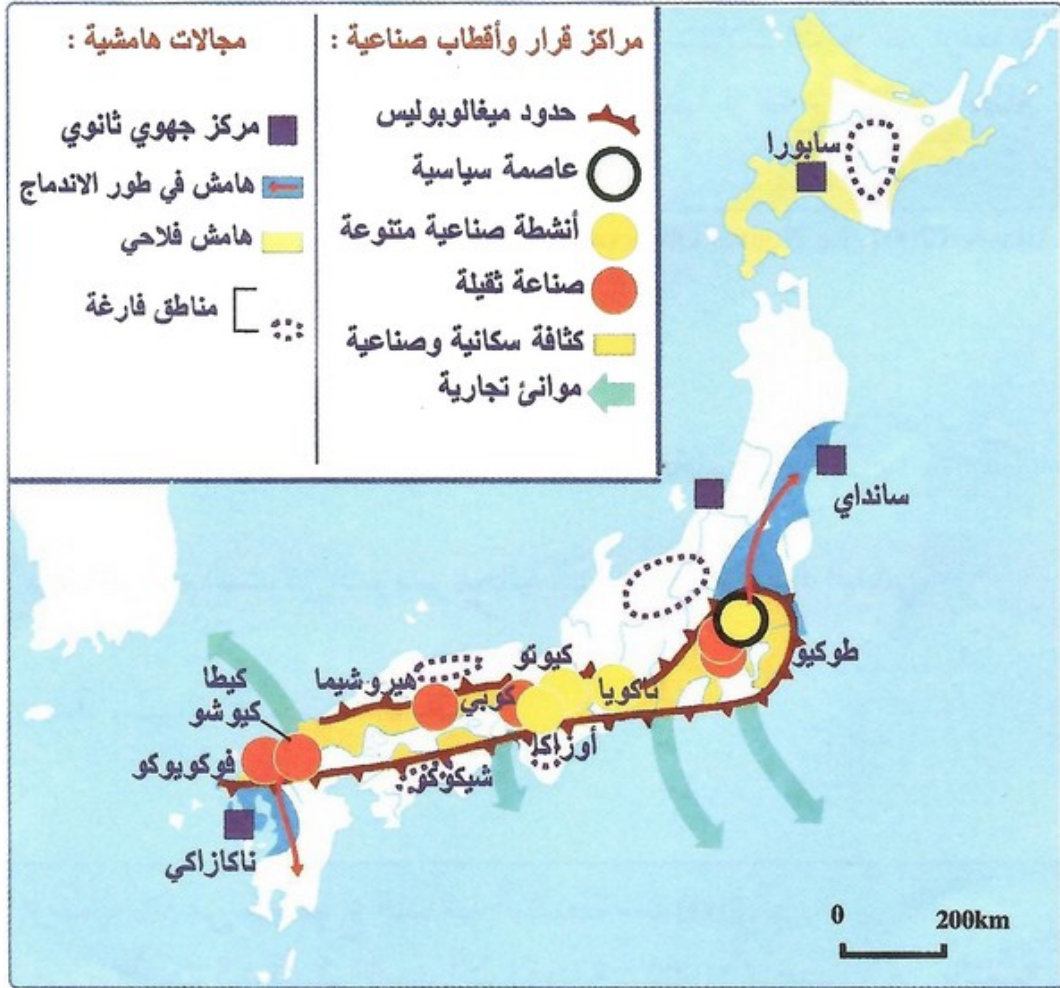
الوثيقة 1 : أخطار الزلازل باليابان

في 12 يوليوز 1993 ضرب خليج أوكشيري Okushiri غرب هوكايدو، زلزال عنيف بدرجة 7,8 على سلم ريشتير ، تلاه بعد أقل من 10 دقائق، غمر بحري، وقد بلغ حجم الخسائر البشرية 230 بين قتيل ومفقود....

اكتسحت الأمواج الناجمة عن تسونامي الجزيرة جارفة في طريقها جميع المنشآت العمرانية من منازل وطرق وقناطر ... تسببت في اندلاع حرائق بأنابيب الغاز وانتشارها بشكل سريع إلى المنازل المجاورة، مما أدى تدمير 60% من هذه البلدة..

1. أصف نوعية الأخطار الطبيعية التي يتعرض لها اليابان.
2. أتعرف من خلال النص حجم الخسائر الناتجة عن الزلازل باليابان.
3. أفسر في ضوء تعلماتي القبلية الأسباب التي تجعل من اليابان أرخبلا مهددا بالأخطار.

الوثيقة 2 : التباينات الجهوية باليابان



1. أصف مظاهر التباين الجهوي باليابان.
 2. أوضح انطلاقا من مكتسباتي السابقة أسباب هذا التباين الجهوي باليابان.
- الوثيقة 3 : التحولات الديمغرافية باليابان

تراجع سكان اليابان لأول مرة خلال سنة 2005، ويرتقب أن تشكل الفئات البالغة 65 سنة فأكثر، حوالي 30% من مجموع الساكنة اليابانية في أفق سنة 2010...
وتتحكم عدة عوامل في نقصان المواليد باليابان : تأخر سن الزواج، ارتفاع تكاليف السكن والتربية، تحرر المرأة وارتفاع نسبة الطلاق...
وإذا كانت شيخوخة المجتمع الياباني تساهم حاليا في دعم النمو الاقتصادي بسبب مستوى الاستهلاك الناتج عن ارتفاع القدرة الشرائية لهذه الفئات... فإنها بالمقابل تطرح العديد من المشاكل الاقتصادية، وفي مقدمتها ارتفاع تكاليف نظام الضمان الاجتماعي ورواتب التقاعد، مما يهدد الخزينة العامة.

1. أصف التحولات الديموغرافية المرتقبة في بنية الساكنة اليابانية.
2. أستخرج أسباب هذه التحولات الديموغرافية.
3. أستخلص انعكاس هذه التحولات الديموغرافية على حيوية الاقتصاد الياباني.

الوثيقة 4 : ارتفاع حجم البطالة

يعاني من البطالة حوالي 3,5 مليون ياباني ، أي ما يمثل رسميا 5% من مجموع الساكنة النشيطة سنة 2001...
وقد قررت العديد من المؤسسات الكبرى، إلغاء العديد من مناصب الشغل في السنوات القادمة : 21000 منصب شغل بالنسبة لشركة نيسان (أي حوالي 14% من مجموع عمالها)، و 21000 بالنسبة لشركة الاتصالات NTT، و 17000 بالنسبة لشركة سوني، و 15000 بالنسبة لشركة نيك NEC .

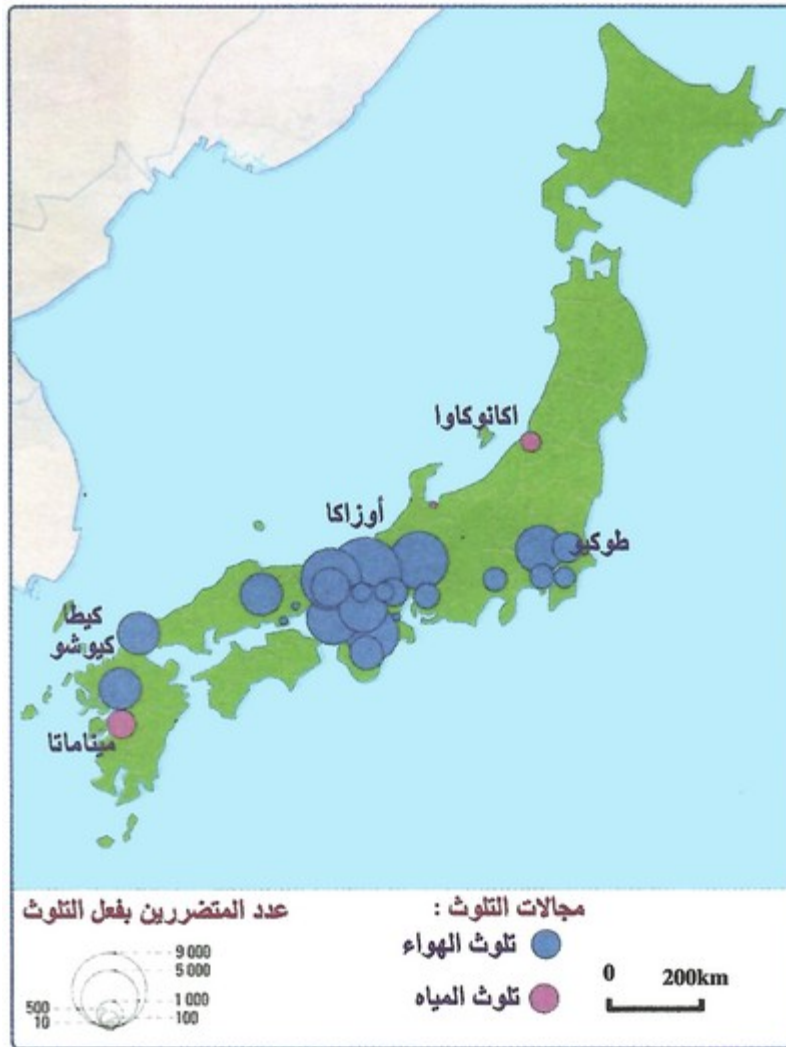
1. أستخرج من النص نوعية التحديات الاجتماعية المطروحة على اليابان، ثم أفسر
2. ذلك في ضوء تعلماتي المكتسبة من خلال المجزوءة الأولى.
3. أصف انعكاسات هذه التحديات على المجتمع الياباني.

الوثيقة 5 : تراجع وتيرة النمو الاقتصادي باليابان

عرف الاقتصاد الياباني نموا كبيرا خلال العشريتين الثلاث الأخيرة : 10% سنويا خلال الستينات، 5% سنويا خلال السبعينات، 4% سنويا خلال الثمانينات. ثم تناقصت وتيرة النمو خلال التسعينات بسبب الاستثمارات الضخمة خلال العشريتين التي سبقتها، و السياسة التقشفية التي انتهجتها الحكومة للتخلص من الفائض في الأسواق المالية والعقارية. لم تعرف هذه السياسة النجاح المنشود. وزاد الأمور سوءا الركود الذي عرفته اقتصاديات كل من الولايات المتحدة ثم بلدان آسيا في نفس الفترة. على المدى الطويل يشكل اكتضاض المدن، وشيخوخة المجتمع مشكلتان عويصتان. يعتقد البعض أن الآلية (الروبوتيك) هي الحل الأمثل لمثل هذه المشاكل، ويمتلك اليابان 410.000 روبو من بين 720.000، وهو مجموع الروبوتات الموجودة في العالم.

1. أصف وتيرة تطور الاقتصاد الياباني خلال العشريتين الثلاث الأخيرة من القرن العشرين.
2. أستخرج أسباب تراجع وتيرة نمو الاقتصاد الياباني خلال التسعينات.
3. أستخلص طبيعة الحلول التي يتم اللجوء إليها لمواجهة التحديات المطروحة على اليابان.

الوثيقة 6 : مظاهر التلوث باليابان



1. أستخرج المناطق اليابانية التي تعاني من حدة التلوث، ثم أفسر ذلك.

ملخص الدرس

الكوارث الطبيعية :

تعتبر اليابان من أكثر دول العالم عرضة للزلازل والبراكين، ولهذا اتخذت إجراءات تقنية للحد من خطورتها. يظل اليابان مهدداً بأمواج تسونامي.

المشاكل الاقتصادية :

ضعف الفلاحة اليابانية : تشكل الجبال الجزء الأكبر من مساحة اليابان، وبالتالي فالأراضي الزراعية تمثل نسبة ضعيفة مما أدى إلى نقص الإنتاج الفلاحي وجعل اليابان أول مستورد للمنتوجات الفلاحية والغذائية في العالم. الافتقار إلى مصادر الطاقة والمعادن باستثناء الكبريت، و بالتالي استيرادها بكميات كبيرة حيث يعد اليابان ثاني مستورد للبتروول في العالم بعد الولايات المتحدة الأمريكية.

المنافسة الأجنبية : بعد اندلاع الأزمة الاقتصادية العالمية الثانية (1973)، ارتفعت تكاليف الإنتاج وبالتالي أصبح اليابان يواجه منافسة أجنبية مما أدى إلى تراجع بعض الصناعات كالصناعة الكيماوية وصناعة الصلب وصناعة النسيج وبالتالي تناقص وتيرة النمو الاقتصادي الياباني.

التباين الجهوي : يتمركز النقل الاقتصادي في الشريط الساحلي الجنوبي الممتد من العاصمة طوكيو إلى مدينة ناكازاكي والمعروف باسم الميغالوبوليس أو الحزام الصناعي. في المقابل فحركة التصنيع خارج هذا النطاق ضعيفة حيث لا نجد سوى بعض المراكز الثانوية المنعزلة.

المشاكل الديموغرافية والاجتماعية والبيئية :

منذ منتصف القرن 20 انخفض معدل التكاثر الطبيعي في اليابان لعدة عوامل منها : تأخر سن الزواج، وارتفاع تكاليف السكن وتربية الأبناء، وارتفاع نسبة العزوبة والطلاق، وتحرر المرأة. وترتب عن ذلك ارتفاع نسبة الشيخوخة وأكثر من ذلك تراجع سكان اليابان لأول مرة سنة 2005. ولهذا يواجه اليابان تناقص اليد العاملة وارتفاع تكاليف الضمان الاجتماعي ورواتب التقاعد.

في ظل المنافسة الأجنبية تواجه الشركات اليابانية تضخم الإنتاج، وبالتالي تعمل على خلق توازن بين العرض والطلب. ويترتب عن ذلك تقليص فرص الشغل ولهذا تبلغ نسبة البطالة في اليابان 5% وهي نسبة ضعيفة مقارنة مع المستويات الدولية لكنها أكثر ارتفاعاً من النسب المسجلة في العقود السابقة.

أمام كثافة التصنيع، ترتفع نسبة الغازات الدفيئة وفي طليعتها غاز ثاني أكسيد الكربون. وبالتالي يعتبر اليابان من بين الدول المسؤولة عن ظاهرة الاحتباس الحراري. وفي نفس الوقت يشهد تلوث البيئة خاصة في المناطق الأكثر تصنيعاً.

VI- مصطلحات ومفاهيم

ين

العملة الرسمية لليابان.

سكان نشيطون

السكان في سن العمل المتراوحة ما بين 15 و65 سنة، والذين يمارسون نشاطاً مهنيًا، ويستثنى منهم ربات البيوت والطلبة والجنود والمعاقين.

قطاعات اقتصادية

القطاعات الإنتاجية والخدمات التي تستقطب النشيطين من السكان، وهي ثلاث قطاعات أساسية: الفلاحة والمعادن - الصناعة - التجارة والخدمات.

ملاحة السواحل

ملاحة بحرية على مسافات قصيرة بالقرب من الساحل، وبوحدات بحرية متواضعة الحجم.

ميزان تجاري

كشف بقيمة مجموع الصادرات والواردات لبلد ما، ويحقق الميزان التجاري فائضا عندما تزيد قيمة الصادرات عن قيمة الواردات.

الميفالوبوليس

تجمع حضري ضخم يتكون من عدة مدن كبرى متجاورة.

مجمع تسوكوبا التكنولوجي

مجمع يضم العديد من مراكز البحث العلمي، يوجد على بعد 60 بالشمال الشرقي من العاصمة طوكيو.

السوكوشا

شركات كبرى تتوفر على عدة شبكات تسهر على تنظيم التجارة اليابانية بالأسواق العالمية.

تسونامي

ظاهرة طبيعية ناتجة عن الزلازل التي تتكون بؤها بالمحيطات أو البحار، تحدث الهزة الأرضية تموجات تنتشر في كل الاتجاهات، وتتحول إلى أمواج عاتية يزيد ارتفاعها عن 20 إلى 30.

روبوتيك

علوم وتقنيات استعمال الإنسان الآلي، ويطلق هذا المصطلح أيضا على النشاط الصناعي الذي ينتج الإنسان الآلي.

VII- تقويم التعلّيمات

الوثيقة 1

« حققت اليابان ... فائضا تجاريا ... خاصة مع انخفاض قيمة الين (العملة اليابانية) وارتفاع الطلب الخارجي... فقد بلغت قيمة الصادرات اليابانية ... (فبراير 2013م) 65 مليار \$، في حين بلغت قيمة المستوردات 64.607 مليار \$، وبلغ الفائض التجاري 393 مليون \$... وعزي ارتفاع الصادرات إلى استفادة شركات التصدير من هبوط الين إلى أدنى مستوياته ... مقابل الدولار بعد التيسير النقدي المفاجئ من قبل البنك المركزي الياباني ... وكان لافتا ارتفاع الصادرات اليابانية الشهر المذكور (فبراير) إلى الولايات المتحدة بنسبة 11,9% عن مستواها في فبراير من العام الماضي (2012م)، وهي أكبر زيادة منذ ديسمبر 2010 م بدعم من ارتفاع صادرات السيارات بنسبة 26,9% »

الوثيقة 2

« ... اندفعت اليابان في طريق التجارة الخارجية وتكوين الأسواق إلى أقصى حد، وكانت الاستراتيجية الاقتصادية في ذلك هي قيام الحكومة بإنشاء وتحسين ما يسمى بالبنية الاقتصادية، أي إقامة الطرق ووسائل المواصلات الحديثة والموانئ والمطارات ووسائل الاتصال السلكية واللاسلكية، كما قامت بإنشاء عشرات الأسواق في كل مدينة وملكته للسكان. فكان أن اتسعت حركة التجارة الداخلية واندفع التقدم الصناعي والزراعي إلى مجالات خصبة من التطور، وتوسعت المصانع وتضخم إنتاجها وأغرقت اليابان الأسواق العالمية بالفائض من استهلاكها، ومن أجل تشجيع التصدير طبق نظام الحماية الجمركية وتخصيص العملات الأجنبية للاستيراد، علاوة على تطبيق نظام الجودة الصناعية. وكان الادخار العائلي والاستثمار المرتفع للمشروعات الخاصة هي أول الخيط »

الوثيقة 3

« ... تسهم شيخوخة السكان في اليابان في كبح الأثر المحتمل لكل من "تأثير الثروة" و"الغرائز الحيوانية"، كما أن الموارد في البلاد هي أقل مرونة مقارنة بما هو الوضع في الولايات المتحدة، وأسعار الفائدة منخفضة، ويبدو أن تجربة خفض التضخم أصبحت تترشح في اليابان، غير أنه بالنظر إلى ارتفاع مستوى المديونية العامة فإن حجم مخاطر الأضرار الجانبية والآثار غير المرجوة من المحتمل أن تكون أكبر. ومع بلوغ الإجمالي العام للديون الحكومية في اليابان نسبة 238% من الناتج المحلي الإجمالي، يخشى البعض أن تواجه طوكيو خطر التفكك الاقتصادي والمالي، كما أن فشل تجربتها في السياسات المتبعة ستدفع القطاع الخاص - الذي كان يظهر تقليدياً انحيازاً كبيراً للسوق المحلية - لسحب استثماراته من اليابان. »

الأسئلة

- 1- اشرح (ي) العبارات التي تحتها سطر في الوثيقتين 2 و 3 .
- 2- استخرج (ي) من خلال الوثيقة 1 المؤشرات الدالة على قوة التجارة اليابانية.
- 3- استخلص (ي) بالاعتماد على الوثيقة 2 أسس ومرتكزات التجارة اليابانية.
- 4- أبرز (ي) انطلاقاً من الوثيقة 3 التحديات التي تواجه اليابان.
- 5- انطلاقاً من تعلماتك، اكتب (ي) فقرة موجزة تبرز (ين) فيها الصعوبات التي تعترض اليابان (غير الواردة في الوثيقة 3).