



## الاجتماعيات - الثالثة إعدادي

درس الجغرافيا 2 : المغرب العربي بين التكامل والتحديات

الأستاذ: العلمي المرابطي

### الفهرس

I- أهداف التعلم

II- تقديم

III- العنصر البشري أساس التكامل بين بلدان المنطقة

1-3 / الأنشطة

2-3 / ملخص الدرس

IV- الموارد الاقتصادية وأهميتها في تقوية التكامل بين دول المنطقة

1-4 / الأنشطة

2-4 / ملخص الدرس

V- التحديات الداخلية التي تواجه بلدان المغرب العربي

1-5 / الأنشطة

2-5 / ملخص الدرس

VI- التحديات الخارجية التي تواجه بلدان المغرب العربي

1-6 / الأنشطة

2-6 / ملخص الدرس

VII- خاتمة

IIIX- مصطلحات ومفاهيم

IX- تقويم التعلّمات

I- أهداف التعلم

1. إبراز أهمية الموارد البشرية كعنصر أساسي للتكامل بين بلدان المغرب العربي.

2. تبيان أهمية تنوع الموارد الاقتصادية في تعزيز التكامل بين بلدان المغرب العربي.
3. استنتاج التحديات التي تواجه بلدان المغرب العربي.
4. إدراك حتمية التكامل في مواجهة التحديات.

## II- تقديم

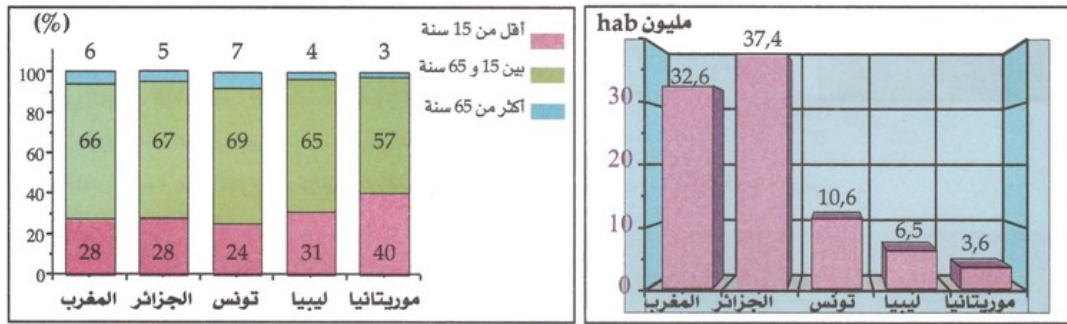
تتكامل بلدان المغرب العربي في عدة جوانب، مما يتيح لها إمكانية التغلب على التحديات التي تعوق التنمية بها.

- فما هي الجوانب التي تتكامل فيها دول المغرب العربي ؟
- وما هي أهم التحديات التي تواجهها ؟

## III- العنصر البشري أساس التكامل بين بلدان المنطقة

### 3-1/ الأنشطة

#### الوثيقة 1 : عدد السكان وبنيتهم العمرية في بلدان المغرب العربي (2011)



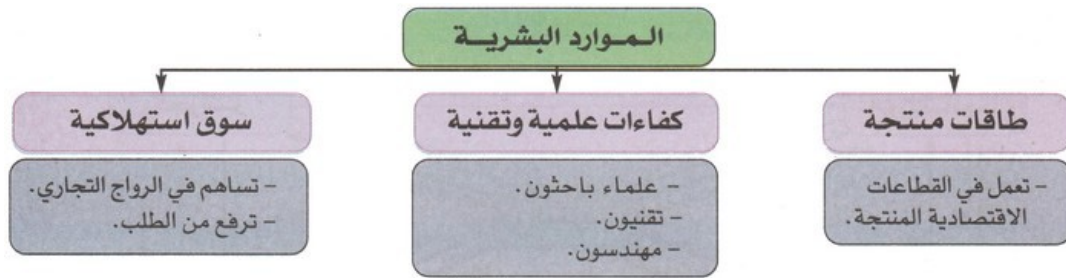
1. أحسب مجموع سكان المغرب العربي وأبين أهميته كطاقة بشرية تساهم في تنشيط الاقتصاد.
2. أصف البنية العمرية لسكان المغرب العربي وأستنتج ميزتها العامة.
3. أقرن الفئة القادرة على العمل (15-65 سنة) بالفئتين الأخرين، وأبرز دورها في الحياة الاقتصادية.

#### الوثيقة 2 : توزيع السكان النشيطين حسب القطاعات في بلدان المغرب العربي (2011)

البلدان	المغرب	الجزائر	تونس	ليبيا	موريتانيا
الفلاحة	40,9	20,7	18,3	14,8	40,0
الصناعة والمعادن	21,7	26,2	31,9	30,6	17,2
الخدمات	37,4	53,1	49,8	54,6	43,0

1. أصف توزيع السكان النشيطين حسب القطاعات، وأفسر تباين تركيبهم حسب البلدان.

#### الوثيقة 3 : أهمية الموارد البشرية



1. أبين الأهمية الاقتصادية لهذه الفئات.

### 2-3/ ملخص الدرس

يتجاوز عدد سكان دول المغرب العربي 85 مليون نسمة، وهو عدد مهم يوفر طاقة بشرية تساهم في تنشيط الاقتصاد، كما أن البنية العمرية لهؤلاء السكان بنية فنية وشابة مما يوفر نسبة هامة من السكان النشيطين الذين لهم دور أساسي في الحياة الاقتصادية، كما تظهر أهمية الموارد البشرية من خلال خلق طاقات منتجة وتوفير كفاءات علمية وتقنية وسوق استهلاكية مهمة، وكل هذه الموارد تساهم بكيفية فعالة في تحقيق التكامل الاقتصادي بين دول المغرب العربي.

## IV- الموارد الاقتصادية وأهميتها في تقوية التكامل بين دول المنطقة

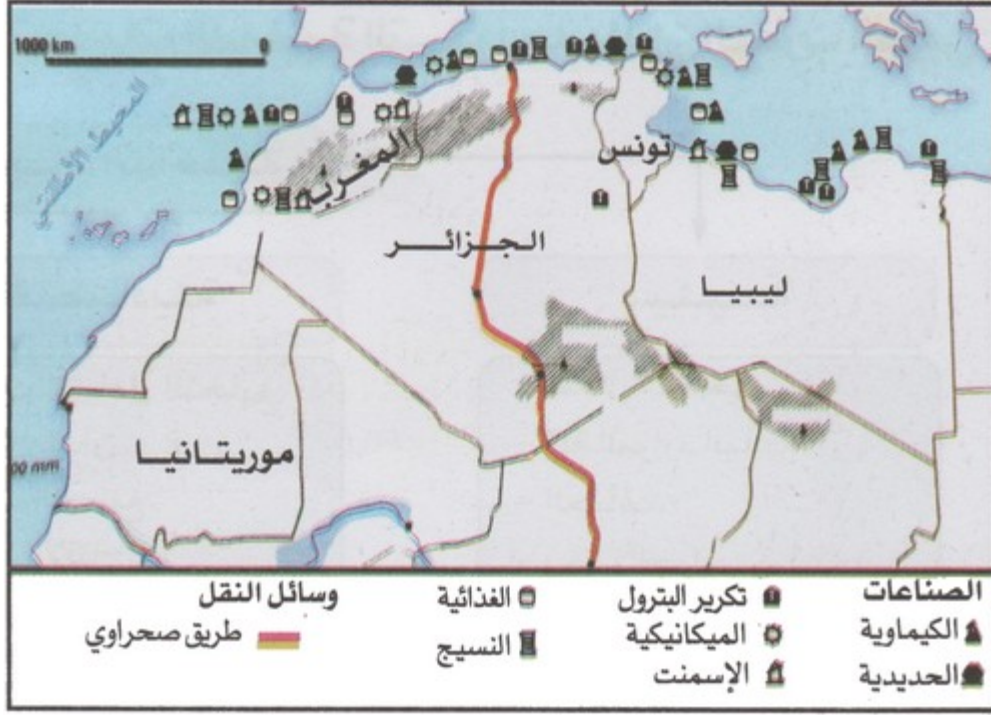
### 1-4/ الأنشطة

الوثيقة 1 : احتياطي بلدان المغرب العربي من الموارد الطبيعية الأساسية

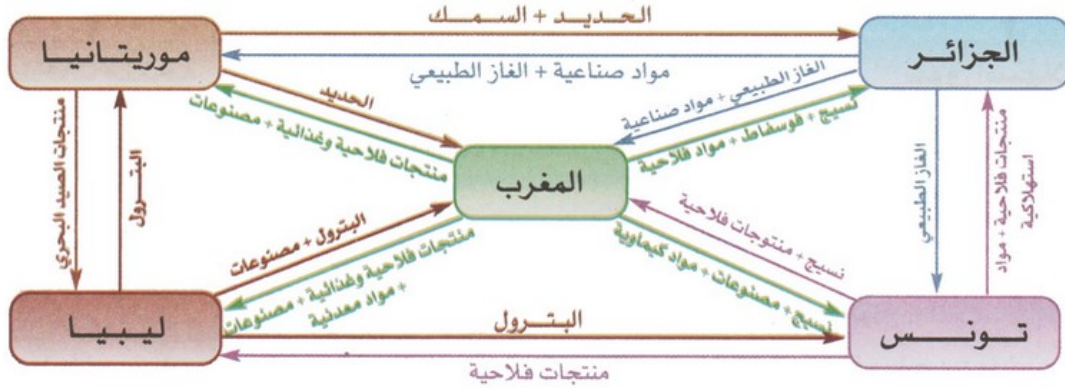
الموارد الاقتصادية البلدان	البتترول (مليون t)	الغاز الطبيعي (مليار m <sup>3</sup> )	الضوسفاط (مليار t)	الحديد (مليون t)
المغرب	-	-	66	-
الجزائر	1220	4504	-	-
تونس	43	65	-	-
ليبيا	4710	1495	-	-
موريتانيا	-	-	-	2300

1. أسمى الموارد الطبيعية الأساسية المتوفرة لدى كل بلد من بلدان المغرب العربي، وأذكر حجم احتياطياتها.

الوثيقة 2 : أهم الصناعات في بلدان المغرب العربي



1. أصف توزيع الصناعات الرئيسية في بلدان المغرب العربي.
  2. أستخلص إمكانية قيام تكامل بين أقطار المغرب العربي في المجال الاقتصادي.
- الوثيقة 3 : بعض إمكانيات التكامل بين بلدان المغرب العربي عبر المبادلات**



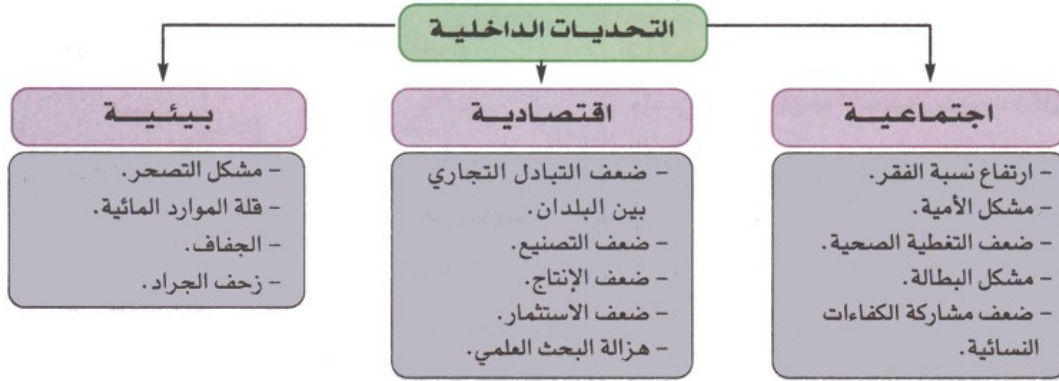
1. أبرز بعض جوانب التبادل بين بلدان المغرب العربي.
2. أستنتج من خلال ذلك عناصر التكامل بينها.
3. أبين دور التكامل الاقتصادي بين بلدان المغرب العربي في التخفيف من التبعية.

## 4-2/ ملخص الدرس

بلدان المغرب العربي موارد اقتصادية مهمة تتجلى في الموارد الطبيعية، من خلال الثروة المعدنية والطاقة المهمة، لكن هذه الموارد تتوزع بشكل متفاوت بين البلدان الخمس، مما يتيح إمكانية تحقيق التكامل الاقتصادي بينها عبر المبادلات التجارية، كما يمكن لبلدان المنطقة أن تشترك في بناء مشاريع اقتصادية مثل مشروع أنبوب الغاز الطبيعي بين الجزائر وأوروبا من أجل التخفيف من التبعية للخارج.

## 7- التحديات الداخلية التي تواجه بلدان المغرب العربي

## الوثيقة 1 : خفاطة التحديات الداخلية



1. أسمى بعض التحديات التي تواجه بلدان المغرب العربي.

## الوثيقة 2 : بعض المعوقات الاجتماعية لبلدان المغرب العربي (2013)

العوائق البلدان	نسبة الإعاقة لكل 100 شخص (%)	نسبة البطالة (%)	معرفة القراءة والكتابة (%)	عدد السكان لكل طبيب	السكان تحت عتبة الفقر (%)	ترتيبها حسب (IDH)
المغرب	49,2	9,1	56,1	1613	14	130
الجزائر	45,6	9,8	72,6	829	-	93
تونس	43,2	13,1	77,6	840	7	94
ليبيا	55	-	89,2	526	-	64
موريتانيا	73,1	10,2	58,0	7692	63	155

1. أبرز مميزات الوضعية الاجتماعية والاقتصادية لسكان المغرب العربي.

2. أذكر بعض الاقتراحات لمواجهة هذه التحديات.

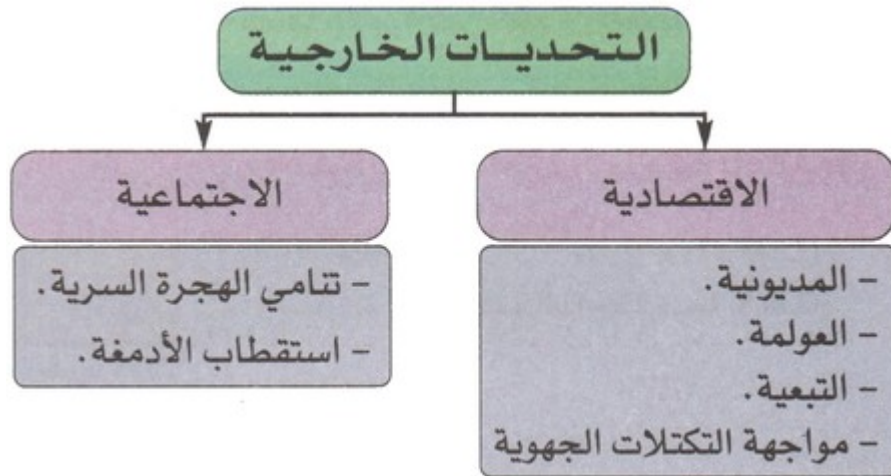
## 5-2/ ملخص الدرس

تعرض بلدان المغرب العربي تحديات داخلية عويصة يمكن إجمالها ما في يلي:

- تحديات اجتماعية: تتمثل في المشاكل المرتبطة بالإنسان من فقر، أمية، بطالة، ضعف التغطية الصحية، وضعف مشاركة المرأة ...
- تحديات اقتصادية: تتجلى في ضعف التبادل التجاري بين البلدان، وضعف الإنتاج، وضعف التصنيع، وضعف الاستثمار، وهزلة البحث العلمي.
- تحديات بيئية: وتظهر من خلال مشكل التصحر الذي يهدد مساحات شاسعة من دول المنطقة، ثم النقص الحاد في الموارد المائية، إضافة إلى الجفاف وزحف الجراد ...

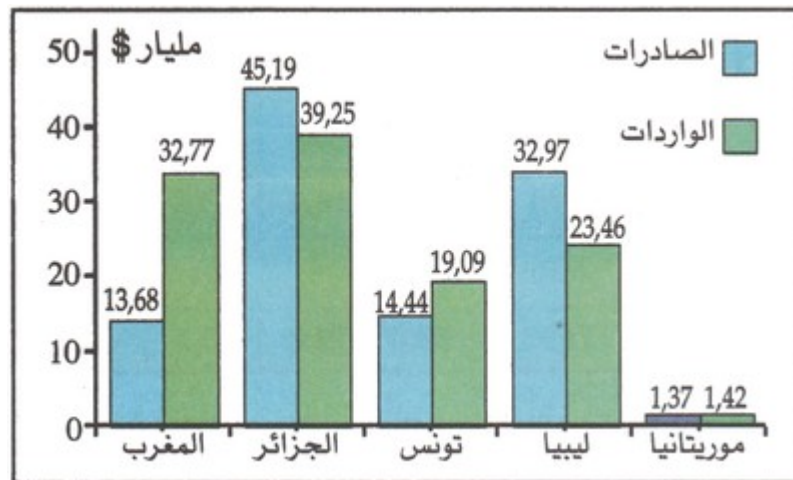
## VI- التحديات الخارجية التي تواجه بلدان المغرب العربي

الوثيقة 1 : خطاطة التحديات الخارجية التي تواجه بلدان المغرب العربي



1. أحد التحديات الخارجية التي تواجه بلدان المغرب العربي.

الوثيقة 2 : صادرات و واردات بلدان المغرب العربي بمليار دولار (2012)



1. أحسب الميزان التجاري لكل بلد من بلدان المغرب العربي وأميز البلدان التي تعاني من العجز.

الوثيقة 3 : حجم مديونية بلدان المغرب العربي (2012)

البلدان	المغرب	الجزائر	تونس	ليبيا	موريتانيا
قيمة الديون (مليون \$)	20825	5476	20776	-	1960

1. أقارن حجم المديونية الخارجية بين بلدان المغرب العربي.

6-2/ ملخص الدرس

تقف أمام دول المغرب العربي تحديات خارجية تعمل على عرقلة تكاملها الاقتصادي، وتظهر من خلال ما يلي:

- تحديات اقتصادية: وتتمثل في ارتفاع المديونية والتبعية للخارج، ومواجهة شبح العولمة و ، مواجهة التكتلات الجهوية.

- تحديات اجتماعية: وتظهر من خلال تنامي ظاهرة الهجرة السرية، ثم استقطاب الأدمغة. وتعاني بلدان المغرب العربي وخاصة تونس والمغرب من عجز دائم في ميزانها التجاري، كما يرتفع حجم المديونية الخارجية بين بلدان المنطقة، ويتفاوت من دولة لأخرى.

## VII- خاتمة

إن قوة وتنمية بلدان المغرب العربي يتوقف على مدى ما تحققة من تكامل ووحدة فيما بينها، لأن التكتل والوحدة هو السبيل لمواجهة التحديات الصعبة التي تعترضها.

## IX- مصطلحات ومفاهيم

### نسبة الإعالة

متوسط عدد الأشخاص الذين يتوجب إعالتهم داخل كل أسرة بالمقارنة مع عدد السكان النشيطين.

## IX- تقويم التعلّات

1. أكتب فقرة أبين فيها جوانب التكامل بين بلدان المغرب العربي.
2. أضع جدولا أصنف فيه التحديات التي تواجه بلدان المغرب العربي.
3. أبرز أهمية مواجهة هذه التحديات في بناء قوة بلدان المغرب العربي وأدلي ببعض الاقتراحات.