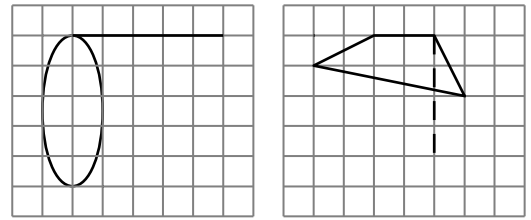


La calculatrice n'est pas autorisée.

EXERCICE 1 : /3 points

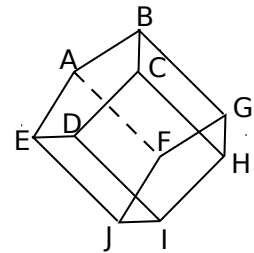
Reproduis les figures suivantes sur ta copie, puis complète-les pour obtenir les représentations en perspective cavalière d'un cylindre de révolution et d'un prisme droit.



EXERCICE 2 : /4 points (1 + 3)

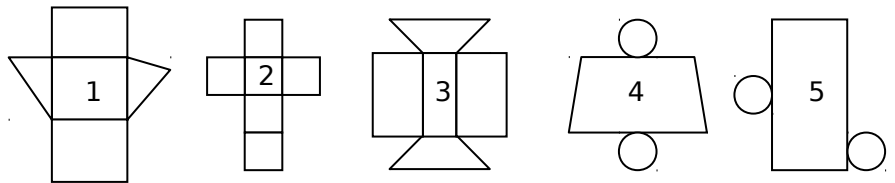
Dans la figure ci-contre, on a représenté un prisme droit.

- Nomme une de ses bases et une de ses hauteurs.
- Combien ce prisme a-t-il d'arêtes, de sommets, de faces latérales ?



EXERCICE 3 : /3 points

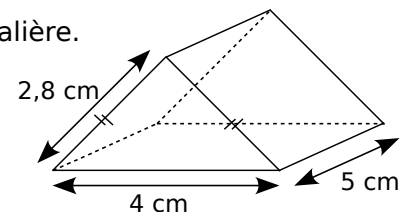
On a demandé à un élève de représenter 3 patrons de prismes (figures 1, 2 et 3) et 2 patrons de cylindres (figures 4 et 5). Sans prendre aucune mesure, on peut affirmer que 3 de ces figures sont incorrectes.



Cite ces trois figures, en donnant dans chaque cas une justification précise.

EXERCICE 4 : /2 points

Construis un patron du solide ci-contre représenté en perspective cavalière.



EXERCICE 5 : /4 points

Un cylindre de révolution a pour base un disque de rayon 2 cm et pour hauteur 5 cm.

- Sur ta copie, à main levée, dessine deux représentations différentes de ce cylindre en perspective cavalière puis inscris les longueurs données sur les dessins.
- Dessine en vraie grandeur sur ta copie deux patrons non superposables de ce cylindre.

EXERCICE 6 : /2 points

Dessine en vraie grandeur sur ta copie un patron d'un prisme droit de hauteur 3,5 cm et ayant pour base un triangle ABC rectangle en A tel que $AB = 2,8$ cm et $AC = 4,2$ cm.

EXERCICE 7 : /2 points

Dessine en vraie grandeur sur ta copie un patron d'un prisme droit ayant six faces dont une est parallélogramme de côtés 4 cm et 6 cm et dont une autre est un carré de côté 4 cm.