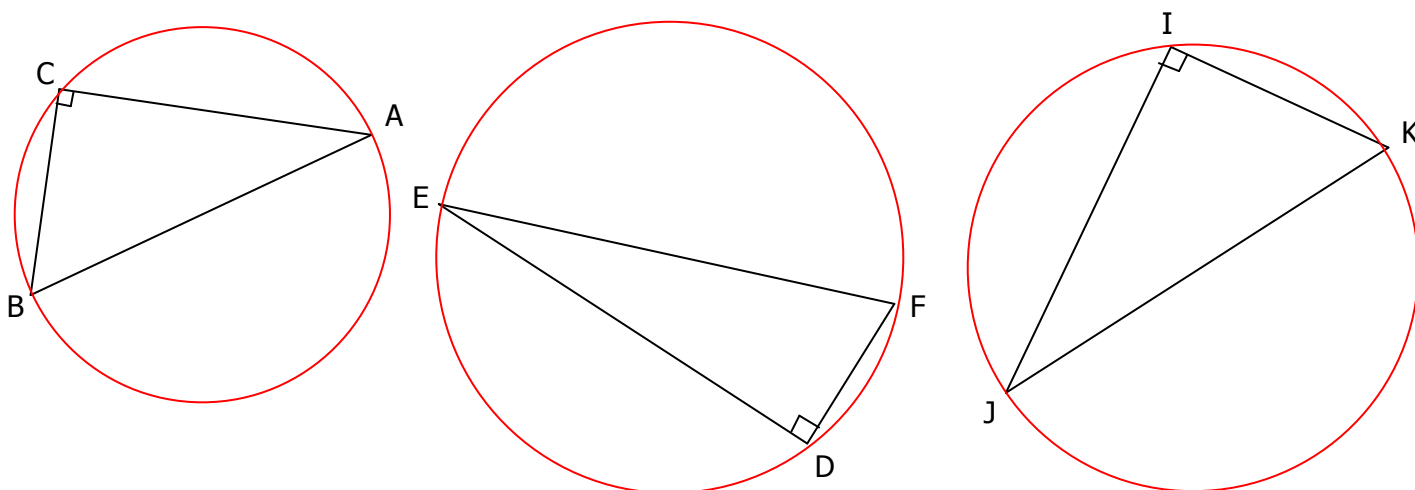


EXERCICE 1

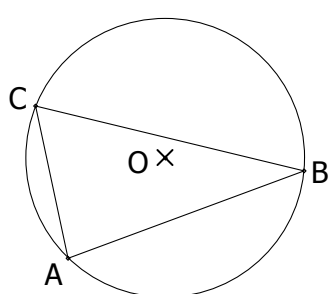
CORRIGE – M. QUET

Sans tracer les médiatrices de ces 3 triangles, construire leur cercle circonscrit :

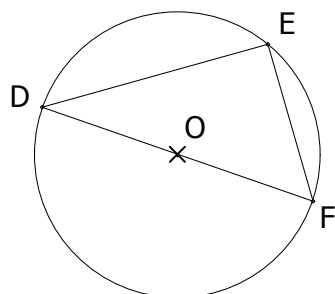


EXERCICE 2

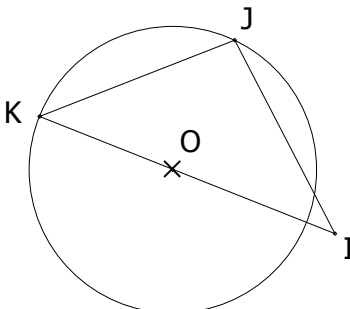
Sans utiliser le moindre instrument de géométrie, les triangles suivants sont ils rectangles ? (O est le centre du cercle).



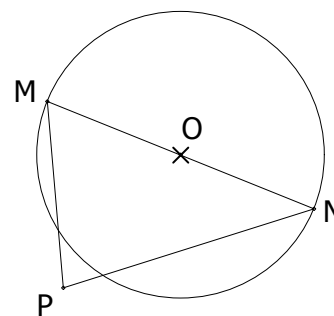
Oui Non



Oui Non



Oui Non



Oui Non

EXERCICE 3

Parmi les points suivants, entourer ceux qui appartiennent au demi-cercle de diamètre [MN] **sans tracer ce demi-cercle**, en utilisant uniquement l'équerre.

