

# Sujet du bac ES-L – Sciences (première) – Session 2018 – Asie

Durée de l'épreuve : 1 h 30

Coefficient : 2

L'usage de la calculatrice est strictement interdit.

Le candidat doit traiter les trois parties qui sont indépendantes les unes des autres.

## **PARTIE 1 (8 points)**

### **NOURRIR L'HUMANITÉ**

#### **Une petite entrée légère : l'émulsion d'avocat**

Un site propose une recette d'émulsion d'avocat pour préparer des verrines apéritives.

On s'intéresse au rôle de chacun des éléments de la recette.

#### **Document 1 : Recette de l'émulsion d'avocat**

##### **Ingrédients**

Pour 2 personnes

1 avocat,

10 cl d'eau,

1,8 g de lécithine,

1/2 cuillère à café de jus de citron.

##### **Préparation**

- Couper l'avocat en 2 et vider la chair dans un bol,
- Verser la lécithine en pluie dans l'eau et mélanger au fouet jusqu'à dissolution,
- Ajouter l'avocat puis mixer avec le jus de citron (*pour éviter à l'avocat de noircir*).
- Mettre au réfrigérateur (entre 2 et 4°C°).

#### **Document 2 : Quelques caractéristiques chimiques des ingrédients de la recette**

##### **\* Composition de 100 g d'avocat**

Protéines	1,8 g
Glucides	0,8 g
Lipides	15 g
Eau	76,4 g
Fibres alimentaires	5,1 g
Vitamines, minéraux...	0,9 g

*D'après : [www.i-dietetique.com](http://www.i-dietetique.com)*

##### **\* Caractéristiques du jus de citron**

Le citron contient des vitamines dont la vitamine C, de loin la plus présente dans ce fruit.

On estime une moyenne de 50 mg de vitamine C (acide ascorbique) pour 100 g de fruit.

La teneur en acides organiques est particulièrement élevée. Il s'agit essentiellement d'acide citrique.

Ces acides organiques confèrent au citron une saveur acidulée très marquée (c'est un des jus de fruit le plus acide : son pH est inférieur à 3).

##### **\* Représentation simplifiée d'une molécule de lécithine**

La molécule de lécithine est composée d'une tête hydrophile et d'une chaîne



### **Document 3 : Les émulsions**

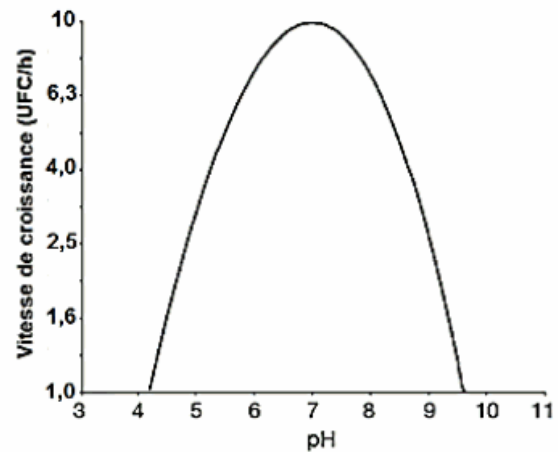
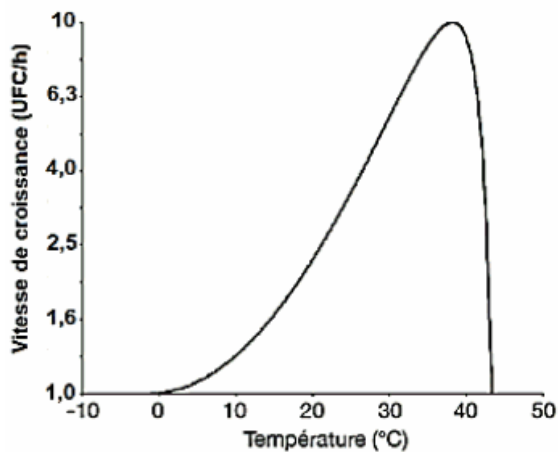
En cuisine, les émulsions les plus connues sont les émulsions d'huile dans l'eau ou d'eau dans l'huile. Dans le premier cas, le liquide dispersé est l'huile ; dans le second, c'est l'eau. Celles-ci ne sont pas stables car les deux liquides finissent par se séparer.

### **Document 4 : Vitesse de croissance d'une population de *Listeria monocytogenes* en fonction de la température et en fonction du pH**

La vitesse de croissance, obtenue par simulation, est donnée en UFC/h (Unité Formant Colonie par heure).

*Listeria monocytogenes* est une bactérie susceptible de provoquer de graves infections alimentaires.

Vitesse de croissance d'une population de *Listeria monocytogenes*  
en fonction de la température (à pH constant)      en fonction du pH (à température constante)



D'après : <http://www.pressesagro.be>

### **COMMENTAIRE RÉDIGÉ :**

**Discuter la pertinence des différents ingrédients et étapes de la recette. Un schéma montrant le rôle de la lécithine est attendu.**

*Vous développerez votre argumentation en vous appuyant sur les documents et vos connaissances (qui intègrent, entre autres, les connaissances acquises dans les différents champs disciplinaires).*

## **PARTIE 2 (6 points)**

### **REPRÉSENTATION VISUELLE**

#### **Les lys de Paul Gauguin**

En 1889, Paul Gauguin a peint un tableau célèbre intitulé « *Dans les lys* » et un de ses élèves a réalisé une copie de ce tableau. Un siècle plus tard, les deux tableaux ne présentent plus le même aspect (voir ci-dessous).

#### **Peinture de Paul Gauguin et copie de son élève**



Ci-contre l'original de Gauguin tel **qu'on le voit** au musée éclairé par de la lumière blanche :

L'arrière-plan apparaît vert, et le sol apparaît blanc en bas et bleu au centre



Ci-contre la copie d'un élève telle **qu'on la voit** éclairée par de la lumière blanche :

L'arrière-plan apparaît jaune, et le sol apparaît rouge en bas et violet (magenta foncé) au centre

*D'après [www.snof.org](http://www.snof.org)*

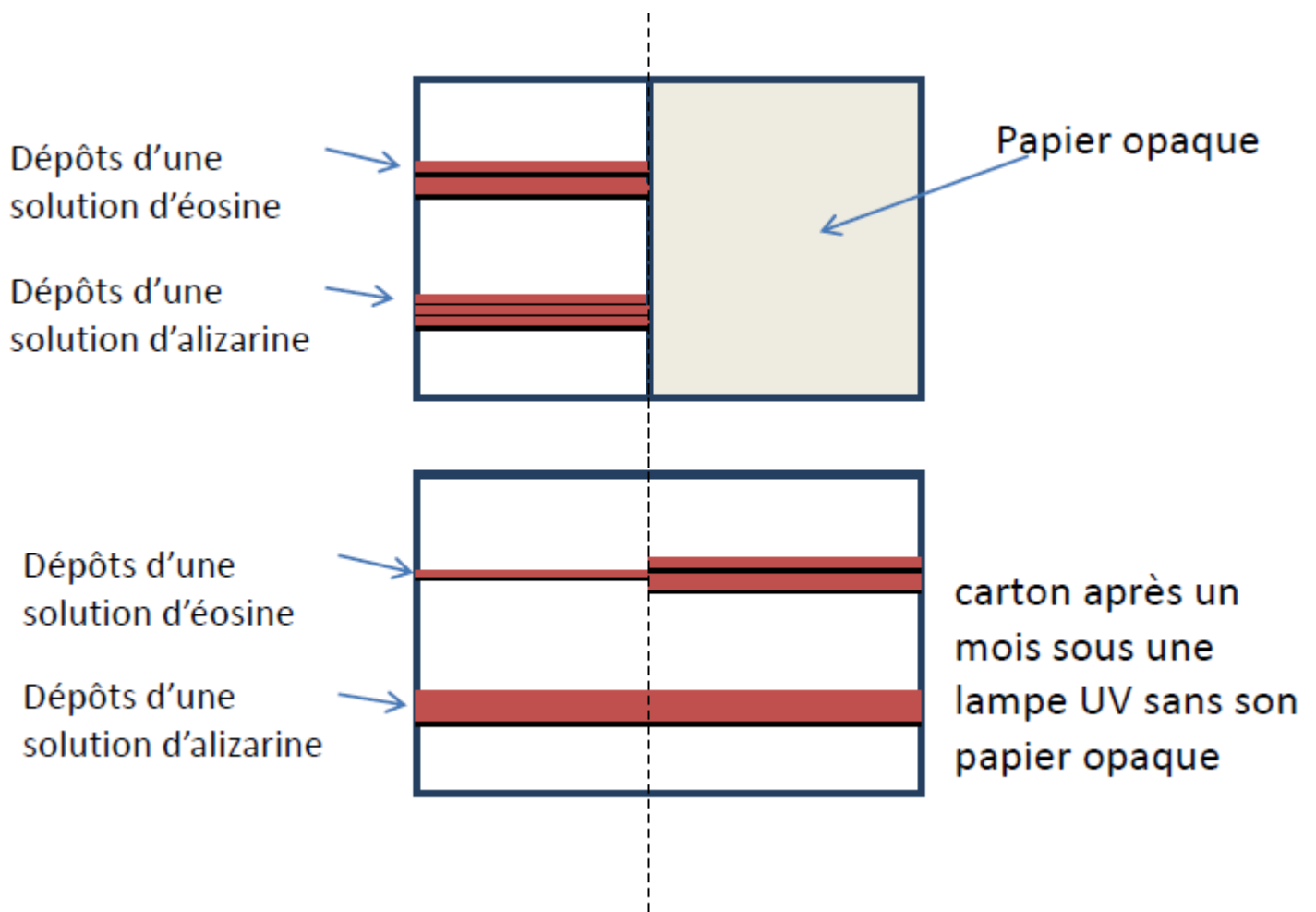
On cherche à identifier l'origine de la différence entre le tableau de Gauguin et celui de son élève.

#### **Document 1 : Analyse des peintures utilisées par Gauguin et son élève**

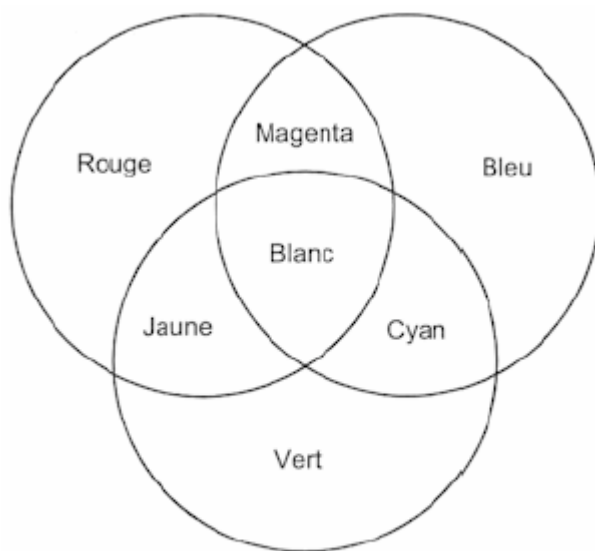
- Gauguin a utilisé de la laque géranium, peinture qui doit sa couleur rouge principalement à la présence d'éosine.
- Son élève a utilisé une peinture dont la couleur rouge était due à l'alizarine, colorant rouge, extraite autrefois des racines de garance, aujourd'hui obtenue par synthèse.

#### **Document 2 : Influence de la lumière sur des colorants**

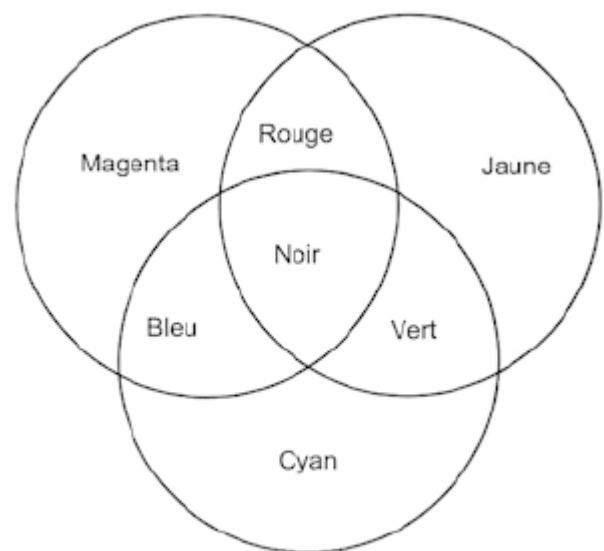
Sur un morceau de carton blanc on dépose des colorants avec un pinceau. On recouvre la moitié du carton avec un papier opaque et on place l'ensemble durant un mois sous une lampe UV.



### Document 3 : Synthèse des couleurs



Synthèse additive



Synthèse soustractive

A partir de l'exploitation des documents et de vos connaissances, répondre aux questions suivantes :

#### Question 1 :

Donner la différence entre un pigment et un colorant.

**Question 2 :**

2.1 Compléter les tableaux **sur l'annexe à rendre avec la copie.**

2.2 Proposer une cause probable de la différence entre le tableau de Gauguin et celui de son élève.

**Question 3 :**

Citer deux autres facteurs qui pourraient intervenir pour rendre compte des différences entre le tableau de Gauguin et celui de son élève.

**Question 4 :**

Un site suggère que le port de lunettes avec des verres teintés magenta, permet de voir les couleurs d'origine du tableau de Gauguin.

4.1 On regarde une toile blanche en plein jour. De quelle couleur va-t-elle apparaître avec les lunettes magenta ?

4.2 On regarde une toile qui est verte en plein jour. De quelle couleur va-t-elle apparaître avec les lunettes magenta ? Justifier.

4.3 L'information fournie par le site vous paraît-elle pertinente ? Justifier.

**ANNEXE**

**FEUILLE-RÉPONSE A RENDRE AVEC LA COPIE**

**Partie 2 Représentation visuelle**

**Question 2 :**

2a) Compléter les tableaux sur l'annexe.

**Pour l'original :**

	<b>Couleur</b>	<b>Couleur de la (les) lumière(s) parvenant à l'œil</b>
l'arrière plan	Vert	Vert
sol au centre		
sol en bas	Blanc	Rouge Vert Bleu

**Pour la copie :**

	<b>Couleur</b>	<b>Couleur de la (les) lumière(s) parvenant à l'œil</b>
l'arrière plan	Jaune	Rouge Vert
sol au centre		
sol en bas		

## **PARTIE 3 (6 points)**

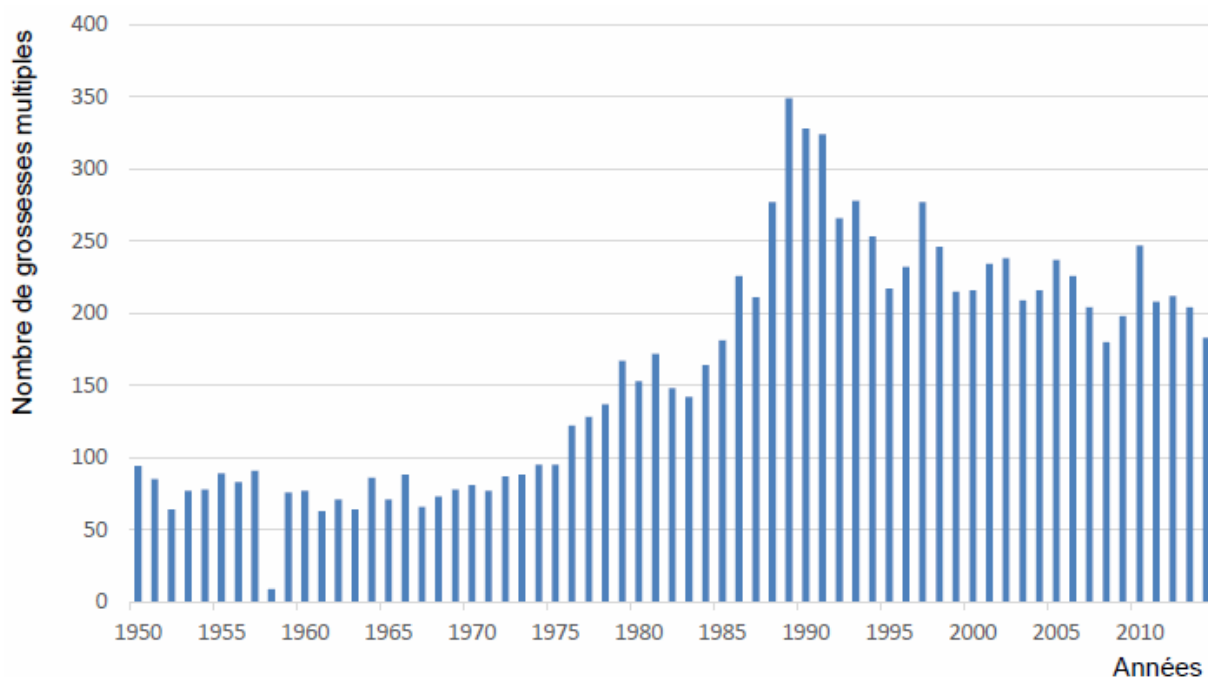
### **FÉMININ – MASCULIN**

#### **Les grossesses multiples**

Nadya est une californienne connue pour avoir donné naissance à des octuplés en janvier 2009. Les conditions entourant cette naissance ont suscité une controverse sur l'utilisation des techniques de procréation médicalement assistée.

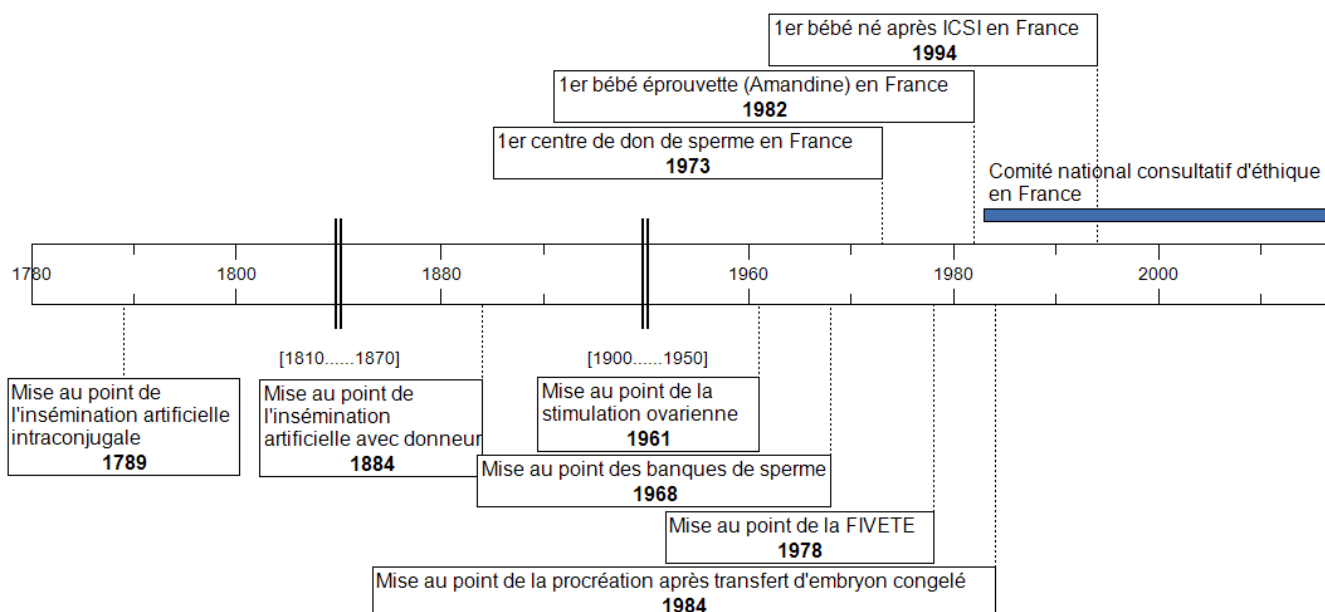
On s'intéresse à la multiplication du nombre de grossesses multiples.

#### **Document 1 : Évolution du nombre de grossesses multiples en France depuis 1950**



Source : INSEE

#### **Document 2 : Historique des techniques d'aides médicales à la procréation**



*FIVETE : Fécondation In Vitro et Transfert d'Embryons- ICSI : injection intracytoplasmique d'un spermatozoïde*

**Document 3 : Quelques traitements en réponse à l'infertilité**

Stimulation ovarienne	Injection de FSH <sup>1</sup> en début de cycle pour obtenir plusieurs follicules mûrs.
Insémination artificielle	Injection de spermatozoïdes dans l'utérus en période ovulatoire.
FIVETE	1. Stimulation ovarienne 2. Injection de LH <sup>2</sup> suivie de ponction de plusieurs follicules <sup>3</sup> , 3. Fécondation in vitro 4. Transfert d'embryon(s) dans l'utérus.
ICSI	1. Injection in vitro du noyau d'un spermatozoïde dans un ovocyte préalablement ponctionné 2. Transfert d'embryon(s) dans l'utérus.

<sup>1</sup> FSH = Hormone folliculo-stimulante, qui favorise la croissance des follicules ovariens

<sup>2</sup> LH = Hormone lutéinisante, qui déclenche l'ovulation

<sup>3</sup> Le follicule est la structure ovarienne renfermant l'ovocyte

**A partir de l'exploitation des documents et de vos connaissances, répondre aux questions suivantes :**

**Question 1 :**

Préciser, parmi les traitements présentés dans le document 3, lesquels peuvent conduire à des grossesses multiples en justifiant la réponse.

**Question 2 :**

Expliquer l'évolution du nombre de grossesses multiples en France des années 1970 aux années 2000.