

BACCALAURÉAT GÉNÉRAL

Session 2008

HISTOIRE – GÉOGRAPHIE

Séries L et ES

Série L : coefficient 4

Série ES : coefficient 5

Durée de l'épreuve : 4 heures

L'usage de la calculatrice n'est pas autorisé.

Le sujet comporte 11 pages numérotées de 1/11 à 11/11.

Le candidat doit traiter :

UN des trois sujets d'histoire de la première partie

ET

UN des deux sujets de géographie de la deuxième partie.

PREMIÈRE PARTIE

HISTOIRE

Le candidat choisit **UN** des trois sujets proposés

SUJET I

COMPOSITION

La France dans le monde depuis 1958

SUJET II

COMPOSITION

L'émancipation des peuples colonisés de 1945 à la fin des années 1960

SUJET III**ÉTUDE D'UN ENSEMBLE DOCUMENTAIRE****Les démocraties populaires et l'URSS de 1950 à 1989****Liste des documents :**

Document 1 : Extraits d'un article d'un journal yougoslave en 1950

Document 2 : Carte postale officielle hongroise du 1er mai 1953

Document 3 : Scène de rue à Budapest, octobre 1956

Document 4 : Extraits de la lettre adressée au Parti communiste de Tchécoslovaquie par l'U.R.S.S et des démocraties populaires membres du Pacte de Varsovie en 1968

Document 5 : Extrait de la Une du journal de l'Allemagne de l'Ouest, *Süddeutsche Zeitung*, daté du 11 novembre 1989

Première partie :

Analysez l'ensemble documentaire en répondant aux questions suivantes :

- 1 - Dégagez deux aspects du modèle soviétique qui sont appliqués dans les démocraties populaires (documents 1, 2 et 4).
- 2 - En vous appuyant sur le document 1, relevez deux critiques du modèle soviétique et expliquez-les.
- 3 - Montrez la dépendance des démocraties populaires à l'égard de l'URSS (documents 2 et 4).
- 4 - Confrontez les documents 2 et 3 : quelle image contradictoire de Staline est donnée et pourquoi ?
- 5 - Décrivez la scène photographiée en Une du journal *Süddeutsche Zeitung* (document 5) et expliquez la phrase qui l'accompagne.

Deuxième partie :

A l'aide des réponses aux questions, des informations extraites des documents et de vos connaissances personnelles, vous rédigerez une réponse organisée au sujet :

les démocraties populaires et l'URSS de 1950 à 1989.

Document 1 : Extraits d'un article paru dans le quotidien du parti communiste yougoslave, *Borba (combat)*, le 20 novembre 1950

« Au lieu de l'internationalisme, de la fraternité et de l'égalité entre les peuples, nous avons [en U.R.S.S.] un obscurantisme nationaliste, le maintien de six pays européens civilisés sous le joug d'une force d'occupation camouflée, une exportation de capitaux et l'extorsion de ceux-ci [...], la préparation d'une guerre de conquête, prétendument dirigée contre le capitalisme, mais, en fait, pour s'assurer du butin et conquérir de nouveaux territoires [...].


Au lieu des formes joyeuses et libres de vie intellectuelle et sociale [...], nous avons des pensées grises et standardisées, des déblatérations frénétiques, déshumanisées, l'oppression sauvage et totale, un réseau d'espions, qui a même pénétré la plus petite cellule sociale, s'est glissé dans les relations entre mari et femme, entre parents et enfants, entre les artistes et leur inspiration ou leur œuvre, tel que l'histoire n'en avait pas encore connu ».

Par Milan DJILAS

(responsable de la propagande au Comité central du parti communiste yougoslave)

**Document 2 : Carte postale officielle hongroise 1953 : "Eljen Május 1"
(vive le 1er mai)**

(défilé des jeunesses communistes hongroises sous le portrait de Rakosi,
dirigeant du parti communiste de Hongrie)



**Document 3 : Scène de rue à Budapest (Hongrie) devant la statue
abattue de Staline en octobre 1956**



Source : agence américaine Magnum, cité par *L'HISTOIRE*, n° 151,
janvier 1992

Document 4 : Extraits de la lettre adressée au Parti communiste de Tchécoslovaquie par les chefs de parti et de gouvernement de Bulgarie, de Hongrie, de Pologne, de la République démocratique d'Allemagne et d'Union Soviétique. Varsovie 1968

« Chers camarades,

Le cours des événements dans votre pays suscite chez nous une profonde inquiétude. L'assaut, soutenu par l'impérialisme, auquel se livre la réaction contre votre parti et les fondements du régime sociopolitique de la République socialiste de Tchécoslovaquie menace, [...] de faire dévier votre pays de la voie du socialisme et, par conséquent, menace les intérêts de tout le système socialiste. [...] Nous ne pouvons pas accepter que des forces hostiles fassent dévier votre pays de la voie du socialisme et menacent d'arracher la Tchécoslovaquie à la communauté socialiste. Sur ce point, vous n'êtes déjà plus seuls en cause. [...] C'est la cause commune de nos pays, qui se sont unis dans le pacte de Varsovie afin d'assurer leur indépendance, ainsi que la paix et la sécurité en Europe, et de dresser une barrière insurmontable devant les menées des forces impérialistes de l'agression et de la revanche. [...]

Les forces antisocialistes et révisionnistes se sont emparées de la presse, de la radio et de la télévision et en ont fait une tribune pour attaquer le Parti communiste, pour désorienter la classe ouvrière [...] pour saper les relations amicales entre la République socialiste tchécoslovaque et les autres pays socialistes [...].

Et cela se passe en Tchécoslovaquie, dont le peuple conserve pieusement le souvenir des soldats soviétiques qui ont donné leur vie pour la liberté et la souveraineté de ce pays. »

Cité par Charles Zorgbibe,

Textes de politique internationale depuis 1945, Que sais-je ? PUF, 1997

Document 5 : Extrait de la Une du journal de l'Allemagne de l'Ouest
« *Süddeutsche Zeitung* » daté du 11 novembre 1989



Traduction : « *Cette nuit là, le peuple allemand était le plus heureux du monde* »

DEUXIÈME PARTIE

GÉOGRAPHIE

CROQUIS DE GÉOGRAPHIE

Le candidat choisit **UN** des deux sujets proposés.

Il réalise un croquis à partir du fond de carte fourni, accompagné d'une légende organisée.

SUJET I

La puissance mondiale des Etats-Unis

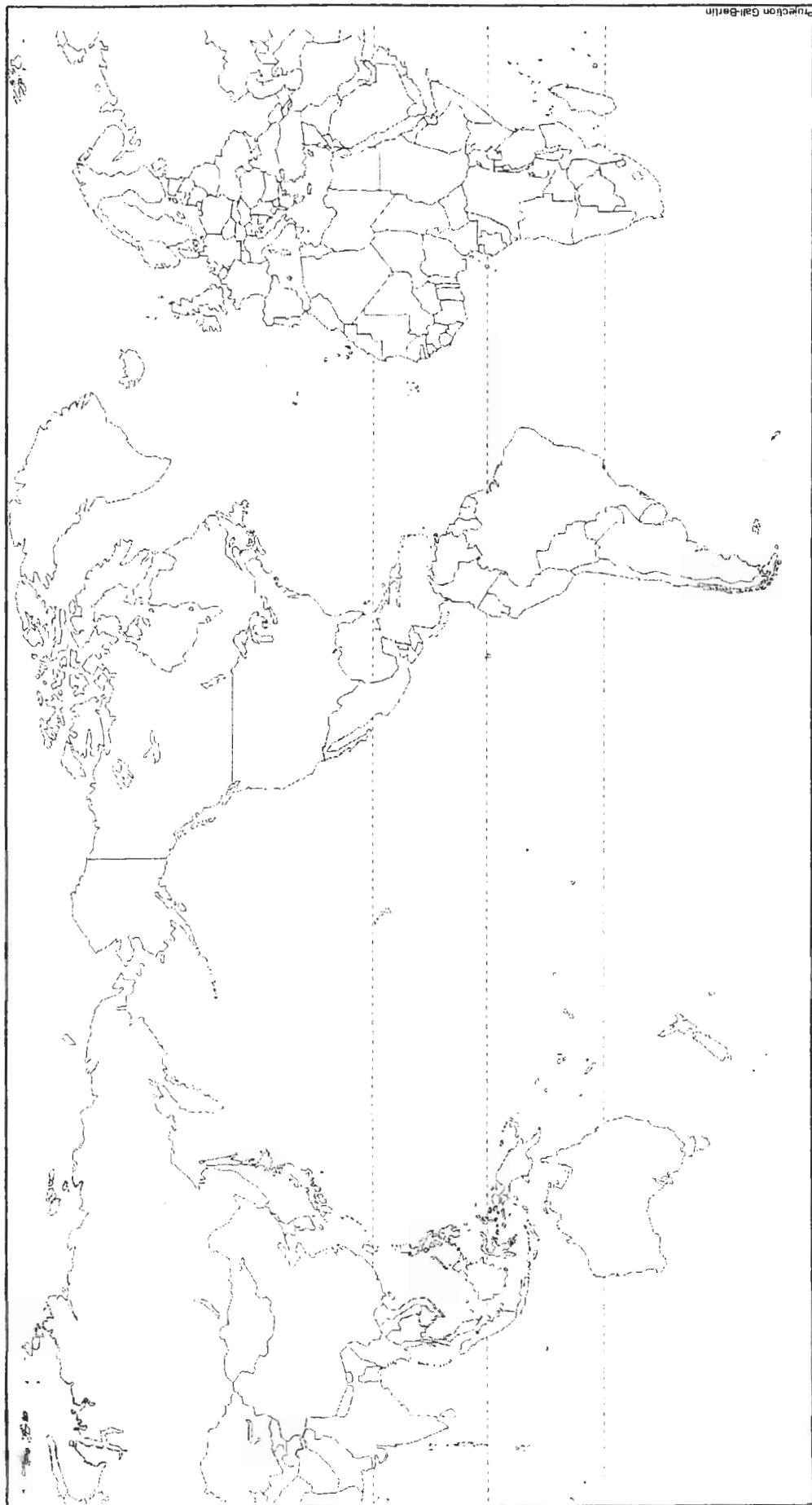
SUJET II

La Russie : un espace en recomposition

8HGLSANI

SUJET I : CROQUIS DE GEOGRAPHIE

TITRE :

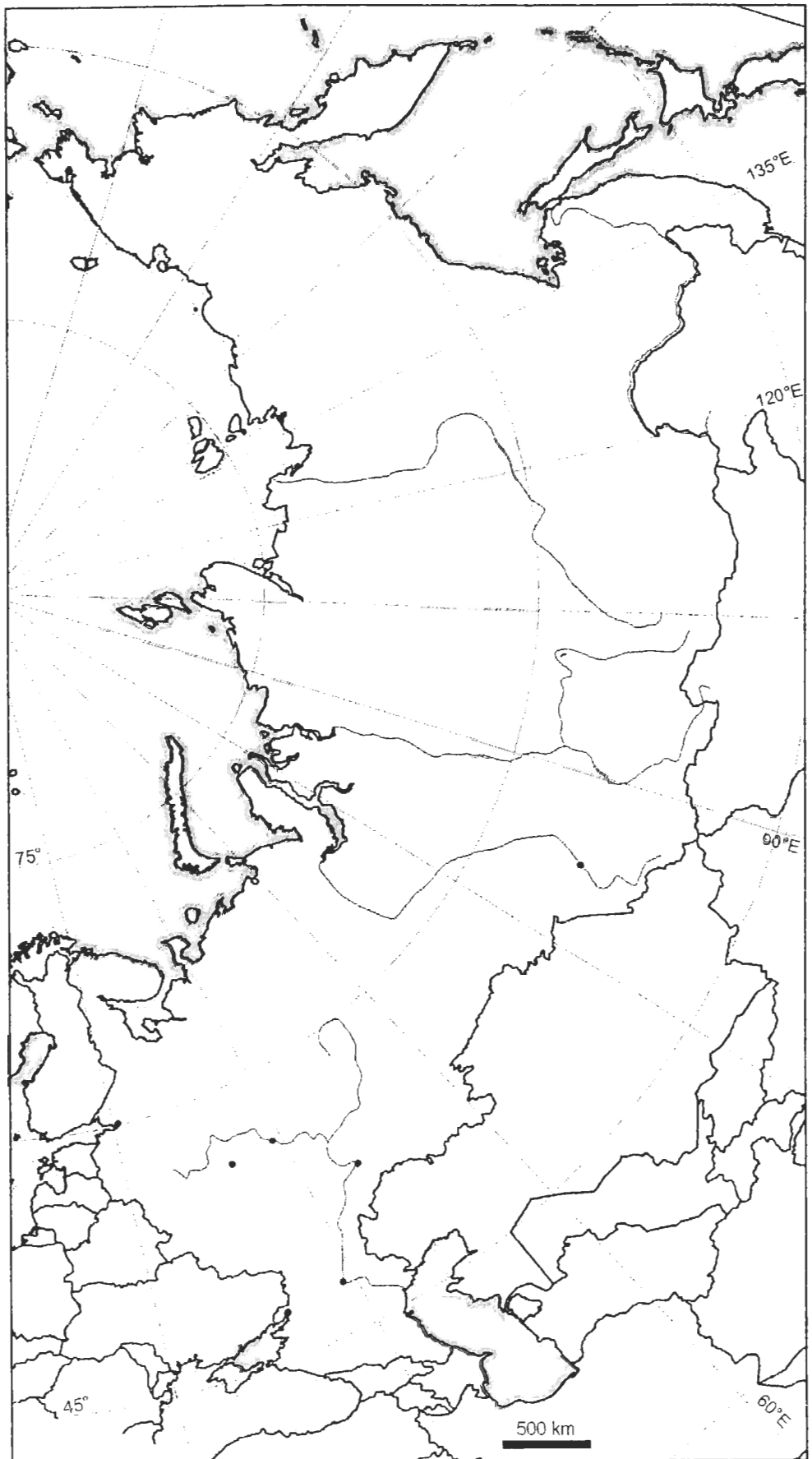


Repère :


LEGENDE :

SUJET II : CROQUIS DE GEOGRAPHIE

TITRE :



Repère :



LEGENDE :