

# BACCALAURÉAT GÉNÉRAL

SESSION 2010

PHYSIQUE-CHIMIE

Série S

DURÉE DE L'ÉPREUVE : 3 h 30 – COEFFICIENT : 6

**L'usage d'une calculatrice est autorisé**

**Ce sujet ne nécessite pas de feuille de papier millimétré**

Ce sujet comporte un exercice de PHYSIQUE ET CHIMIE, un exercice de PHYSIQUE et un exercice de CHIMIE présentés sur 12 pages numérotées de 1 à 12, y compris celle-ci.

**Les pages d'annexes (pages 11 et 12) SONT À RENDRE AVEC LA COPIE, même si elles n'ont pas été complétées.**

Le candidat doit traiter les trois exercices qui sont indépendants les uns des autres.

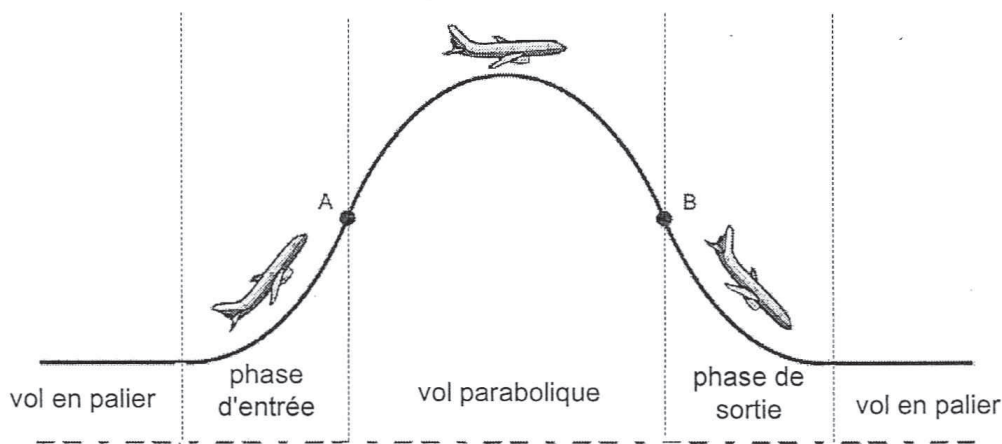
## EXERCICE I. DES AVIONS PAS COMME LES AUTRES (6,5 points)

Les deux parties de cet exercice sont indépendantes. La première porte sur le mouvement de l'avion A 300 Zéro-G, la seconde porte sur la pile à hydrogène de l'avion E-plane.

### 1. L'A 300 Zéro-G

Depuis 1988, le Centre National d'Études Spatiales (CNES) mène un programme de vols paraboliques afin de réaliser des expériences scientifiques en impesanteur sans recourir à un dispositif spatial coûteux. L'établissement, via sa filiale Novespace, exploite depuis 1997 un Airbus A 300 spécialement aménagé : l'A 300 Zéro-G.

L'appareil effectue lors de chaque vol une série de 30 paraboles. Quand la trajectoire est parabolique (entre les points A et B de la figure ci-dessous), l'appareil se trouve dans des conditions de **chute libre** pendant 20 à 25 secondes, créant ainsi une situation d'impesanteur. L'impesanteur est l'absence apparente de pesanteur : un objet placé à l'intérieur de l'avion ne subit plus aucune action de la part de celui-ci et semble donc "flotter" car il est en chute libre comme l'avion.



Les expériences réalisées en impesanteur touchent à la fois le domaine des sciences physiques (le test de dispositifs spatiaux, le déploiement de panneaux solaires, d'antennes, de structures gonflables, la préparation de missions spatiales habitées) et celui des sciences de la vie (notamment la physiologie humaine). S'ajoute également à cet intérêt scientifique et technologique celui d'expériences à caractère pédagogique qui donnent l'occasion aux jeunes de participer pour la première fois à un projet de recherche et suscitent souvent des vocations scientifiques.

*D'après les sites Internet de Novespace et du CNES.*

Dans cette partie, nous nous intéressons à la trajectoire de l'avion dont le mouvement est étudié dans le référentiel terrestre considéré comme galiléen.

#### 1.1. Vol en palier

Avant d'effectuer une parabole, l'A 300 est en situation de vol en palier. Sa trajectoire est une droite, son altitude et sa vitesse sont constantes. L'avion est soumis à quatre forces : son poids  $\vec{P}$ , la poussée des moteurs  $\vec{\pi}$  de direction horizontale, la traînée  $\vec{T}$  due aux frottements de l'air et la portance  $\vec{R}$ . Cette dernière est due à la circulation de l'air autour des ailes qui crée une surpression sous l'aile et une dépression au dessus de l'aile. La portance  $\vec{R}$  est verticale et dirigée vers le haut.

1.1.1. Quelle est la nature du mouvement du centre d'inertie G de l'avion lors du vol en palier ? Que peut-on en déduire concernant la somme des forces exercées sur l'avion ?

1.1.2. Sur la copie, représenter au centre d'inertie G de l'avion, les forces s'exerçant sur celui-ci, sans souci d'échelle. En remarquant que les forces s'opposent deux à deux, déterminer leurs valeurs.

**Données :**

- masse de l'avion :  $m = 1,5 \times 10^2$  tonnes =  $1,5 \times 10^5$  kg ;
- accélération de la pesanteur à l'altitude où évolue l'avion :  $g = 9,78 \text{ m.s}^{-2}$  ;
- poussée des moteurs :  $\pi = 5,0 \times 10^2$  kN (kilonewtons).

1.2. Vol parabolique

Afin d'effectuer une parabole, le pilote cabre d'abord l'avion pour atteindre un angle d'environ  $45^\circ$  entre l'axe principal de l'appareil et la direction horizontale. Puis il manœuvre l'avion afin que la portance exercée sur les ailes s'annule et que la poussée des moteurs compense exactement la traînée exercée sur l'avion.

1.2.1. Énoncer la seconde loi de Newton. En se référant au texte ci-dessus, déterminer le vecteur accélération  $\vec{a}$  du centre d'inertie G de l'avion.

1.2.2. On souhaite étudier la trajectoire du centre d'inertie G de l'avion (voir la **figure 1** ci-dessous). Le repère d'étude  $(O, \vec{i}, \vec{k})$  choisi est dans un plan vertical contenant la trajectoire ; son origine O est au niveau du sol. L'origine des dates est choisie à l'instant où l'avion rentre dans la phase de chute libre au niveau du point A se trouvant à une altitude  $z_A$  d'environ 8 km. Le vecteur vitesse initiale  $\vec{v}_A$  du point G est incliné d'un angle  $\alpha = 49^\circ$  par rapport à l'horizontale. La valeur de la vitesse  $v_A$  est égale à 281 nœuds, soit  $145 \text{ m.s}^{-1}$ .

- Donner les expressions de  $a_x$  et de  $a_z$ , coordonnées du vecteur accélération du point G dans le repère d'étude  $(O, \vec{i}, \vec{k})$ .
- En déduire les coordonnées  $v_x$  et  $v_z$  du vecteur vitesse du point G.

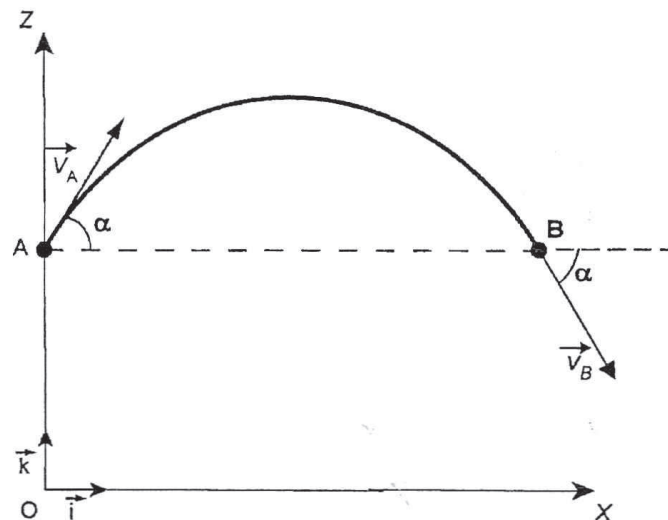


Figure 1. Trajectoire du centre d'inertie G de l'avion



1.2.3. Montrer que l'équation horaire du mouvement selon l'axe Oz peut se mettre sous la forme :

$$z(t) = C_1.t^2 + C_2.t + C_3$$

où  $C_1$ ,  $C_2$ ,  $C_3$  sont des constantes obtenues à partir des données du texte.

Donner les expressions littérales de ces constantes en fonction de  $v_A$ ,  $\alpha$ ,  $g$  et  $z_A$ .

1.2.4. L'équation horaire du mouvement s'écrit  $x(t) = v_A \cdot (\cos \alpha) \cdot t$  selon Ox. Montrer que l'équation de la trajectoire est :

$$z(x) = - \frac{g}{2.v_A^2 \cdot \cos^2 \alpha} \cdot x^2 + (\tan \alpha) \cdot x + z_A$$

1.2.5. À la date  $t_B$ , le système se trouve au point B, de même altitude que le point A, avec un vecteur vitesse  $\vec{v}_B$  dont la direction fait un angle  $\alpha$  avec l'horizontale (voir **figure 1**) et dont la valeur est la même qu'au point A :  $v_B = v_A = 145 \text{ m.s}^{-1}$ .

a. Déterminer, au point B, l'expression littérale de la projection  $v_{Bz}$  du vecteur vitesse sur l'axe Oz en fonction uniquement de  $v_A$  et  $\alpha$ .

b. En déduire la valeur de la date  $t_B$  en secondes. Cette valeur est-elle cohérente avec l'ordre de grandeur cité dans le texte encadré ?

## 2. L'E-plane

Le 31 mai 2003, Concorde effectuait son dernier vol New York - Paris à une vitesse proche de  $2500 \text{ km.h}^{-1}$  en moins de quatre heures. Quel appareil succèdera au bel oiseau franco-anglais et dépassera la frontière hypersonique ? Sans doute l'A2 qui pourrait naître du projet LAPCAT, rassemblant l'élite des motoristes de l'aéronautique européenne. Le consortium étudie des réacteurs à dihydrogène, ambitionnant de propulser des avions de ligne à  $25 \text{ km}$  d'altitude, à  $6000 \text{ km.h}^{-1}$  et pouvant ainsi relier Bruxelles à Sydney en moins de cinq heures. Des appareils fonctionnant au dihydrogène, certes de plus petite taille qu'un avion de ligne, ont déjà vu le jour comme l'E-plane, utilisant une pile à combustible de type PEMFC (Proton Exchange Membrane Fuel Cell : pile à combustible à membrane échangeuse de protons).

*D'après le magazine de l'Espace Européen de la Recherche, et l'ouvrage "La Pile à Combustible" de M. Boudellal (Ed. Dunod)*

Dans cette partie, nous nous intéressons au principe de fonctionnement de la pile à combustible de type PEMFC. Celle-ci est constituée (voir **LA FIGURE 2 DE L'ANNEXE EN PAGE 11**) de deux électrodes (en général des dépôts de poudre de carbone sur un support) séparées par un électrolyte.

Cette pile à combustible utilise deux gaz stockés extérieurement qui arrivent chacun sur une des électrodes. Le fonctionnement de la pile repose sur une réaction d'oxydoréduction au niveau de ces électrodes.

### Données :

- couples oxydant-réducteur :  $\text{H}^+(\text{aq}) / \text{H}_2(\text{g})$  et  $\text{O}_2(\text{g}) / \text{H}_2\text{O}(\ell)$

2.1. Quels sont les noms des deux gaz qui alimentent la pile en continu ?

En utilisant les données, écrire les équations des réactions aux électrodes.

En déduire l'équation de la réaction modélisant la transformation ayant lieu dans la pile.

2.2. Indiquer, sur **LA FIGURE 2 DE L'ANNEXE EN PAGE 11**, le sens de circulation des électrons dans le circuit extérieur à la pile alimentant le moteur ainsi que le sens conventionnel de circulation du courant électrique.

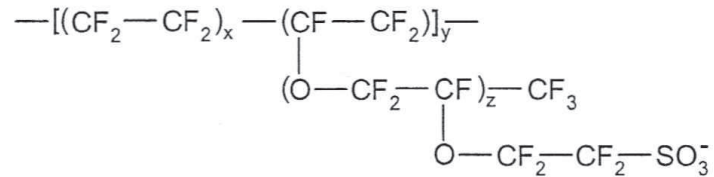
Indiquer quelle électrode correspond au pôle positif de la pile.

2.3. Des protons  $\text{H}^+$  sont échangés entre les électrodes au cours de la réaction. Indiquer le sens de circulation des protons dans l'électrolyte sur **LA FIGURE 2 DE L'ANNEXE EN PAGE 11**.

2.4. Sur les électrodes, des catalyseurs sont déposés sous forme de très fines particules : du platine à la cathode, du platine et du ruthénium à l'anode.

Définir un catalyseur.

2.5. L'électrolyte est une fine membrane (de l'ordre de quelques dizaines de micromètres) dont le rôle est d'isoler les électrodes l'une de l'autre, tout en laissant circuler les ions. Le matériau le plus utilisé est le Nafion™ constitué par la répétition de la structure représentée **figure 3**.



**Figure 3.**

Le squelette du Nafion™ étant hydrophobe et les groupes sulfoniques ( $\text{SO}_3^-$ ) hydrophiles, cette espèce chimique est qualifiée d'amphiphile.

Que signifie le terme hydrophile ?

Citer une autre espèce chimique usuelle possédant le caractère amphiphile.

2.6. Du point de vue de l'environnement et en considérant les produits formés lors de leurs fonctionnements, quel est l'avantage d'une pile à combustible par rapport à un moteur d'avion alimenté par un carburant classique tel que le kérosène ?

## EXERCICE II. CONDENSATEUR ET ÉCLAIRAGE D'UN TRAIN MINIATURE (5,5 points)

Le modélisme ferroviaire est une activité qui passionne petits et grands.

Ce loisir repose sur la reproduction la plus fidèle possible de l'activité ferroviaire à échelle réduite, le plus couramment à l'échelle 1/87.

L'alimentation des trains miniatures se fait traditionnellement par les rails en 12 V continu.

Moteurs des locomotives, éclairages des matériels roulants ou fixes, signalisations, aiguillages..., autant d'éléments qui demandent à l'amateur une bonne connaissance de l'électricité et beaucoup d'ingéniosité.

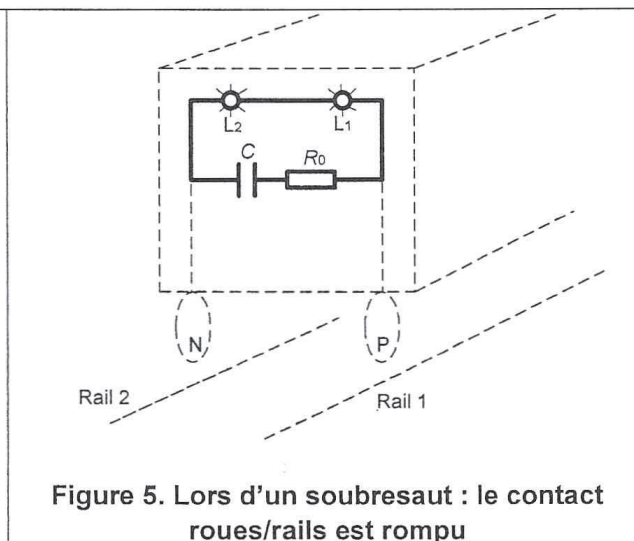
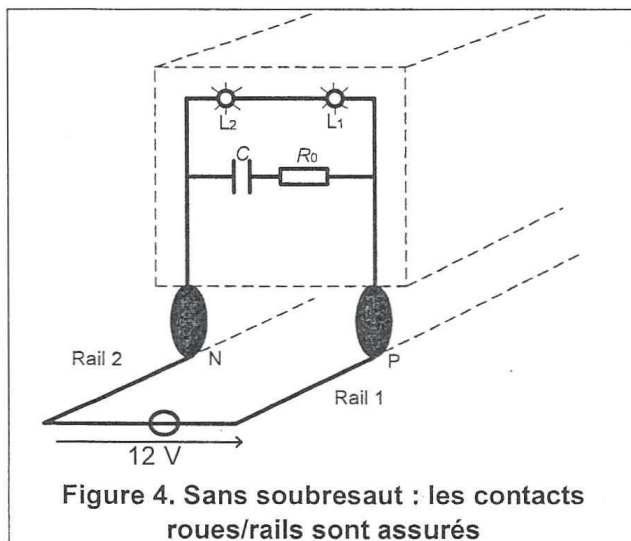
Il s'agit d'étudier un dispositif qui permet aux feux arrière de rester allumés lors des coupures d'alimentation au cours des soubresauts du train sur la voie.

### 1. Utilisation de lampes à incandescence

Le dernier wagon du train comporte un circuit électrique relié aux deux roues arrière. Ce circuit est composé :

- de deux lampes à incandescence  $L_1$  et  $L_2$  qui sont les deux feux de fin de convoi ;
- d'un condensateur de capacité :  $C = 1000 \mu\text{F}$  ;
- d'un conducteur ohmique de résistance :  $R_0 = 10 \Omega$  ;
- d'une alimentation de force électromotrice :  $E = 12 \text{ V}$ .

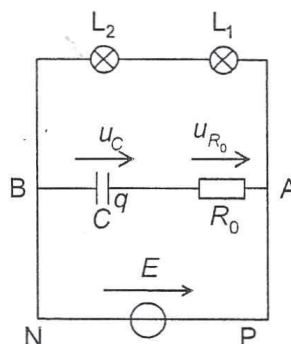
Les figures 4 et 5 représentent les deux situations possibles d'éclairage des feux de fin de convoi. Les circuits électriques y sont représentés en gras.



#### 1.1. Déplacement du train sans soubresaut

Le circuit électrique de la figure 6 représente les branchements du circuit de la figure 4. On choisit les conventions électriques suivantes :

Figure 6.





- 1.1.1. Répondre qualitativement aux deux questions suivantes :
- Pendant la charge du condensateur, les lampes de fin de convoi sont-elles parcourues par un courant ?
  - Lorsque le condensateur est totalement chargé, existe-t-il un courant circulant dans la branche AB le contenant ?
- 1.1.2. Déterminer la valeur de la tension aux bornes du condensateur lorsqu'il est complètement chargé. Justifier.
- 1.1.3. Estimer l'ordre de grandeur du temps de charge du condensateur en s'aidant du calcul de la constante de temps  $\tau$  du dipôle  $(R_0, C)$ .

## 1.2. Déplacement du train avec soubresauts

En prenant de la vitesse, le train peut avoir des soubresauts et le contact train/rails est alors rompu pendant une durée  $\Delta t_{\text{soubresaut}}$  de l'ordre du dixième de seconde.

Pendant le soubresaut le condensateur se décharge dans les lampes. Sur le circuit électrique de la **figure 7** (correspondant à situation de la **figure 5**), on choisit les conventions électriques suivantes :

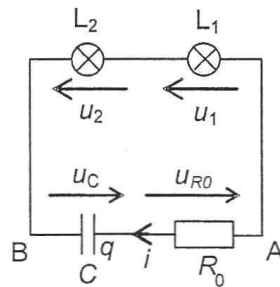


Figure 7.

### Données :

- au début du soubresaut :  $u_C(t = 0) = E = 12 \text{ V}$  ;
- les lampes  $L_1$  et  $L_2$  sont identiques et assimilables à deux conducteurs ohmiques de résistances :  $R_1 = R_2 = R = 100 \Omega$  ;
- durée du soubresaut :  $\Delta t_{\text{soubresaut}} = 0,10 \text{ s}$ .

1.2.1. Montrer que, pendant le soubresaut, l'équation différentielle relative à la tension  $u_C$  aux bornes du condensateur est de la forme :  $u_C + (2R + R_0) \cdot C \cdot \frac{du_C}{dt} = 0$ .

1.2.2. Vérifier que  $u_C(t) = A \cdot e^{-\frac{t}{(2R+R_0)C}}$  est une solution de l'équation différentielle précédente et déterminer la valeur de A.

1.2.3. Donner l'expression de l'intensité  $i(t)$  du courant. En déduire le signe de l'intensité  $i(t)$ .

1.2.4. L'expression de la puissance instantanée consommée par chaque lampe en fonction de l'intensité est donnée par la relation :  $p(t) = R \cdot i^2(t)$ .

On propose sur **LES FIGURES 8, 9 et 10 DE L'ANNEXE EN PAGE 12**, trois graphiques pouvant représenter l'allure de l'évolution de la puissance instantanée consommée par chaque lampe en fonction du temps, au cours de la décharge du condensateur.

En utilisant l'expression de  $i(t)$  et en justifiant, choisir la seule figure pouvant représenter cette évolution.

1.2.5. L'éclairage de chaque lampe est optimal pour une puissance consommée  $P_0 = 0,36 \text{ W}$ . Toutefois, on considère que l'éclairage est satisfaisant si la puissance consommée est supérieure ou égale à 75 % de la valeur de  $P_0$ .

- Donner la durée d'éclairage satisfaisant pour chaque lampe à l'aide d'une détermination graphique sur la courbe choisie à la question 1.2.4. (expliciter les étapes du raisonnement).
- Les lampes vont-elles éclairer de façon satisfaisante pendant toute la durée du soubresaut ?

## 2. Utilisation de diodes électroluminescentes

On peut remplacer les lampes  $L_1$  et  $L_2$  par deux diodes électroluminescentes identiques notées  $DEL_1$  et  $DEL_2$  associées en série avec un conducteur ohmique de résistance  $R_3$ . Elles ont une durée de vie plus longue et une consommation énergétique plus faible que les lampes à incandescence.

Pendant un soubresaut, le schéma du circuit électrique devient :

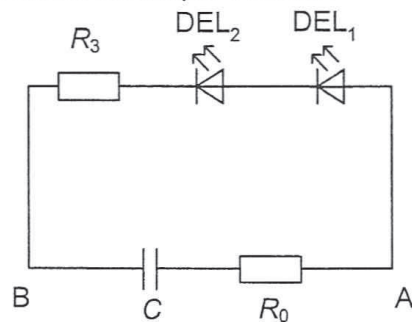


Figure 11.

Chaque diode électroluminescente émet de la lumière si elle est parcourue par un courant d'intensité supérieure à une intensité seuil  $I_{\text{seuil}} = 2,0 \text{ mA}$ .

Au début du soubresaut, à  $t = 0 \text{ s}$ , l'intensité prend sa valeur maximale  $I_{\text{max}} = 6,0 \text{ mA}$ .

### Données :

- conducteur ohmique de résistance  $R_3 = 1,5 \text{ k}\Omega$  ;

- on admet que la durée d'éclairement des diodes est de l'ordre de  $\Delta t = (R_3 + R_0) \cdot C \cdot \ln\left(\frac{I_{\text{max}}}{I_{\text{seuil}}}\right)$ .

2.1. Montrer par une analyse dimensionnelle que  $\Delta t$  a bien la dimension d'un temps.

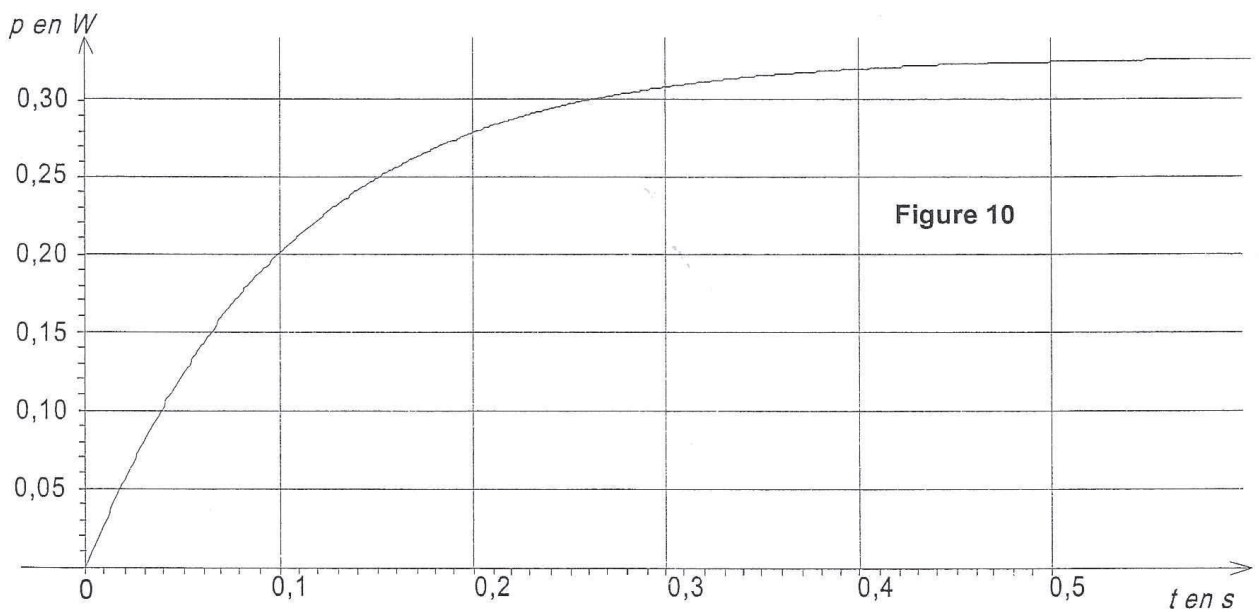
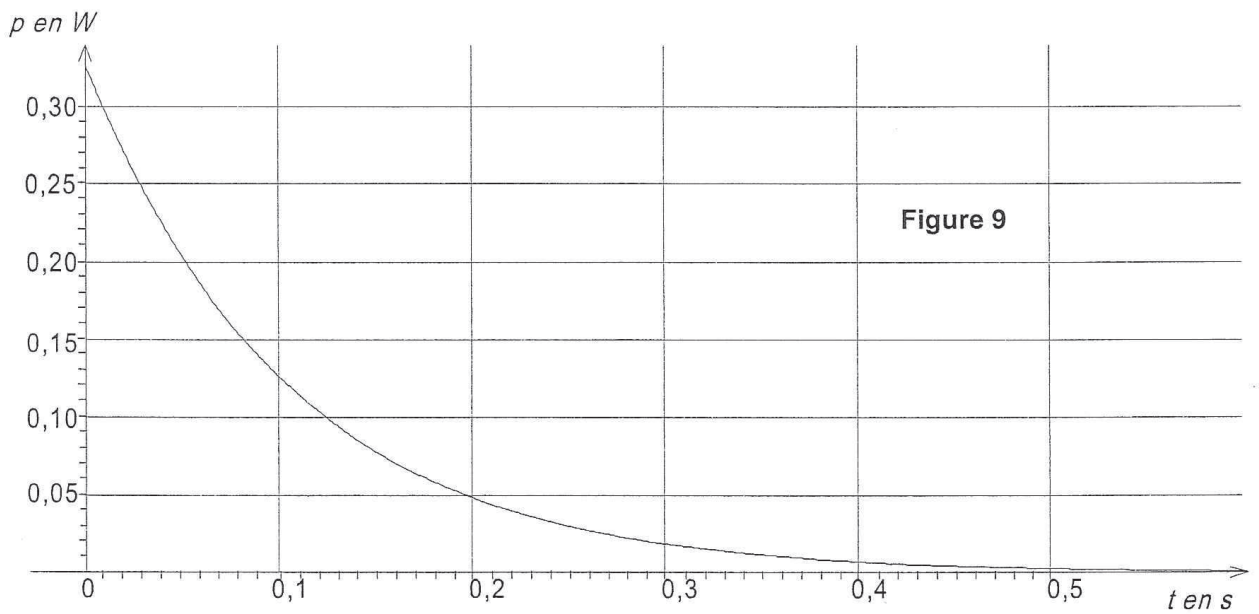
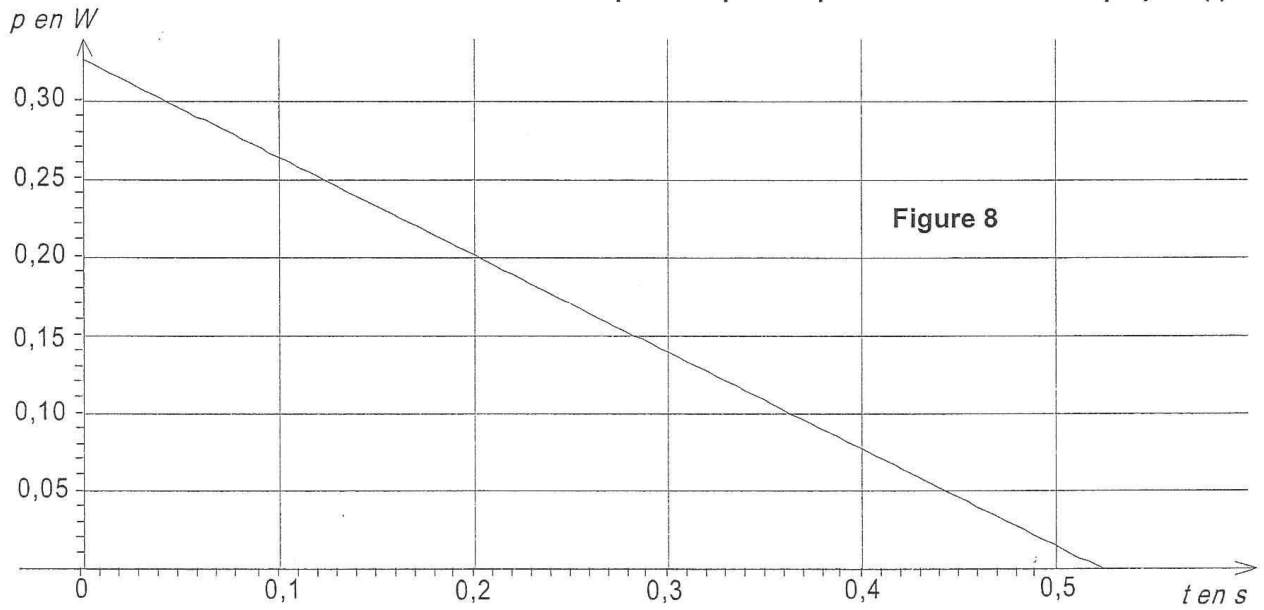
2.2. Calculer  $\Delta t$  et indiquer si les diodes électroluminescentes vont éclairer pendant toute la durée du soubresaut.



ANNEXE À RENDRE AVEC LA COPIE

ANNEXE DE L'EXERCICE II

Puissance instantanée consommée par chaque lampe en fonction du temps  $p = f(t)$



### EXERCICE III. UNE ASTUCE CULINAIRE (4 points)

«Quoi, il est pas frais mon poisson ?» Cet automatix, le forgeron du village d'Astérix et d'Obélix, adore mettre en cause la fraîcheur des produits du poissonnier Ordralfabetix. La raison ? Une odeur. Mais pas n'importe laquelle. L'odeur de poisson avarié fait partie de ces effluves nauséabonds et tenaces que l'on frémit de rencontrer.

Les substances chimiques responsables de la mauvaise odeur du poisson sont des composés azotés, les amines, comme la triméthylamine de formule  $(\text{CH}_3)_3\text{N}$ . Celle-ci est produite à la mort du poisson lors de la décomposition des protéines de l'animal par des bactéries.

Les « recettes de grand-mère » ne manquent pas pour atténuer ou se débarrasser des odeurs de poisson. La plupart d'entre elles tournent autour d'ajout de citron ou de vinaigre dans la poêle, la casserole ou sur les mains.

Extraits de « Histoires de Savoir » 27 février 2008  
Figaro.fr / Sciences

Dans cet exercice, on s'intéresse tout d'abord au dosage d'un vinaigre à usage culinaire puis au comportement de la triméthylamine dans l'eau et enfin à l'intérêt d'ajouter du vinaigre dans l'eau de cuisson d'un poisson. On admet que l'odeur nauséabonde du poisson ne provient que de la triméthylamine.

Les trois parties sont indépendantes.

#### Données :

- produit ionique de l'eau à 25 °C :  $K_e = 1,0 \times 10^{-14}$  ;
- pKa du couple  $\text{CH}_3\text{COOH}(\text{aq}) / \text{CH}_3\text{COO}^-(\text{aq})$  à 25 °C :  $\text{pKa}_1 = 4,8$  ;
- ion triméthylammonium / triméthylamine :  $(\text{CH}_3)_3\text{NH}^+(\text{aq}) / (\text{CH}_3)_3\text{N}(\text{aq})$ , qu'on peut noter  $\text{BH}^+(\text{aq}) / \text{B}(\text{aq})$  ;
- pKa du couple  $(\text{CH}_3)_3\text{NH}^+(\text{aq}) / (\text{CH}_3)_3\text{N}(\text{aq})$  à 25 °C :  $\text{pKa}_2 = 9,8$ .

#### 1. Dosage du vinaigre utilisé en cuisine

Le vinaigre est une solution aqueuse diluée contenant essentiellement de l'acide éthanoïque de formule  $\text{CH}_3\text{COOH}$ .

La solution de vinaigre commerciale, notée  $S_0$ , étant trop concentrée, on la dilue 20 fois pour obtenir une solution de vinaigre diluée notée  $S_1$ .

On prélève précisément un volume  $V_1 = 10,0$  mL de solution diluée  $S_1$  de concentration  $C_1$ .

On réalise un dosage conductimétrique de la solution  $S_1$  par une solution titrante d'hydroxyde de sodium ( $\text{Na}^+ + \text{HO}^-$ ) de concentration  $C_b = 5,0 \times 10^{-2}$  mol.L<sup>-1</sup>.

La figure 12 en page 10 représente la variation de la conductivité de la solution en fonction du volume  $V_b$  de solution titrante versé.

1.1. Écrire l'équation de la réaction support du dosage.

1.2. Déterminer graphiquement le volume  $V_E$  de solution d'hydroxyde de sodium versé à l'équivalence.

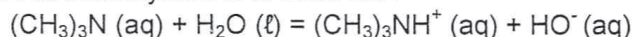
1.3. Définir l'équivalence. En déduire la concentration molaire  $C_1$  en acide éthanoïque dans la solution  $S_1$ . On pourra s'aider éventuellement d'un tableau descriptif de l'évolution du système chimique.

1.4. En déduire la concentration molaire  $C_0$  en acide éthanoïque dans la solution commerciale  $S_0$ .

#### 2. Comportement de la triméthylamine dans l'eau

On dispose d'un volume  $V = 50$  mL d'une solution aqueuse de triméthylamine de concentration molaire apportée  $C = 1,0 \times 10^{-2}$  mol.L<sup>-1</sup>. On mesure le pH de cette solution. Le pH-mètre indique 10,9.

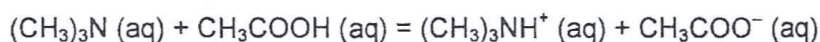
L'équation de la réaction entre la triméthylamine et l'eau est :



- 2.1. Déterminer, à l'équilibre, la concentration  $[H_3O^+]_{\text{éq}}$  en ions oxonium dans la solution à 25°C. En déduire, à l'équilibre, la concentration  $[HO^-]_{\text{éq}}$  et la quantité de matière  $n(HO^-)_{\text{éq}}$  des ions hydroxyde dans la solution.
- 2.2. Calculer la quantité de matière  $n_0$  apportée en triméthylamine.
- 2.3. Compléter le tableau descriptif de l'évolution du système donné sur la **FIGURE 13 DE L'ANNEXE EN PAGE 11**.
- 2.4. En déduire l'avancement final  $x_f$  et l'avancement maximal  $x_{\text{max}}$  de la réaction.
- 2.5. Calculer le taux d'avancement final  $\tau$  de la réaction. La transformation est-elle totale ?
- 2.6. Montrer que le rapport  $\frac{[(CH_3)_3NH^+]_{\text{éq}}}{[(CH_3)_3N]_{\text{éq}}}$  est égal à  $\frac{x_f}{n_0 - x_f}$  et le calculer.

### 3. Intérêt d'ajouter du vinaigre à l'eau de cuisson du poisson

On ajoute du vinaigre à la solution aqueuse de triméthylamine. Le pH de la solution vaut alors 6,5. L'équation de la réaction entre la triméthylamine et l'acide éthanoïque s'écrit :



3.1. Donner l'expression littérale de la constante d'acidité  $K_{a2}$  du couple  $(CH_3)_3NH^+(aq) / (CH_3)_3N(aq)$ .

En déduire l'expression du rapport  $\frac{[(CH_3)_3NH^+]_{\text{éq}}}{[(CH_3)_3N]_{\text{éq}}}$  en fonction de  $pK_{a2}$  et de pH.

3.2. Calculer la valeur de ce rapport.

3.3. Quel intérêt présente l'ajout de vinaigre à l'eau de cuisson d'un poisson ?

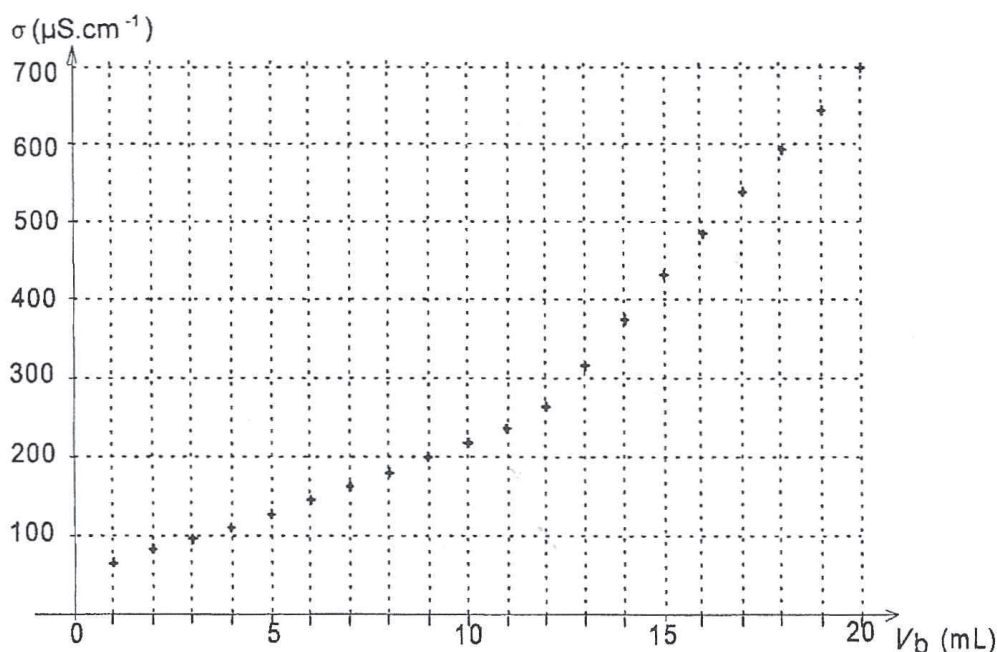


Figure 12. Variation de la conductivité de la solution en fonction du volume  $V_b$  de solution titrante versée



**ANNEXE À RENDRE AVEC LA COPIE**  
**ANNEXE DE L'EXERCICE I**

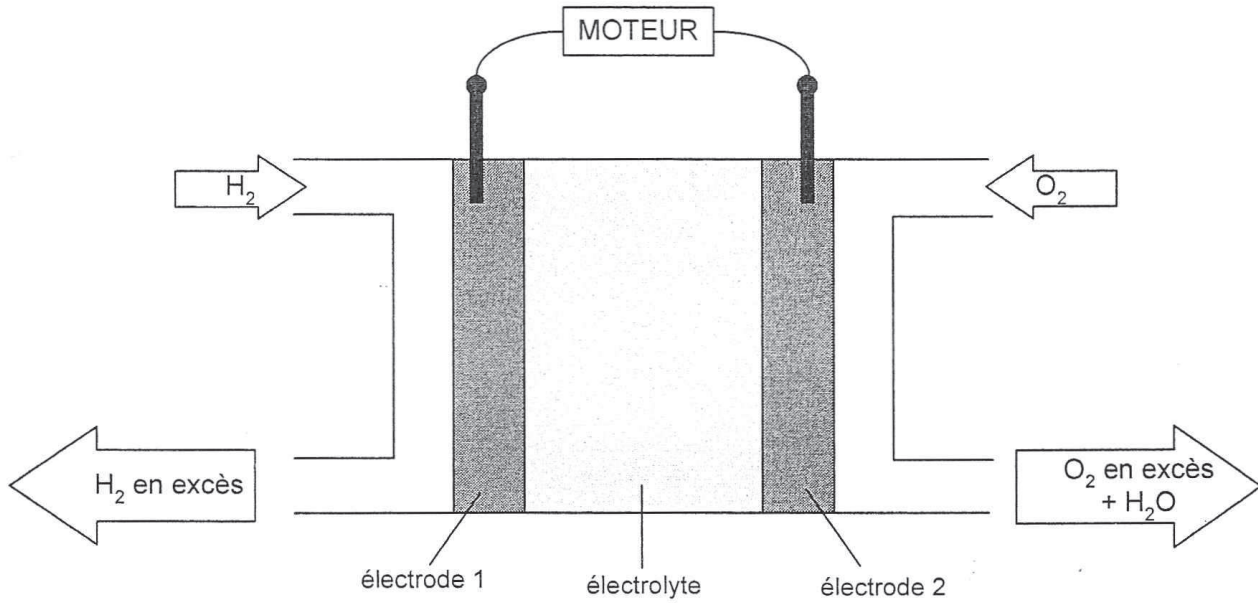


Figure 2. Schéma de la pile

**ANNEXE DE L'EXERCICE III**

Équation de la réaction		$(\text{CH}_3)_3\text{N} (\text{aq}) + \text{H}_2\text{O} (\ell) = (\text{CH}_3)_3\text{NH}^+(\text{aq}) + \text{HO}^-(\text{aq})$			
État du système	Avancement (mol)	Quantités de matière (mol)			
État initial	0				
Au cours de la transformation	x				
État final	x <sub>f</sub>				
État final en supposant la transformation totale	x <sub>max</sub>				

Figure 13. Tableau descriptif de l'évolution du système