


دوران جسم صلب غير قابل التشويه حول محور ثابت


Mouvement de rotation d'un solide autour d'un axe fixe



2 تدير الطفلة العجلة



7 ناقلات تتحرك بواسطة سلك فولاذي



4 جزء من العجلة الكبيرة لمدورة ألعاب



3 حركة القمر حول الأرض

نشاط 1: تعرف حركة دوران جسم صلب حول محور ثابت


1. تعرف الأجسام التي لها حركة إزاحة و التي تتميز بحركة دوران حول محور ثابت.

نشاط 2: انجاز و استغلال تسجيلي نقطتين من مجموعة صلبة في حركة حول محور ثابت

بالاستعانة بمنضدة هوائية ولوازمها, ننجز تسجيلي نقطتين من المجموعة {حامل ذاتي} التي في حالة دوران حول محور ثابت.

1. املأ الجدول التالي:

A ₅	A ₄	A ₃	A ₂	A ₁	
		0			t _i (s)
					Δt _i = t _{i+1} - t _{i-1}
					Δθ _i = θ _{i+1} - θ _{i-1}
					ω _i (rad/s)
				0	S _i (m)
					ΔS _i = S _{i+1} - S _{i-1}
					V _i (m/s)



2. حدد طبيعة الحركة.

3. قارن بين V_A و V_B ثم قارن بين ω_A و ω_B. ماذا تستنتج؟

4. استنتج العلاقة بين v_i السرعة الخطية و ω_i السرعة الزاوية.

5. على ورق ميليمتري و باختيار سلم مناسب مثل θ = f(t).

- a. أوجد الصيغة الرياضية لهذه المعادلة. ما هو المدلول الفيزيائي للمعامل الموجه.
- b. استنتج المعادلة الزمنية S = f(t).

التسجيل بالسلم $\frac{1}{2}$ لحركتي النقطتين A و B و τ = 40 ms