
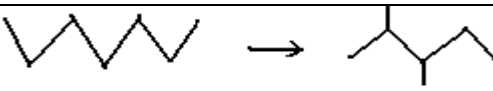


الكيمياء (8نقط) 1) اتمم الجدول التالي بإعطاء أسماء التفاعلات أو المركبات..... 2.25 ن

اسم التفاعل	معادلته الكيميائية
.....	$\text{CH}_2 = \text{CHCl} \longrightarrow \text{-(CH}_2 - \text{CHCl)-}_n$
.....	$\text{CH}_3 - \text{CH}_2\text{OH} + \text{H}^+_{\text{aq}} + \text{Cl}^-_{\text{aq}} \longrightarrow \text{CH}_3 - \text{CH}_2\text{Cl}_{\text{aq}} + \text{H}_2\text{O}_l$
.....	
.....	

2) تتوفر على مركب عضوي A صيغته الكيميائية $(\text{C}_n\text{H}_{2n}\text{O})$ وتمثل فيه نسبة كتلة الأوكسجين %27,586 = m(O)%.
1-1) أوجد قيمة n ثم أعط متماكبات المركب مع ذكر الأسماء..... 1.5ن

2-2) ما المجموعة الوظيفية المشتركة لمتماكين من هذه المتماكبات؟ وما الرانز المستعمل للكشف عنها؟..... 0.75ن

3-2) نضيف كمية من محلول فهلينغ إلى أحد المتماكين ثم نلاحظ بعد التسخين عدم ظهور أي مركب جديد.

1-3-2) عين هذا المتماكب -معللا جوابك... 0.5ن

2-3-2) علما أن هذا المتماكب ينتج عن الأوكسدة المعتدلة لكحول B_1

-أعط معللات جوابك- صيغة واسم المركب B_1 0.75 ن.

ثم نصف معادلة هذا التفاعل..... 0.75ن

4-2) ينتج المتماكب الثاني للمركب A عن أكسدة كحول B_2 بمحلول برمنغنات البوتاسيوم، المحمض بحمض الكبريتيك، في ظروف كمية معينة.

1-4-2) عين صيغة واسم هذا الكحول ثم حدد الظروف الكمية للتفاعل..... 0.75ن

2-4-2) اكتب المعادلة الكيميائية لأكسدة B_2 بمحلول برمنغنات ابوتاسيوم المحمض، في حالة استعماله بإفراط، ثم أعط اسم

الناتج العضوي..... 0.75ن

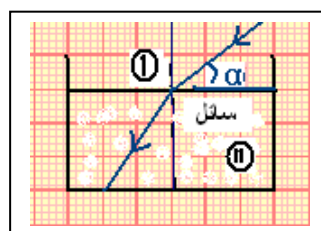
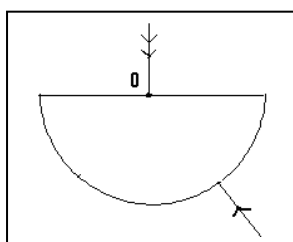
الفيزياء (12 نقطة)

1-1) اتمم مساري الشعاعين الضوئيين الواردين في الشكل الممثل جانبه معللا جوابك. 1ن

2) للتعرف على سائل ننجز التجربة المبينة على الشكل (2)

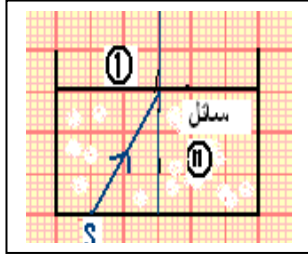
1-2) ما الظاهرة التي تبرزها التجربة؟ وما سبب ظهورها؟..... 0.75ن

2-2) عين قيمة الزاوية الورود i_1 ثم حدد الزاوية i_2 ؟ تعطي $\alpha = 45^\circ$ 1.25ن



3-2) احسب معامل انكسار السائل ثم تعرف عليه.....0.75ن

السائل	كحول خالص	الماء	الأسيتون
معامل الانكسار المطلق	1.32	1.33	1.36



3) ننجز التجربة المبينة على الشكل التالي:

0.5ن - اتم- بدون أي حساب - مسار الشعاع الضوئي المنبعث من S بدقة- معلا جوابك.....

II- نتوفر على مرآتين M_1 و M_2 ونقطتين ضوئيتين S_1 و S_2 وعين مجسدة بالنقطة O.

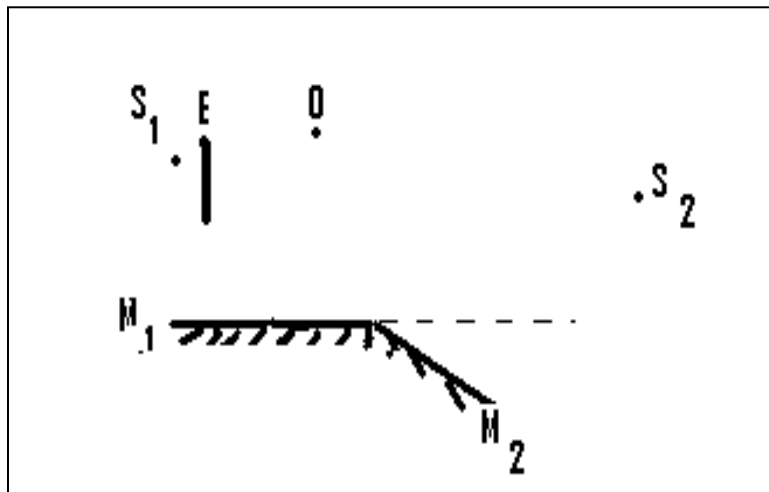
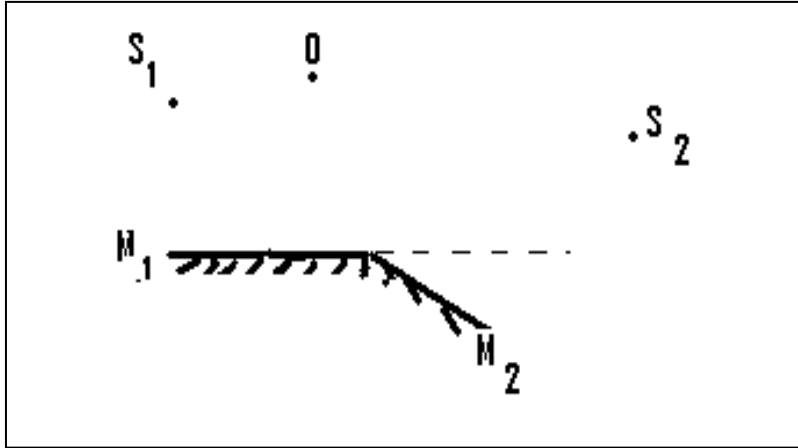
0.5ن 1) أنشئ صورة S_1 عبر المرآة M_1 ثم صورة S_2 عبر المرآة M_2

0.5ن - ما طبيعتهما؟- علل جوابك.....

1ن 2) هل ترى العين النقطتين الضوئيتين؟ علل جوابك بالإنشاء الهندسي.....

3) نضع الآن حاجزا E معتما كما هو مبين على الشكل.

1ن - أنشئ مجال رؤية النقطة الضوئية S_1 عبر M_1 ثم استنتج.....



والله ولي التوفيق.