

**مذكرة رقم 2 في درس عموميات حول الدوال**

**الأهداف القدرات المنتظرة من الدرس :**

- الدالة المكبورة، الدالة المصغورة؛ الدالة المحدودة؛ الدالة الدورية؛  
- مقارنة دالتين؛ التأويل الهندسي؛  
- مطايف دالة؛  
- رتابة دالة عددية؛  
- تركيب دالتين عدديتين؛  
- رتابة مركب دالتين رتبيتين؛  
- التمثيل المبياني للدالتين:  $x \rightarrow \sqrt{x+a}$  و  $x \rightarrow ax^3$

- مقارنة تعبيرين باستعمال مختلف التقنيات؛  
- استنتاج تغيرات دالة أو القيم القصوية والدنوية لدالة انطلاقا من تمثيلها المبياني أو من جدول تغيراتها؛  
- التعرف على تغيرات الدوال من الشكل  $f + \lambda$  و  $\lambda f$  انطلاقا من تغيرات الدالة  $f$ ؛  
- استعمال التمثيل المبياني لدالة أو جدول تغيراتها لتحديد صورة مجال ولحل بعض المعادلات والمترجمات؛  
- تحديد تغيرات  $g \circ f$  انطلاقا من تغيرات  $g$  و  $f$ .

- ينبغي تعويد التلاميذ على استنتاج تغيرات دالة عددية انطلاقا من تمثيلها المبياني. كما ينبغي الاهتمام بإنشاء المنحنيات؛  
- ينبغي تناول الحل المبياني لمعادلات و مترجمات من النوع  $f(x) \leq c$  و  $f(x) = c$  و  $f(x) < g(x)$  و  $f(x) = g(x)$  و  $f(x) \leq g(x)$  ويمكن في حدود الإمكان؛ استعمال الآلات الحاسبة والبرامج المعلوماتية المدمجة في الحاسوب والتي تمكن من دراسة الدوال؛  
- يستحسن معالجة وضعيات مختارة تنطلق من ميادين أخرى.

**I. مجموعة تعريف دالة عددية "تذكير"**

أمثلة: حدد مجموعة تعريف الدوال المعرفة كالتالي :

$$h(x) = \sqrt{2x^2 - x - 1} \quad (3) \quad g(x) = \frac{3x+1}{2x^2 - x - 1} \quad (2) \quad f(x) = 2x^3 + x + 3 \quad (1)$$

أجوبة: (1)  $f(x) = 2x^3 + x + 3$

يعني  $D_f = \mathbb{R}$  لأنها دالة حدودية

$$D_g = \{x \in \mathbb{R} / 2x^2 - x - 1 \neq 0\} \quad \text{يعني} \quad g(x) = \frac{3x+1}{2x^2 - x - 1} \quad (2)$$

نحل المعادلة باستعمال المميز  $2x^2 - x - 1 = 0$

$$c = -1 \quad \text{و} \quad b = -1 \quad \text{و} \quad a = 2$$

$$\Delta = b^2 - 4ac = (-1)^2 - 4 \times 2 \times (-1) = 1 + 8 = 9 = (3)^2 > 0$$

بما أن  $\Delta > 0$  فإن هذه المعادلة تقبل حلين هما:

$$x_2 = \frac{-b - \sqrt{\Delta}}{2a} \quad \text{و} \quad x_1 = \frac{-b + \sqrt{\Delta}}{2a}$$

$$x_2 = \frac{1-3}{2 \times 2} = \frac{-2}{4} = -\frac{1}{2} \quad \text{و} \quad x_1 = \frac{-(-1) + \sqrt{9}}{2 \times 2} = \frac{1+3}{4} = \frac{4}{4} = 1$$

$$\text{ومنه:} \quad D_g = \mathbb{R} - \left\{ -\frac{1}{2}; 1 \right\}$$

$$D_h = \{x \in \mathbb{R} / 2x^2 - x - 1 \geq 0\} \quad h(x) = \sqrt{2x^2 - x - 1} \quad (3)$$

نحدد جدول الاشارة:  $x_2 = -\frac{1}{2}$  و  $x_1 = 1$

$x$	$-\infty$	$-1/2$	$1$	$+\infty$	
$2x^2 - x - 1$	$+$	$0$	$-$	$0$	$+$

$$\text{ومنه:} \quad D_h = \left] -\infty, -\frac{1}{2} \right] \cup [1, +\infty[$$

تمرين 1: حدد مجموعة تعريف الدوال المعرفة كالتالي:

$$h(x) = \frac{x^2 + x - 3}{2|x| - 1} \quad (3) \quad g(x) = \frac{4x+1}{x^2 + x + 1} \quad (2) \quad f(x) = \frac{|x|(2x+1)}{x(2x^2 + x - 3)} \quad (1)$$

$$C(x) = \sqrt{3 - x^2} \quad (6) \quad B(x) = \frac{x^2 - 3}{|x-1| - |x+1|} \quad (5) \quad A(x) = \frac{x^2 - 3}{4|x| + 2} \quad (4)$$

$$D_f = \{x \in \mathbb{R} / x(2x^2 + x - 3) \neq 0\} \quad \text{أجوبة: (1)}$$

$$x(2x^2 + x - 3) = 0 \Leftrightarrow x = 0 \text{ و } 2x^2 + x - 3 = 0$$

$$2x^2 + x - 3 = 0 \quad \text{نحل المعادلة باستعمال المميز}$$

$$c = -3 \quad \text{و} \quad b = 1 \quad \text{و} \quad a = 2$$

$$\Delta = b^2 - 4ac = (1)^2 - 4 \times 2 \times (-3) = 1 + 24 = 25 = (5)^2 > 0$$

بما أن  $\Delta > 0$  فإن هذه المعادلة تقبل حلين هما:

$$x_2 = \frac{-b - \sqrt{\Delta}}{2a} \quad \text{و} \quad x_1 = \frac{-b + \sqrt{\Delta}}{2a}$$

$$x_2 = \frac{-1-5}{2 \times 2} = \frac{-6}{4} = -\frac{3}{2} \quad \text{و} \quad x_1 = \frac{-1+5}{2 \times 2} = \frac{4}{4} = 1$$

$$\text{ومنه:} \quad D_f = \mathbb{R} - \left\{ -\frac{3}{2}; 0; 1 \right\}$$

$$D_g = \{x \in \mathbb{R} / x^2 + x + 1 \neq 0\} \quad (2)$$

$$\Delta = b^2 - 4ac = (1)^2 - 4 \times 1 \times 1 = 1 - 4 = -3 < 0$$

ومنه المعادلة ليس لها حل في  $\mathbb{R}$

وبالتالي:  $D_g = \mathbb{R}$

$$D_h = \{x \in \mathbb{R} / 2|x| - 1 \neq 0\} \quad (3)$$

$$2|x| - 1 = 0 \Leftrightarrow |x| = \frac{1}{2} \Leftrightarrow x = \frac{1}{2} \text{ و } x = -\frac{1}{2}$$

$$\text{ومنه:} \quad D_h = \mathbb{R} - \left\{ -\frac{1}{2}; \frac{1}{2} \right\}$$

$$D_A = \{x \in \mathbb{R} / 4|x| + 2 \neq 0\} \quad (4)$$

$$4|x| + 2 = 0 \Leftrightarrow |x| = -\frac{1}{2}$$

وهذه المعادلة ليس لها حل في  $\mathbb{R}$  ومنه:  $D_A = \mathbb{R}$

$$D_B = \{x \in \mathbb{R} / |x-1| - |x+1| \neq 0\} \quad (5)$$

$$|x-1| - |x+1| = 0 \Leftrightarrow |x-1| = |x+1|$$

$$\text{ومنه:} \quad \Leftrightarrow x - 1 = x + 1 \text{ و } x - 1 = -(x + 1)$$

$$x = 0 \Leftrightarrow -1 = 1 \text{ و } 2x = 0$$

$$D_B = \mathbb{R} - \{0\} = \mathbb{R}^*$$

$$D_C = \{x \in \mathbb{R} / 3 - x^2 \geq 0\} \quad C(x) = \sqrt{3 - x^2} \quad (6)$$

$$3 - x^2 = 0 \Leftrightarrow (\sqrt{3})^2 - x^2 = 0 \Leftrightarrow (\sqrt{3} - x)(\sqrt{3} + x) = 0$$

$$\Leftrightarrow \sqrt{3} - x = 0 \text{ و } \sqrt{3} + x = 0 \Leftrightarrow x = \sqrt{3} \text{ و } x = -\sqrt{3}$$

نحدد جدول الاشارة :

$x$	$-\infty$	$-\sqrt{3}$	$\sqrt{3}$	$+\infty$
$3-x^2$	$-$	$0$	$+$	$0$

ومنه:  $D_c = [-\sqrt{3}, \sqrt{3}]$

## II. الدالة المكبورة و الدالة المصغورة و الدالة المحدودة

**نشاط:** نعتبر الدالة  $f$  المعرفة كالتالي:  $f(x) = \frac{1}{x^2+1}$

1. حدد  $D_f$  حيز تعريف الدالة  $f$

2. بين أن:  $\forall x \in \mathbb{R} f(x) \leq 1$

3. بين أن:  $\forall x \in \mathbb{R} 0 \leq f(x)$

4. ماذا تستنتج؟ ماذا نقول عن الدالة  $f$ ؟

**الأجوبة:** 1:  $D_f = \{x \in \mathbb{R} / x^2+1 \neq 0\}$

وهذه المعادلة ليس لها حل في  $\mathbb{R}$   
 $x^2 = -1 \Leftrightarrow x^2+1 = 0$   
 $D_f = \mathbb{R}$

2) نعلم أن:  $\forall x \in \mathbb{R} x^2 \geq 0$

اذن:  $x^2+1 \geq 1$  يعني  $x^2+1 \geq 0+1$

يعني  $\forall x \in \mathbb{R} f(x) \leq 1 \Leftrightarrow \frac{1}{x^2+1} \leq 1$

نقول  $f$  دالة مكبورة على  $\mathbb{R}$  بالعدد 1

سؤال: هل الدالة  $f$  مكبورة على  $\mathbb{R}$  بالعدد 2؟ نعم

3) نعلم أن:  $\forall x \in \mathbb{R} x^2 \geq 0$

اذن:  $x^2+1 \geq 1$  يعني  $x^2+1 \geq 0+1$

يعني  $\forall x \in \mathbb{R} 0 \leq f(x)$

نقول  $f$  دالة مصغورة على  $\mathbb{R}$  بالعدد 0

سؤال: هل الدالة  $f$  مصغورة على  $\mathbb{R}$  بالعدد -1؟ نعم

4) نستنتج أن:  $\forall x \in \mathbb{R} 0 \leq f(x) \leq 1$

اذن:  $f$  مكبورة و مصغورة على  $\mathbb{R}$  نقول  $f$  دالة محدودة على  $\mathbb{R}$

### 1. تعريف

لتكن  $f$  دالة عددية معرفة على مجال  $I$  من  $\mathbb{R}$ .

• نقول إن  $f$  دالة مكبورة على مجال  $I$  إذا وجد عدد حقيقي  $M$  بحيث:

$$\forall x \in I f(x) \leq M$$

• نقول إن  $f$  دالة مصغورة على مجال  $I$  إذا وجد عدد حقيقي  $m$  بحيث:

$$\forall x \in I f(x) \geq m$$

• نقول إن  $f$  دالة محدودة على مجال  $I$  إذا كانت مكبورة و مصغورة

على المجال  $I$ .

### 2. خاصية:

لتكن  $f$  دالة عددية معرفة على مجال  $I$  من  $\mathbb{R}$ . تكون  $f$  دالة محدودة

على المجال  $I$  إذا وجد عدد حقيقي  $k$  بحيث:  $\forall x \in I |f(x)| \leq k$

**تمرين 2:** حدد من بين الدوال  $f$  التالية الدوال المكبورة و المصغورة

و المحدودة

1.  $I = \mathbb{R} \quad f(x) = |x| + 6$

2.  $I = \mathbb{R} \quad f(x) = 2\cos x + 1$

3.  $I = \mathbb{R} \quad f(x) = -x^4 - 4$

4.  $I = \mathbb{R}^+ \quad f(x) = \sqrt{x} + 6$

5.  $I = \mathbb{R} \quad f(x) = \sin x - 2$

**الأجوبة:** 1: نعلم أن:  $\forall x \in \mathbb{R} |x| \geq 0$

اذن:  $|x| + 6 \geq 6$  يعني  $|x| + 6 \geq 0 + 6$

أي  $\forall x \in \mathbb{R} 6 \leq f(x)$

اذن  $f$  دالة مصغورة على  $\mathbb{R}$  بالعدد 6

2) نعلم أن:  $\forall x \in \mathbb{R} -1 \leq \cos x \leq 1$

اذن:  $-2 \leq 2\cos x \leq 2$  يعني  $-2+1 \leq 2\cos x + 1 \leq 2+1$

يعني  $\forall x \in \mathbb{R} -1 \leq f(x) \leq 3$

اذن:  $f$  دالة محدودة على  $\mathbb{R}$

3) نعلم أن:  $\forall x \in \mathbb{R} x^4 \geq 0$  يعني  $-x^4 \leq 0$  يعني  $-x^4 - 4 \leq 0 - 4$

يعني  $f(x) \leq -4$  ومنه  $f$  مكبورة على  $\mathbb{R}$  بالعدد -4

4) نعلم أن:  $\forall x \in \mathbb{R}^+ \sqrt{x} \geq 0$  يعني  $\sqrt{x} + 6 \geq 0 + 6$

يعني  $f(x) \geq 6$  ومنه  $f$  مصغورة على  $I = \mathbb{R}^+$  بالعدد 6

5) نعلم أن:  $\forall x \in \mathbb{R} -1 \leq \sin x \leq 1$

اذن:  $-2 \leq -2 \leq \sin x - 2 \leq 1 - 2$  يعني  $-3 \leq \sin x - 2 \leq -1$

يعني  $\forall x \in \mathbb{R} -3 \leq f(x) \leq -1$

اذن:  $f$  دالة محدودة على  $\mathbb{R}$

**تمرين 3:** نعتبر الدالة  $f$  المعرفة كالتالي:  $f(x) = x^2 - 2x + 5$

بين أن الدالة  $f$  مصغورة بالعدد 4

الجواب: يكفي أن نبين أن:  $\forall x \in \mathbb{R} 4 \leq f(x)$

اذن نحسب الفرق:  $f(x) - 4 = x^2 - 2x + 5 - 4 = x^2 - 2x + 1 = (x-1)^2 \geq 0$

ومنه:  $\forall x \in \mathbb{R} 4 \leq f(x)$

وبالتالي  $f$  مصغورة على  $\mathbb{R}$  بالعدد 4

**تمرين 4:** نعتبر الدالة  $f$  المعرفة كالتالي:  $f(x) = -2x^2 + 4x + 1$

بين أن الدالة  $f$  مكبورة بالعدد 3

الجواب: يكفي أن نبين أن:  $\forall x \in \mathbb{R} f(x) \leq 3$

اذن نحسب الفرق:  $3 - f(x) = 3 - (-2x^2 + 4x + 1) = 3 + 2x^2 - 4x - 1 = 2x^2 - 4x + 2 = 2(x^2 - 2x + 1) = 2(x-1)^2 \geq 0$

ومنه:  $\forall x \in \mathbb{R} f(x) \leq 3$

وبالتالي  $f$  مكبورة على  $\mathbb{R}$  بالعدد 3

**تمرين 5:** نعتبر الدالة  $f$  المعرفة كالتالي:  $f(x) = \frac{5+4x^4}{x^4+1}$

بين أن الدالة  $f$  مصغورة بالعدد 4

الجواب: يكفي أن نبين أن:  $\forall x \in \mathbb{R} 4 \leq f(x)$

اذن نحسب الفرق:

$$f(x) - 4 = \frac{5+4x^4}{x^4+1} - 4 = \frac{5+4x^4 - 4(x^4+1)}{x^4+1} = \frac{5+4x^4 - 4x^4 - 4}{x^4+1} = \frac{1}{x^4+1} \geq 0$$

ومنه:  $\forall x \in \mathbb{R} 4 \leq f(x)$

**تمرين 6:** لتكن  $f$  الدالة العددية المعرفة على  $I = [1; +\infty[$  بما يلي:

$$f(x) = -5x - \sqrt{x-1}$$

بين أن الدالة  $f$  مكبورة بالعدد -5 على  $I = [1; +\infty[$

الجواب: يكفي أن نبين أن:  $\forall x \in [1; +\infty[ f(x) \leq -5$

نعلم أن:  $\forall x \in [1; +\infty[ \sqrt{x-1} \geq 0$  يعني  $-\sqrt{x-1} \leq 0$

ولدينا:  $(2) -5x \leq -5 \Leftrightarrow x \geq 1 \Leftrightarrow x \in [1; +\infty[$

من: (1) و (2) نحصل على:  $-\sqrt{x-1} - 5x \leq 0 - 5$

يعني  $f(x) \leq -5$  ومنه  $f$  مكبورة على  $I = [1; +\infty[$  بالعدد -5

**تمرين 7:** نعتبر الدالة  $f$  المعرفة كالتالي:  $f(x) = \frac{2x^2 + 7x + 7}{x^2 + 3x + 3}$

1. حدد  $D_f$  حيز تعريف الدالة  $f$

2. بين أن الدالة  $f$  مكبورة بالعدد  $\frac{7}{3}$  على  $\mathbb{R}$ .

3. بين أن الدالة  $f$  مصغورة بالعدد 1 على  $\mathbb{R}$ .

4. ماذا تستنتج بالنسبة للدالة  $f$ ؟

الأجوبة: (1)  $D_f = \{x \in \mathbb{R} / x^2 + 3x + 3 \neq 0\}$

$$\Delta = b^2 - 4ac = 3^2 - 4 \times 3 \times 1 = 9 - 12 = -3 < 0$$

ومنه المعادلة ليس لها حل في  $\mathbb{R}$

وبالتالي:  $D_f = \mathbb{R}$

(2) يكفي أن نبين أن:  $\forall x \in \mathbb{R} f(x) \leq \frac{7}{3}$

اذن نحسب الفرق:

$$\frac{7}{3} - f(x) = \frac{7}{3} \frac{2x^2 + 7x + 7}{x^2 + 3x + 3} - \frac{7(x^2 + 3x + 3) - 3(2x^2 + 7x + 7)}{3(x^2 + 3x + 3)}$$

$$\frac{7}{3} - f(x) = \frac{7x^2 + 21x + 21 - 6x^2 - 21x - 21}{3(x^2 + 3x + 3)} = \frac{x^2}{3(x^2 + 3x + 3)}$$

بالنسبة للحدودية  $x^2 + 3x + 3$  وجدنا أن:  $\Delta < 0$

ومنه اشارتها هي اشارة  $a=1$  أي أن:  $x^2 + 3x + 3 > 0$

وبما أنه لدينا:  $x^2 \geq 0$  فان:  $\frac{x^2}{x^2 + 3x + 3} \geq 0$

ومنه:  $\forall x \in \mathbb{R} f(x) \leq \frac{7}{3}$  مكبورة بالعدد  $\frac{7}{3}$  على  $\mathbb{R}$ .

(3) يكفي أن نبين أن:  $\forall x \in \mathbb{R} 1 \leq f(x)$

اذن نحسب الفرق:

$$f(x) - 1 = \frac{2x^2 + 7x + 7}{x^2 + 3x + 3} - 1 = \frac{2x^2 + 7x + 7 - (x^2 + 3x + 3)}{x^2 + 3x + 3}$$

$$f(x) - 1 = \frac{2x^2 + 7x + 7 - x^2 - 3x - 3}{x^2 + 3x + 3} = \frac{x^2 + 4x + 4}{x^2 + 3x + 3} = \frac{(x+2)^2}{x^2 + 3x + 3}$$

بالنسبة للحدودية  $x^2 + 3x + 3$  سبق أن وضحنا أن:  $x^2 + 3x + 3 > 0$

وبما أنه لدينا:  $(x+2)^2 \geq 0$  فان:  $\frac{(x+2)^2}{x^2 + 3x + 3} \geq 0$

ومنه:  $\forall x \in \mathbb{R} 1 \leq f(x)$  الدالة  $f$  مصغورة بالعدد 1 على  $\mathbb{R}$ .

(4) وجدنا أن:  $f(x) \leq \frac{7}{3}$  و  $1 \leq f(x)$

ومنه:  $\forall x \in \mathbb{R} 1 \leq f(x) \leq \frac{7}{3}$  أي أن  $f$  محدودة على  $\mathbb{R}$

### III. الدالة الدورية

**نشاط:** نعتبر الدالة  $f$  المعرفة كالتالي:  $f(x) = \cos x$

قارن:  $f(x)$  و  $f(x+2\pi)$

الجواب:  $f(x+2\pi) = \cos(x+2\pi) = \cos x = f(x)$

#### 1. تعريف

لتكن  $f$  دالة عددية و  $D$  مجموعة تعريفها.

نقول إن  $f$  دالة دورية إذا وجد عدد حقيقي  $T$  موجب قطعاً بحيث:

• إذا كانت  $x \in D$  فان  $x+T \in D$

•  $\forall x \in D f(x+T) = f(x)$

مثال: الدوال:  $\cos$  و  $\sin$  دورية و دورهم  $T = 2\pi$

الدالة  $\tan$  دالة دورية و دورها هو:  $T = \pi$

**تمرين 8:** نعتبر الدوال  $f$  و  $g$  المعرفة على  $\mathbb{R}$

كالتالي:  $f(x) = \cos 6x$  و  $g(x) = \sin 7x$

1. بين أن الدالة  $f$  دورية و دورها  $\frac{\pi}{3}$ .

2. بين أن الدالة  $g$  دورية و دورها  $\frac{2\pi}{7}$ .

الأجوبة: (1)  $D_f = \mathbb{R}$

• إذا كانت  $x \in \mathbb{R}$  فان  $x + \frac{\pi}{3} \in \mathbb{R}$

$$f\left(x + \frac{\pi}{3}\right) = \cos 6\left(x + \frac{\pi}{3}\right) = \cos(6x + 2\pi) = \cos 6x = f(x)$$

ومنه  $f$  دورية و دورها  $\frac{\pi}{3}$ .

(2)  $D_g = \mathbb{R}$

• إذا كانت  $x \in \mathbb{R}$  فان  $x + \frac{2\pi}{7} \in \mathbb{R}$

$$g\left(x + \frac{2\pi}{7}\right) = \sin 7\left(x + \frac{2\pi}{7}\right) = \sin(7x + 2\pi) = \sin 7x = g(x)$$

$g$  دورية و دورها  $\frac{2\pi}{7}$ .

### IV. مطايف دالة عددية

**نشاط 1:** لتكن  $f$  الدالة العددية المعرفة على  $\mathbb{R}$  بما يلي:  $f(x) = x^2 + 2$

1. أحسب:  $f(0)$

2. بين أن:  $f(0) \leq f(x)$  على  $\mathbb{R}$  وماذا تستنتج؟

الأجوبة: (1)  $D_f = \mathbb{R}$  و  $f(0) = 2$

(2) نعلم أن:  $\forall x \in \mathbb{R} 0 \leq x^2$

اذن:  $2 \leq x^2 + 2$  يعني  $0 + 2 \leq x^2 + 2$

يعني  $\forall x \in \mathbb{R} f(0) \leq f(x)$

نقول  $f(0)$  هي قيمة دنيا للدالة  $f$  على  $\mathbb{R}$

**نشاط 2:** تكن  $f$  دالة معرفة ب:  $f(x) = -2x^2 + 4x + 1$

(1) أحسب  $f(1)$  و تأكد أن:  $f(x) = -2\left(x-1\right)^2 - \frac{3}{2}$

(2) تأكد أن:  $f(x) \leq f(1)$  أي  $f$  مهما تكن  $x$  من  $\mathbb{R}$ .

الأجوبة: (1)  $D_f = \mathbb{R}$  و  $f(1) = 3$

(2) نعلم أن:  $\forall x \in \mathbb{R} 0 \leq (x-1)^2$

اذن:  $-\frac{3}{2} \leq (x-1)^2 - \frac{3}{2}$  يعني  $0 - \frac{3}{2} \leq (x-1)^2 - \frac{3}{2}$

يعني  $\forall x \in \mathbb{R} f(x) \leq 3$  يعني  $(-2)\left(-\frac{3}{2}\right) \geq (-2)\left((x-1)^2 - \frac{3}{2}\right)$

يعني  $\forall x \in \mathbb{R} f(x) \leq f(1)$

نقول  $f(1)$  هي قيمة قصوى للدالة  $f$  على  $\mathbb{R}$

**تعريف:** لتكن  $f$  دالة عددية معرفة على مجال  $I$  و  $a$  عنصراً من المجال  $I$

■ نقول إن  $f(a)$  هي القيمة القصوى للدالة  $f$  على المجال  $I$ , إذا كان:

$$\forall x \in I f(x) \leq f(a)$$

■ نقول إن  $f(a)$  هي القيمة الدنيا للدالة  $f$  على المجال  $I$ , إذا كان:

$$\forall x \in I f(x) \geq f(a)$$

**تمرين 9:** لتكن  $f$  دالة معرفة ب:  $f(x) = 2x^2 + 2x + 3$ .

بين أن:  $f(-1)$  هي قيمة دنيا للدالة  $f$  على  $\mathbb{R}$

**الجواب:** يكفي أن نبين أن:  $\forall x \in \mathbb{R} f(-1) \leq f(x)$

$$f(-1) = 2 - 2 + 3 = 3$$

اذن نحسب الفرق:

$$\frac{1}{2}f(x) = \frac{x^2+1-2x\sqrt{x^2+1}+x^2}{2} = \frac{(\sqrt{x^2+1})^2 - 2\sqrt{x^2+1}x + x^2}{2} = \frac{(\sqrt{x^2+1}-x)^2}{2} \geq 0$$

ومنه  $f$  مكبورة بالعدد  $\frac{1}{2}$ .

### V. مقارنة الدالتين

**نشاط 1:** لتكن الدالتين العدديتين  $f$  و  $g$  المعرفتين على  $\mathbb{R}$  بما يلي:

$$f(x) = 2x - 1 \quad \text{و} \quad g(x) = x^2$$

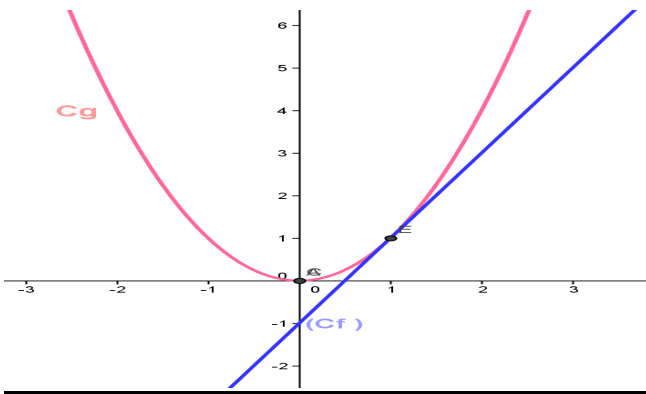
1. مثل الدالتين  $f$  و  $g$  في نفس المعلم

2. أدرس إشارة الفرق:  $g(x) - f(x)$  وماذا تستنتج مبيانياً؟

(الأجوبة: 1)  $D_f = \mathbb{R}$  و  $D_g = \mathbb{R}$  لأنهم دوال حدودية

$x$	3	2	1	0	1	2	3
$g(x)$	9	4	1	0	1	4	9

$x$	0	1
$f(x)$	1	1



$$g(x) \geq f(x) \quad \text{ومنه} \quad g(x) - f(x) = x^2 - 2x + 1 = (x-1)^2 \geq 0 \quad (2)$$

نقول أننا قمنا بمقارنة للدالتين  $f$  و  $g$  وجدنا أن  $g \geq f$

مبيانياً نلاحظ أن منحنى الدالة  $g$  يوجد فوق منحنى الدالة  $f$

**نشاط 2:** لتكن  $f$  و  $g$  الدالتين العدديتين المعرفتين كالتالي:

$$f(x) = x \quad \text{و} \quad g(x) = x^2$$

1. حدد  $D_g$  و  $D_f$

2. أرسم في معلم متعامد ممنظم منحنى الدالتين  $f$  و  $g$

3. قارن  $f$  و  $g$

**تعريف:** لتكن  $f$  و  $g$  دالتين عدديتين و  $D_f$  و  $D_g$  على التوالي مجموعة تعريفهما.

نقول إن  $f$  تساوي  $g$  ونكتب  $f = g$  إذا وفقط إذا كان:

$$(\forall x \in D_f) \quad f(x) = g(x) \quad \text{و} \quad D_g = D_f$$

**تعريف:** لتكن  $f$  و  $g$  دالتين عدديتين معرفتين على مجال  $I$ . نقول إن  $f$  أصغر من أو يساوي  $g$  على مجال  $I$  ونكتب  $f \leq g$  إذا وفقط إذا كان:

$$(\forall x \in I) \quad f(x) \leq g(x)$$

**التأويل الهندسي:**  $f \leq g$  على مجال  $I$  يعني هندسياً أن منحنى الدالة  $f$  يوجد تحت منحنى الدالة  $g$  على المجال  $I$ .

**ملحوظة:**

•  $f < g$  على المجال  $I$

إذا وفقط إذا كان:  $(\forall x \in I) \quad f(x) < g(x)$

•  $f \geq 0$  على المجال  $I$  إذا وفقط إذا كان:  $(\forall x \in I) \quad f(x) \geq 0$

$$f(x) - f(-1) = 2x^2 + 2x + 1 - 3 = 2x^2 + 2x - 2$$

$$\Delta = b^2 - 4ac = 2^2 - 4 \times 2 \times (-2) = 4 + 16 = 20 > 0$$

اذن: إشارة الحدودية هي إشارة  $a=2$  اذن:  $2x^2 + 2x - 2 > 0$

ومنه:  $f(-1) \leq f(x)$

وبالتالي:  $f(-1)$  هي القيمة الدنيا للدالة  $f$  على  $\mathbb{R}$

**تمرين 10:** نعتبر الدالة  $f$  المعرفة كالتالي:  $f(x) = \frac{x^2+1}{x^2+x+1}$

1. حدد  $D_f$  حيز تعريف الدالة  $f$

2. بين أن  $f(1)$  هي القيمة الدنيا للدالة  $f$  على  $\mathbb{R}$ .

3. بين أن  $f(-1)$  هي القيمة القصوى للدالة  $f$  على  $\mathbb{R}$ .

(الأجوبة: 1)  $D_f = \{x \in \mathbb{R} / x^2 + x + 1 \neq 0\}$

$$\Delta = b^2 - 4ac = 1^2 - 4 \times 1 \times 1 = 1 - 4 = -3 < 0$$

ومنه المعادلة ليس لها حل في  $\mathbb{R}$  وبالتالي:  $D_f = \mathbb{R}$

(2) يكفي أن نبين أن:  $\forall x \in \mathbb{R} \quad f(1) \leq f(x)$

$$f(1) = \frac{1^2+1}{1^2+1+1} = \frac{2}{3}$$

$$f(x) - f(1) = \frac{x^2+1}{x^2+x+1} - \frac{2}{3} = \frac{3x^2+3-2(x^2+x+1)}{3(x^2+x+1)} = \frac{x^2-2x+1}{3(x^2+x+1)}$$

$$\text{اذن:} \quad f(x) - f(1) = \frac{(x-1)^2}{3(x^2+x+1)}$$

بالنسبة للحدودية:  $x^2+x+1 > 0$  وجدنا  $\Delta < 0$

اذن: إشارة الحدودية هي إشارة  $a=1$  أي:  $x^2+x+1 > 0$

ونعلم أن:  $(x-1)^2 \geq 0$  اذن:  $f(x) - f(1) \geq 0$

ومنه:  $\forall x \in \mathbb{R} \quad f(1) \leq f(x)$

وبالتالي:  $f(1)$  هي القيمة الدنيا للدالة  $f$  على  $\mathbb{R}$ .

(3) يكفي أن نبين أن:  $\forall x \in \mathbb{R} \quad f(x) \leq f(-1)$

$$f(-1) = \frac{(-1)^2+1}{(-1)^2-1+1} = 2$$

$$f(-1) - f(x) = 2 - \frac{x^2+1}{x^2+x+1} = \frac{2(x^2+x+1) - (x^2+1)}{x^2+x+1} = \frac{x^2+2x+1}{x^2+x+1}$$

$$\text{اذن:} \quad f(-1) - f(x) = \frac{(x+1)^2}{x^2+x+1}$$

بالنسبة للحدودية:  $x^2+x+1 > 0$  سبق أن بيننا أن  $x^2+x+1 > 0$

ونعلم أن:  $(x+1)^2 \geq 0$  اذن:  $f(-1) - f(x) \geq 0$

ومنه:  $\forall x \in \mathbb{R} \quad f(x) \leq f(-1)$

وبالتالي:  $f(-1)$  هي القيمة القصوى للدالة  $f$  على  $\mathbb{R}$ .

**تمرين 11:** نعتبر الدالة  $f$  المعرفة على  $\mathbb{R}$  كالتالي:

$$f(x) = x\sqrt{x^2+1} - x^2 \quad \text{بين أن الدالة } f \text{ مكبورة بالعدد } \frac{1}{2}$$

**الجواب:** يكفي أن نبين أن:  $\forall x \in \mathbb{R} \quad f(x) \leq \frac{1}{2}$

$$\frac{1}{2} - f(x) = \frac{1}{2} - x\sqrt{x^2+1} + x^2 = \frac{1-2x\sqrt{x^2+1}+2x^2}{2} = \frac{1-2x\sqrt{x^2+1}+2x^2}{2}$$

**الجواب:**  $(g \circ f)(x) = g(f(x)) = g(x+1) = (x+1)^2 = x^2 + 2x + 1$

$$(f \circ g)(x) = f(g(x)) = f(x^2) = x^2 + 1$$

نلاحظ:  $g \circ f \neq f \circ g$

**تمرين 15:** لتكن  $f$  و  $g$  الدالتين العدديتين المعرفتين كالتالي:

$$f(x) = -x + 1 \quad \text{و} \quad g(x) = x^3 - x \quad \text{حدد} \quad (g \circ f)(x)$$

**الجواب:**  $(g \circ f)(x) = g(f(x)) = g(-x+1) = (-x+1)^3 - (-x+1)$

$$(g \circ f)(x) = (1-x)^3 - (-x+1) = 1^3 - 3 \times 1 \times x + 3 \times 1 \times x^2 - x^3 + x - 1$$

$$(g \circ f)(x) = 1^3 - 3x + 3x^2 - x^3 + x - 1 = -x^3 + 3x^2 - 2x$$

**تعريف:** لتكن  $f$  و  $g$  دالتين عدديتين و  $D_g$  و  $D_f$  على التوالي مجموعة تعريفهما.

$$D_{g \circ f} = \{x \in \mathbb{R} / x \in D_f \text{ و } f(x) \in D_g\}$$

الدالة العددية  $h$  المعرفة على  $D_{g \circ f}$  بما يلي:  $h(x) = g(f(x))$

تسمى مركب الدالتين  $f$  و  $g$  في هذا الترتيب ويرمز لها بالرمز  $g \circ f$

$$\forall x \in D_{g \circ f} \quad (g \circ f)(x) = g(f(x)) \quad \text{ومنه:}$$

**تمرين 16:** لتكن  $f$  و  $g$  الدالتين العدديتين المعرفتين كالتالي:

$$f(x) = x - 1 \quad \text{و} \quad g(x) = \sqrt{x}$$

حدد:  $D_g$  و  $D_f$  و  $D_{g \circ f}$  ثم أحسب  $(g \circ f)(x)$

$$\text{الجواب: } D_g = \mathbb{R} \quad \text{و} \quad D_f = [0, +\infty[ \quad \text{و} \quad D_{g \circ f} = \{x \in \mathbb{R} / x \geq 0\}$$

$$D_{g \circ f} = \{x \in \mathbb{R} / x \in D_f \text{ و } f(x) \in D_g\}$$

$$D_{g \circ f} = \{x \in \mathbb{R} / x \in \mathbb{R} \text{ و } f(x) \in [0, +\infty[ \}$$

$$D_{g \circ f} = \{x \in \mathbb{R} / x \in \mathbb{R} \text{ و } x+1 \in [0, +\infty[ \}$$

$$D_{g \circ f} = \{x \in \mathbb{R} / x \geq -1\} \Leftrightarrow D_{g \circ f} = \{x \in \mathbb{R} / x+1 \geq 0\}$$

$$D_{g \circ f} = [-1, +\infty[$$

$$(g \circ f)(x) = g(f(x)) = g(x-1) = \sqrt{x-1}$$

**تمرين 17:** لتكن  $f$  و  $g$  الدالتين العدديتين المعرفتين كالتالي:

$$f(x) = x - 3 \quad \text{و} \quad g(x) = \sqrt{x+1}$$

حدد:  $D_g$  و  $D_f$  و  $D_{g \circ f}$  ثم أحسب  $(g \circ f)(x)$

$$\text{الجواب: } D_f = \mathbb{R}$$

$$D_g = \{x \in \mathbb{R} / x+1 \geq 0\} = \{x \in \mathbb{R} / x \geq -1\} = [-1, +\infty[$$

$$D_{g \circ f} = \{x \in \mathbb{R} / x \in D_f \text{ و } f(x) \in D_g\}$$

$$D_{g \circ f} = \{x \in \mathbb{R} / x \in \mathbb{R} \text{ و } f(x) \in [-1, +\infty[ \}$$

$$D_{g \circ f} = \{x \in \mathbb{R} / x - 3 \in [-1, +\infty[ \}$$

$$D_{g \circ f} = \{x \in \mathbb{R} / x \geq 2\} \Leftrightarrow D_{g \circ f} = \{x \in \mathbb{R} / x - 3 \geq -1\}$$

$$D_{g \circ f} = [2, +\infty[$$

$$(g \circ f)(x) = g(f(x)) = g(x-3) = \sqrt{x-3+1} = \sqrt{x-2}$$

## VII. رتبة دالة عددية

**نشاط 1:** لتكن  $f$  و  $g$  الدالتين العدديتين المعرفتين كالتالي:

$$f(x) = 4x - 3 \quad \text{و} \quad g(x) = -3x + 2$$

أدرس رتبة  $f$  و  $g$

أجوبة:

$$D_f = \mathbb{R} \quad (1) \quad \text{لأنها دالة حدودية}$$

**تمرين 12: تطبيقي:** قارن الدالتين العدديتين  $f$  و  $g$  المعرفتين كالتالي:

$$f(x) = 4x^2 \quad \text{و} \quad g(x) = 4x - 1$$

واعط تأويلا مبيانيا للنتيجة

**الجواب:**  $D_g = \mathbb{R}$  و  $D_f = \mathbb{R}$  لأنهم دوال حدودية

$$f(x) - g(x) = 4x^2 - 4x + 1 = (2x - 1)^2 \geq 0$$

ومنه:  $f \geq g$  بالتالي منحى الدالة  $f$  يوجد فوق منحى

الدالة  $g$  على  $\mathbb{R}$ .

**تمرين 13:** أدرس الوضع النسبي لمنحى الدالة  $f$  و منحى الدالة  $g$  حيث

$$f(x) = x + \frac{1}{x+1} \quad \text{و} \quad g(x) = x$$

**الجواب:**  $D_g = \mathbb{R}$  و  $D_f = \mathbb{R} - \{-1\}$

$$f(x) - g(x) = x + \frac{1}{x+1} - x = \frac{1}{x+1}$$

ندرس إشارة  $x+1$ :

**الحالة 1:** إذا كانت  $x > -1$  فإن  $f \geq g$  بالتالي منحى الدالة  $f$  يوجد فوق

منحى الدالة  $g$  على  $]-1; +\infty[$ .

**الحالة 2:** إذا كانت  $x < -1$  فإن  $g \geq f$  بالتالي منحى الدالة  $f$  يوجد تحت

منحى الدالة  $g$  على  $]-\infty; -1[$ .

**تمرين 14:** نعتبر الدالتين  $f$  و  $g$  المعرفتين على  $\mathbb{R}$  كالتالي:

$$f(x) = x^2 - 3x + 5 \quad \text{و} \quad g(x) = -x^2 + 2x + 2$$

أدرس الوضع النسبي لمنحى الدالة  $f$  و منحى الدالة  $g$

**الجواب:**  $D_g = \mathbb{R}$  و  $D_f = \mathbb{R}$

$$f(x) - g(x) = x^2 - 3x + 5 - (-x^2 + 2x + 2) = 2x^2 - 5x + 3$$

ندرس إشارة  $2x^2 - 5x + 3$ :

$$a = 2 \quad \text{و} \quad b = -5 \quad \text{و} \quad c = 3$$

$$\Delta = b^2 - 4ac = (-5)^2 - 4 \times 2 \times 3 = 25 - 24 = 1 > 0$$

بما أن  $\Delta > 0$  فإن لهذه الحدودية جذرين هما:

$$x_1 = \frac{-b + \sqrt{\Delta}}{2a} \quad \text{و} \quad x_2 = \frac{-b - \sqrt{\Delta}}{2a}$$

$$x_1 = \frac{5+1}{2 \times 2} = \frac{6}{4} = \frac{3}{2} \quad \text{و} \quad x_2 = \frac{5-1}{2 \times 2} = \frac{4}{4} = 1$$

$x$	$-\infty$	1	$3/2$	$+\infty$	
$2x^2 - 5x + 3$	+	0	-	0	+

**الحالة 1:** إذا كانت  $x \geq 3/2$  أو  $x \leq 1$  فإن  $f \geq g$

بالتالي منحى الدالة  $f$  يوجد فوق منحى الدالة  $g$

على  $]-\infty, 1] \cup \left[\frac{3}{2}, +\infty[$ .

**الحالة 2:** إذا كانت  $1 < x < 3/2$  فإن  $g \geq f$  بالتالي منحى

الدالة  $f$  يوجد تحت منحى الدالة  $g$  على  $\left]1, \frac{3}{2}\right[$ .

## VI. مركب دالتين

**نشاط 1:** لتكن  $f$  و  $g$  الدالتين العدديتين المعرفتين كالتالي:

$$f(x) = x + 1 \quad \text{و} \quad g(x) = x^2$$

حدد:  $(g \circ f)(x) = g(f(x))$  و

$(f \circ g)(x) = f(g(x))$  ماذا تلاحظ؟

ليكن  $x_1 \in \mathbb{R}$  و  $x_2 \in \mathbb{R}$  بحيث  $x_1 < x_2$

اذن :  $4x_1 < 4x_2$  اذن :  $4x_1 - 3 < 4x_2 - 3$

اذن :  $f(x_1) < f(x_2)$

ومنه الدالة  $f$  تزايدية على  $\mathbb{R}$

(2)  $D_g = \mathbb{R}$  لأنها دالة حدودية

ليكن  $x_1 \in \mathbb{R}$  و  $x_2 \in \mathbb{R}$  بحيث  $x_1 < x_2$

اذن :  $-3x_1 > -3x_2$  اذن :  $-3x_1 + 2 > -3x_2 + 2$  اذن :

$g(x_1) > g(x_2)$

ومنه الدالة  $g$  تناقصية على  $\mathbb{R}$

**نشاط 2:** لتكن  $f$  الدالة العددية المعرفة كالتالي :  $f(x) = 2x^2$

(1) حدد  $D_f$

(2) أدرس رتبة  $f$  على كل من المجالين :  $[0; +\infty[$  و  $] -\infty; 0]$

(3) حدد جدول تغيرات

**أجوبة:** (1)  $D_f = \mathbb{R}$  لأنها دالة حدودية

(2) أ) دراسة رتبة الدالة  $f$  على المجال  $[0; +\infty[$  :

ليكن :  $x_1 \in [0; +\infty[$  و  $x_2 \in [0; +\infty[$  بحيث  $x_1 < x_2$

اذن :  $x_1^2 < x_2^2$  ومنه  $2x_1^2 < 2x_2^2$  أي  $f(x_1) < f(x_2)$

ومنه الدالة  $f$  تزايدية على  $[0; +\infty[$

ب) دراسة رتبة الدالة  $f$  على المجال  $] -\infty; 0]$  :

ليكن :  $x_1 \in ] -\infty; 0]$  و  $x_2 \in ] -\infty; 0]$  بحيث  $x_1 < x_2$

اذن :  $x_1^2 > x_2^2$  ومنه  $2x_1^2 > 2x_2^2$  أي  $f(x_1) > f(x_2)$

ومنه الدالة  $f$  تناقصية على  $] -\infty; 0]$

(3) حدد جدول تغيرات الدالة  $f$ .

$x$	$-\infty$	$0$	$+\infty$
$f(x)$		$0$	

**منحنى تغيرات دالة عددية**

**تعريف:** لتكن  $f$  دالة عددية و  $I$  مجالا ضمن مجموعة تعريفها.

•  $f$  تزايدية قطعاً على المجال  $I$  إذا وفقط إذا كان :

$$(\forall (x_1, x_2) \in I^2) (x_1 < x_2 \Rightarrow f(x_1) < f(x_2))$$

•  $f$  تناقصية قطعاً على المجال  $I$  إذا وفقط إذا كان :

$$(\forall (x_1, x_2) \in I^2) (x_1 < x_2 \Rightarrow f(x_1) > f(x_2))$$

•  $f$  ثابتة على المجال  $I$  إذا وفقط إذا كان :

$$(\forall (x_1, x_2) \in I^2) f(x_1) = f(x_2)$$

**ملحوظة:** يمكن دراسة رتبة دالة  $f$  على مجال  $I$  بدراسة إشارة معدل

$$\frac{f(x_2) - f(x_1)}{x_2 - x_1}$$

مع  $x_1$  و  $x_2$  عنصرين مختلفين من  $I$

• نقول إن  $f$  دالة رتيبة على  $I$  إذا كانت  $f$  تزايدية قطعاً أو تناقصية قطعاً على مجال  $I$ .

**خاصية:** لتكن  $f$  دالة عددية مجموعة تعريفها  $D_f$  متماثلة بالنسبة للصفر.

ليكن  $I$  مجالا من  $\mathbb{R}^+$  ضمن  $D_f$  و  $I'$

مماثل  $I$  بالنسبة للصفر

(1) إذا كانت  $f$  دالة زوجية فان :

•  $f$  تزايدية قطعاً على المجال  $I$  إذا وفقط إذا كانت

$f'$  تناقصية قطعاً على المجال  $I'$

•  $f$  تناقصية قطعاً على المجال  $I$  إذا وفقط إذا كانت

$f'$  تزايدية قطعاً على المجال  $I'$

(2) إذا كانت  $f$  دالة فردية فان :

$f$  لها نفس الرتبة على كل من المجالين  $I$  و  $I'$

**VIII. رتبة مركب الدالتين :**

**خاصية:** لتكن  $f$  و  $g$  دالتين عدديتين معرفتين على التوالي

على المجالين  $I$  و  $J$  بحيث :  $f(x) \in J$  ( $\forall x \in I$ ) لدينا :

• إذا كانت  $f$  تزايدية قطعاً على  $I$  و  $g$  تزايدية قطعاً على  $J$

فان :  $g \circ f$  تزايدية قطعاً على  $I$

• إذا كانت  $f$  تناقصية قطعاً على  $I$  و  $g$  تناقصية قطعاً على  $J$

فان :  $g \circ f$  تزايدية قطعاً على  $I$

• إذا كانت  $f$  تزايدية قطعاً على  $I$  و  $g$  تناقصية قطعاً على  $J$

فان :  $g \circ f$  تناقصية قطعاً على  $I$

• إذا كانت  $f$  تناقصية قطعاً على  $I$  و  $g$  تزايدية قطعاً على  $J$

فان :  $g \circ f$  تناقصية قطعاً على  $I$

**IX. التمثيل المبياني للدالتين  $x \rightarrow \sqrt{x+a}$  و  $x \rightarrow ax^3$  :**

**مثال 1:** لتكن  $f$  الدالة العددية للمتغير الحقيقي  $x$  المعرفة

$$f(x) = \sqrt{x+2}$$

1. حدد  $D_f$  مجموعة تعريف الدالة  $f$

2. أدرس رتبة الدالة  $f$  على  $D_f$  وحدد جدول تغيرات  $f$

3. أنشئ التمثيل المبياني للدالة  $f$  في معلم متعامد ممنظم .

(الجواب : (1)  $D_f = \{x \in \mathbb{R} / x+2 \geq 0\} = \{x \in \mathbb{R} / x \geq -2\} = [-2; +\infty[$

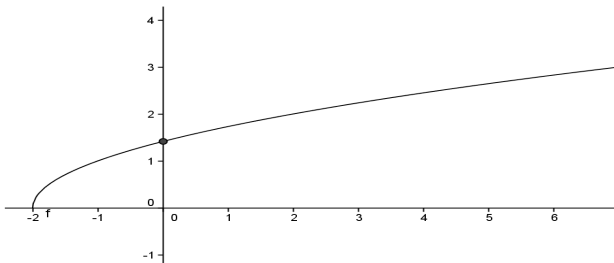
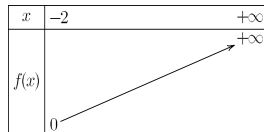
(2) ليكن :  $x_1 \in [-2; +\infty[$  و  $x_2 \in [-2; +\infty[$  بحيث  $x_1 < x_2$

اذن :  $x_1 + 2 < x_2 + 2$  ومنه  $\sqrt{x_1 + 2} < \sqrt{x_2 + 2}$  أي  $f(x_1) < f(x_2)$

ومنه الدالة  $f$  تزايدية على  $[-2; +\infty[$

(3)

$x$	-2	-1	0	2	7
$f(x)$	0	1	$\sqrt{2}$	2	3



**مثال 2:** لتكن  $f$  الدالة العددية للمتغير الحقيقي  $x$

$$f(x) = \frac{1}{4}x^3$$

1. حدد  $D_f$  مجموعة تعريف الدالة  $f$  و بين أن الدالة  $f$  تزايدية قطعاً

على  $D_f$

2. حدد جدول تغيرات  $f$

3. أنشئ التمثيل المبياني للدالة  $f$  في معلم متعامد ممنظم .

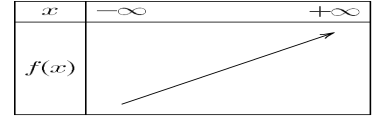
**الجواب (1):**  $D_f = \mathbb{R}$  لأنها دالة حدودية

ليكن :  $x_1 \in \mathbb{R}$  و  $x_2 \in \mathbb{R}$  بحيث  $x_1 < x_2$

اذن:  $x_1^3 < x_2^3$  ومنه  $\frac{1}{4} \times x_1^3 < \frac{1}{4} \times x_2^3$  أي  $f(x_1) < f(x_2)$

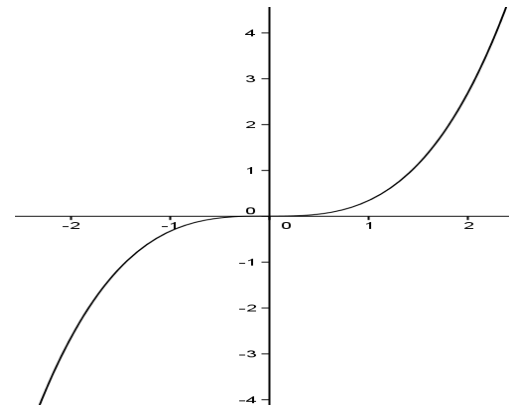
ومنه الدالة  $f$  تزايدية على  $\mathbb{R}$

(2)



(3)

$x$	-3	-2	-1	0	1	2	3
$f(x)$	6.5	-2	-1/4	0	1/4	2	6.5



### تمارين للبحث:

**تمرين 1:** نعتبر الدالتين  $f$  و  $g$  المعرفتين كالتالي :

$$g(x) = \frac{2x+1}{x-2} \quad \text{و} \quad f(x) = \frac{1}{x}$$

1. حدد  $D_{g \circ f}$  حيز تعريف الدالة  $g \circ f$

2. حدد صيغة الدالة  $g \circ f$

**تمرين 2:** نعتبر الدالتين  $f$  و  $g$  المعرفتين كالتالي :  $f(x) = x^2 + 2$  و  $g(x) = \sqrt{x}$

1. حدد صيغة الدالة  $g \circ f$

2. تأكد أن الدالة  $g \circ f$  زوجية

3. أدرس رتبة كل من الدالتين  $f$  و  $g$

**تمرين 3:** لتكن  $f$  الدالة العددية للمتغير الحقيقي  $x$  المعرفة كالتالي :  $f(x) = -\frac{1}{2}x^3$

1. حدد  $D_f$  مجموعة تعريف الدالة  $f$

2. بين أن الدالة  $f$  تناقصية قطعاً على  $D_f$  و حدد جدول تغيرات  $f$

3. أنشئ التمثيل المبياني للدالة  $f$  في معلم متعامد ممنظم .