

**مذكرة رقم 8 في درس الدوران**

**الأهداف القدرات المنتظرة من الدرس :**

محتوى البرنامج	القدرات المنتظرة	توجيهات تربوية
- تعريف الدوران؛ الدوران العكسي لدوران - الحفاظ على المسافة وعلى قياس زاوية موجهة وعلى المرجح. - صورة مستقيم وقطعة ودائرة بدوران.	- إنشاء صور أشكال اعتيادية بدوران معلوم؛ - التعرف على تقايس الأشكال باستعمال الدوران؛ - استعمال دوران معلوم في وضعية هندسية بسيطة.	- يعرف الدوران انطلاقا من مركزه وزاويته - يعتبر إدخال الإحداثيات والصيغة التحليلية للدوران وتركيب دورانين خارج المقرّر.

**I. الدوران و الدوران العكسي**

لتكن  $\Omega$  نقطة من المستوى الموجه و  $\alpha = \frac{\pi}{3} = 60^\circ$  ولتكن  $A$  و  $B$  نقطتين من المستوى الموجه

أرسم النقطة  $A'$  بحيث :  
نقول  $A'$  هي صورة  $A$  بالدوران  $r$  الذي مركزه  $\Omega$  زاويته  $\alpha$

بنفس الطريقة نرسم صورة  $B$  بالدوران  $r$  الذي مركزه  $\Omega$  زاويته  $\alpha$

**(1) تعريف الدوران**

لتكن  $\Omega$  نقطة من المستوى الموجه و  $\alpha$  عددا حقيقيا  
الدوران الذي مركزه  $\Omega$  زاويته  $\alpha$  هو التحويل في المستوى الذي يربط  
كل نقطة  $M$  من المستوى بالنقطة  $M'$  المعرفة كالتالي  
نرمز للدوران الذي مركزه  $\Omega$  زاويته  $\alpha$  بالرمز  $r(\Omega; \alpha)$  أو  $r$  إذا

لم يكن هناك التباس

لم يكن هناك التباس  
 $r(M) = M'$  تقرأ :  $M'$  هي صورة  $M$  بالدوران  $r$

- إذا كان  $M = \Omega$  فان  $M' = \Omega$
- إذا كان  $M \neq \Omega$  فان  $\begin{cases} \Omega M = \Omega M' \\ (\overline{\Omega M}, \overline{\Omega M'}) = \alpha [2\pi] \end{cases}$

**(2) الدوران العكسي لدوران**

**تعريف :** لتكن  $\Omega$  نقطة من المستوى الموجه و  $\alpha$  عددا حقيقيا  
الدوران  $r(\Omega; -\alpha)$  الذي مركزه  $\Omega$  زاويته  $-\alpha$  يسمى الدوران العكسي

للدوران  $r(\Omega; \alpha)$  الذي مركزه  $\Omega$  زاويته  $\alpha$

- الدوران العكسي لدوران  $r$  يرمز له بالرمز  $r^{-1}$
- لكل نقطة  $M$  من المستوى لدينا :  
 $r^{-1}(M') = M \Leftrightarrow r(M) = M'$

**II. خاصيات :**

**خاصية 1 : الحفاظ على المسافة:** إذا كانت  $A$  و  $B$  نقطتين من المستوى  
و  $A'$  و  $B'$  صورتا  $A$  و  $B$  على التوالي بدوران فان :  
 $AB = A'B'$   
نقول الدوران يحافظ على المسافة

**خاصية 2 :** ليكن  $r$  دورانا زاويته  $\alpha$ . إذا كانت  $A'$  و  $B'$  صورتا  
نقطتين مختلفتين  $A$  و  $B$  على التوالي بالدوران  $r$   
فان :  $(\overline{AB}, \overline{A'B'}) = \alpha [2\pi]$

**ملحوظة:** تمكنا هذه الخاصية من تحديد زاوية دوران انطلاقا من نقطتين  
مختلفتين وصورتيهما

**تمرين 1:** مثلث متساوي الساقين وقائم الزاوية في  $A$  بحيث :  
 $(\overline{AB}, \overline{AC}) = \frac{\pi}{2} [2\pi]$

ولیکن  $O$  منتصف القطعة  $[BC]$

1. أنشئ صورة المثلث  $ABC$  بالدوران  $r$  الذي مركزه  $A$  وزاويته  $\frac{\pi}{2}$

2. أنشئ صورة المثلث  $ABC$  بالدوران  $r'$  الذي مركزه  $O$  وزاويته  $\frac{\pi}{2}$

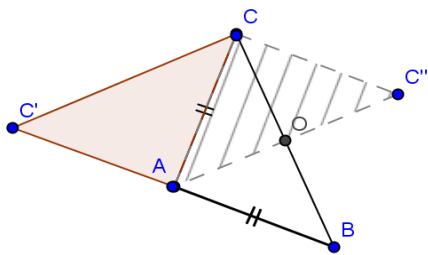
أجوبة (1) : لأن  $r(A) = A$  لأن  $A$  مركز الدوران :  $r$

$$\begin{cases} AB = AC \\ (\overline{AB}, \overline{AC}) = \frac{\pi}{2} [2\pi] \end{cases} : \text{لأن } r(B) = C \text{ و } r(C) = B$$

و  $r(B) = C$  ومنه صورة المثلث  $ABC$  بالدوران  $r$  هو المثلث  $ACC'$

(1)  $r'(A) = C$  و  $r'(B) = A$  و  $r'(C) = C''$

ومنه صورة المثلث  $ABC$  بالدوران  $r'$  هو المثلث  $ACC''$



**تمرين 2:** مثلثا  $ABC$  مثلثا ننشئ خارجه مثلثين  $ABD$  و  $ACE$  متساويي

الساقين وقائمي الزاوية في  $A$

1. بين أن :  $BE = CD$
2. بين أن :  $(BE) \perp (CD)$

**الجواب:**

نعتبر الدوران  $r$  الذي مركزه  $A$  وزاويته  $\frac{\pi}{2}$

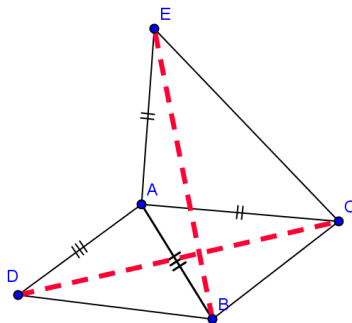
$$\begin{cases} AD = AB \\ (\overline{AD}, \overline{AB}) = \frac{\pi}{2} [2\pi] \end{cases} : \text{لدينا}$$

ومنه :  $r(D) = B$  ①

$$\begin{cases} AC = AE \\ (\overline{AC}, \overline{AE}) = \frac{\pi}{2} [2\pi] \end{cases} : \text{لدينا} \text{ ومنه : } r(C) = E \text{ ②}$$

من ① و ② وبما أن الدوران يحافظ على المسافة فان :  $BE = CD$

(2) لدينا :  $r(D) = B$  ① و  $r(C) = E$  ② ان :  
 $(\overline{CD}, \overline{EB}) = \frac{\pi}{2}$  وهذا يعني أن :  $(BE) \perp (CD)$



### خاصية 3: الحفاظ على قياس زاوية موجهة

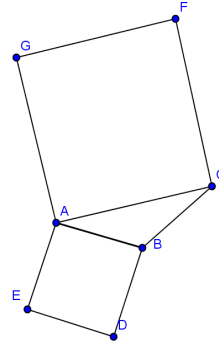
لتكن  $A$  و  $B$  و  $C$  و  $D$  نقط من المستوى بحيث  $A \neq B$  و  $C \neq D$  و  $A'$  و  $B'$  و  $C'$  و  $D'$  صورها على التوالي بدوران لدينا :  
 $(\overline{AB}, \overline{CD}) \equiv (\overline{A'B'}, \overline{C'D'}) [2\pi]$

نقول الدوران يحافظ على قياس الزوايا

**تمرين 3:** مثلث  $ABC$  مثلث بحيث القياس الرئيسي للزاوية الموجهة  $(\overline{AB}, \overline{AC})$  موجب .

ننشئ خارج المثلث  $ABC$  المربعين  $ABDE$  و  $ACFG$  نعتبر الدوران  $r$  الذي مركزه  $A$  وزاوية  $\frac{\pi}{2}$

(1) حدد  $r(E)$  و  $r(C)$  بين أن :  $(\overline{CA}, \overline{CE}) \equiv (\overline{GA}, \overline{GB}) [2\pi]$



(1) لدينا :  $\begin{cases} AE = AB \\ (\overline{AE}, \overline{AB}) \equiv \frac{\pi}{2} [2\pi] \end{cases}$  ومنه :

$$\textcircled{1} r(E) = B$$

لدينا :  $\begin{cases} AC = AG \\ (\overline{AC}, \overline{AG}) \equiv \frac{\pi}{2} [2\pi] \end{cases}$  ومنه :

$$\textcircled{2} r(C) = G$$

ولدينا :  $r(A) = A$  لأن  $A$  مركز الدوران

$r :$

(2) من  $\textcircled{1}$  و  $\textcircled{2}$  و  $\textcircled{3}$  وبما أن الدوران يحافظ على قياس الزوايا فان :  
 $(\overline{CA}, \overline{CE}) \equiv (\overline{GA}, \overline{GB}) [2\pi]$

### خاصية 4: الحفاظ على المرجح

ليكن  $G$  مرجح النقطتين المترنتين  $(A; \alpha)$  و  $(B; \beta)$

إذا كانت  $A'$  و  $B'$  و  $G'$  صور  $A$  و  $B$  و  $G$  على التوالي بدوران  $r$  فان :  $G'$  هي مرجح النقطتين المترنتين  $(A'; \alpha')$  و  $(B'; \beta')$

**ملحوظة:** يمكننا تعميم هذه الخاصية على مرجح ثلاث أو أربع نقط.

### استنتاج: الحفاظ على المنتصف

ليكن  $I$  منتصف القطعة  $[AB]$

إذا كانت  $A'$  و  $B'$  و  $I'$  صور  $A$  و  $B$  و  $I$  على التوالي بدوران فان :  $I'$  هي منتصف القطعة  $[A'B']$

### خاصية 5: الحفاظ على معامل استقامية متجهتين

لتكن  $A'$  و  $B'$  و  $C'$  صور  $A$  و  $B$  و  $C$  على التوالي بدوران

إذا كان :  $\overline{AC} = k \overline{AB}$  حيث  $k$  عدد حقيقي فان :  $\overline{A'C'} = k \overline{A'B'}$

**تمرين 4:**  $ABCD$  مربع مركزه  $O$  بحيث :  $(\overline{OA}, \overline{OB}) \equiv \frac{\pi}{2} [2\pi]$

و  $I$  و  $J$  نقطتان من المستوى بحيث :  $\overline{AI} = \frac{1}{4} \overline{AB}$  و  $\overline{BJ} = \frac{1}{4} \overline{BC}$

وليكن  $r$  الدوران الذي مركزه  $O$  وزاوية  $\frac{\pi}{2}$

بين أن :  $OI = OJ$  وأن :  $(OI) \perp (OJ)$

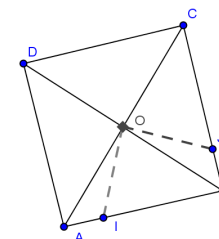
### الجواب:

يكفي أن نبين أن :  $r(I) = J$  ؟؟؟؟

نضع :  $r(I) = I'$

لدينا :  $\begin{cases} OA = OB \\ (\overline{OA}, \overline{OB}) \equiv \frac{\pi}{2} [2\pi] \end{cases}$  ومنه :

$$r(A) = B$$



ولدينا :  $\overline{AI} = \frac{1}{4} \overline{AB}$  اذن :  $\overline{BI'} = \frac{1}{4} \overline{BC}$  لأن الدوران : الحفاظ على

معامل استقامية متجهتين

ونعلم أن :  $\overline{BJ} = \frac{1}{4} \overline{BC}$   $\textcircled{2}$

من  $\textcircled{1}$  و  $\textcircled{2}$  نستنتج أن :  $\overline{BI'} = \overline{BJ}$  أي  $I' = J$  أي  $r(I) = J$

وبالتالي :  $\begin{cases} OI = OJ \\ (\overline{OI}, \overline{OJ}) \equiv \frac{\pi}{2} [2\pi] \end{cases}$

**تمرين 5:** مثلث  $ABC$  مثلث قائم الزاوية  $A$  ومتساوي الساقين فبحيث :

$[BC]$  و  $O$  منتصف القطعة  $(\overline{AB}, \overline{AC}) \equiv \frac{\pi}{2} [2\pi]$

وليكن  $D$  بحيث :  $\overline{AD} = \frac{2}{3} \overline{AB}$  وليكن  $E$  بحيث :  $\overline{CE} = \frac{2}{3} \overline{CA}$

باعتبار الدوران  $r$  الذي مركزه  $O$  وزاويته  $\frac{\pi}{2}$  بين أن المثلث  $ODE$

قائم الزاوية ومتساوي الساقين في  $O$

الجواب : يكفي أن نبين أن :

$$r(E) = D$$

نضع :  $r(E) = E'$

لدينا :  $\begin{cases} OA = OC \\ (\overline{OC}, \overline{OA}) \equiv \frac{\pi}{2} [2\pi] \end{cases}$  ومنه :

$$\textcircled{1} r(C) = A$$

ولدينا :  $\begin{cases} OA = OB \\ (\overline{OA}, \overline{OB}) \equiv \frac{\pi}{2} [2\pi] \end{cases}$  ومنه :

$$\textcircled{2} r(A) = B$$

ولدينا :  $\overline{CE} = \frac{2}{3} \overline{CA}$  اذن من  $\textcircled{1}$  و  $\textcircled{2}$  و  $\textcircled{3}$  نجد أن

$\overline{AE'} = \frac{2}{3} \overline{AB}$  لأن الدوران : الحفاظ على معامل استقامية متجهتين

ونعلم أن :  $\overline{AD} = \frac{2}{3} \overline{AB}$   $\textcircled{5}$

من  $\textcircled{4}$  و  $\textcircled{5}$  نستنتج أن :  $\overline{AE'} = \overline{AD}$  أي  $E' = D$  أي  $r(E) = D$

وبالتالي :  $\begin{cases} OE = OD \\ (\overline{OE}, \overline{OD}) \equiv \frac{\pi}{2} [2\pi] \end{cases}$  يعني ان : أن المثلث  $ODE$  قائم الزاوية

ومتساوي الساقين في  $O$

### III. صور بعض الأشكال بدوران:

ليكن  $r$  دورانا و  $A$  و  $B$  و  $O$  و  $A'$  و  $B'$  و  $O'$  نقطا من

المستوى بحيث :  $r(A) = A'$  و  $r(B) = B'$  و  $r(O) = O'$

### خاصية :

■ صورة المستقيم  $(AB)$  بالدوران  $r$  هي المستقيم  $(A'B')$

■ صورة القطعة  $[AB]$  بالدوران  $r$  هي المستقيم  $[A'B']$

■ صورة الدائرة  $(O; R)$  التي مركزها  $O$  وشعاعها  $R$  بالدوران  $r$

هي الدائرة  $C'(O'; R)$  التي مركزها  $O'$  وشعاعها  $R$

### استنتاج

■ صورة نصف المستقيم  $[AB)$  بالدوران  $r$  هي نصف المستقيم  $[A'B')$

■ صورتا مستقيمين متعامدين بالدوران  $r$  هما مستقيمان متعامدان

■ صورتا مستقيمين متوازيين بالدوران  $r$  هما مستقيمان متوازيان

■ إذا كانت نقطة  $M$  تنتمي إلى تقاطع مستقيمين  $(D)$  و  $(\Delta)$  فان صورة

$M$  بالدوران  $r$  هي نقطة تقاطع صورتي

المستقيمين  $(D)$  و  $(\Delta)$  بالدوران  $r$ .

### تمارين للبحث

**تمرين 1:**  $ABCD$  مربع بحيث :  $(\overline{AB}, \overline{AD}) \equiv \frac{\pi}{2} [2\pi]$

1. حدد زاوية الدوران  $r$  الذي مركزه  $A$  و  $r(D) = B$

2. حدد زاوية الدوران  $r'$  الذي مركزه  $C$  و  $r'(D) = B$

**تمرين 2:**  $ABC$  مثلث متساوي الأضلاع بحيث :

$$(\overline{AB}, \overline{AC}) \equiv -\frac{\pi}{3} [2\pi]$$

1. حدد زاوية الدوران  $r_1$  الذي مركزه  $B$  و يحول  $A$  إلى  $C$

2. حدد مركز و زاوية الدوران  $r_2$  الذي يحول  $A$  إلى  $B$  و  $B$  إلى  $C$ .

**تمرين 3:**  $ADEF$  مربع بحيث :  $(\overline{AD}, \overline{AF}) \equiv \frac{\pi}{2} [2\pi]$

ننشئ خارجه المثلث  $CED$  متساوي الأضلاع و داخله المثلث  $BEF$  متساوي الأضلاع

1. نعتبر الدوران  $r$  الذي مركزه  $E$  و زاوية  $\frac{\pi}{3}$

بين أن :  $r(D) = C$  و  $r(F) = B$

2. لتكن  $A_1$  النقطة بحيث :  $r(A_1) = A$

(a) بين أن المثلث  $AEA_1$  متساوي الأضلاع

(b) بين أن النقط :  $A_1$  و  $D$  و  $F$  مستقيمية

(c) استنتج أن النقط :  $A$  و  $B$  و  $C$  مستقيمية

**تمرين 6:**  $ABCD$  مربع مركزه  $O$  بحيث :  $(\overline{OA}, \overline{OB}) \equiv \frac{\pi}{2} [2\pi]$  و  $(D)$

مستقيم يوازي المستقيم  $(BD)$  و يقطع  $(AD)$  في  $M$  و  $(AB)$  في  $N$

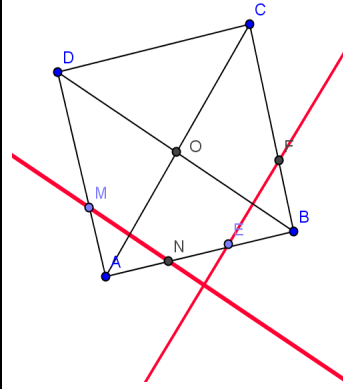
وليكن  $r$  الدوران الذي مركزه  $O$  و زاوية  $\frac{\pi}{2}$

نعتبر النقطتين  $E$  و  $F$  صورتين النقطتين  $M$  و  $N$  بالدوران  $r$  على التوالي.

1. أرسم الشكل و بين أن :  $(EF) \perp (MN)$

2. حدد صورة المستقيم  $(BD)$  بالدوران  $r$

3. أ بـين أن :  $DN = FA$  بـبين أن :  $(EF) \parallel (AC)$



الأجوبة : لدينا (1) :

$$\textcircled{1} r(M) = E$$

$$\textcircled{2} r(N) = F$$

من  $\textcircled{1}$  و  $\textcircled{2}$  نستنتج أن :

$$(\overline{MN}, \overline{EF}) \equiv \frac{\pi}{2} [2\pi]$$

$$(EF) \perp (MN)$$

(2) صورة المستقيم

$(BD)$  بالدوران  $r$ ؟؟؟

لدينا :  $\begin{cases} 0B = 0C \\ (\overline{OB}, \overline{OC}) \equiv \frac{\pi}{2} [2\pi] \end{cases}$  إذن :

$$\textcircled{1} r(B) = C$$

ولدينا :  $\begin{cases} 0D = 0A \\ (\overline{OD}, \overline{OA}) \equiv \frac{\pi}{2} [2\pi] \end{cases}$  إذن :  $\textcircled{2} r(D) = A$

من  $\textcircled{1}$  و  $\textcircled{2}$  نستنتج أن :  $r((BD)) = (AC)$

(3) أ بـين أن :  $DN = FA$ ؟؟؟

ولدينا :  $r(D) = A$  و  $r(N) = F$  و  $r(N) = F$

إذن :  $DN = FA$  لأن : الدوران يحافظ على المسافة

بـبين أن :  $(EF) \parallel (AC)$  :

لدينا :  $(MN) \parallel (BD)$  حسب المعطيات و لدينا :

$$r((MN)) = (EF) \text{ و } r((BD)) = (AC)$$

وبما أن : الدوران يحافظ على التوازي فان :  $(EF) \parallel (AC)$