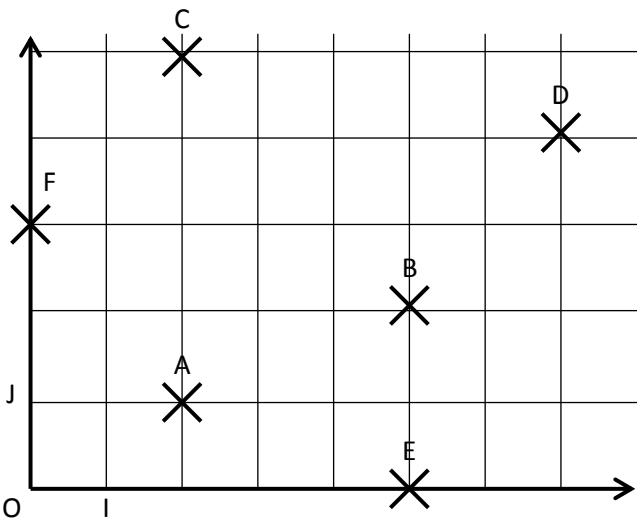


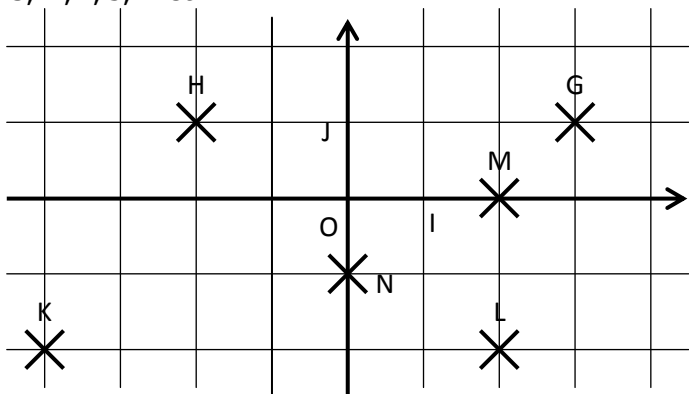
**EXERCICE 5A.1**

a. Lire dans ce repère les coordonnées des points A, B, C, D, E et F :



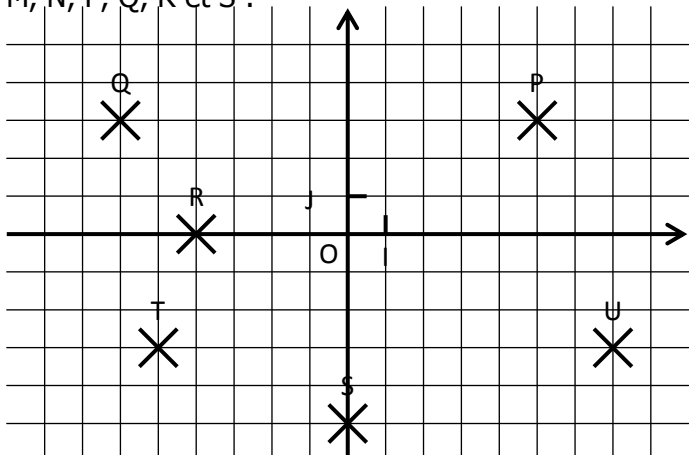
A( ... ; ... )    B( ... ; ... )    C( ... ; ... )  
 D( ... ; ... )    E( ... ; ... )    F( ... ; ... )

b. Lire dans ce repère les coordonnées des points G, H, I, J, K et L :



G( ... ; ... )    H( ... ; ... )    K( ... ; ... )  
 L( ... ; ... )    M( ... ; ... )    N( ... ; ... )

c. Lire dans ce repère les coordonnées des points M, N, P, Q, R et S :

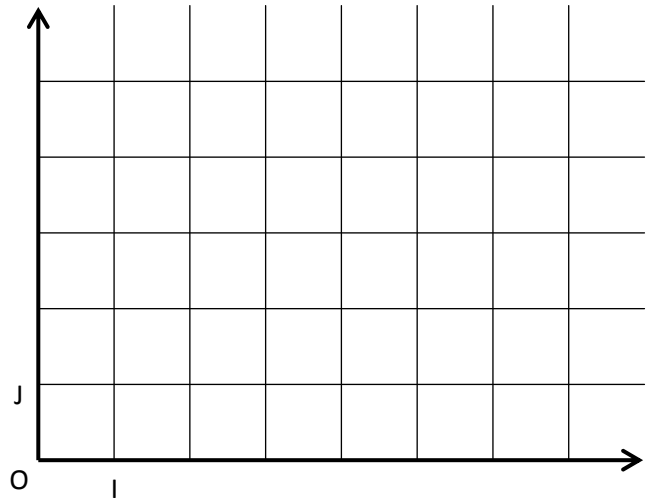


P( ... ; ... )    Q( ... ; ... )    R( ... ; ... )  
 S( ... ; ... )    T( ... ; ... )    U( ... ; ... )

**EXERCICE 5A.2**

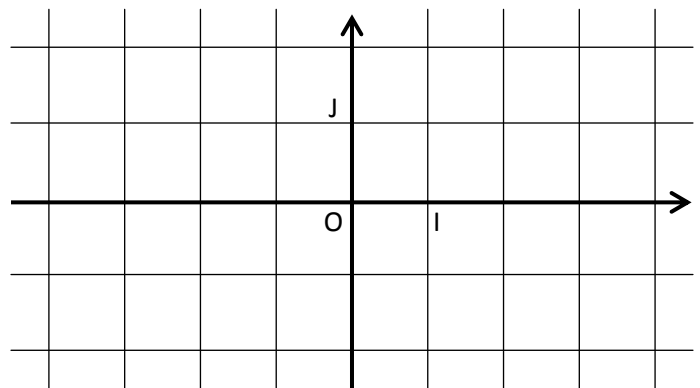
a. Placer dans ce repère les points suivants :

A(3 ; 1)    B(5 ; 2)    C(1 ; 3)  
 D(7 ; 5)    E(4 ; 0)    F(0 ; 5)



b. Placer dans ce repère les points suivants :

G(3 ; 1)    H(-2 ; 1)    K(-4 ; -2)  
 L(0 ; -2)    M(3 ; 0)    N(1,5 ; -2,5)



c. Placer dans ce repère les points suivants :

P(4 ; 5)    Q(-7 ; 2)    R(-8 ; -3)  
 S(0 ; -3)    T(5 ; -1)    U(-6 ; 2)

