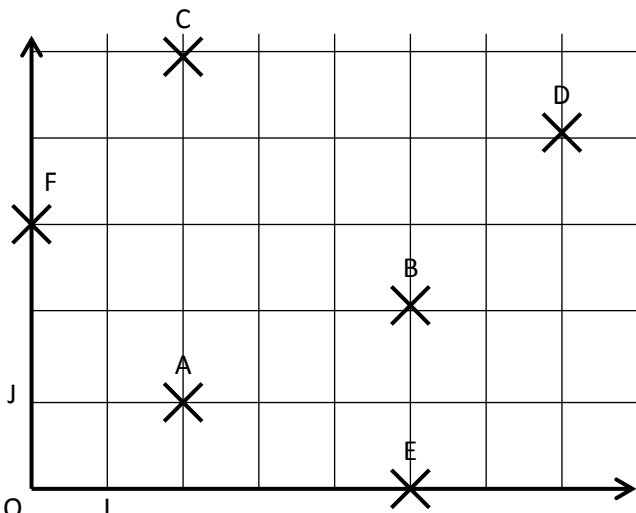


**CORRIGE - LA MERCI**

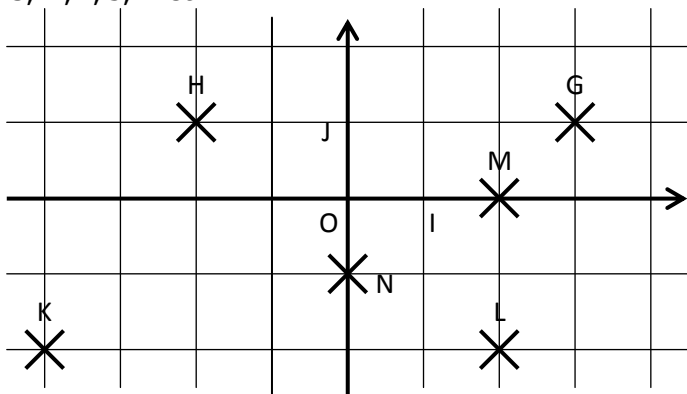
**EXERCICE 5A.1**

a.



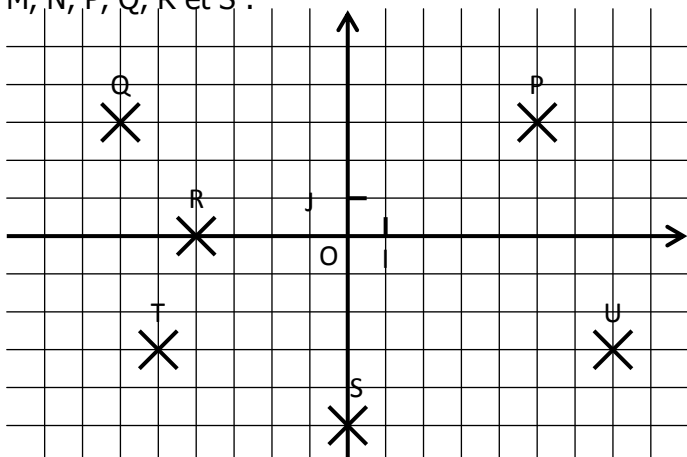
A( **2** ; **1** )      B(**5** ; **2**)      C(**2** ; **5**)  
 D(**7** ; **4**)      E(**5** ; **0**)      F(**0** ; **3**)

b. Lire dans ce repère les coordonnées des points G, H, I, J, K et L :



G(**3** ; **1**)      H(**-2** ; **1**)      K(**-4** ; **-2**)  
 L(**2** ; **-2**)      M(**2** ; **0**)      N(**0** ; **-1**)

c. Lire dans ce repère les coordonnées des points M, N, P, Q, R et S :

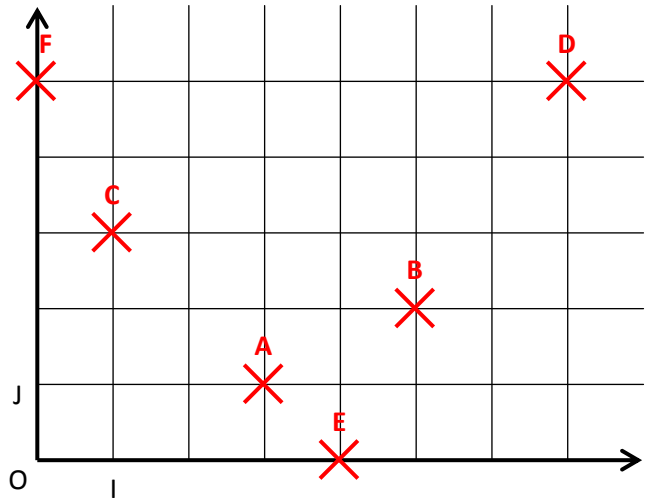


P(**5** ; **3**)      Q(**-6** ; **3**)      R(**-4** ; **0**)  
 S(**0** ; **-5**)      T(**-5** ; **-3**)      U(**7** ; **-3**)

**EXERCICE 5A.2**

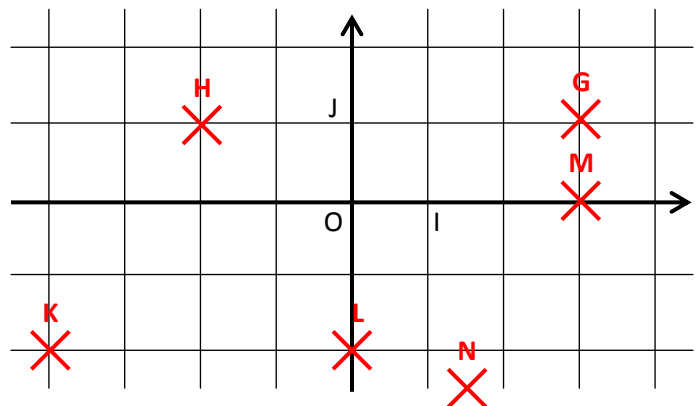
a. Placer dans ce repère les points suivants :

A(3 ; 1)      B(5 ; 2)      C(1 ; 3)  
 D(7 ; 5)      E(4 ; 0)      F(0 ; 5)



b. Placer dans ce repère les points suivants :

G(3 ; 1)      H(-2 ; 1)      K(-4 ; -2)  
 L(0 ; -2)      M(3 ; 0)      N(1,5 ; -2,5)



c. Placer dans ce repère les points suivants :

P(4 ; 5)      Q(-7 ; 2)      R(-8 ; -3)  
 S(0 ; -3)      T(5 ; -1)      U(-6 ; 2)

