

2année college

SOURCES ET RECEPTEURS DE LUMIERE

I. TEXTE INTRODUCTIF

Texte 1

Moussa est dans sa chambre, la nuit et il y a une coupure d'électricité. La photo ci-contre montre l'intérieur de la chambre.



Photo

Vue intérieure d'une chambre lors d'une coupure d'électricité

Voit – il les objets autour de lui ? Sinon que

doit – il faire pour les voir ?

Quelle est alors la condition pour que les objets soient visibles ?

Texte 2

Moussa et son ami Michel (un blanc) sont à la plage. Que la couleur de sa peau lorsque ce dernier s'expose au soleil pendant longtemps torse nu ?

Interprétation du texte 1

Pour voir les objets, Moussa doit allumer une lampe électrique, une bougie, une allumette ou attendre la levée du soleil.

La lampe électrique, la bougie, l'allumette enflammée, le soleil produisent de la lumière.

Les objets ne sont visibles que s'ils sont éclairés.

1. Les sources de lumière

Une source de lumière est tout objet qui émet de la lumière. On distingue les sources primaires et les sources secondaires

1-1 Les sources primaires

Définition : Une source primaire est tout objet qui produit et émet de la lumière. Exemples :

- les étoiles (le soleil est une étoile), le feu, les corps incandescents... sont des sources primaires chaudes.
- certains organismes vivants (luciole, algues...), les corps phosphorescents (chapelets, aiguilles ou cadrans de montre) sont des sources primaires froides.

1-2 Les sources secondaires

Définition : On appelle source secondaire, tout objet qui émet de la lumière reçue.

Exemple : Tous les objets éclairés sont des sources secondaires en particulier :

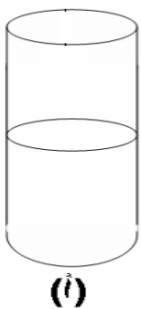
- Les astres (les planètes, la lune...)
- Les objets réfléchissants (miroir, métaux neufs...)

Remarque : Certaines sources sont naturelles (étoiles, luciole, le feu...) et d'autres sont artificielles (les lampes, les tubes fluorescents...).

2. Les récepteurs lumière : de


Observations

on forme un précipité de chlorure d'argent dans deux tubes à essais en ajoutant quelques gouttes de nitrate d'argent à une solution de chlorure de sodium ; le premier tube est exposé à la lumière : le second est placé à l'abri de la lumière



On étale de la poudre de chlorure d'argent sur un papier filtre

1



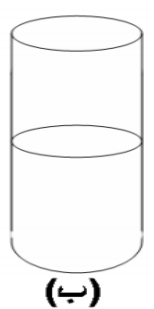
On recouvre une partie de la poudre d'argent avec une plaque opaque

2



La partie exposée à la lumière a noirci alors que la partie couverte reste blanche.

1



2

Interprétation :

Sous l'effet de la lumière solaire, le chlorure d'argent noircit : elle est sensible à la lumière. Elle a subi une transformation : c'est un récepteur de lumière.

De même, la peau de Michel devient brune ou bronzée lorsqu'elle est exposée à lumière solaire : c'est **un récepteur de lumière**

Définition :

On appelle récepteur de lumière, tout objet ou dispositif sensible à la lumière.

2. Exemples :

Les récepteurs naturels



L'œil : la rétine est excitée par la lumière provenant des objets qui pénètre dans l'œil.



La peau : exposée aux rayons solaires fabrique de la vitamine D.



Les feuilles de plantes vertes : il se produit une réaction de photosynthèse lorsque les feuilles vertes sont exposées à la lumière solaire.

Les récepteurs artificiels

- Substances chimiques : chlorure d'argent dans les pellicules photographiques, certains médicaments
- Autres : les lunettes photosensibles.
- cellules photovoltaïques ou plaque solaire

exercices d'applications :

I. Mettre une croix dans la case correspondant à la bonne réponse.

I. 1 Un objet qui produit et émet de la lumière est :

- une source primaire
 une source secondaire
 une source électrique

I. 2 Un objet qui émet de la lumière reçue est :

- une source primaire
 une source thermique
 une source secondaire

I. 3 Le soleil est une source :

- primaire
 secondaire
 artificielle

I. 4 La lune est une source :

- artificielle
 primaire
 secondaire

II. On considère les objets : 1 – cahier ; 2 – flamme de bougie ; 3 – lune ; 4 – écran de télévision ;

5 – soleil ; 6 – sol ; 7 – miroir ; 8 – mur ; 9 – œil ; 10 – ciel ; 11 – diode électroluminescente ;

12 – éclair ; 13 – charbon incandescent ; 14 – lampe à néon ; 15 – comète ; 16 – étoile ; 17 –

habit ; 18 – tableau ; 19 – panneau solaire ; 20 – plaque de zinc ; 21 – pellicule photo.

Écrire le numéro de chacun de ces objets dans la (ou les) colonne(s) qui convient (ou conviennent) :

Sources primaires		Sources secondaires	Récepteurs		Objets éclairés
Naturelles	Artificielles		Naturels	Artificiels	