
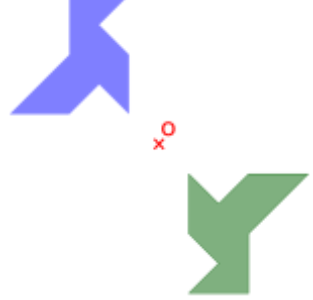
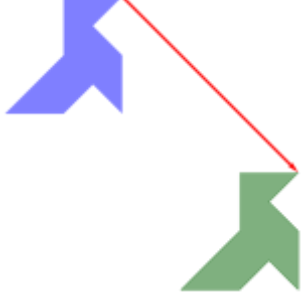
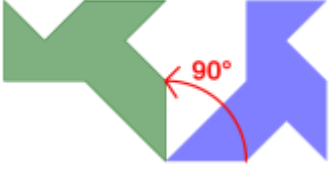
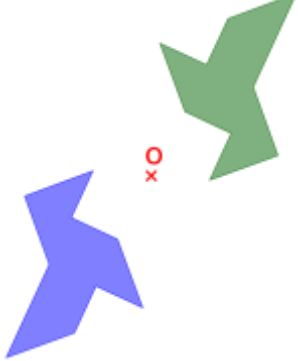
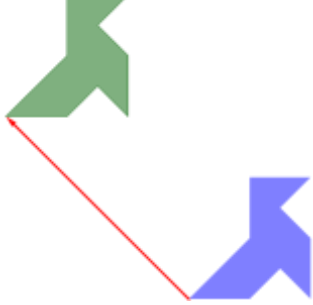




**CORRIGE - M. QUET**

**ACTIVITE 1.1**

La figure grise est obtenue après avoir appliqué une **transformation du plan** à la figure blanche.

 <p>Symétrie axiale</p>	 <p>Symétrie centrale</p>	 <p>Translation de vecteur</p>	 <p>Rotation de centre O et d'angle <math>90^\circ</math></p>
 <p>Symétrie centrale</p>	 <p>Translation de vecteur</p>	 <p>Symétrie axiale</p>	 <p>Rotation de centre O et d'angle <math>90^\circ</math></p>

**ACTIVITE 1.2**

La figure verte est obtenue par une **rotation** de la figure bleue autour du point O.

