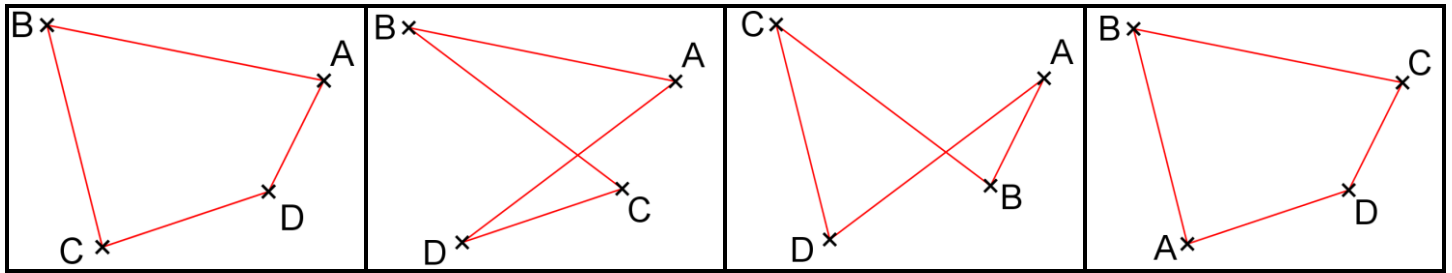


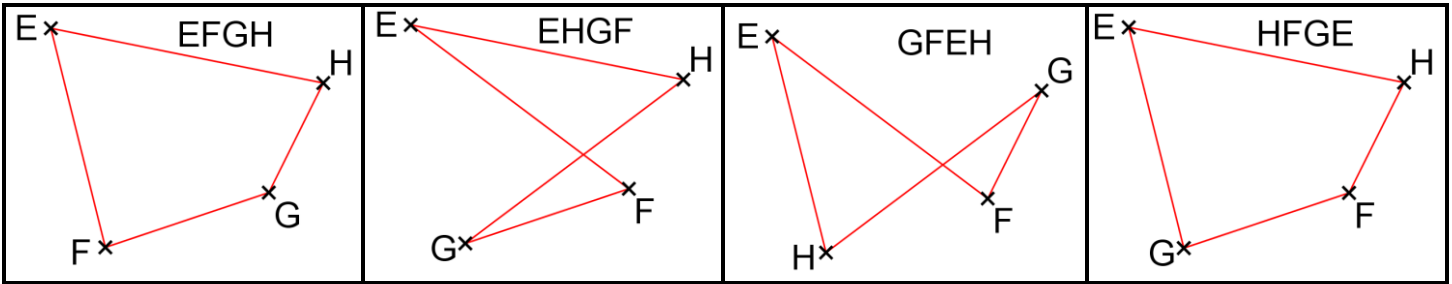
**CORRIGE – M. QUET**

**EXERCICE 1**

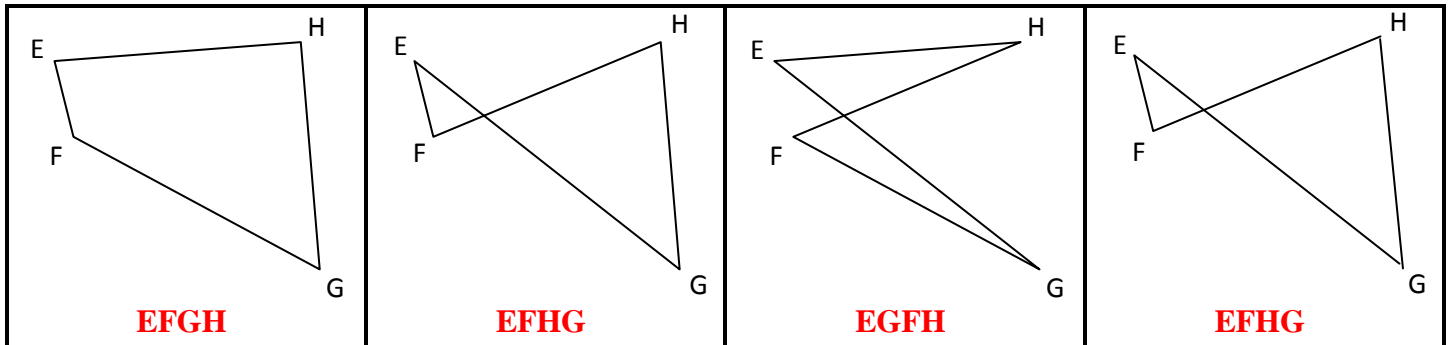
a. Dans chacune des cases, tracer le quadrilatère **ABCD** :



b. Dans chacune des cases, tracer le quadrilatère demandé :



**EXERCICE 2 :** Donner un nom ( EFGH ? EFHG ? GHFE ? ... ) au quadrilatère tracé :



**EXERCICE 3 :** Entourer les tous noms qui correspondent à chaque quadrilatère :

<p><b>ABCD ADCB</b>  <b>BCDA DCAB</b>                  CABD <b>BADC</b>                  DACB <b>DCBA</b>                  ABDC <b>CDAB</b>                  CBDA BDAC</p>		<p>EFGH <b>GEFH</b>  <b>EFHG</b> GHEF                  HFGE HGFE                  EGFH GFEH                  EHGF <b>HFEG</b>  <b>FEGH</b> FGHE</p>	
--	--	---	--

**EXERCICE 4 :** Trouver TOUS les noms de chaque quadrilatère (8 en tout) :

<p><b>IJKL IKLJ</b></p>		<p><b>MNPO MOPN</b></p>	
<p><b>JLKI KLJI</b></p>		<p><b>NPOM OPNM</b></p>	
<p><b>LKIJ LJIK</b></p>		<p><b>POMN PNMO</b></p>	
<p><b>KIJL JIKL</b></p>		<p><b>OMNP NMOP</b></p>	