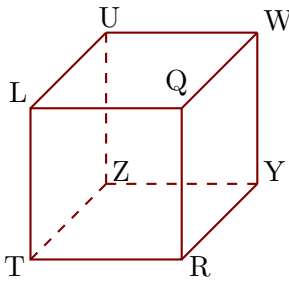


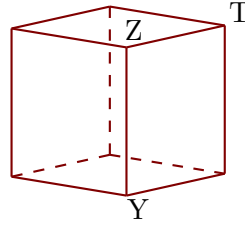
Exercice 1

Les figures 1 et 2 représentent le même cube LQRTUWYZ.

1



2

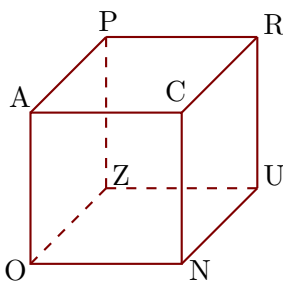


- ▶1. Compléter les sommets manquants de la figure 2.
- ▶2. Donner toutes les arêtes perpendiculaires à [UZ].
- ▶3. Donner toutes les arêtes parallèles à [ZU].

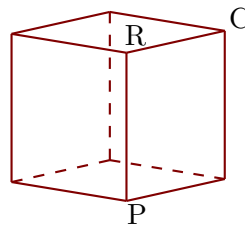
Exercice 2

Les figures 1 et 2 représentent le même cube ACNOPRUZ.

1



2

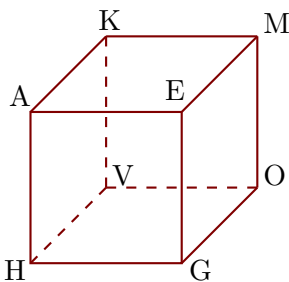


- ▶1. Compléter les sommets manquants de la figure 2.
- ▶2. Donner toutes les arêtes perpendiculaires à [UN].
- ▶3. Donner toutes les arêtes parallèles à [CN].

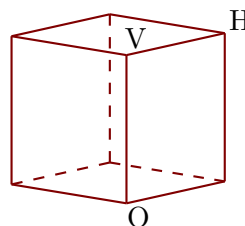
Exercice 3

Les figures 1 et 2 représentent le même cube AEGHKMOV.

1



2



- ▶1. Compléter les sommets manquants de la figure 2.
- ▶2. Donner toutes les arêtes perpendiculaires à [MK].
- ▶3. Donner toutes les arêtes parallèles à [OG].