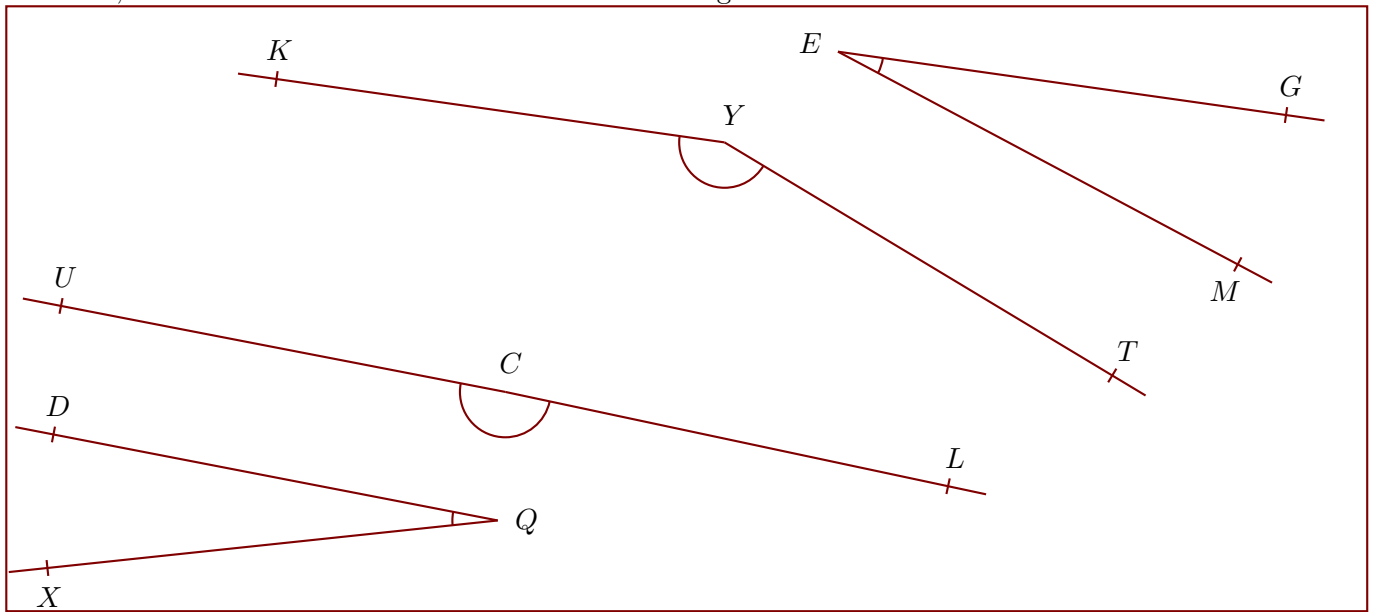


Corrigé de l'exercice 1

Nommer, mesurer et donner la nature de chacun des angles suivants :



$\widehat{UCL} = 179^\circ$
angle obtus

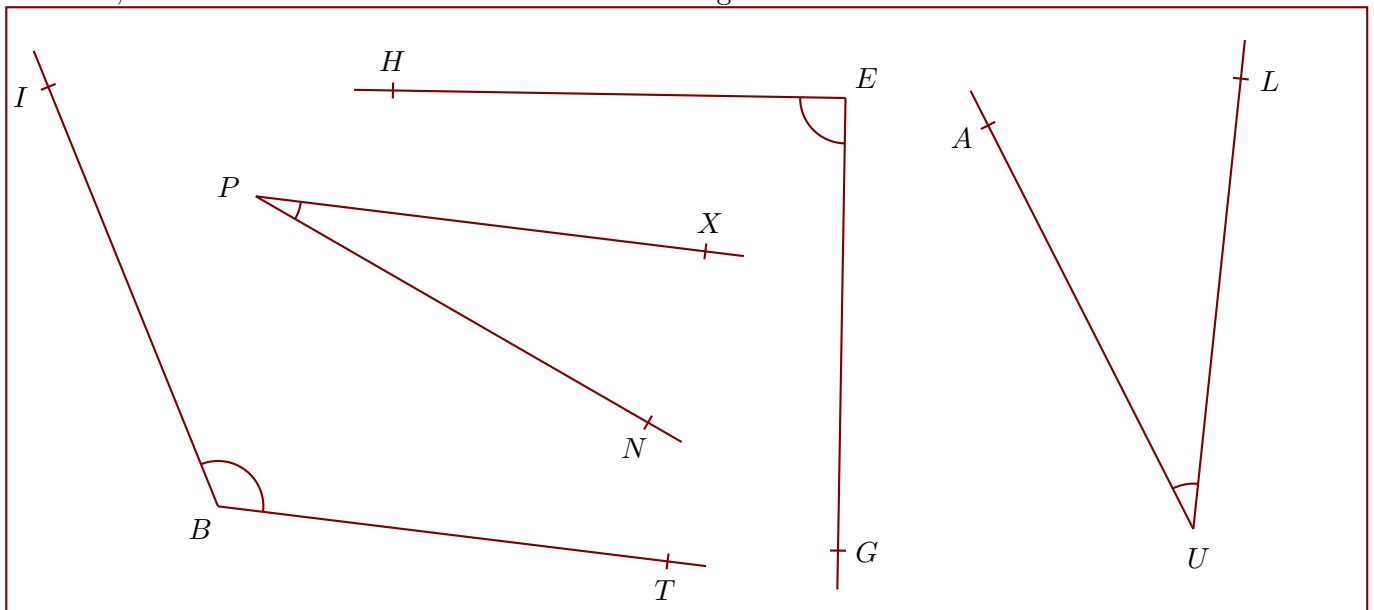
$\widehat{KYT} = 157^\circ$
angle obtus

$\widehat{DQX} = 17^\circ$
angle aigu

$\widehat{MEG} = 20^\circ$
angle aigu

Corrigé de l'exercice 2

Nommer, mesurer et donner la nature de chacun des angles suivants :



$\widehat{HEG} = 90^\circ$
angle droit

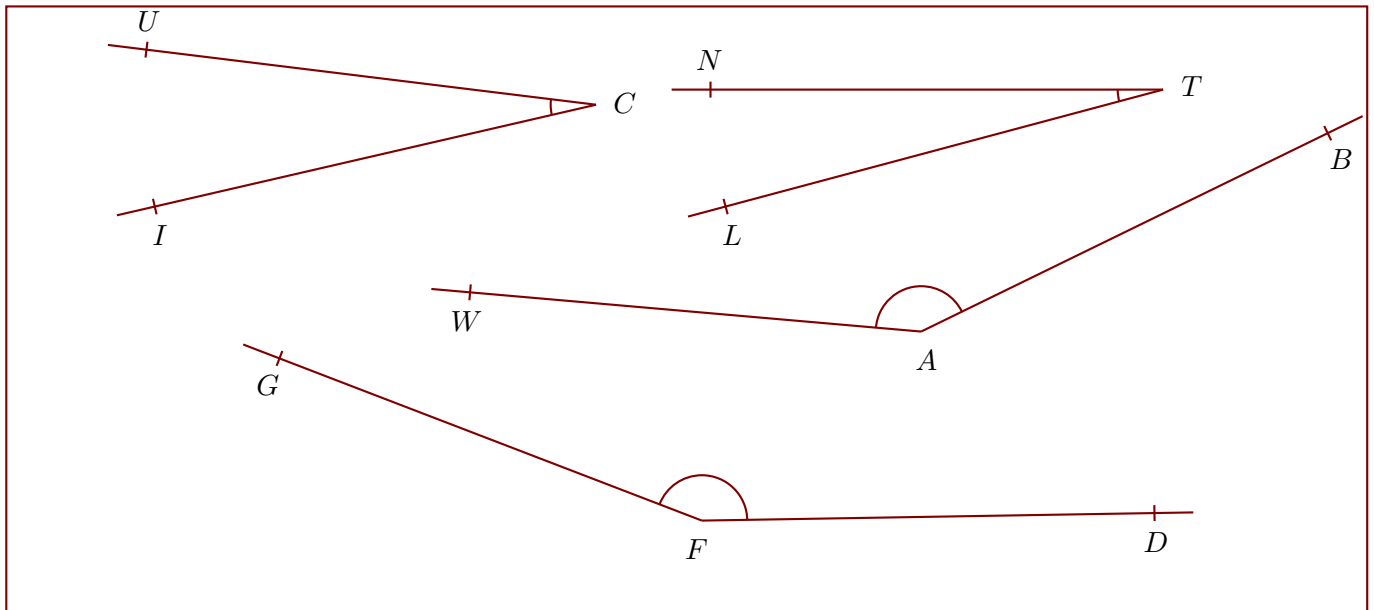
$\widehat{TBI} = 119^\circ$
angle obtus

$\widehat{LUA} = 33^\circ$
angle aigu

$\widehat{NPX} = 23^\circ$
angle aigu

Corrigé de l'exercice 3

Nommer, mesurer et donner la nature de chacun des angles suivants :



$\widehat{BAW} = 149^\circ$
angle obtus

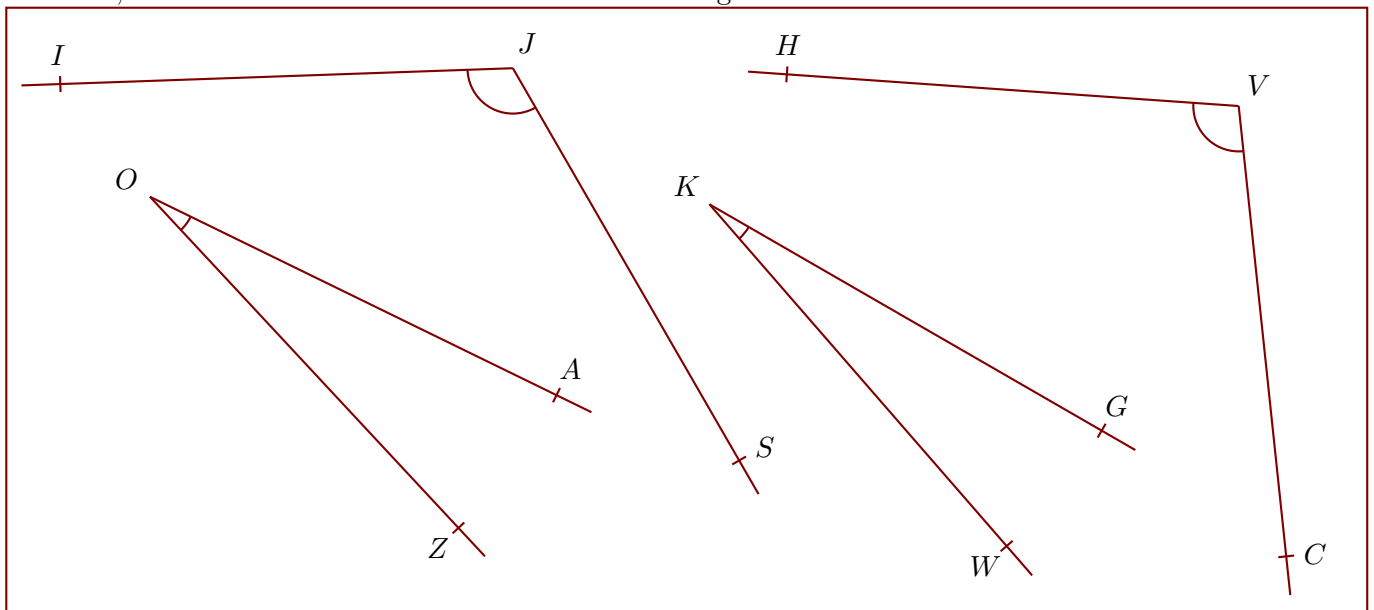
$\widehat{DFG} = 158^\circ$
angle obtus

$\widehat{NTL} = 15^\circ$
angle aigu

$\widehat{UCI} = 20^\circ$
angle aigu

Corrigé de l'exercice 4

Nommer, mesurer et donner la nature de chacun des angles suivants :



$\widehat{IJS} = 118^\circ$
angle obtus

$\widehat{HVC} = 100^\circ$
angle obtus

$\widehat{ZOA} = 21^\circ$
angle aigu

$\widehat{WKG} = 19^\circ$
angle aigu