


Exercice 1

Réaliser les figures suivantes :



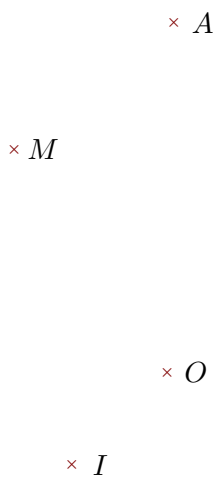
- 1. Tracer la droite parallèle à la droite (WY) passant par H
- 2. Tracer la droite perpendiculaire à la droite (HV) passant par W



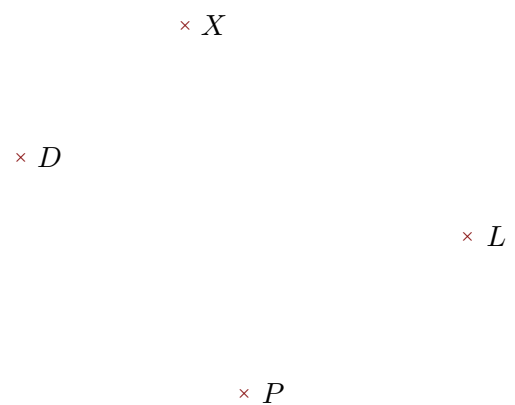
- 1. Tracer la droite parallèle à la droite (IX) passant par A
- 2. Tracer la droite perpendiculaire à la droite (AM) passant par I

Exercice 2

Réaliser les figures suivantes :



- 1. Tracer la droite perpendiculaire à la droite (OM) passant par A
- 2. Tracer la droite parallèle à la droite (OA) passant par I



- 1. Tracer la droite parallèle à la droite (XD) passant par L
- 2. Tracer la droite perpendiculaire à la droite (XP) passant par D