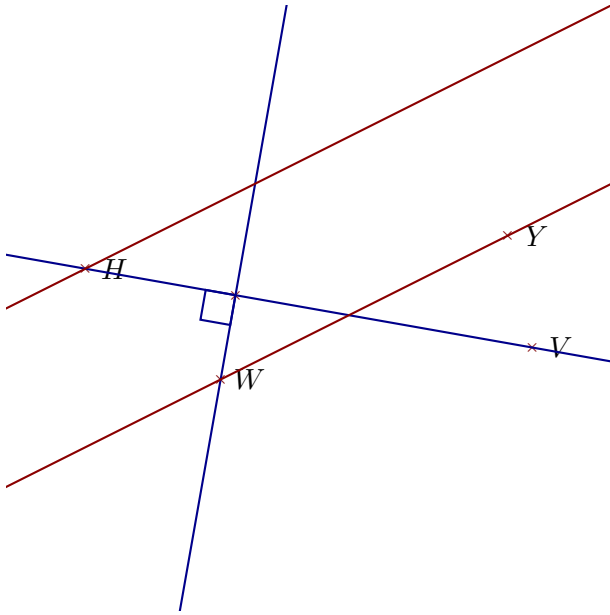
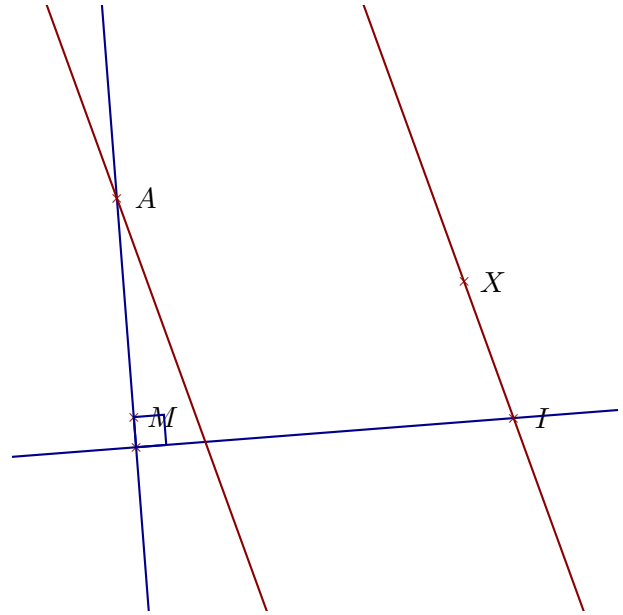


**Corrigé de l'exercice 1**

Réaliser les figures suivantes :



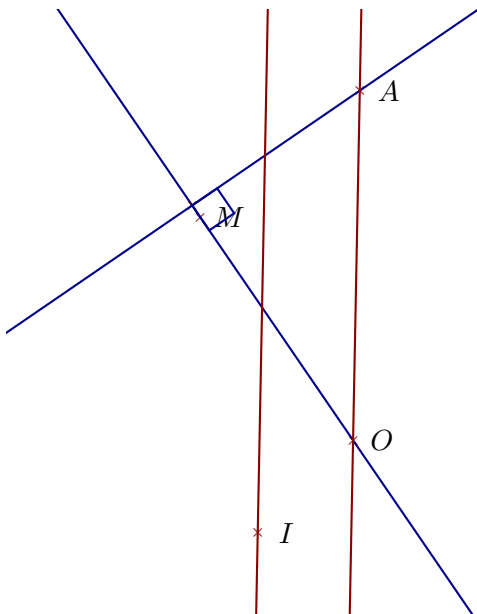
- 1. Tracer la droite parallèle à la droite  $(WY)$  passant par  $H$
- 2. Tracer la droite perpendiculaire à la droite  $(HV)$  passant par  $W$



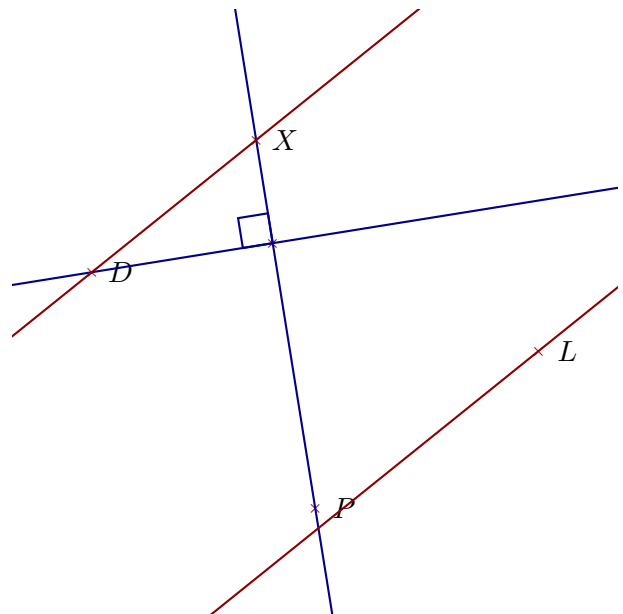
- 1. Tracer la droite parallèle à la droite  $(IX)$  passant par  $A$
- 2. Tracer la droite perpendiculaire à la droite  $(AM)$  passant par  $I$

**Corrigé de l'exercice 2**

Réaliser les figures suivantes :



- 1. Tracer la droite perpendiculaire à la droite  $(OM)$  passant par  $A$
- 2. Tracer la droite parallèle à la droite  $(OA)$  passant par  $I$



- 1. Tracer la droite parallèle à la droite  $(XD)$  passant par  $L$
- 2. Tracer la droite perpendiculaire à la droite  $(XP)$  passant par  $D$