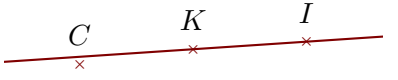

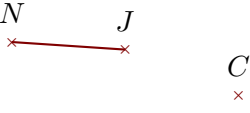
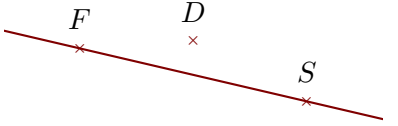
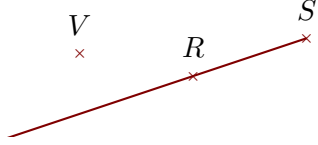


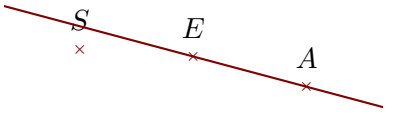
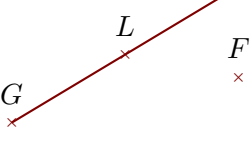
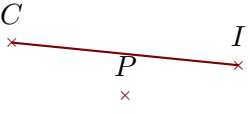
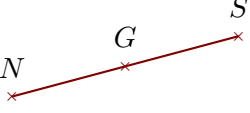
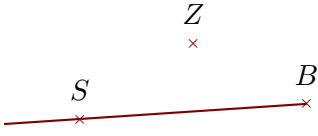
Corrigé de l'exercice 1

Compléter les pointillés et les figures :

| Phrase | Figure |
|----------------------------|--|
| (IK) est une droite |  |
| $[TI]$ est un segment |  |
| $[JN]$ est un segment |  |
| (FS) est une droite |  |
| $[SR)$ est une demi-droite |  |

Corrigé de l'exercice 2

Compléter les pointillés et les figures :

| Phrase | Figure |
|----------------------------|---|
| (EA) est une droite |  |
| $[GL)$ est une demi-droite |  |
| $[IC)$ est un segment |  |
| $[SN)$ est un segment |  |
| $[BS)$ est une demi-droite |  |

Corrigé de l'exercice 3

Compléter les pointillés et les figures :

| Phrase | Figure |
|----------------------------|--------|
| $[WE]$ est un segment | |
| $[QR)$ est une demi-droite | |
| $[TV]$ est un segment | |
| (YJ) est une droite | |
| $[WN)$ est une demi-droite | |

Corrigé de l'exercice 4

Compléter les pointillés et les figures :

| Phrase | Figure |
|----------------------------|--------|
| $[MR)$ est une demi-droite | |
| $[KW)$ est une demi-droite | |
| $[VP]$ est un segment | |
| (ZP) est une droite | |
| (WS) est une droite | |