

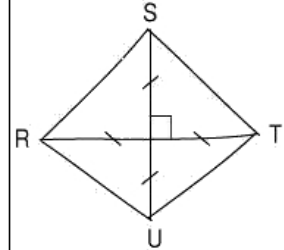
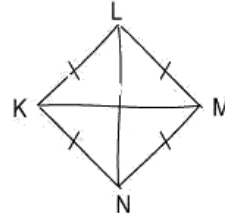
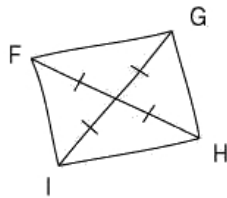
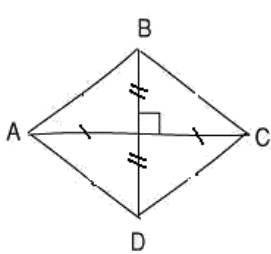
DEVOIR n°10-1 : Quadrilatères (10 points/durée 20mn)

Exercice 1

(4 points)

En utilisant les codages des figures ci-dessous faites à main levée, donner la nature des quadrilatères.

Justifier la réponse.



Exercice 2

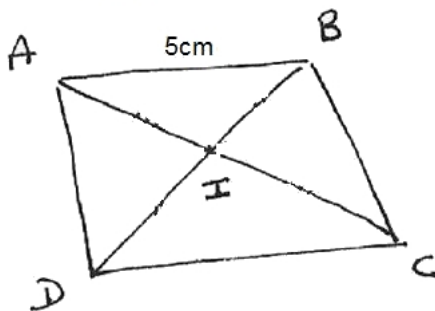
(4 points)

Les deux quadrilatères ci-dessous ont été dessinés à main levée.

En utilisant les deux informations données, **placer tous les codages possibles sur ces deux figures.**

Sur la feuille blanche, construire ensuite ces deux quadrilatères en respectant les mesures indiquées.

ABCD est un losange
AC=7cm



EFGH est un rectangle

