

الإسم: .....

.....

النقطة:

مدرسة: .....

المستوى: الأول

السنة الدراسية:

2013/2012

## مراقبة مستمرة 1






### الدورة الأولى

#### مادة الرياضيات

#### 1 - أتمم الجدول:

.....	.	•••••
أربعة	4	
.....	.	•••
.....	0	
إثنان	.	
.....	.	واحد


#### 2 - ألون ما يوجد تحت الخط بالأحمر:



3- أَلْوَنُ السَّمَكِ الْمَحْمُولِ بِالْيَدِ الْيُمْنَى:



4- أَلْوَنُ مَا يُوْجَدُ يَسَارَ الْأَسَدِ:



5- أَلْوَنُ الْإِتِّجَاهِ الْمُنَاسِبِ:

