

## الرياضيات

### الفرض الأول الدورة الأولى

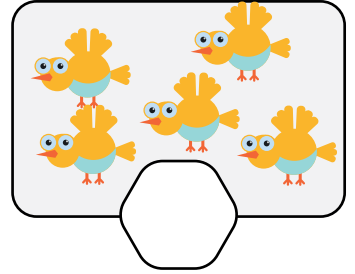
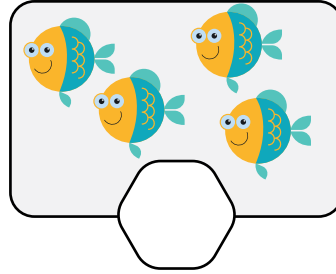
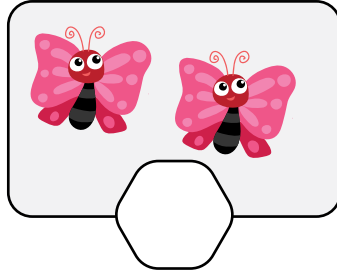

نقطتي

1

مدرستي: .....

إسمي: .....

1 - أتمم ملاء البطاقات. (4 نقط ●●●●)



2 - ألون اليد اليمنى للولاد بالأحمر واليسرى بالأزرق. (نقطتان ●●)



3 - أصل بخط. (نقطتان ●●)

2 - أرسم كرة داخل السبورة وألونها باللون الأحمر. (نقطتان ●●)

