

إمضاء الولي: إمضاء الإدارة: النقطة:

1 أضع وأنجز:

$568 + 143$

$324 + 277$

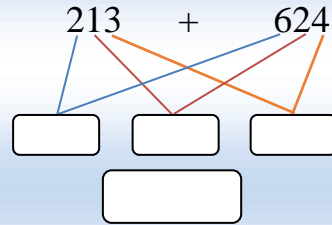
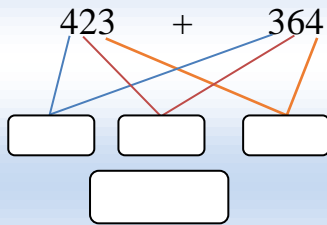
$105 + 320$

.....

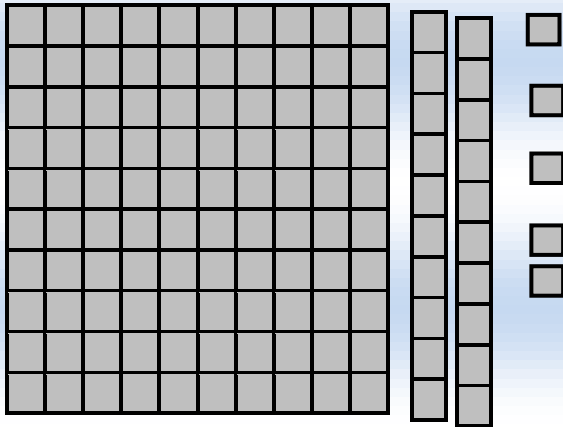
.....

.....

2 أتمم:



3 إملأ الجدول و اكتب العدد المناسب في الخانة:



$325 - 213$

الوحدات	العشرات	المئات
.....

العدد هو

4 أضع وأنجز:

$426 - 324$

.....

.....

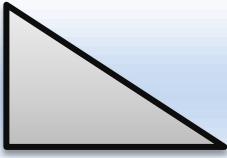
.....

.....

5 أكتب أربعة أعداد مكونة من 3 أرقام باستخدام الأرقام : 5 , 1 , 6

حدد الزاوية القائمة في الأشكال التالية :

6



1,25

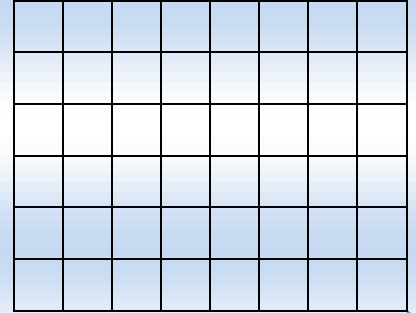
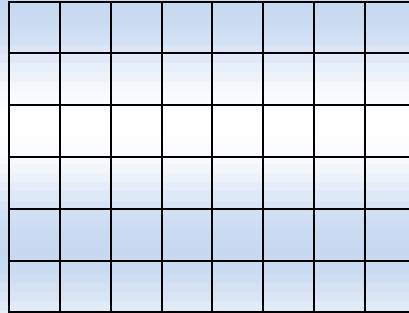

أرسم مربعا ومستطيلا ومثلثا :

7

المثلث

المستطيل

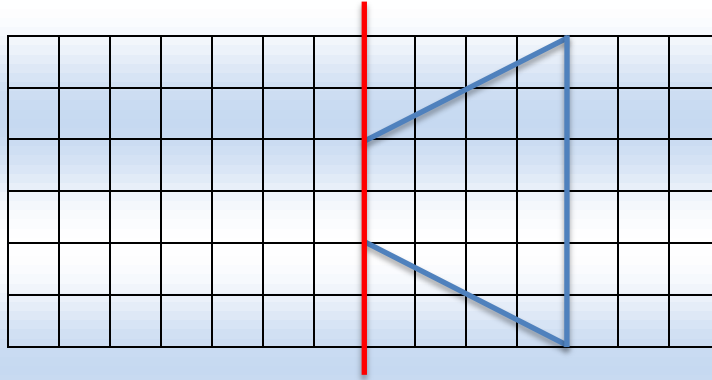
المربع



0,75

ارسم مماثل الشكل:

8



1

مسألة .

9

دخل أحمد محلا تجاريا فلاحظ اللعب التالية :



120 درهما



60 درهما



150 درهما



750 درهما

أ - حدد أعلى سلعة.

ب - اختار الدراجة و الدب . أحسب ثمن المشتريات :

1,5

وفقكم الله