



الأسدوس الأول



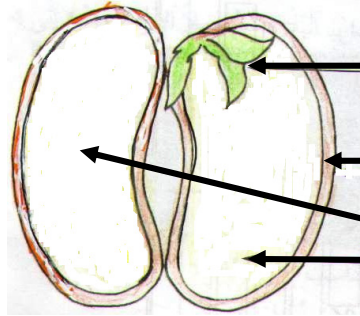
المادة: النشاط العلمي

الولي	الإدارة	النقطة
		10

1 أضع علامة (x) تحت البذور.



2 أكتب ما يناسب مكان النقط: فلتتان - قشرة - نبيطة صغيرة



.....

.....


.....

4 ألون:


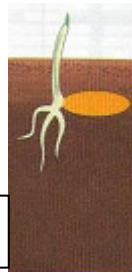
الجذور بالبنّي.

الساق بالأصفر.

الوريقات بالأخضر.



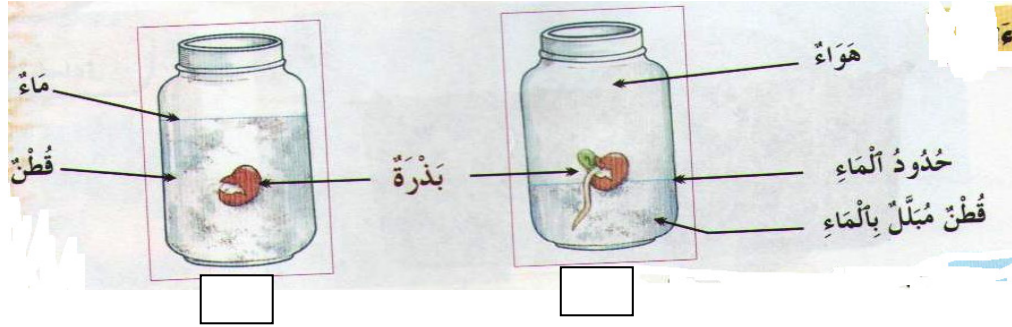
3 أرتب مراحل إنبات بذرة قمح بترقيمها من 1 إلى 4.



5 أكمل بما يناسب.

5

6) ألاحظ ثم أضع علامة (X) تحت المناولة التي تثبت فيها البذور.



0.75

7) ألاحظ ثم أملأ الجدول.

أجسام سائلة	أجسام صلبة
.....
.....
.....
.....

رمل
حليب
قلم
زيت
خشب
مقص

1.5

8) أحيط الأجسام الصلبة المتراسة.



2

9) أصل بخط.

مقراص

غير متراس

- مسحوق السكر يأخذ شكل الإناء الذي يوجد فيه فهو جسم صلب

0.5