

مادة: النشاط العلمي

1- أجب بصحيح أم خطأ: 2 ن

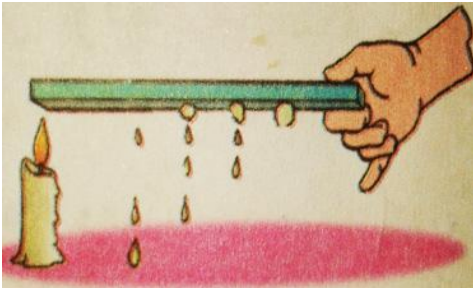


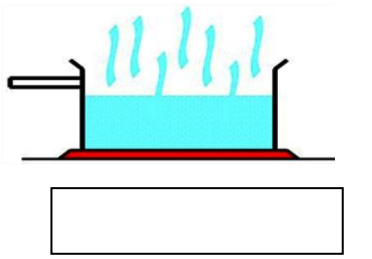
- تنتقل الحرارة من الأجسام الساخنة إلى الأجسام الباردة

- الألمنيوم جسم موصل للحرارة

- نسمي تحول جسم صلب إلى جسم سائل بالانصهار

- نسمي تحول جسم سائل إلى جسم صلب بالذوبان

2 - ضع تحت كل صورة الكلمة المناسبة: " الذوبان"، " الانصهار"، " التجمد". 3 ن



3 - نقطر قطرات من الشمع على مسطرة من الألمنيوم ونتركها حتى تبرد، وبعد ذلك نضع إحدى طرفيها فوق النار كما في الصورة.

أ - ماذا تلاحظ؟ 1 ن

ب - لماذا ذابت قطرات الشمع؟ 1 ن

ج - ماذا يسمى الألمنيوم؟ 2 ن