



**إمضاء الولي:**

**إمضاء الإدارة:**

**النقطة:**

$(8934-2165)+5381$

$925 \times 23$

$9317 \div 7$



**1** ضم وأنجز.

**2** أكتب الأعداد الآتية بالحروف و الأرقام

.....:ثمان وحدات و اثنان وخمسون جزءا من المنة

.....:5,06

.....:أربعة و أربعون عشرا:

**3** رتب الأعداد الآتية ترتيبا تناقصيا

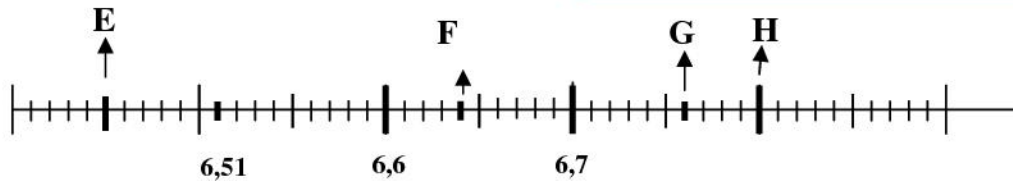
4,05 / 5,4 / 5 / 4,5 / 5,04

**4** حول الأعداد الآتية الى الوحدة المطلوبة

$6,08\text{cm} = \dots\dots\dots\text{dm}$

$29\text{m} = \dots\dots\dots\text{hm}$

**5** لاحظ المستقيم ثم أكتب الأعداد التي توافق كل نقطة



E → .....  
F → .....  
G → .....  
H → .....

مسألة

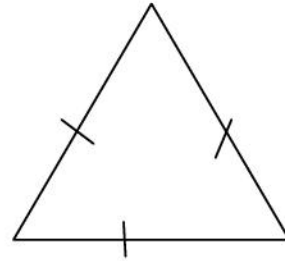
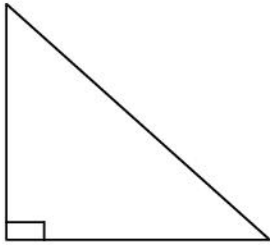
6

أراد بائع كتب أن يوزع 583 كتابا على 12 خزانة حيث تسع كل خزانة عدد الكتب

- ما هو عدد الكتب الذي سيضعه البائع في كل خزانة
- ما هو عدد الكتب المتبقية

سم المثلثات الآتية

7



أرسم

8

\*أرسم مثلثا متساوي الأضلاع طول ضلعه 3cm

\*أرسم مثلثا قائم الزاوية و متساوي الساقين