

الأب أو الولي	الإدارة	الملاحظة
		20

الاسم: _____
التاريخ: 2010-12-30
الفوج: _____
المستوى: الخامسة ابتدائي A

1- أضع وأنجز

$$14\ 589 - (43\ 05 + 768)$$

$$589 \times 248$$

$$47\ 592 : 31$$

- 2

أ (أكتب جميع قوسم العددين 24 و 36 .

ب (ماهو القاسم المشترك الأكبر للعددين 24 و 36 .

ج (ضع مكان النقط الرقم المناسب كي يصبح العدد . 6.52 قابل للقسمة على 2, 3, 5, 9, في أن واحد .

3- أتمم مايلي

$$86,4\ \text{Km} + 1\ \text{m} = \dots\dots\dots\ \text{dm}$$

$$27\ \text{dam} - 260\ \text{m} = \dots\dots\dots\ \text{dm}$$

$$8\ \text{min} = \dots\dots\dots\ \text{s}$$

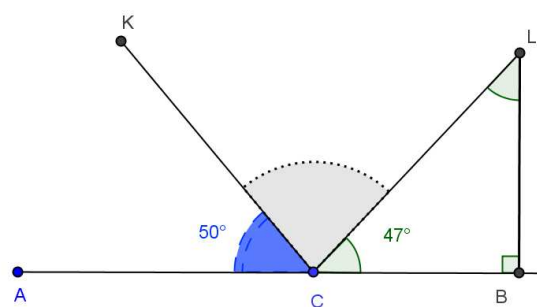
$$1\ \text{h}\ 5\ \text{min}\ 6\ \text{s} = \dots\dots\dots\ \text{s}$$

4- (أ) حول الى الثواني

ب (حول الى الساعات والدقائق

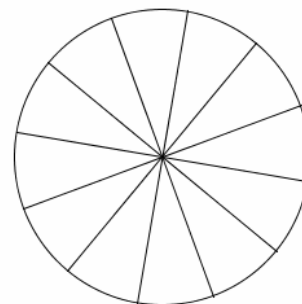
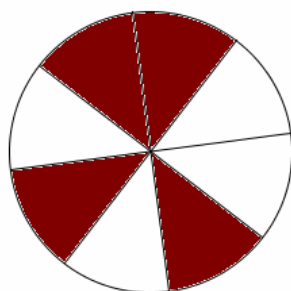
$$2\ \text{j}\ 13\ \text{h}\ 195\ \text{min} = \dots\dots\ \text{h}\ \dots\dots\ \text{min}$$

5- أ حسب قياس الزاويتين KCL و CLB (دون استعمال المنقلة)



6 - لون الجزء الذي يمثل العدد الكسرى المناسب

عبر عن الجزء الملون في الشكل بالعدد الكسرى المناسب



$\frac{7}{12}$

7- أنشئ ABCD متوازي أضلاع حيث $AB = 5\text{cm}$ و $AC = 4\text{cm}$

$$[ABC] = 80^\circ$$

3

8 - لصنع زربية اشترت سيدة 8,25 Kg من الصوف البيضاء و 7,75 Kg من الصوف الصفراء و 4,5 Kg من الخيط ماهي كتلة الزربية إذا علمت أنه بقي للسيدة 1,50 Kg من الصوف البيضاء و 0,50 Kg من الخيط ؟

3