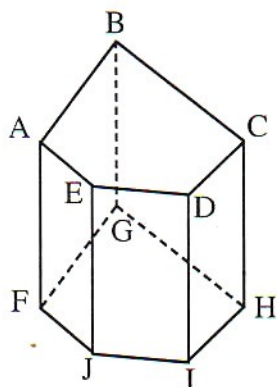
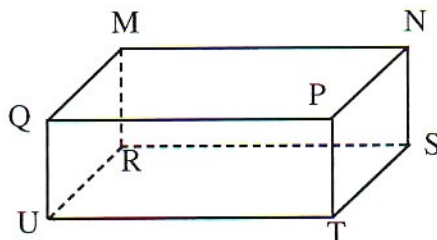


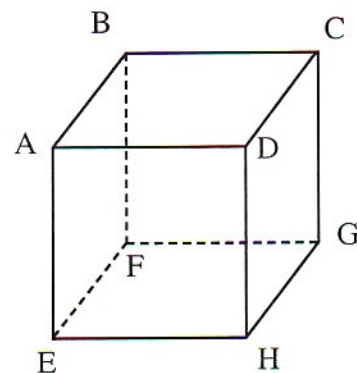
1 لاحظ الأشكال التالية ثم أتمم ملء الجدول التالي :



(c)



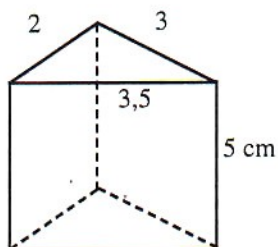
(b)



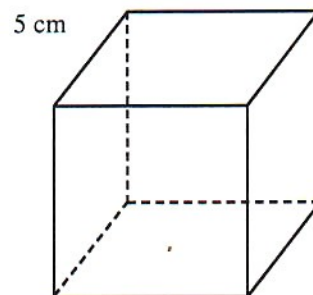
(a)

عدد الرؤوس	عدد الأوجّه	اسمه	
			المجسم (a)
			المجسم (b)
			المجسم (c)

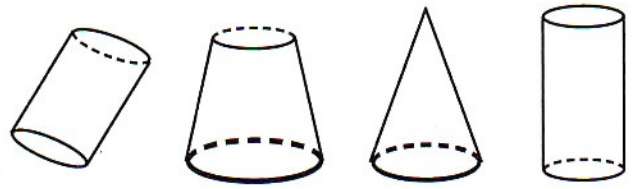
3 الشكل التالي يمثل موشورا قائما ثلاثي القاعدة، انشره.



2 الشكل التالي يمثل مكعبا طول حرفه 5 cm ؛ انشره.

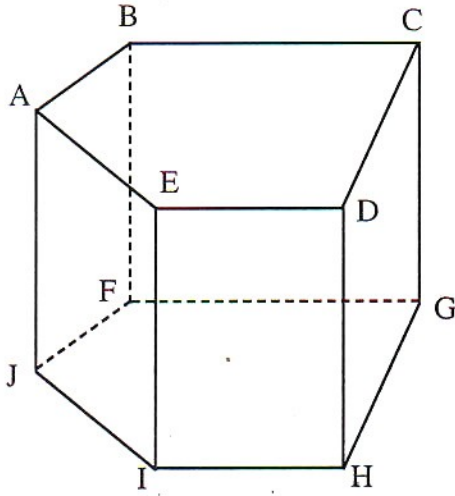


4 صل بسهم :

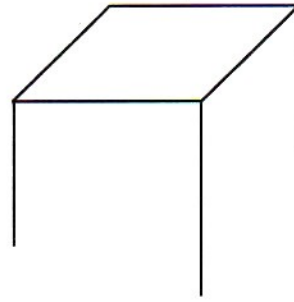


أسطوانة قائمة

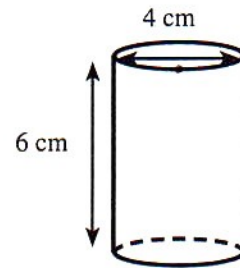
* 7 ABCDEFGHIJ موشور قائم :



5 أتمم الشكل للحصول على مجسم يمثل موشورا قائما :



6 الشكل أسفله يمثل أسطوانة قائمة. انشرها.



أجب بـ "صحيح" أو "خطأ"

(1) الوجه (ABFJ) مستطيل.

(2) الحرفان [AB] و [AE] متعامدان

(3) الحرفان [BF] و [FG] متعامدان

(4) قاعدة الموشور هي (ABCDE)

(5) الحرفان [CD] و [GH] متوازيان.

