

* 4 - ملعب مستطيل الشكل محيطه 300m وطوله يزيد عن عرضه بـ 40m احسب عرضه :

.....

.....

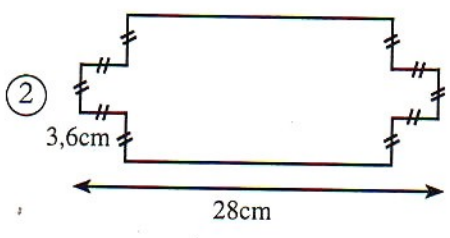
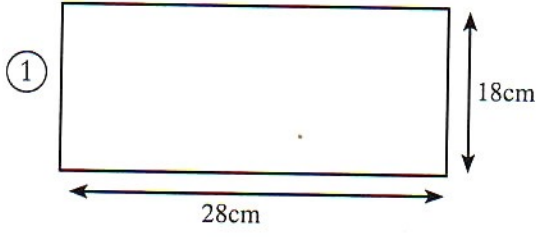
.....

.....

1 - أتمم باستعمال :

72cm = 0,72	437dm = 4,37
34km = 34000	0,25dam = 250

* 5 - احسب محيط كل شكل ثم قارن محيطيهما .



* محيط الشكل ① هو :

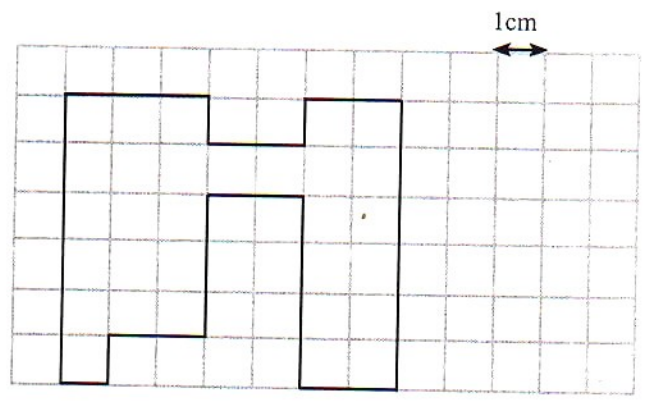
* محيط الشكل ② هو :

* مقارنة محيطي الشكلين :

2 - أتمم الجدول التالي :

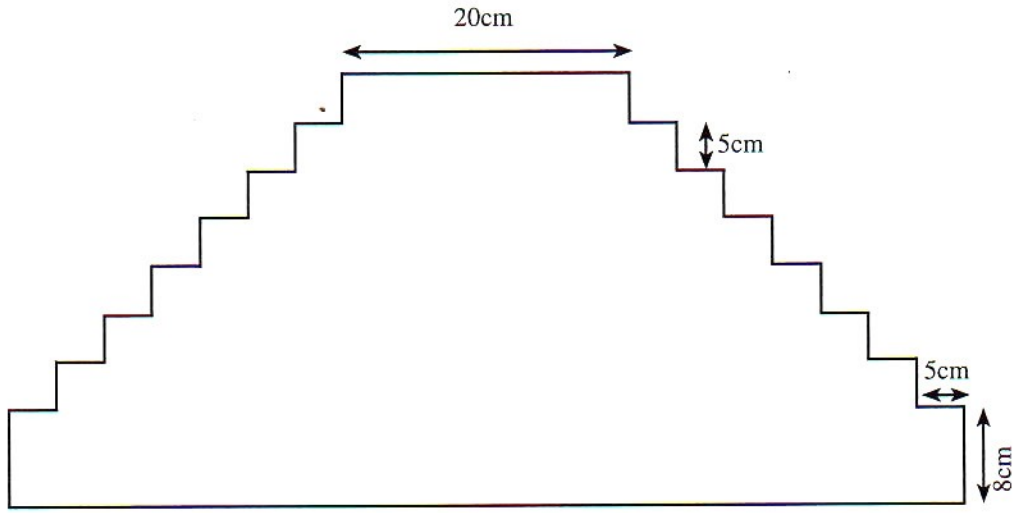
المستطيل ③	المستطيل ②	المستطيل ①	
.....	4dm	5cm	الطول
6,25cm cm	3cm	العرض
18,50cm	2dm	المحيط

* 3 - احسب محيط الشكل التالي :



محيط الشكل هو :

* 6 ما هو محيط الشكل بالسنتيمتر ثم بالمتر؟



* 7 - قطعة مربعة الشكل أحيطت بجائط من الآجور

والإسمنت، كلفت ما مجموعه 40000 درهم.

احسب قياس ضلع القطعة الأرضية علما أن ثمن المتر الواحد من الإسمنت والآجور هو 250 درهم وأن أجره العمال بلغت

15000 درهم.

8 - أحاط فلاح قطعة أرضية على شكل مستطيل ثلاث

مرات بسلك مع ترك باب طوله خمسة أمتار. ما هو طول

السلك إذا علمت أن الطول هو 240m وعرضها يقل عن

طولها بـ 60m ؟