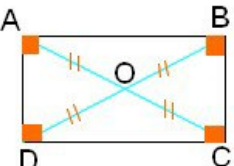
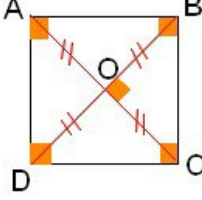
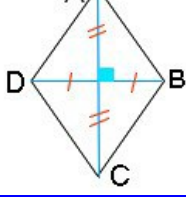
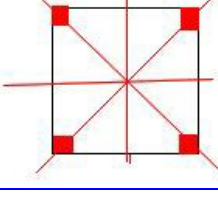
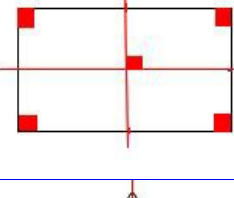
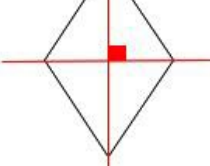
	<p>لمتوازي الأضلاع قطران يتقاطعان في منتصفهما</p>
	<p>للمستطيل أربع زوايا قائمة للمستطيل قطران لهما نفس الطول ويتقاطعان في منتصفهما</p>
	<p>للمربع أربع زوايا قائمة وأضلاعه متقايسة للمربع قطران متعامدان و لهما نفس الطول ويتقاطعان في منتصفهما</p>
	<p>أضلاع المعين متقايسة للمعين قطران متعامدان يتقاطعان في منتصفهما</p>
	<p>للمربع أربعة محاور تماثل</p>
	<p>للمستطيل محورا تماثل</p>
	<p>للمعين محورا تماثل</p>