

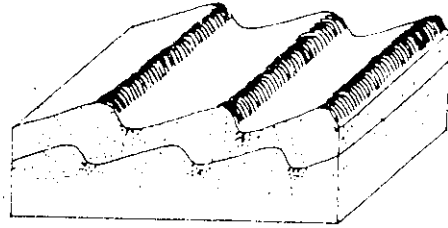
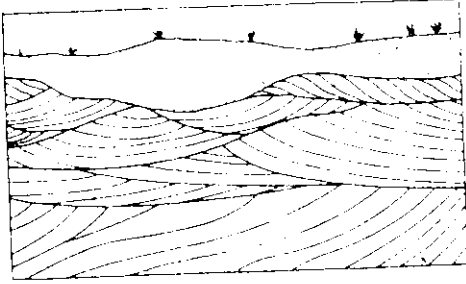
المستوى : السنة الأولى علوم رياضية
المادة : علوم الحياة والأرض
المدّة : ساعتان

التعريف الأول : استرداد المعارف (6 نقط)

(أ) عرف مايلي : (1 نقطة)

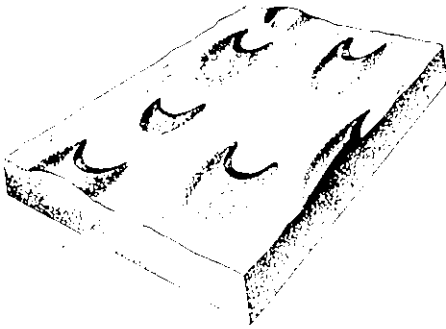
الرمل ، الشكل الرسوبي ، المنوال ، لاغون

ب (الأشكال الممثلة في الوثائق التالية : تمثل بنيات تشكلت في صخور رسوبية



الشكل 2

الشكل 1 عنوان بعض سمات

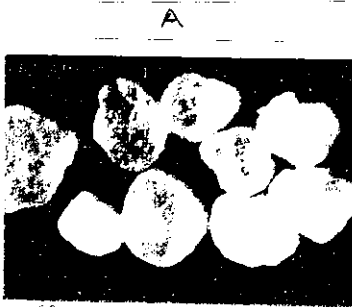


الشكل 4 عنوان الشكل يضع المتار

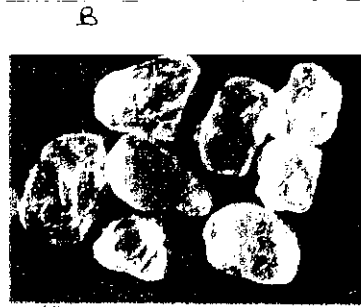
الشكل 3

1 (تعرف وصف الأشكال الرسوبية الممثلة في الشكل 1 , 2 , 3 و 4 ثم استنتج ظروف النقل والترسب هذه الرواسب (3 نقطة)

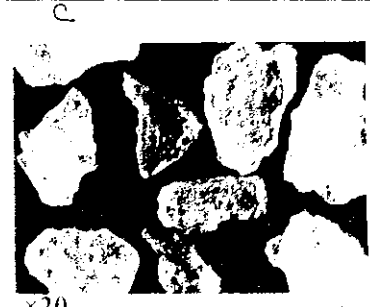
ج (تمثل الوثيقة أسفله 3 حبات مرو أخذت من عينات رملية



×60



×40



×20

الهدنة 1

1 (صف كل نوع من الحبات (1 ن)

2 (فسر الاختلاف الملاحظ في شكل ومظهر هذه الحبات (1 ن)

* الدراسة الإحصائية لرمل أعطت النتائج الممثلة في الجدول أسفله

| النسبة التراكمية ب % | كتلة الحبات ب % | قطر الحبات |
|----------------------|-----------------|-----------------|
| | 0,2 | 1,19 --- 0,84 |
| | 0,4 | 0,84 --- 0,59 |
| | 1,2 | 0,59 --- 0,42 |
| | 25,5 | 0,42 --- 0,30 |
| | 44,3 | 0,30 --- 0,21 |
| | 17,4 | 0,21 --- 0,15 |
| | 9,3 | 0,15 --- 0,105 |
| | 1,5 | 0,105 --- 0,062 |

1) أنجز مدراج ومنحنى التردد والمنحنى التراكمي للراسب . (4,5 ن)

- المطلوب استعمال سلم لوغاريتمي في محور الأفاصيل وفي محور الأرتيب نستعمل السلم الملمتري .
- نبدأ من القطر الكبير للحبات إلى القطر الصغير .
- 2) صف منحنى التردد ومنحنى التراكمي ماذا تستنتج ؟ (1 ن)
- 3) حدد منوال توزيع هذا الراسب . (0,5 ن)
- 4) أحسب مدل الترتيب ماذا تستخلص فيما يخص ترتيب هذا الرمل . (2 ن)
- * الدراسة المرفولوجية لحبات المرو لهذا الرمل أعطت النتائج التالية :
N.U : 20% ; E.L : 10% ; R.M : 70 %
- 5) اعتمادا على تحليل هذه النتائج يمكن إقصاء عامل نقل : ماهو ؟ (2 ن)

جدول الترتيب ل Trask

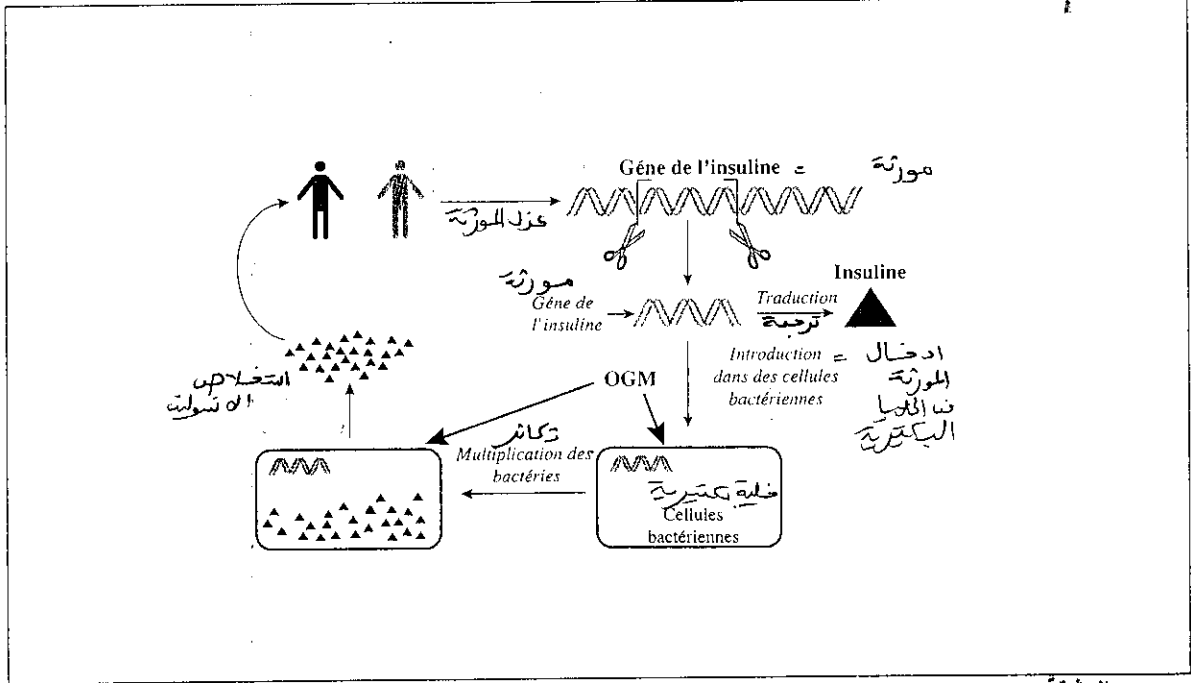
| $S_0 = \sqrt{Q_3/Q_1}$ | مدل الترتيب ل trask |
|------------------------|---------------------|
| أقل من 1.23 | جيد جدا |
| من 1.23 إلى 1.41 | جيد |
| من 1.41 إلى 1.74 | متوسط |
| من 1.74 إلى 2.0 | غير جيد |
| أكبر من 2.0 | غير مرتب |

2100

- الأشخاص المصابون بمرض السكري من النوع 1 يتلقون علاج بحقنهم بأنسولين الخنازير .
- لمدة طويلة ، مرضى السكري يعالجون بهذه الطريقة ، لكن أنسولين الخنازير في بعض الحالات يثير استجابة مناعية بحيث ترفض المواد الأجنبية من طرف الجسم مما يتسبب في عدم نجاح هذه التقنية في علاج هؤلاء المرضى

جزء من المورثة الرامزة للأنسولين البشري : GCA CCA AAG AAA ATA TGG GGA TTT TGA ATC
 جزء من المورثة الرامزة للأنسولين الخنازير : GCG CCA AAG AAG ATA TCG GGA TTT CGA ATC

- في سنة 1978 تم إدخال المورثة البشرية الرامزة للأنسولين إلى بكتيريا E.coli من أجل أن تنتج هذه الأخيرة الأنسولين البشري
- على العموم أصبح الأنسولين البشري ينتج من طرف البكتيريا المغيرة وراثيا عوض استخلاصه من بنكرياس الخنازير.



الوثيقة 1 :

والمكتسبات

1) اعتمادا على المعطيات وعلى جدول الرمز الوراثي اقترح تفسيراً لكون الأنسولين الحيواني يثير استجابة مناعية وبين كيف استطاعت الهندسة الوراثية لحل هذا المشكل

هـ : 3

| 1 ^{re} position (début du codon) | 2 ^e position | | | | 3 ^e position (fin du codon) |
|--|-------------------------|-----|------|------|---|
| | U | C | A | G | |
| U | Phe | Ser | Tyr | Cys | U |
| | Phe | Ser | Tyr | Cys | C |
| | Leu | Ser | STOP | STOP | A |
| | Leu | Ser | STOP | Trp | G |
| C | Leu | Pro | His | Arg | U |
| | Leu | Pro | His | Arg | C |
| | Leu | Prp | Gln | Arg | A |
| | Leu | Pro | Gln | Arg | G |
| A | Ile | Thr | Asn | Ser | U |
| | Ile | Thr | Asn | Ser | C |
| | Ile | Thr | Lys | Arg | A |
| | Met | Thr | Lys | Arg | G |
| G | Val | Ala | Asp | Gly | U |
| | Val | Ala | Asp | Gly | C |
| | Val | Ala | Glu | Gly | A |
| | Val | Ala | Glu | Gly | G |