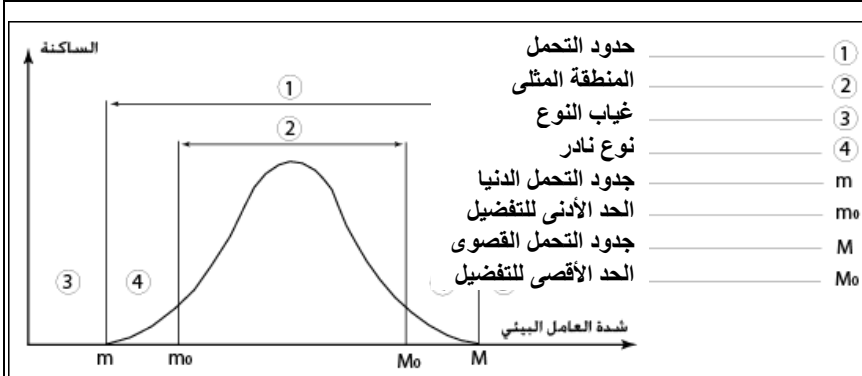


يحتمل كل نوع من أنواع الحيوانات موقعا معينا داخل الأوساط البيئية التي تتوفر فيها الظروف المناخية الملائمة لعيشه. لتحديد كيفية تأثير العوامل المناخية على توزيع بعض الحيوانات نقترح دراسة المعطيات التالية:

المعطيات



الوثيقة 1: مفهوم العامل البيئي المحدد

تختلف حدود تحمل كائن حي حسب عامل بيئي معين (درجة الحرارة، نسبة الرطوبة...). يتحكم العامل البيئي المحدد في نمو و تكاثر الكائن الحي و في تحديد مساحة انتشاره. يمكن التمييز بين كائنات قادرة على تحمل تغيرات كبيرة لشدة العامل المحدد و أخرى لا يمكنها تحمل إلا تغيرات قليلة.

حسب العامل البيئي يمكن إنجاز منحنى على شكل ناقوس يعبر حدود التحمل و كلما كانت قاعدة المنحنى صغيرة إلا و يتطلب عيش الكائن ظروفًا بيئية دقيقة حيث يصبح مهددا بالانقراض عند تغيرات كبيرة للعامل البيئي المحدد.

الوثيقة 2: تأثير عامل درجة الحرارة

يبين الشكل 1 توزيع ثلاثة أنواع من القشريات A و B و C في منطقة معينة.

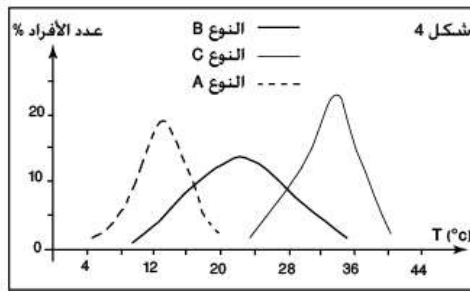
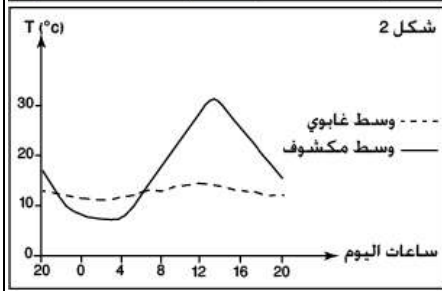
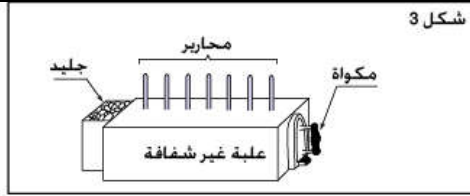
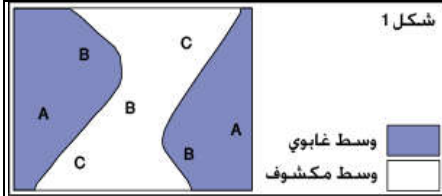
أ- حدد وسط عيش كل نوع.

ب- بين كيف تتغير درجة الحرارة حسب الزمن في وسطين غابوي و مكشوف.

ج- حدد درجة الحرارة المثلى بالنسبة لكل نوع ثم تأكد من صحة الفرضية بعد تحليل المنحنيات المحصل عليها.

توزيع القشريات A و B و C، يبرد جانب من علبة معتمة بالجليد، بينما يسخن جانبها المقابل بمكواة، و تستعمل مجموعة محارير لقياس درجة الحرارة كما يبين ذلك الشكل 3.

توضع في هذه العلب القشريات A و B و C، و يتم عد أفراد كل نوع، حسب موقعها داخل العلب. النتائج ممثلة في مبيان الشكل 4.



ج- حدد درجة الحرارة المثلى بالنسبة لكل نوع ثم تأكد من صحة الفرضية بعد تحليل المنحنيات المحصل عليها.

الوثيقة 3: تأثير عامل درجة الحرارة ونسبة الرطوبة

تعتبر درجة الحرارة و نسبة الرطوبة من بين أهم العوامل البيئية التي تتحكم في توزيع الكائنات الحية، ولمعرفة ظروف عيش حيوان ما، نلجأ إلى الأخطوط المناخية الذي يمكن من تتبع تغير درجة الحرارة و نسبة الرطوبة في منطقة تواجد هذا الحيوان خلال شهور السنة.

لإنجاز الأخطوط المناخية لمنطقة معينة، نضع على محور الأفصول الرطوبة النسبية المحصل عليها بالنسبة لكل شهر، وعلى محور الأرتيب معدل درجة الحرارة بالنسبة لكل شهر. فنحصل على 12 نقطة تمثل شهور السنة. نوصل بين هذه النقط بخطوط مستقيمة فيتكون لدينا الأخطوط المناخية للمنطقة المدروسة.

تطبيق

جدول 1	مجال التحمل	مجال العيش الأمثل
نسبة الرطوبة %	40	60
الحد الأدنى	100	85
الحد الأقصى	12	16
درجة الحرارة c	24	20
الحد الأدنى		
الحد الأقصى		

يمثل الجدول 1 الظروف المناخية الضرورية لعيش حشرة الدسوقة (Coccinelle) و الجدول 2 الظروف المناخية لمحتطين (وجدة و السعيدية) تتواجدان بالمنطقة الشمالية الشرقية من المغرب.

المحطة	الشهور	البيانات المناخية												
		يناير	فبراير	مارس	أبريل	ماي	يونيو	يوليو	أغسطس	سبتمبر	أكتوبر	نوفمبر	ديسمبر	
وجدة	c الحرارة	10	11	13	15	20	25	30	35	35	25	20	15	15
	% الرطوبة	30	30	35	30	40	20	10	08	10	10	15	20	20
السعيدية	c الحرارة	10	12	14	15	16	20	25	30	28	27	20	15	15
	% الرطوبة	80	70	60	55	40	45	55	60	70	75	75	80	80

- استثمار المعطيات

- 1- استخرج مفهوم العامل البيئي المحدد.
- 2- من خلال إجابتك على الأسئلة المطروحة في الوثيقة 2 حدد تأثير عامل درجة الحرارة على توزيع أنواع القشريات المدروسة.
- 3- باعتمادك على معطيات الجدول 2 الوثيقة 3، أنجز على نفس المبيان الأخطوط المناخية لمحتطين وجدة و السعيدية ثم مثل على الأخطوط المناخية المنجز مجال التحمل و مجال العيش الأمثل للدسوقة (اعتمادا على معطيات الجدول 1). ماذا يمكن استنتاجه اعتمادا على معطيات الأخطوط البيئية المناخية المنجز.