


الصفحة: 1/2	الامتحان الجهوي الموحد لنيل شهادة السلك الإعدادي دورة يونيو 2015	 المملكة المغربية وزارة التربية الوطنية والتكوين المهني الأكاديمية الجهوية للتربية والتكوين لجهة الدار البيضاء الكبرى
مدة الإنجاز: 1H ساعة واحدة		
المعامل 1	<b>مادة الفيزياء والكيمياء</b>	
خاص بالكتابة	الاسم العائلي والشخصي: .....	
	رقم الإمتحان: .....	

اسم المصحح(ة) وتوقيعه(ها)	تحرر الأجوبة على هذه الورقة	النقطة الإجمالية	خاص بالكتابة
.....	<b>مادة الفيزياء والكيمياء</b>	.....	.....

### التمرين الأول: (8 نقط):

I- املأ (ي) الفراغات بما يناسب مما يلي : (تحريكي - سكوني - تماس موزعة - تماس موضوعة -الدينامومتر - الميزان -جسم مرجعي - جسم متحرك - المسافة المقطوعة - المسافة المتبقية - المدة الزمنية المستغرقة - المدة الزمنية القصيرة -  $R = \frac{U}{I}$  ;  $R = \frac{I}{U}$  - أصغر - أكبر -  $E=1kWh$  ;  $E=0,1kWh$  - أطول - أقصر) . (  $10 \times 0,5$  ن )

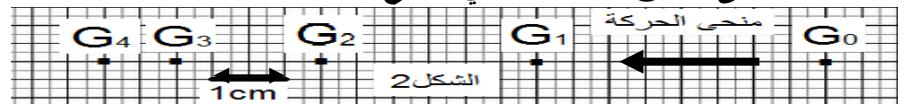
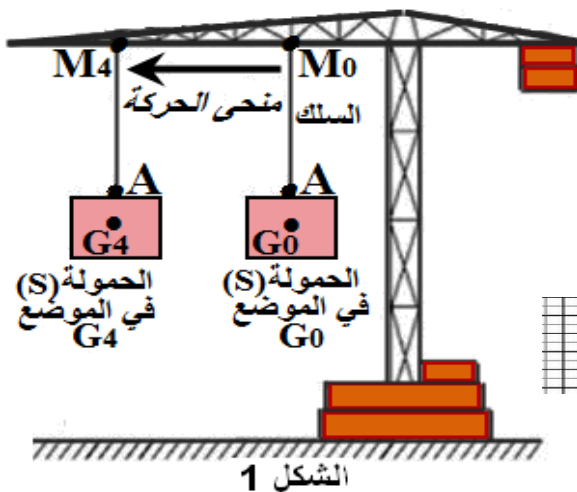
- 1- تأثير الرياح على شراع سفينة له مفعول ..... يمكن تمثيله بقوة .....
- 2- لقياس شدة وزن جسم نستعمل جهاز.....
- 3- يتعلق وصف حركة جسم أو سكونه بجسم آخر يسمى .....
- 4- تساوي السرعة المتوسطة لجسم متحرك خارج قسمة ..... على .....
- 5- تحسب المقاومة الكهربائية بالعلاقة .....
- 6- القدرة الكهربائية المستهلكة من طرف مصباح (  $220\text{ V} ; 100\text{ W}$  ) مشغل بالتوتر  $160\text{ V}$  ..... من  $100\text{ W}$ .
- 7- الطاقة الكهربائية المستهلكة من طرف مصباح (  $220\text{ V} ; 100\text{ W}$  ) تم تشغيله بصفة عادية لمدة ساعة هي .....
- 8 - تكون مسافة الفرملة في الطريق المبلل ..... من مسافة الفرملة في الطريق الجاف .

### II صل بسهم كل مقدار فيزيائي بوحدة قياسه . ( $6 \times 0,5$ ن )

المقدار الفيزيائي	القدرة الكهربائية	شدة وزن الجسم	الطاقة الكهربائية	السرعة المتوسطة	مقاومة الموصل الأومي	الكتلة
المقدار الفيزيائي	القدرة الكهربائية	شدة وزن الجسم	الطاقة الكهربائية	السرعة المتوسطة	مقاومة الموصل الأومي	الكتلة
الوحدة	W	m /s	N	Wh	Kg	$\Omega$

### التمرين الثاني: (8 نقط):

الرافعة هي آلة يمكن استخدامها سواء لرفع أو إنزال حمولة أو نقلها أفقياً،  
1- أثناء نقل حمولة S كتلتها  $m = 500\text{ Kg}$  بواسطة رافعة من الموضع  $G_0$  إلى الموضع  $G_4$  (أنظر الشكل 1) تم التسجيل المتتالي للمواضع التي احتلتها الحمولة S أثناء حركتها بالنسبة لمرجع أرضي (أنظر الشكل 2).  
المدة الزمنية الفاصلة بين موضعين متتاليين هي  $t = 2,5\text{ s}$  .  
كل  $1\text{ cm}$  على الورق يمثل  $1\text{ m}$  في الواقع.



1-1 حد(د) (ي) نوع حركة الحمولة S وطبيعة مسارها بالنسبة لمرجع أرضي . (  $1$  ن )

2-1- احسب السرعة المتوسطة V لحركة الحمولة S بين الموضعين  $G_0$  و  $G_1$  ثم بين  $G_1$  و  $G_2$  بالوحدة  $\text{m/s}$  ثم ب  $\text{Km/h}$  . (  $2$  ن )

# لا يكتب شيء في هذا الإطار

1-3 - حدد (ي) طبيعة حركة الحمولة S ، معللا جوابك . (ن1)

2-2- نعتبر الحمولة S في حالة توازن في الموضع  $G_0$  كما يبين الشكل 1.  
1-2- أجد (ي) القوى المطبقة على الحمولة S في الموضع  $G_0$  . (ن1)

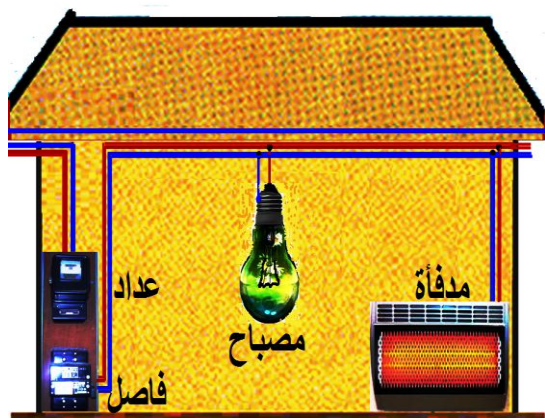
2-2- احسب (ي) شدة وزن الحمولة S . نعطي شدة الثقالة:  $g = 10N/Kg$  . (ن1)

2-3- حدد (ي) مميزات القوة المطبقة من طرف سلك الرافعة على الحمولة S . (ن1)

2-4- مثل (ي) القوة المطبقة من طرف سلك الرافعة على الحمولة S على الشكل 1 . باستعمال السلم : 1cm لكل 2500N . (ن1)

## التمرين الثالث: (4 نقط):

يزداد الإقبال على استعمال المدفئة الكهربائية في فصل الشتاء و ذلك لمواجهة موجات البرد القارس. تساءلت سيدة تقطن بمدينة إفران عن قيمة القدرة الكهربائية الاسمية لمدفئتها الكهربائية وعلاقتها بقيمة مقاومتها الكهربائية . شغلت هذه السيدة في غرفة مدفأة كهربائية (  $220 V ; \dots KW$  ) ومصباح كهربائي (  $220 V ; 100W$  ) في آن واحد . الفاصل الكهربائي مضبوط على الشدة  $15 A$  والعداد الكهربائي له ثابتة  $C = 2 Wh / tr$  . الجهازان الكهربائيان يشتغلان بصفة عادية.



التركيب المنزلي

1- أثناء اشتغال الجهازين معا لمدة زمنية  $t=30mn$  أنجز قرص العداد 575 دورة . بين (ي) أن قيمة القدرة الكهربائية الاسمية للمدفئة الكهربائية هي إحدى القيم التالية :  $2,1KW$  -  $2,2KW$  -  $2,3KW$  . (ن2)

2 - حدد (ي) معللا (ة) جوابك قيمة المقاومة الكهربائية للمدفئة الكهربائية . (ن1)

3 - بين (ي) معللا (ة) جوابك لماذا لم ينقطع التيار الكهربائي عند اشتغال الجهازين معا . (ن1)