



**2-1-2- خلاصة :**

لدراسة حركة جسم ما نختار جسما مرجعيا و نرفق به معلما يسمى **معلم الفضاء** .

يحدد موضع نقطة M من جسم في حركة في معلم الفضاء **بمتجهة الموضع  $\overrightarrow{OM}$**  .

❖ إذا كانت **الحركة مستقيمة**: نختار معلما  $R(O, \vec{i})$  يتكون من محور واحد  $Ox$  أصله  $O$  و موجه بالمتجهة الواحدية  $\vec{i}$  و نكتب

$$\|\overrightarrow{OM}\| = \sqrt{x_M^2} \quad \text{و} \quad \overrightarrow{OM} = x_M \vec{i}$$

❖ إذا كانت **الحركة مستوية**: نختار معلما  $R(O, \vec{i}, \vec{j})$  يتكون من محورين متعامدين و منظمين و نكتب **متجهة الموضع** كالتالي :

$$\|\overrightarrow{OM}\| = \sqrt{x_M^2 + y_M^2} \quad \text{و} \quad \overrightarrow{OM} = x_M \vec{i} + y_M \vec{j}$$

❖ إذا كانت **الحركة فضائية**: نختار معلما  $R(O, \vec{i}, \vec{j}, \vec{k})$  يتكون من

ثلاثة محاور متعامدة و منظمة و نكتب **متجهة الموضع** كالتالي :

$$\overrightarrow{OM} = x_M \vec{i} + y_M \vec{j} + z_M \vec{k}$$

$$\|\overrightarrow{OM}\| = \sqrt{x_M^2 + y_M^2 + z_M^2} \quad \text{و}$$

عند انتقال النقطة M تتغير إحداثياتها  $x_M$  و  $y_M$  و  $z_M$  مع الزمن .

**2-2- معلم الزمان :**

يقتضي وصف حركة نقطة من جسم الإشارة إلى تواريخ اللحظات التي

تحتل خلالها هذه النقطة مواضع معينة ، إذ نقرن بكل موضع M تاريخا t .

⊕ **المدة** هي المجال الزمني الفاصل بين بداية الحدث ونهايته .

⊕ **التاريخ** هي لحظة وقوع الحدث ، ولتحديده نختار وحدة للزمن ( الثانية s ) ، ومنحى موجبا ( من

الماضي إلى المستقبل ) ، وأصلا اعتباطيا ( يأخذ القيمة 0 ) .

**3-2- المسار :**

**مسار** نقطة من جسم في حركة هو **الخط المستمر**

الذي يصل مجموع المواضع المتتالية التي

تحتلها هذه النقطة أثناء حركتها .

يتعلق شكل مسار نقطة من جسم متحرك بالجسم

المرجعي الذي تدرس فيه الحركة .


تكون **الحركة مستقيمة** إذا كان المسار مستقيما .

تكون **الحركة منحنية** إذا كان المسار منحنيا .

تكون **الحركة دائرية** إذا كان المسار دائريا .

**3- متجهة السرعة :****1-3- السرعة المتوسطة :**

**السرعة المتوسطة** هي خارج قسمة المسافة المقطوعة d على المدة الزمنية  $\Delta t$  المستغرقة لقطع هاته



$$m.s^{-1} \leftarrow V_m = \frac{d}{\Delta t} \rightarrow m$$

$$1 m.s^{-1} = 3,6 km.h^{-1} \quad \text{مع}$$

$$V_m = \frac{M_1 M_2}{t_2 - t_1} \quad \text{بالنسبة لمسار مستقيمي} :$$

$$V_m = \frac{M_1 M_2}{t_2 - t_1} \quad \text{بالنسبة لمسار منحني} :$$

**2-3- متجهة السرعة اللحظية:**

تُميّز متجهة السرعة اللحظية لنقطية  $M$  من جسم متحرك اتجاه ومنحى حركة  $M$  عند اللحظة  $t$ .

**مميزات متجهة السرعة اللحظية  $\vec{V}_i$ :**

❖ **الأصل:** النقطة  $M_i$  موضع النقطة  $M$  عند اللحظة  $t_i$ .

❖ **الاتجاه:** المماس للمسار في النقطة  $M_i$ .

❖ **المنحى:** منحى الحركة.

❖ **المنظم:**  $V_i = \|\vec{V}_i\|$  ويساوي قيمة السرعة اللحظية ، عمليا نحدده

$$V_i = \frac{M_{i-1}M_{i+1}}{t_{i+1}-t_{i-1}} = \frac{M_{i-1}M_{i+1}}{2\tau}$$

بالنسبة لمسار مستقيمي

$$V_i = \frac{M_{i-1}M_{i+1}}{t_{i+1}-t_{i-1}} \approx \frac{M_{i-1}M_{i+1}}{2\tau}$$

بالنسبة لمسار منحنى

**ملحوظة:**

تحدد الإشارة الطرقية السرعة اللحظية التي يجب تجاوزها على الطريق ، وهي سرعة يقرأها سائق سيارة على مسراع سيارته كما يقيسها الرادار من أجل المراقبة .

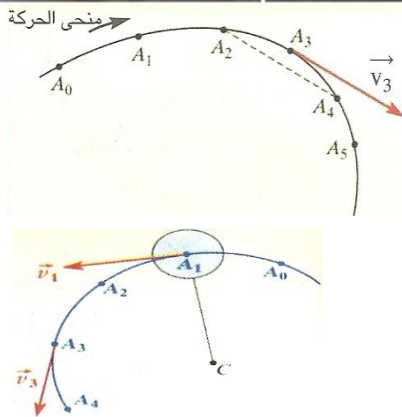


**تمثيل متجهة السرعة اللحظية  $\vec{V}_i$ :**

◀ نمثل متجهة السرعة بسهم يكون اتجاهه مماسا للمسار ، ومنحاه هو منحى الحركة ، وطوله يتناسب مع قيمة  $V$  وذلك باستعمال سلم مناسب .

◀ خلال الحركة المنحنية يكون اتجاه متجهة السرعة هو المماس للمسار عند النقطة  $M_i$  ، وعمليا هذا المماس هو الموازي للقطعة  $[M_{i-1}M_{i+1}]$ .

◀ خلال الحركة الدائرية يكون اتجاه متجهة السرعة هو المستقيم العمودي على شعاع الدائرة عند النقطة  $M_i$ .



**3-3- نشاط:**

نربط حاملا ذاتيا بطرف خيط غير مدود ثبت طرفه الآخر في النقطة  $O$  . نرسل الحامل الذاتي بسرعة أفقية وعمودية على الخيط ( حيث يبقى موترا ) ونعمل على تحريره من الخيط قبل أن ينجز دورة كاملة . وأثناء الحركة نسجل حركة المفجر المركزي  $M$  للحامل الذاتي خلال مدد زمنية متساوية ومنتالية  $\tau = 60ms$  فنحصل على التسجيل جانبه .

أ- حدد مرجعا لدراسة حركة الحامل الذاتي .

نختار كمرجع المنضدة الهوائية .

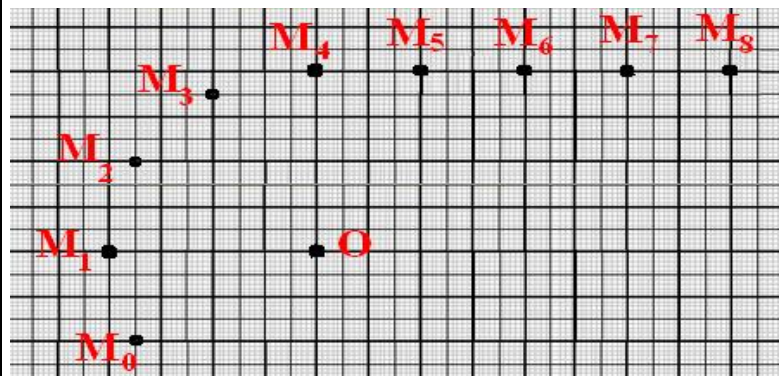
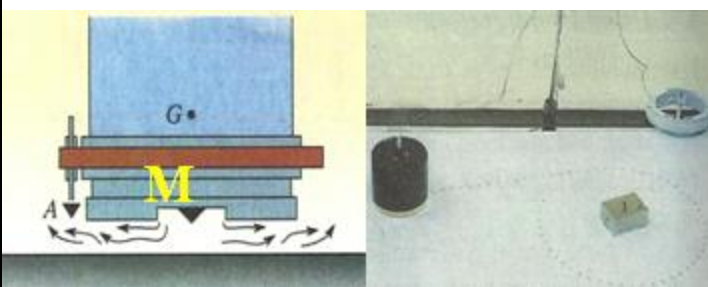
ب- حدد طبيعة المسار .

من  $M_0$  إلى  $M_4$  : المسار دائري

من  $M_4$  إلى  $M_8$  : المسار مستقيمي .

ج- حدد قيمة سرعة  $M$  بالنسبة للحامل الذاتي.

قيمة سرعة  $M$  بالنسبة للحامل الذاتي منعدمة





د- احسب قيمة السرعة المتوسطة للنقطة M بين الموضعين  $M_0$  و  $M_4$  ثم بين  $M_4$  و  $M_8$  بالنسبة للجسم المرجعي المرتبط بالمختبر .

$$V_m = \frac{M_0 M_4}{t_4 - t_0} = \frac{8,4 \cdot 10^{-2}}{4 \times 60 \cdot 10^{-3}} = 0,35 \text{ m.s}^{-1} \quad \text{لدينا من } M_0 \text{ إلى } M_4$$

$$V_m = \frac{M_4 M_8}{t_8 - t_4} = \frac{8 \cdot 10^{-2}}{4 \times 60 \cdot 10^{-3}} = 0,33 \text{ m.s}^{-1} \quad \text{و من } M_4 \text{ إلى } M_8$$

ه- احسب قيم السرعات اللحظية  $V_1$  و  $V_3$  و  $V_5$  و  $V_7$  .

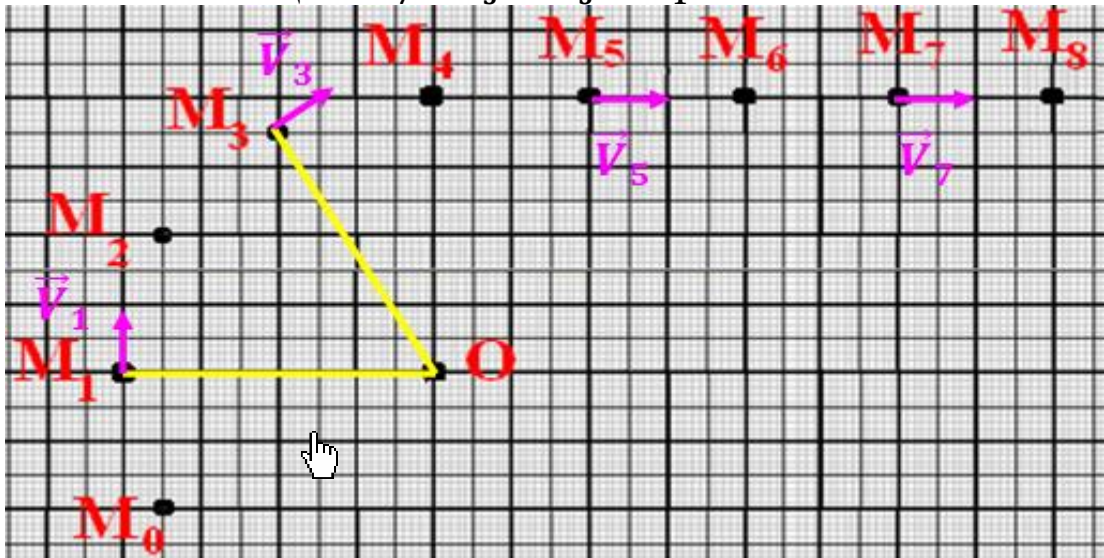
$$V_1 = \frac{M_0 M_2}{t_2 - t_0} \approx \frac{M_0 M_2}{2\tau} = \frac{4 \cdot 10^{-2}}{2 \times 60 \cdot 10^{-3}} = 0,33 \text{ m.s}^{-1} \quad \text{لدينا}$$

$$V_3 = \frac{M_2 M_4}{t_4 - t_2} \approx \frac{M_2 M_4}{2\tau} = \frac{4 \cdot 10^{-2}}{2 \times 60 \cdot 10^{-3}} = 0,33 \text{ m.s}^{-1} \quad \text{و}$$

$$V_5 = \frac{M_4 M_6}{t_6 - t_4} = \frac{M_4 M_6}{2\tau} = \frac{4 \cdot 10^{-2}}{2 \times 60 \cdot 10^{-3}} = 0,33 \text{ m.s}^{-1} \quad \text{و}$$

$$V_7 = \frac{M_6 M_8}{t_8 - t_6} = \frac{M_6 M_8}{2\tau} = \frac{4 \cdot 10^{-2}}{2 \times 60 \cdot 10^{-3}} = 0,33 \text{ m.s}^{-1} \quad \text{و}$$

و- مثل متجهات السرعات اللحظية  $\vec{V}_1$  و  $\vec{V}_3$  و  $\vec{V}_5$  و  $\vec{V}_7$  بالسلم  $0,33 \text{ m.s}^{-1} \rightarrow 1 \text{ cm}$



ز- قارن المتجهات  $\vec{V}_1$  و  $\vec{V}_3$  ثم  $\vec{V}_5$  و  $\vec{V}_7$  .

نلاحظ بالنسبة للحركة الدائرية أن  $\vec{V}_1 \neq \vec{V}_3$  أما بالنسبة للحركة المستقيمة فإن  $\vec{V}_5 = \vec{V}_7$  .

### 3-4- سرعة جسم صلب في إزاحة:

يكون جسم صلب في حركة إزاحة إذا لم يتغير اتجاه قطعة ما من هذا الجسم خلال حركته ، وهي :

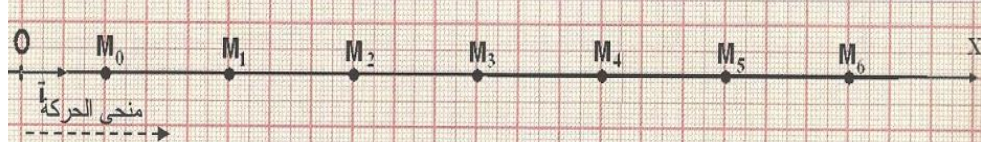
إزاحة دائرية : تكون مسارات كل نقط الجسم دوائر مراكزها مختلفة ولها نفس الشعاع	إزاحة منحنية : تكون مسارات كل نقط الجسم منحنيات متوازية	إزاحة مستقيمة : تكون مسارات كل نقط الجسم خطوطا مستقيمة

عندما يكون جسم صلب في حركة إزاحة فإن جميع نقطه تتحرك بنفس متجهة السرعة اللحظية ،  
وتساوي متجهة السرعة اللحظية للجسم عند نفس اللحظة .  
إذن ، لدراسة حركة جسم صلب في إزاحة يكفي دراسة حركة إحدى نقطه .

#### 4- الحركة المستقيمة المنتظمة :

##### 1-1- نشاط :

نرسل خيالا فوق نضد هوائي أفقي ونسجل حركة النقطة M خلال مدد زمنية متتالية  
ومتساوية  $\tau = 60 \text{ ms}$  .



أ- حدد مرجعا لدراسة الحركة ، وطبيعة مسار النقطة M .

نعتبر المنضدة كمرجع لدراسة الحركة وبما أن النقط  $M_i$  تنتمي لمستقيم فإن مسار النقطة M مستقيمي .

ب- قارن المسافات المقطوعة من طرف M في نفس المدة الزمنية  $\tau$  . ماذا تستنتج ؟

لدينا  $M_i M_{i+1} = 3 \text{ cm} = cte$  إذن المسافات المقطوعة خلال نفس المدة الزمنية  $\tau$  متقايسة  
وبالتالي السرعة اللحظية ثابتة .

ج- حدد طبيعة حركة النقطة M .

بما أن النقطة M تتحرك وفق مسار مستقيمي بسرعة ثابتة فإن النقطة M في حركة مستقيمة منتظمة .

د- نختار  $M_0$  أصلا لمعلم الفضاء  $(O, \vec{i})$  واللحظة التي سُجلت فيها  $M_0$  أصلا لمعلم الزمان  $t_0 = 0$  .

أتمم ملاً الجدول حيث  $x = OM = M_0 M$  و  $V_i = \frac{M_{i-1} M_{i+1}}{t_{i+1} - t_{i-1}} = \frac{x_{i+1} - x_{i-1}}{2\tau}$

الموضع	$M_6$	$M_5$	$M_4$	$M_3$	$M_2$	$M_1$	$M_0$
التاريخ t(s)	$36 \cdot 10^{-2}$	$30 \cdot 10^{-2}$	$24 \cdot 10^{-2}$	$18 \cdot 10^{-2}$	$12 \cdot 10^{-2}$	$6 \cdot 10^{-2}$	0
الأفصول $x_i(m)$	$18 \cdot 10^{-2}$	$15 \cdot 10^{-2}$	$12 \cdot 10^{-2}$	$9 \cdot 10^{-2}$	$6 \cdot 10^{-2}$	$3 \cdot 10^{-2}$	0
السرعة $V_i(m/s)$		0,5	0,5	0,5	0,5	0,5	

ه- مثل الدالة  $x = f(t)$  بسلم مناسب .

انظر جانبه .

و- تسمى معادلة الدالة  $x = f(t)$  المعادلة الزمنية لحركة M ،

أوجد تعبيرها .

المنحنى عبارة عن دالة خطية تكتب على شكل  $x = a \cdot t$

حيث a المعامل الموجب للمنحنى

$$a = \frac{\Delta x}{\Delta t} = \frac{(9-0) \cdot 10^{-2}}{(18-0) \cdot 10^{-2}} = 0,5 \text{ m} \cdot \text{s}^{-1}$$

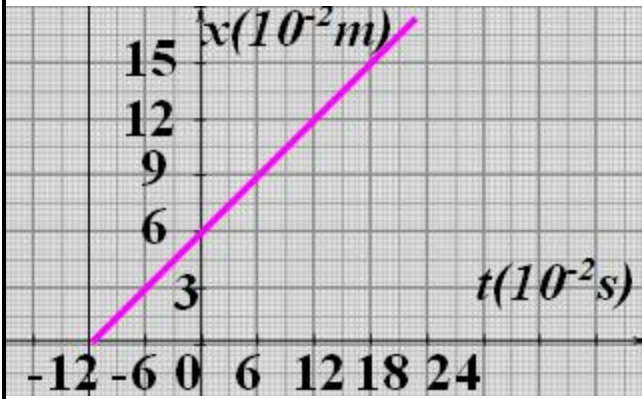
وبالتالي a يمثل السرعة اللحظية للنقطة M .

ومنه فإن تعبير المعادلة الزمنية لحركة M هو  $x = 0,5 t$  .

ز- نختار  $M_0$  أصلا لمعلم الفضاء  $(O, \vec{i})$  واللحظة التي سُجلت فيها  $M_2$  أصلا لمعلم الزمان  $t_2 = 0$  .

أتمم ملاً الجدول و مثل الدالة  $x = f(t)$  بسلم مناسب ثم حدد تعبير المعادلة الزمنية لحركة M .

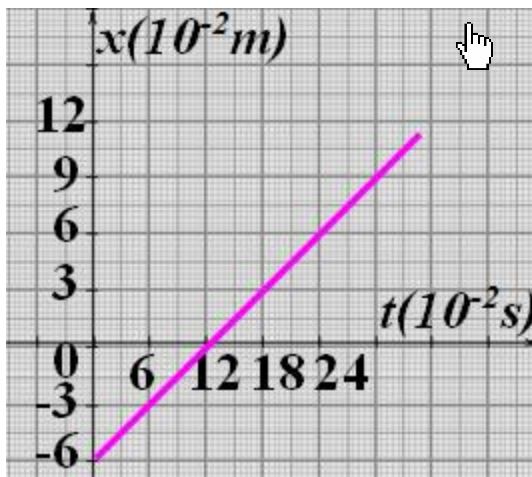
الموضع	$M_6$	$M_5$	$M_4$	$M_3$	$M_2$	$M_1$	$M_0$
التاريخ t(s)	$24 \cdot 10^{-2}$	$18 \cdot 10^{-2}$	$12 \cdot 10^{-2}$	$6 \cdot 10^{-2}$	0	$-6 \cdot 10^{-2}$	$-12 \cdot 10^{-2}$
الأفصول $x_i(m)$	$18 \cdot 10^{-2}$	$15 \cdot 10^{-2}$	$12 \cdot 10^{-2}$	$9 \cdot 10^{-2}$	$6 \cdot 10^{-2}$	$3 \cdot 10^{-2}$	0
السرعة $V_i(m/s)$		0,5	0,5	0,5	0,5	0,5	



انظر جانبه تمثيل الدالة  $x = (t)$  المنحني عبارة عن دالة تألفية تكتب على شكل  $x = a.t + b$  حيث  $a$  المعامل الموجب للمنحني و  $b$  ثابتة عند أصل التواريخ  $t_2 = 0$  لدينا  $x(t_2) = a.t_2 + b = b = 6.10^{-2}m$  وبالتالي  $b$  يمثل الأفصول البدني للنقطة  $M$  لدينا  $a = \frac{\Delta x}{\Delta t} = \frac{(9-6).10^{-2}}{(6-0).10^{-2}} = 0,5 m.s^{-1}$  وبالتالي  $a$  يمثل السرعة اللحظية للنقطة  $M$ .

ومنه فإن تعبير المعادلة الزمنية لحركة  $M$  هو  $x = 0,5 t + 6.10^{-2}$  ح- نختار  $M_2$  أصلا لمعلم الفضاء  $(O, \vec{i})$  واللحظة التي سُجلت فيها  $M_0$  أصلا لمعلم الزمان  $t_0 = 0$  أتمم ملاً الجدول و مثل الدالة  $x = f(t)$  بسلم مناسب ثم حدد تعبير المعادلة الزمنية لحركة  $M$ .

الموضع	$M_0$	$M_1$	$M_2$	$M_3$	$M_4$	$M_5$	$M_6$
التاريخ $t(s)$	0	$6.10^{-2}$	$12.10^{-2}$	$18.10^{-2}$	$24.10^{-2}$	$30.10^{-2}$	$36.10^{-2}$
الأفصول $x_i(m)$	$-6.10^{-2}$	$-3.10^{-2}$	0	$3.10^{-2}$	$6.10^{-2}$	$9.10^{-2}$	$12.10^{-2}$
السرعة $V_i(m/s)$		0,5	0,5	0,5	0,5	0,5	0,5



انظر جانبه تمثيل الدالة  $x = f(t)$  المنحني عبارة عن دالة تألفية تكتب على شكل  $x = a.t + b$  حيث  $a$  المعامل الموجب للمنحني و  $b$  ثابتة عند أصل التواريخ  $t_0 = 0$  لدينا  $x(t_0) = a.t_0 + b = b = -6.10^{-2}m$  وبالتالي  $b$  يمثل الأفصول البدني للنقطة  $M$  لدينا  $a = \frac{\Delta x}{\Delta t} = \frac{(6-0).10^{-2}}{(24-12).10^{-2}} = 0,5 m.s^{-1}$  وبالتالي  $a$  يمثل السرعة اللحظية للنقطة  $M$  ومنه فإن تعبير المعادلة الزمنية لحركة  $M$  هو  $x = 0,5 t - 6.10^{-2}$ .

#### 2-4- تعريف:

تكون حركة نقطة من جسم صلب **مستقيمة منتظمة** إذا كانت متجهة سرعتها اللحظية ثابتة مع مرور

الزمن ( أي تحتفظ متجهة السرعة اللحظية بنفس الاتجاه والمنحى والمنظم ) فنكتب:  $\vec{V} = c\vec{t}$

**ملحوظة:** خلال الحركة المستقيمة المنتظمة تكون السرعة اللحظية تساوي السرعة المتوسطة  $V = V_m$

#### 3-4- المعادلة الزمنية للحركة المستقيمة المنتظمة:

المعادلة الزمنية للحركة **المستقيمة المنتظمة** هي العلاقة التي تربط بين  $x$  أفصول نقطة من جسم

متحرك في معلم الفضاء  $(O, \vec{i})$  و  $t$  تاريخ ملاحظتها في معلم الزمان المرتبطين بالجسم المرجعي ، أي

معادلة الدالة  $x = f(t)$  ، ويعبر عنها بما يلي:  $x(t) = V_x \cdot t + x_0$  حيث

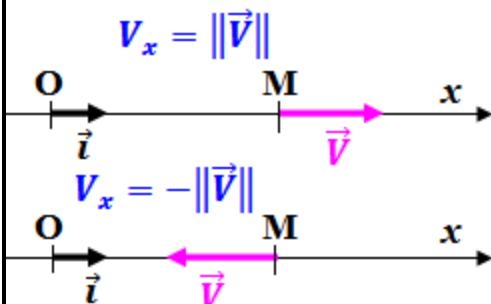
$x_0$  الأفصول البدني وهو أفصول النقطة المتحركة عند اللحظة

$t = 0$

$V_x$  إحداثي متجهة السرعة اللحظية على المعلم  $(O, \vec{i})$  أي

$\vec{V} = V_x \vec{i}$  مع  $V_x = \pm \|\vec{V}\|$

يسمى المنحني الممثل للمعادلة الزمنية **مخطط المسافات** .





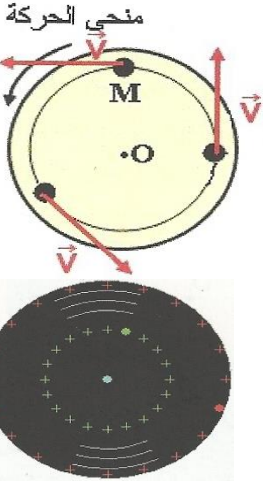
## 5- الحركة الدائرية المنتظمة :

### 5-1- تعريف :

تكون حركة نقطة من جسم صلب **دائرية منتظمة** إذا كان مسارها دائريا ويبقى منظم متجهة سرعتها اللحظية ثابتا مع مرور الزمن .

في هذه الحركة يتغير اتجاه ومنحى متجهة السرعة اللحظية أي  $\vec{V} \neq cte$  ولكن  $V = cte$  .

**ملحوظة :** يكون جسم في دوران حول محور ثابت إذا كان مسار كل نقطة دائريا بحيث تكون هذه الدوائر ممركة على المحور .



### 5-2- السرعة الزاوية :

السرعة الزاوية اللحظية  $V_i$  لنقطة M في حركة دائرية منتظمة هي خارج قسمة زاوية الدوران التي تكسها متجهة الموضع  $\vec{OM}$  على وحدة الزمن :

$$\omega_i = \frac{\delta\theta}{\delta t} = \frac{\theta_{i+1} - \theta_{i-1}}{t_{i+1} - t_{i-1}} \text{ . وحدتها في ( ن ع ) هي } rad.s^{-1} \text{ .}$$

### ملحوظة :

خلال مدة زمنية  $\Delta t$  تقطع النقطة M قوسا دائريا طوله  $l$  بحيث تكسح متجهة الموضع  $\vec{OM}$  زاوية  $\theta$  تسمى زاوية الدوران .  $l = R \cdot \theta$

### 5-3- العلاقة بين السرعة الزاوية والسرعة الخطية :

$$V_i = \frac{\widehat{M_{i-1}M_{i+1}}}{t_{i+1} - t_{i-1}} = \frac{l}{t_{i+1} - t_{i-1}} = \frac{R \cdot \theta_{i+1} - R \cdot \theta_{i-1}}{t_{i+1} - t_{i-1}} = R \cdot \frac{\theta_{i+1} - \theta_{i-1}}{t_{i+1} - t_{i-1}} \text{ لدينا}$$

$$V_i = R \cdot \omega_i \text{ إذن}$$

### 5-4- الدور والتردد :

**الدور** هو المدة الزمنية التي تستغرقها النقطة M في حركة دائرية منتظمة لإنجاز دورة كاملة .

$$T = \frac{2\pi}{\omega} \text{ (s) } \leftarrow \text{ } \rightarrow \text{ rad} \rightarrow \text{ rad.s}^{-1}$$

**التردد** هو عدد الدورات التي تنجزها النقطة M خلال ثانية .  $f = \frac{1}{T} = \frac{\omega}{2\pi} \text{ (Hz) } \leftarrow$