

|        |  |  |
|--------|--|--|
| الصفحة | <b>الامتحان الوطني الموحد للبكالوريا</b><br><b>الدورة الاستدراكية 2024</b><br><b>- الموضوع -</b> | <br>المملكة المغربية<br>وزارة التربية الوطنية<br>والتعليم الأولي والرياضة |
| 1      |  |  |
| 15     |  |  |
| ***    | TTTTTTTTTTTTTTTTTTTT-TTTT  | RS 53  |

|    |             |  |               |
|----|-------------|--|---------------|
| 2h | مدة الإنجاز | الاقتصاد العام والإحصاء                                  | المادة        |
| 3  | المعامل     | شعبة علوم الاقتصاد والتدبير مسلك علوم التدبير المحاسباتي | الشعبة المسلك |

- Les pages 5, 6, 7, 8, 9, 10, 11, 12, 13, 14 et 15 sont à compléter et à rendre avec la copie.
- L'utilisation de la machine à calculer non programmable est autorisée.
- Pour les résultats des calculs, reprenez uniquement les deux premiers chiffres après la virgule.
- Evitez les ratures et les surcharges.
- 0,5 point de la note sur 20 est réservé à la présentation soignée de la copie.

## DOSSIER 1 : DYSFONCTIONNEMENTS DES MARCHES ET AGREGATS DE LA COMPTABILITE NATIONALE

### DOCUMENT 1 : Maroc, hausse du prix du lait en 2022

Au Maroc, au cours des trois dernières années, la production annuelle du lait a connu une baisse non négligeable, passant de 2,55 milliards de litres à 2 milliards, soit une chute de 21%. Cette réduction s'explique par une diminution du nombre de vaches laitières, des températures élevées qui impactent la productivité laitière et une augmentation vertigineuse du prix des aliments pour le bétail. Les producteurs de lait les plus dominants sur le marché, Centrale-Danone et COPAG, ont relevé le prix initial d'un demi-litre de lait de 50 centimes en 2022 par rapport à 2021 pour atteindre 4 dirhams.

Face à cette situation critique, le gouvernement a annoncé une série de mesures d'urgence visant à rétablir l'approvisionnement. Ces mesures comprennent la subvention des aliments composés pour le bétail et l'exonération de la TVA sur l'importation d'aliments simples et de fourrages.

En outre, la consommation de lait au Maroc est largement au-dessous de la recommandation de l'organisation mondiale de la santé (OMS), qui est de 90 litres par an et par habitant, avec seulement 22 litres.

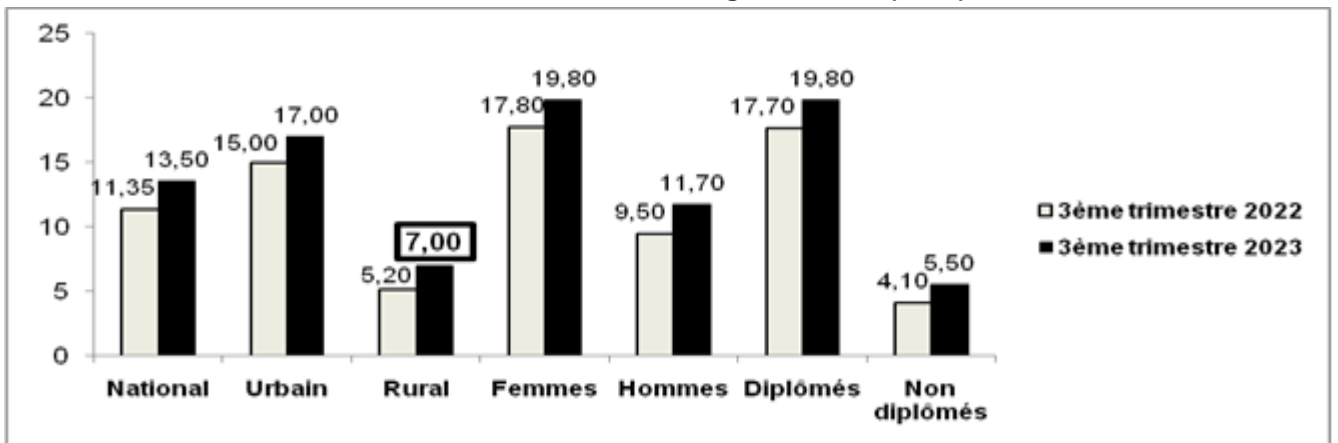
Sources : www.360.ma au 24/11/2023 et www.hespress.com au 15/12/2022 (Texte adapté)

### DOCUMENT 2 : Maroc, l'éternelle problématique du chômage

Le Maroc est confronté à une situation préoccupante en terme de chômage. Bien que le gouvernement ait mis en place plusieurs politiques pour l'emploi, les résultats ne sont pas encore visibles. Il est donc important de prendre en compte les défis liés à l'éducation et à la formation.

Entre le troisième trimestre de 2022 et celui de 2023, le nombre de chômeurs a connu une augmentation de 181 000 en milieu urbain et de 67 000 en milieu rural pour atteindre 1 625 000 personnes.

**Evolution du taux de chômage au Maroc (en %)**



Source : www.hcp.ma (Texte adapté)

**DOCUMENT 3 : Maroc, taux d'inflation de 6,2% en 2023**

Bank Al-Maghrib (BAM) anticipe une inflation en baisse. Ainsi, l'inflation devrait ressortir à 6,2% en moyenne durant l'année 2023, avant de s'établir à **3,8%** en 2024.

La composante de l'inflation qui exclut les produits à prix volatils et les produits à tarifs publics devrait aussi connaître une trajectoire similaire, passant de 6,6% en 2023 à 2,9% en 2024.

Après un taux de 6,6% en 2022, la hausse du niveau général des prix a continué de s'accélérer pour atteindre un pic de 10,1% en février 2023. Et depuis, l'inflation s'est inscrite en décélération mais reste à des niveaux élevés en lien avec le renchérissement des produits alimentaires frais, revenant à 8,2% en mars, à 7,8% en avril puis à 7,1% en mai.

**Evolution de l'Indice des Prix à la Consommation (IPC) au Maroc (Base 100 en 2017)**

| Eléments                                | 2020  | 2021         | 2022  |
|---|-------|--------------|-------|
| Indice des prix à la consommation (IPC) | 102,5 | <b>103,9</b> | ..?.. |
| Taux d'inflation en %                   |       |              | 6,6   |

Sources : www.ecoactu.ma au 20/07/2023 et www.hcp.ma (Texte adapté)

**DOCUMENT 4 : Maroc, exportations de quelques principaux produits alimentaires**

| Elément          | 2021     |       | 2022     |       |
|------------------|----------|-------|----------|-------|
|                  | Quantité | Prix  | Quantité | Prix  |
| Tomates fraîches | 631      | 12,22 | 741      | 14,04 |
| Agrumes          | 608      | 7,92  | 629      | 8,77  |

NB : Quantités en milliers de tonnes et prix unitaires en milliers de DH.

Source : www.oc.gov.ma

**DOCUMENT 5 : Maroc, croissance économique en 2023**

Bank Al-Maghrib (BAM) prévoit une croissance du PIB de **2,9%** pour 2023, et une hausse de 3,2% attendue en 2024. À noter que ces chiffres omettent des facteurs exogènes, y compris l'impact potentiel du séisme d'Al Haouz.

L'arrêt des comptes nationaux de l'année 2022 fait ressortir un net ralentissement de la croissance économique se situant à 1,3% au lieu de 8% l'année précédente. La valeur ajoutée des activités non agricoles a affiché une augmentation de 3% alors que celle du secteur agricole a baissé de 12,9%.

Tirée par la demande extérieure, cette croissance a été réalisée dans un contexte d'une hausse d'inflation et d'une aggravation du besoin de financement de l'économie nationale.

**Quelques agrégats de la comptabilité nationale aux prix courants  
- Valeurs en milliards de DH (MMDH) et taux en % -**

| Elément  | 2019    | 2020    | 2021        | 2022    |
|--|---------|---------|-------------|---------|
| PIB  | 1 152,8 | 1 152,4 | 1 284,1     | ..?..   |
| Valeur ajoutée agricole (VAA)                      | 128,6   | 117,1   | 145,2       | 130,3   |
| Valeur ajoutée non agricole (VANA)                 | 891,0   | 919,0   | 1 006,2     | 1 070,6 |
| Impôts sur les produits nets de subventions (IPNS) |         |         |             | 129,2   |
| Taux d'épargne nationale (TE)                      | 27,8    | 26,0    | 26,4        | 24,8    |
| Taux d'investissement (TI)                         | 31,9    | 28,8    | <b>30,5</b> | 30,3    |

Source : www.hcp.ma (Texte adapté)

**TRAVAIL A FAIRE :****(11,50 points)**

| Document de référence | N° | Questions                                | Barème   |
|-----------------------|----|--|----------|
| ANNEXE 1              | 1  | Complétez l'ANNEXE N°1, page n°5         | 1,50 pt  |
| DOCUMENT 1            | 2  | Complétez l'ANNEXE N°2, page n°6         | 1,75 pt  |
| DOCUMENT 2            | 3  | Complétez l'ANNEXE N°3, pages n°6 et n°7 | 1,75 pt  |
| DOCUMENT 3            | 4  | Complétez l'ANNEXE N°4, page n°7         | 1,75 pt  |
| DOCUMENT 4            | 5  | Complétez l'ANNEXE N°5, page n°8         | 2,00 pts |
| DOCUMENT 5            | 6  | Complétez l'ANNEXE N°6, pages n°8 et n°9 | 2,75 pts |

**DOSSIER 2 : POLITIQUES ECONOMIQUES CONJONCTURELLES****DOCUMENT 6 : Maroc, la liquidité bancaire ne cesse de jouer au yoyo**

Même si elle est structurellement déficitaire, la liquidité bancaire ne cesse de jouer au yoyo, en moyenne hebdomadaire, depuis le début de l'année 2023. Bank Al Maghrib (BAM) attribue cette évolution à la hausse des avoirs officiels de réserve de BAM. Il a été logique, dans ces conditions, que BAM réduise le montant de ses injections à 83,5 milliards de DH (MMDH). Ce volume comprend 39,3 MMDH sous forme d'avances à 7 jours, 22,1 MMDH à travers les opérations de pensions livrées, 22 MMDH au titre des opérations de prêts garantis et 31 millions de dirhams sous forme de swap de change. Le taux interbancaire est, pour sa part, demeuré aligné avec le taux directeur. Notons que BAM a maintenu son taux directeur inchangé pour le soutien de certains secteurs d'activité et du pouvoir d'achat des ménages. Par ailleurs, **la hausse du taux directeur reste un outil qui peut être utilisé pour décourager la consommation et l'investissement et desserrer (\*) ainsi la pression sur les prix.**

D'un autre côté, l'agrégat monétaire M3 est revenu, en glissement annuel, à 6,7% en août après 7,1% en juillet 2023. Cette évolution reflète principalement l'accentuation de la baisse des comptes à terme et la hausse de la circulation fiduciaire et des dépôts à vue auprès des banques.

(\*) détendre

Sources : www.leseco.ma au 22/06/2023 et www.hcp.ma (Texte adapté)

**DOCUMENT 7 : Maroc, loi de finances (LF) 2024**

La LF 2024 fixe des priorités, à savoir le renforcement des mesures prises pour faire face aux répercussions conjoncturelles, la poursuite du renforcement des piliers de l'État social, la poursuite de la mise en œuvre des réformes structurelles et le renforcement de la soutenabilité des finances publiques. Sans surprise, les dépenses de fonctionnement (DF) accaparent 64% du budget (279,4 MMDH) de 2024, en progression de 3% par rapport à 2023. Il est à préciser que les charges communes-fonctionnement ressortent en diminution de 10% à 34,8 MMDH. Elles couvrent essentiellement les charges de compensation estimées à 17 MMDH, alors qu'elles étaient établies à 26 MMDH dans la LF de 2023. Les dépenses en intérêts et commissions (DIC) se rapportant à la dette publique, s'élevant à 38,2 MMDH, représentent près de 14% des dépenses de fonctionnement de l'Etat en 2024.

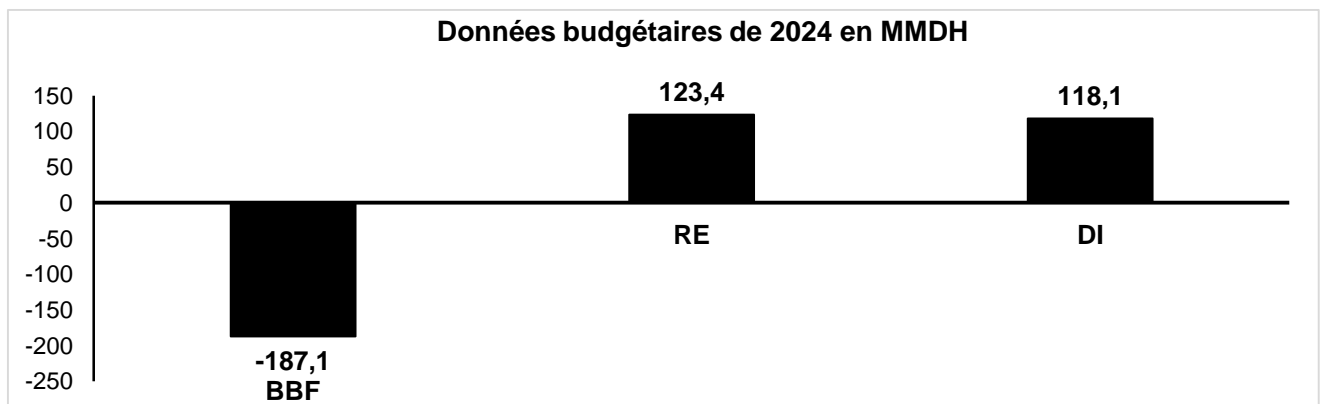
De leur côté, les différentes recettes fiscales (RF) et non fiscales (RNF), dont les montants respectifs s'élèvent à 280,4 MMDH et 30,9 MMDH, ne suffiraient même pas pour financer les dépenses ordinaires.

En 2025 et 2026, les privatisations et les transferts d'actifs devraient générer 3 MMDH chaque année. Cette importante injection de fonds permettrait de financer des projets de développement de l'Etat, d'améliorer les infrastructures, de stimuler la croissance économique et surtout de contribuer au financement du programme social.

Par ailleurs la LF 2024 prévoit la mise en place de 30 034 postes budgétaires. Le montant des crédits alloués aux dépenses d'investissement dans le cadre de la même loi atteint 118,1 MMDH.

La LF 2024 présente un ensemble de mesures fiscales visant à ajuster et améliorer le système fiscal au Maroc. Ces mesures touchent principalement la TVA :

- Généralisation de l'exonération de la TVA aux produits de base de large consommation ;
- Intégration du secteur informel et rationalisation des incitations fiscales ; ...

**Données budgétaires de 2024 en MMDH**

BBF : Besoins bruts de financement du budget de l'Etat

RE : Recettes d'emprunts à moyen et long termes

DI : Dépenses d'investissement du budget général

Sources : www.le360.ma au 26/12/2023 et www.lavieeco.com au 27/10/2023 (Texte adapté)

## TRAVAIL A FAIRE :

(8,00 points)

| Document de référence | N° | Questions   | Barème   |
|-----------------------|----|---|----------|
| ANNEXE 7              | 7  | Complétez l'ANNEXE N°7, page n°9  | 1,00 pt  |
| DOCUMENT 6            | 8  | Complétez l'ANNEXE N°8, page n°10   | 2,00 pts |
| DOCUMENT 7            | 9  | Complétez l'ANNEXE N°9, page n°11   | 2,00 pts |
| Question de synthèse  | 10 | <p><b>Exploitez le document n°7 et vos connaissances acquises.</b></p> <p>Dans une conjoncture marquée par un défi économique significatif, l'État marocain opte pour certaines mesures budgétaires sans écarter la vocation sociale et le soutien à l'économie.</p> <p>Après avoir <b>relevé</b> les priorités de la loi de finances 2024 (<b>deux priorités</b>) et les actions budgétaires menées par le gouvernement (<b>quatre actions</b>) dans le cadre de la même loi, <b>précisez</b> les effets de ces dernières sur la situation économique du pays (<b>quatre effets</b>).</p> <p><b>N.B :</b></p> <ul style="list-style-type: none"> <li>• Rédigez votre réponse à la question de synthèse sur les pages n° 12, 13, 14 et 15.</li> <li>• Évitez l'utilisation des tirets et rédigez votre réponse sous forme de paragraphes structurés (utilisez les connecteurs logiques) avec des transitions ;</li> <li>• Votre travail doit respecter la forme usuelle d'une synthèse argumentée (Introduction, développement et conclusion).</li> </ul> | 3,00 pts |

### DOSSIER 1 : DYSFONCTIONNEMENTS DES MARCHES ET AGREGATS DE LA COMPTABILITE NATIONALE

**ANNEXE 1 : Mettez une croix (x) dans la case appropriée (Vrai ou Faux). Justifiez ; (1,50 point)**

| N° | Proposition  | Vrai | Faux | Justification |
|----|--|------|------|---------------|
| 1  | L'indicateur de l'inflation sous-jacente mesure le niveau de la hausse générale des prix sans tenir compte de certains postes de dépenses de consommation dans le calcul.        |      |      |               |
| 2  | Les certificats de dépôt s'échangent sur le marché monétaire.  |      |      |               |
| 3  | Dans une économie, le taux de chômage désigne la part des actifs dans la population en âge d'activité.   |      |      |               |
| 4  | Sur le marché des biens et services, l'offre globale est la richesse créée au niveau national à laquelle s'ajoutent les exportations.  |      |      |               |
| 5  | Le chômage conjoncturel est dû à l'incapacité durable de l'appareil productif d'absorber toute la population active sur le marché.   |      |      |               |
| 6  | La condition de la transparence, dans un marché de concurrence pure et parfaite, signifie que les demandeurs connaissent parfaitement les caractéristiques des produits offerts. |      |      |               |

|        |   |       |   |
|--------|---|-------|---|
| الصفحة | 6 | RS 53 | الامتحان الوطني الموحد للبكالوريا - الدورة الاستدراكية 2024 - الموضوع<br>- مادة: الاقتصاد العام والإحصاء-<br>شعبة علوم الاقتصاد والتدبير مسلك علوم التدبير المحاسباتي |
| 15     |   |       |   |

**ANNEXE 2 : (Référence : Document n°1)**

**(1,75 point)**

**a- Identifiez, en justifiant, le régime du marché du lait au Maroc :**

**(0,5 pt)**

| Régime | Justification |
|--------|---------------|
|        |               |

**b- Caractérissez le marché marocain du lait selon ses composantes (une caractéristique par composante) ;**

**(0,5 pt)**

| Offre | Demande | Prix |
|-------|---------|------|
|       |         |      |

**c- Relevez deux facteurs explicatifs de la baisse de la production nationale du lait ;**

**(0,50 pt)**

|  |
|--|
|  |
|--|

**d- Précisez un effet éventuel des mesures prises par le gouvernement sur la production du lait au Maroc.**

**(0,25 pt)**

|  |
|--|
|  |
|--|

**ANNEXE 3 : (Référence : Document n°2)**

**(1,75 points)**

**a- Identifiez la nature du dysfonctionnement sur le marché du travail ;**

**(0,25 pt)**

|  |
|--|
|  |
|--|

**b- Lisez la donnée en gras encadrée ;**

**(0,25 pt)**

|      |  |
|------|--|
| 7,00 |  |
|------|--|

**c- Calculez la population active âgée de 15 ans et plus au troisième trimestre 2022 ;**

**(0,75 pt)**

| Formule | Application numérique | Résultat |
|---------|-----------------------|----------|
|         |                       |          |

|        |   |       |   |
|--------|---|-------|---|
| الصفحة | 7 | RS 53 | الامتحان الوطني الموحد للبكالوريا - الدورة الاستدراكية 2024 - الموضوع                         |
| 15     |   |       | - مادة: الاقتصاد العام والإحصاء -<br>شعبة علوم الاقتصاد والتدبير مسلك علوم التدبير المحاسباتي |

d- Relevez et illustrez deux caractéristiques du chômage au Maroc au troisième trimestre de 2023. (0,50 pt)

| Caractéristique | Illustration |
|-----------------|--------------|
|                 |              |
|                 |              |

ANNEXE 4 : (Référence : Document n°3)

(1,75 point)

a- Lisez les données en gras soulignées ; (0,50 pt)

|       |  |
|-------|--|
| 3,8%  |  |
| 103,9 |  |

b- Illustrez la notion de désinflation, à partir des données marocaines ; (0,25 pt)

|  |
|--|
|  |
|--|

c- Calculez : (1,00 pt)

| Élément               | Formule | Application numérique | Résultat |
|-----------------------|---------|-----------------------|----------|
| Taux d'inflation 2021 |         |                       |          |
| IPC 2022              |         |                       |          |

|        |   |       |   |  |
|--------|---|-------|---|--|
| الصفحة | 8 | RS 53 | الامتحان الوطني الموحد للبكالوريا - الدورة الاستدراكية 2024 - الموضوع                         |  |
| 15     |   |       | - مادة: الاقتصاد العام والإحصاء -<br>شعبة علوم الاقتصاد والتدبير مسلك علوم التدبير المحاسباتي |  |

**ANNEXE N°5 : (Référence : Document 4)**

**(2,00 pts)**

Calculez et lisez :

| Elément               | L'indice d'évolution de la valeur totale des exportations de quelque principaux produits alimentaires en 2022, base 100 en 2021 | L'indice de Laspeyres - prix des exportations de quelques principaux produits alimentaires en 2022, base 100 en 2021 |
|-----------------------|---|--|
| Formule               |   |  |
| Application numérique |   |  |
| Résultat              |   |  |
| Lecture               |   |  |

**ANNEXE 6 : (Référence : Document n°5)**

**(2,75 points)**

**a- Lisez les données en gras soulignées ;**

**(1 pt)**

|             |  |
|-------------|--|
| <b>2,9%</b> |  |
| <b>30,5</b> |  |

**b- Relevez un facteur explicatif du ralentissement de la croissance économique en 2022 ;**

**(0,25 pt)**

|  |
|--|
|  |
|--|

c- Calculez et lisez :

(1,50 pt)

| Elément   | Formule | Application numérique et résultat | Lecture |
|---|---------|-----------------------------------|---------|
| Produit intérieur brut 2022 (PIB <sub>2022</sub> )  |         |                                   |         |
| Epargne nationale brute 2021 (ENB <sub>2021</sub> ) |         |                                   |         |

## DOSSIER 2 : POLITIQUES ECONOMIQUES CONJONCTURELLES

ANNEXE 7 : Mettez une croix (x) dans la case appropriée ;

(1,00 point)

1- L'effet boule de neige désigne :

- l'augmentation des taux d'intérêt imputable au besoin de financement de l'État.
- le mécanisme cumulatif de la fiscalité imputable à la hausse de la dette publique.
- l'orientation de la majorité de l'épargne nationale au profit de l'État.
- l'augmentation cumulative de la dette du fait du poids des intérêts liés à la dette publique.

2- Les crédits bancaires aux ménages font partie des :

- ressources à caractère non monétaire.
- créances sur l'économie.
- créances nettes des institutions de dépôt sur les non-résidents.
- créances nettes sur l'administration centrale.

3- La politique budgétaire de rigueur consiste à :

- réduire les dépenses publiques.
- augmenter les dépenses publiques.
- baisser les recettes publiques.
- maîtriser les recettes publiques.

4- La part des prélèvements fiscaux dans le PIB est désignée par :

- les recettes fiscales du budget général.
- l'effet boule de neige.
- la pression fiscale.
- l'effet d'éviction.

5- La politique budgétaire de rigueur a pour objectif :

- la lutte contre le chômage.
- la stabilité des prix.
- la stimulation de la croissance économique.
- la relance de l'économie par le budget.

6- La dévaluation de la monnaie nationale, dans un système de change fixe, désigne :

- la hausse de la valeur de la monnaie nationale par le libre jeu de l'offre et de la demande.
- la baisse de la valeur de la monnaie nationale par le libre jeu de l'offre et de la demande.
- la décision officielle d'augmenter la valeur de la monnaie nationale par rapport à un étalon de référence.
- la décision officielle de baisser la valeur de la monnaie nationale par rapport à un étalon de référence.

## ANNEXE 8 : (Référence : Document n°6)

(2,00 points)

a- Relevez :

(0,75 pt)

Deux actions de la politique monétaire

Deux composantes de la masse monétaire

Une contrepartie de la masse monétaire

b- Montrez un effet éventuel des injections de BAM sur la croissance économique ;

(0,25 pt)

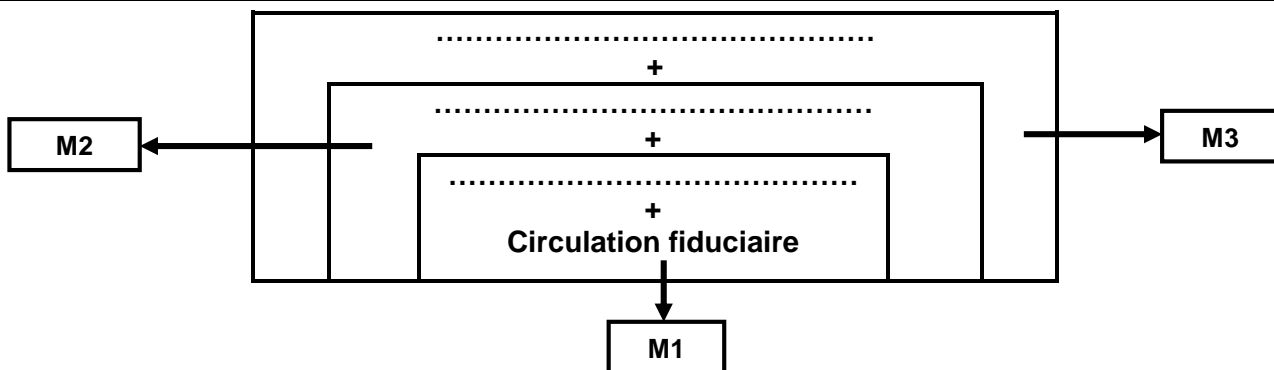
c- Expliquez le passage en gras souligné ;

(0,50 pt)

d- Complétez le schéma ci-dessous en utilisant les expressions suivantes :

Avoirs officiels de réserve – Placements à vue – Autres actifs monétaires – Monnaie scripturale – Créances sur l'économie – Créances nettes sur l'Administration Centrale

(0,50 pt)



## ANNEXE 9 : (Référence : Document n°7)

(2,00 points)

## a- Relevez :

(0,25 pt)

Deux actions  
budgétaires pour la  
LF 2024

Une recette non  
fiscale

## b- Précisez :

(0,25 pt)

b<sub>1</sub> - deux effets positifs éventuels des opérations de privatisation au Maroc ;

Un effet sur la bourse des valeurs

Un effet sur le déficit budgétaire

b<sub>2</sub> - une conséquence d'une décompensation éventuelle sur les ménages ;

## c- Calculez et lisez :

(1,5 pt)

| Elément   | Formule | Application numérique et résultat | Lecture |
|---|---------|-----------------------------------|---------|
| Solde du budget général HEA* prévu en 2024 (SBG HEA)            |         |                                   |         |
| Besoins résiduels de financement du budget de l'Etat 2024 (BRF) |         |                                   |         |

\* HEA : hors produits des emprunts et hors amortissements de la dette publique à moyen et long termes







0,5 point est réservé à la présentation soignée de la copie