



2017-2018

Eco-G et Statistique

Examen Blanc N° 2

2 Semestre

Le 27/04/2018

2 Bac - GE-

Durée: 3 heures

المادة

1

5

Les pages 6 et 7 sont à rendre obligatoirement avec la copie
L'utilisation de la machine à calculer non programmable est autorisée
Pour les calculs, retenir deux chiffres après la virgule
Évitez les ratures et les surcharges, mentionnez le numéro du dossier puis celui de la question
0,5 point de la note sur 20 est réservé à la présentation de la copie

DOSSIER 1 : POLITIQUES CONJONCTURELLES ET ÉQUILIBRES MACROÉCONOMIQUES

DOCUMENT 1 : Principaux indicateurs économiques au Maroc

Selon le haut commissariat au plan (HCP), le Maroc devrait connaître un quasi-doublement de son taux de croissance économique en 2015, à près de 5%. Cette performance s'attribue notamment à un fort rendement agricole, qui permettrait une légère baisse du taux de chômage pour s'établir à 9,7%, et à une importante baisse des prix des matières premières y compris le pétrole. Cependant, tous les prévisionnistes sont d'accord qu'en 2016, le Maroc connaîtra bien un fort ralentissement du taux de sa croissance économique à environ 2%. En cause, un recul attendu de la valeur ajoutée agricole qui va contrebalancer des facteurs favorables comme la baisse du prix du pétrole. Par ailleurs, le déficit budgétaire après avoir dépassé 7% en 2012, a été ramené à 5% fin 2014 et devrait être de 4,5% en fin d'année 2015. Cette amélioration du déficit est en partie due à l'efficacité des politiques économiques liée en particulier à la « réussite » de la réforme de la caisse de compensation, qui subventionne des produits de grande consommation. Le coût de cette caisse ne devrait pas dépasser 23 milliards de dirhams en 2015 contre 53 milliards de dirhams en 2012. En outre, en 2015, l'inflation reste modérée et devrait s'établir à 1,5%, quant au solde des transactions courantes, toutes les prévisions tablent sur un déficit de 3 % du PIB.

Source : www.telquel au 21/01/15 et Le Budget Economique Exploratoire, HCP, 2016 (texte adapté)

DOCUMENT 2 : Données de la comptabilité nationale marocaine en millions de DH (Prix courants)

Rubriques	2015 (*)
Produit intérieur brut (PIB)	953 854
Dépenses de consommation finale (DCF)	758 416
Exportations des biens et services (X)	323 605
Variation des stocks (ΔS)	32 530
Importations des biens et services (M)	447 602
Formation brute du capital fixe (FBCF)	.. ?..

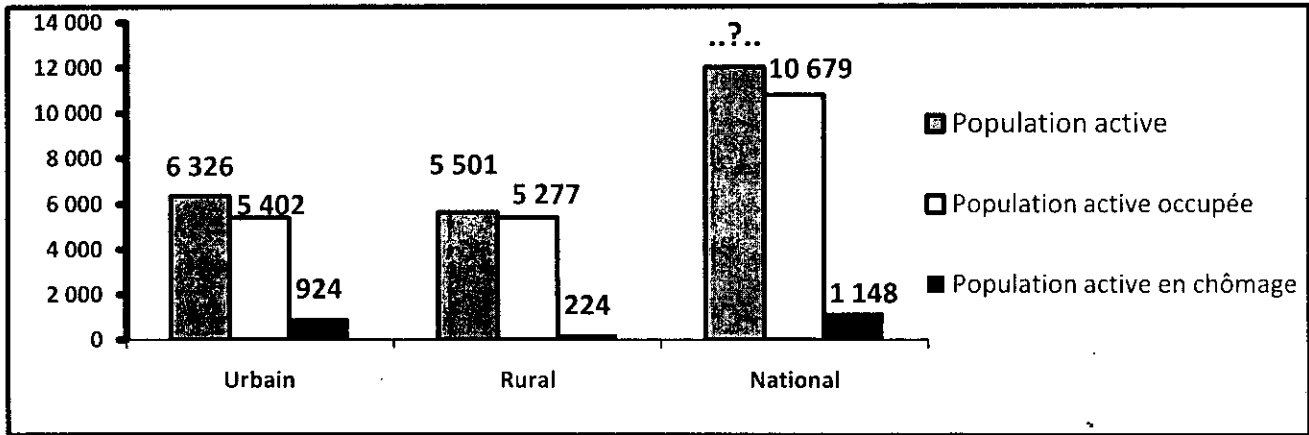
(*) Prévisions

Source : Le Budget Economique Exploratoire, HCP, 2015

DOCUMENT 3 : Situation du marché du travail en 2015

Selon le HCP, entre 2014 et 2015, le taux de chômage est passé de 9,9% à 9,7% au niveau national, de 14,8% à 14,6% en milieu urbain et de 4,2% à ...?...% en milieu rural.

Population active marocaine en 2015 (en milliers de personnes)



Source : Enquête nationale sur l'emploi, HCP

DOCUMENT 4 : Taux directeur, un potentiel de baisse inexploité ?

Après deux baisses successives de 3% à 2,75% puis à 2,5%, Bank Al-Maghrib a maintenu inchangé son taux directeur depuis décembre 2014. **Décision qui risque de ne pas donner un nouveau coup de pouce à la demande intérieure.**

Pourtant, plusieurs facteurs sont favorables pour une baisse du taux directeur. D'une part, la conjoncture internationale ne laisse pas penser que des pressions inflationnistes d'origine externe viendraient s'exercer sur l'économie marocaine : la reprise de l'activité dans l'union européenne, principal partenaire commercial du Maroc, reste faible, le prix du pétrole en baisse, les taux directeurs des principales banques centrales sont à des niveaux proches de zéro et l'inflation est également à des niveaux extrêmement bas en zone euro et aux Etats-Unis. D'autre part, sur le plan interne, on note l'absence de tensions inflationnistes émanant de la demande ou d'origine monétaire liée au ralentissement de la distribution des crédits.

Taux d'inflation et évolution des crédits bancaires en %

Année (xi)	2011	2012	2013	2014	2015
Variation en % des crédits bancaires (yi)	10,6	4,6	3,9	2,2	0,2
Taux d'inflation	0,9	1,3	1,9	0,4	1,6

Par ailleurs, l'agrégat M3 a enregistré, en glissement mensuel, en novembre 2015, une hausse de 0,6% pour s'établir à 1 122 milliards de DH. Cette évolution résulte de la progression de 0,4% des créances sur l'économie, de 1,6% des créances nettes sur l'Administration centrale et de 0,9% des réserves internationales nettes.

Source : www.lavieeco.com au 05/10/2015 et au 01/02/2016 (texte adapté)

DOCUMENT 5 : Quelques orientations de la politique budgétaire au Maroc en 2016

(...) Pour le projet de la loi de finances 2016, le ministre de l'économie et des finances a souligné que les avancées réalisées en matière des équilibres macro-économiques, en l'occurrence la baisse du déficit budgétaire, ne sont pas liées aux facteurs conjoncturels mais sont le résultat de réformes « structurelles et audacieuses », portant sur la réduction des dépenses de la compensation en les orientant vers un appui à l'investissement dans des secteurs à haute valeur ajoutée. En outre, il a été décidé l'augmentation du taux de la TVA sur certains produits, la réforme de l'impôt sur les sociétés et le plafonnement de certaines dépenses.

Cependant, pour certains analystes, la maîtrise du déficit budgétaire risque d'être temporaire et due aux facteurs surtout conjoncturels, à savoir la bonne campagne agricole, la baisse des prix du pétrole, le poids croissant de la dette publique...

Par ailleurs, le recours à l'endettement est un résultat évident du déficit budgétaire en vue d'investir et de réaliser le développement, « Nous sommes pour **un endettement destiné à l'investissement générateur de richesses** » a souligné le ministre.

Source : www.lavieeco.com au 02/01/2016 (texte adapté)

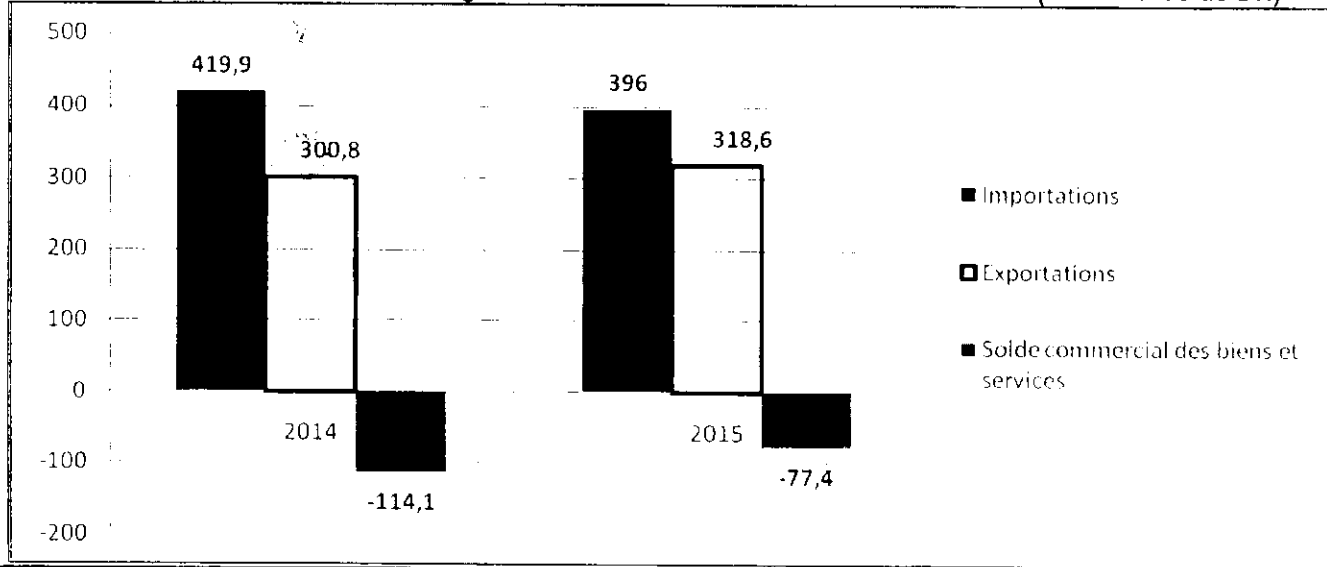
DOCUMENT 6 : Le déficit commercial s'allège de 35 milliards de DH en 2015

Au terme de l'année 2015, les résultats préliminaires des échanges extérieurs marocains laissent apparaître un allègement du déficit commercial de 35 milliards de dirhams (Mds DH), suite à la progression des exportations et à la baisse des importations. En effet, les exportations ont atteint 185,4 Mds DH, tirées par la dynamique des expéditions du secteur automobile (+8,4 Mds DH) et des ventes de phosphates et dérivés (+6,2 Mds DH), conjuguée au bon comportement des exportations du secteur de l'agriculture et agroalimentaire (+3,9 Mds DH)...

S'agissant des importations, celles-ci ont accusé une régression de 5,6% pour atteindre 319,6 Mds DH. Cette évolution provient pour l'essentiel du recul de la facture énergétique et du repli des achats de produits alimentaires (- 6 Mds DH).

Toutefois, cette bonne performance est due en partie aux facteurs conjoncturels, notamment la baisse des cours des produits énergétiques et la bonne campagne agricole.

Quelques indicateurs des échanges extérieurs marocains en biens et services (En milliards de DH)



Sources : www.telquef.ma au 19/01/2016 et www.oc.gov.ma (texte adapté)

TRAVAIL A FAIRE :

Documents de référence	N° de question	Questions	Barème
Document 1	1	a- Relevez en quantifiant trois indicateurs macroéconomiques au Maroc en 2015 ; b- Dégagez deux facteurs de fragilité de l'économie marocaine ; c- Précisez un effet éventuel de la réforme de la caisse de compensation sur : c ₁ - Les ménages ; c ₂ - Le budget de l'Etat ; d- Représentez la situation économique prévue pour le Maroc en 2015, annexe n° 1, page n°5 ; e- Appréciez sur la base du graphique « Annexe 1 », la situation économique du Maroc en 2015 par rapport à celle des États-Unis.	0,75 pt 0,50 pt 0,50 pt 0,50 pt 1 pt 1 pt
Document 2	2	Calculez et lisez : a- la donnée manquante ; b- la demande extérieure nette.	0,50 pt 0,50 pt
Document 3	3	a- Calculez et lisez pour 2015 le taux de chômage de la population rurale ; b- Caractérissez en illustrant le chômage au Maroc.	0,50 pt 0,50 pt
Document 4	4	a- Complétez les annexes n° 2 et 3, page n°5 ; b- Dégagez deux facteurs défavorables à la croissance économique au Maroc ; c- Expliquez le passage en gras souligné ; d- Déterminez l'équation de la droite d'ajustement linéaire selon la méthode des moindres carrés (méthode développée), sachant que : $x_i = \text{Les années} ; y_i = \text{Variation en \% des crédits bancaires} ;$ $\sum x_i y_i = 41,3 ; \sum x_i^2 = 55 ; \bar{y} = 4,3$ e- Calculez le taux d'évolution prévisionnel du crédit bancaire pour l'année 2017.	2,75 pt 1 pt 0,50 pt 1,50 pt 0,75 pt

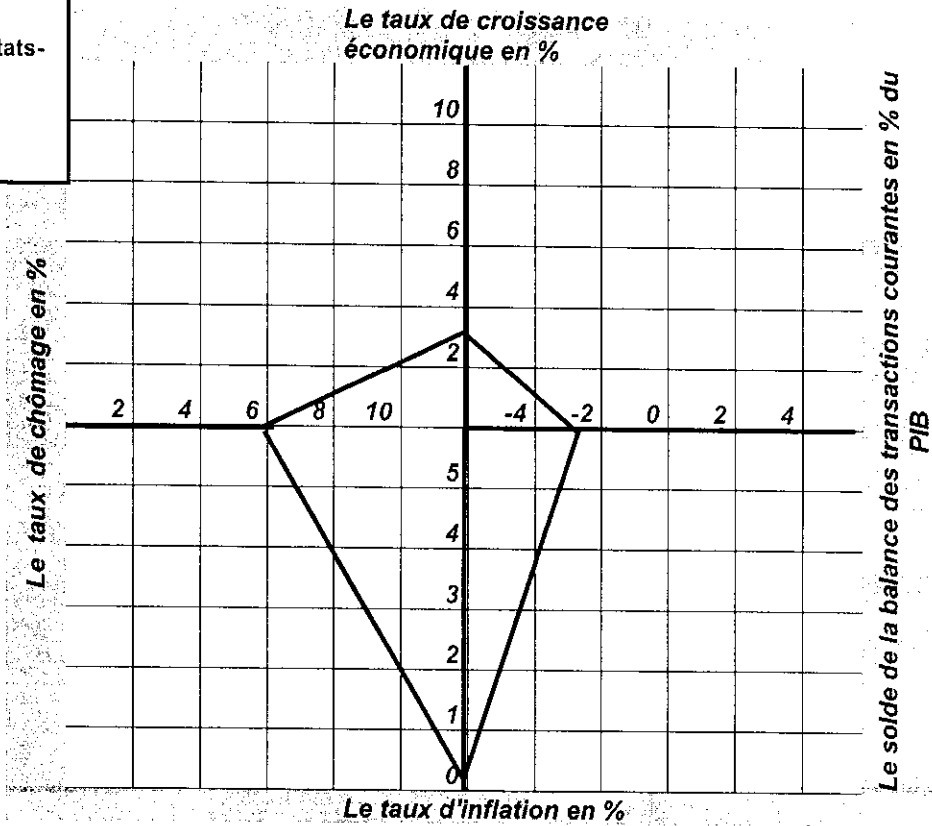
Document 5	5	<p>a- Relevez un moyen de financement du déficit budgétaire ;</p> <p>b- Précisez et expliquez une limite éventuelle de ce moyen de financement ;</p> <p>c- Expliquez le passage en gras souligné;</p>	<p>0,5 pt</p> <p>0,75 pt</p> <p>0,5 pt</p>
Document 6	6	<p>a- Expliquez en illustrant l'évolution du solde commercial au Maroc en 2015 ;</p> <p>b- Calculez et lisez pour l'année 2015 :</p> <p>b₁ – le taux de couverture ;</p> <p>b₂ – le taux d'ouverture sachant que le PIB de l'année 2015 est de 953 854 millions de dirhams.</p>	<p>0,50 pt</p> <p>0,50 pt</p> <p>0,50 pt</p>
Documents du dossier n°1	7	<p>Synthèse : (Exploitez les documents du dossier 1, vos réponses et connaissances acquises).</p> <p>En 2015, l'économie marocaine s'est caractérisée par une amélioration des équilibres macro-économiques, principalement les soldes budgétaire et commercial, cependant, cette amélioration reste fragile.</p> <p>Après avoir présenté les facteurs d'amélioration de ces deux soldes et leurs fragilités, proposez des solutions pour y remédier.</p> <p>NB : La synthèse doit être structurée en : Introduction, développement et conclusion.</p>	4 pts

Annexes à remplir et à rendre obligatoirement avec la copie

Annexe n° 1 :

Le carré magique de Kaldor : représentation graphique

Légende :
 — Cas des États-Unis en 2015



Source : Graphique élaboré à partir des données statistiques de la Coface

Annexe n° 2 :

Compétez le texte ci-après à l'aide des expressions suivantes : (l'inflation, capitaux, l'offre, liquidités, court terme):

Le marché interbancaire est un marché des à Le taux d'intérêt sur ce marché résulte de la confrontation de l'offre et de la demande des entre les banques. Si par exemple, la banque centrale veut accroître le taux d'intérêt débiteur pour lutter contre, elle diminue de la monnaie.

Annexe n° 3 :

Une action de la politique monétaire	•
Deux causes de la faible inflation au Maroc	• •
Trois contreparties de l'agrégat M3	• • •