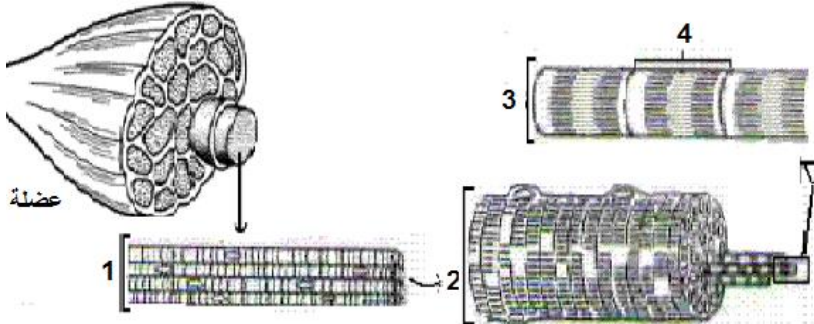


## المكون الأول: استرداد المعارف



### التمرين الأول: (5 نقط)

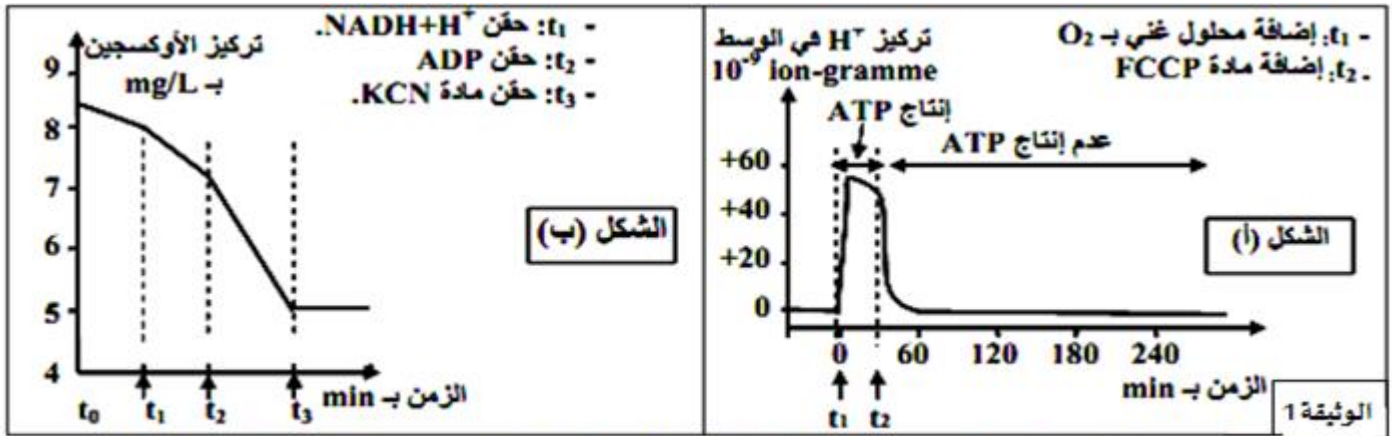
- 1- اعط الأسماء المناسبة لأرقام الشكل جانبه
- 2- أنجز رسما تخطيطيا للميتوكوندري.

## المكون الثاني: استثمار المعطيات و توظيف المكتسبات

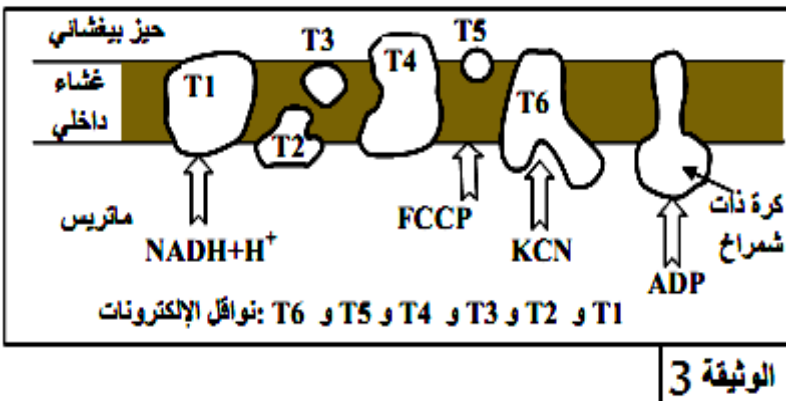
### التمرين الثاني: 8نقط

II- تلعب الميتوكوندريات دورا أساسيا في تركيب ATP داخل الخلايا، ولتحديد بعض شروط إنتاج ATP داخل هذه العضيات نعتمد على المعطيات التجريبية الآتية:

- التجربة الأولى: تم تحضير عالق ميتوكوندريات غني بمركبات مختزلة  $FADH_2$  و  $NADH + H^+$  وخال من الأوكسجين، وتم تتبع تطور تركيز  $H^+$  وإنتاج ATP في الوسط في الظروف التجريبية الآتية: في الزمن  $t_1$  أضيف للوسط محلول غني بالأوكسجين، وفي الزمن  $t_2$  أضيفت مادة FCCP وهي مادة تدمج في الغشاء الداخلي للميتوكوندري فيصبح نفوذا لأيونات  $H^+$ . تبين الوثيقة 1 (الشكل أ) النتائج المحصلة. ملحوظة: الغشاء الخارجي للميتوكوندري نفوذ لـ  $H^+$ .
- التجربة الثانية: وضعت ميتوكوندريات في وسط غني بالأوكسجين، وتم تتبع تركيزه في الوسط بعد إضافات متتالية لمجموعة من المواد. تبين الوثيقة 2 (الشكل ب) المعطيات التجريبية والنتائج المحصل عليها.



= تبين الوثيقة 3 مواقع تأثير المواد المستعملة في التجريبتين الأولى والثانية على مستوى الغشاء الداخلي للميتوكوندري.



- 1- بعد تحليلك لمنحنى الشكل أ، كيف تفسر ارتفاع تركيز  $H^+$  بعد اضافة الاوكسجين في الزمن  $t_1$ ؟ ثم بعد اضافة FCCP في الزمن  $t_2$ ؟ (2ن)
- 2- حدد العلاقة بين تركيز  $H^+$  ووجود الاوكسجين بانتاج ATP. (2ن)
- 3- اعتمادا على منحنى الشكل ب حدد تأثير اضافة  $NADH, H^+$  وADP على سرعة استهلاك الاوكسجين. (2ن)
- 4- باعتماد الوثيقة 3 حدد كيف تؤثر المواد المضافة FCCP وKCN على دور الغشاء الداخلي للميتوكوندري. (2ن)

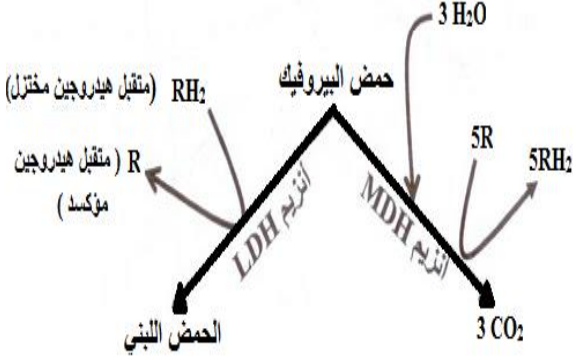
## التمرين الثالث: 6نقط

تتوفر العضلة الهيكلية على نوعين من الألياف العضلية A و B، يختلف كل نوع حسب نوع المجهود العضلي. يقدم الشكل - أ - من الوثيقة 5 بعض خصائص كل نوع من هذه الألياف. ويمثل الشكل - ب - من الوثيقة 5 دور الأنزيمين العضليين MDH و LDH.

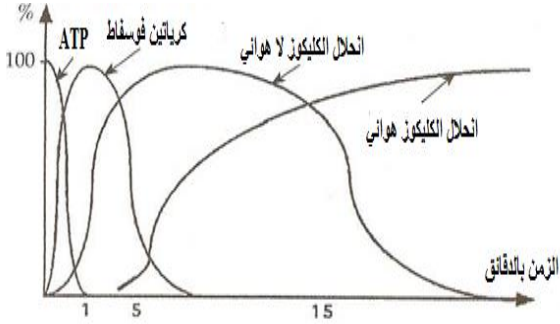
### وثيقة 1: الشكل - أ -

الألياف العضلية B (ألياف مهيمنة عند عدائي المسافات القصيرة)	الألياف العضلية A (ألياف مهيمنة عند عدائي المسافات الطويلة)	خصائص الألياف العضلية
ضعيفة	مهمة	كمية الخضاب العضلي المثبتة ل $O_2$
منخفض	مرتفع	عدد الميتوكوندريات
ضعيفة	كبيرة	مقاومة العياء
قوي	ضعيف	تركيز أنزيم LDH
ضعيف	قوي	تركيز أنزيم MDH

### الشكل - ب -



### وثيقة 2: مصادر الطاقة المستعملة من طرف عضلة خلال نشاط عضلي مطول



- 1- باستغلالك لمعطيات الشكلين - أ - و - ب - الوثيقة 1، حدد دور كل واحد من الأنزيمين LDH و MDH ميرزا موقع عملهما داخل الخلية. (2 ن)
  - 2- اعتمادا على معطيات الوثيقتين 1 و 2، استنتج طبيعة التفاعلات المنتجة للطاقة عند عدائي المسافات الطويلة و عند عدائي المسافات القصيرة. (2 ن)
- تستغل العضلة الهيكلية المخططة الطاقة الكيميائية المنتجة في التقلص العضلي أي تعمل على تحويل الطاقة الكيميائية ATP إلى طاقة ميكانيكية عبر عدة مراحل تلخصها الوثيقة 3.

- 3- بالاعتماد على الوثيقة 3 وعلى مكتسباتك اعط مراحل التقلص العضلي. (2 ن)

### وثيقة 3:

